




آئین نامه راهنمایی و رانندگی



از گذاشتن هرگونه علامت بر روی برگه آزمون جدا خودداری فرمایید

۲ کدام تابلو بیانگر کاهش خطوط عبور می باشد؟



۱ کدام تابلو درباره عبور عابر پیاده هشدار می دهد؟



۴ این تابلو بیانگر چیست؟



- ۱ - جریان همگرا
- ۲ - شروع جداکننده
- ۳ - تقاطع فرعی به اصلی
- ۴ - هدایت مسیر با جداکننده

۲ عنوان این تابلو چیست؟



- ۱ - عبور پیاده ممنوع
- ۲ - گذرگاه عابر پیاده
- ۳ - عبور عابر پیاده
- ۴ - شروع محل پیاده روی

۶ این تابلو بیانگر چیست؟



- ۱ - تقاطع
- ۲ - فقط گردش به چپ مجاز
- ۳ - میدان
- ۴ - جهت عبور در میدان

۵ این تابلو بیانگر چیست؟



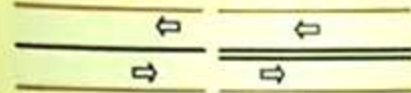
- ۱ - عبور با ارتفاع بیش از ۲ متر ممنوع
- ۲ - عبور با عرض بیش از ۲ متر ممنوع
- ۳ - عبور با بار بیش از ۲ تن بر هر محور ممنوع
- ۴ - عبور وسائط نقلیه با وزن بیش از ۲ تن ممنوع

۲۳ این شکل بیانگر چیست؟

- ۱ - سواری در حال سبقت گرفتن از موتورسوار است.
- ۲ - موتورسوار در نقطه کور سواری قرار دارد.
- ۳ - عدم رانندگی بین خطوط
- ۴ - سبقت غیر مجاز



۲۴ مفهوم خطوط طولی در این شکل چیست؟



- ۱ - به هیچ وجه نباید از روی آن عبور نمود.
- ۲ - عبور از روی آن مجاز می باشد.
- ۳ - با احتیاط می توان از روی آن دور زد.
- ۴ - در صورت لزوم می توان از روی آن سبقت گرفت.

۲۵ در خیابان ها و جاده هایی که نور کافی وجود دارد.....

- ۱ - با رعایت ضوابط و مقررات مجاز است.
- ۲ - ممنوع است.
- ۳ - در مواقع اضطراری مجاز است.
- ۴ - با رعایت نکات ایمنی مجاز است.

- ۱ - باید از نوربالا استفاده نمود.
- ۲ - باید تنها از چراغ های جانبی جلو و عقب استفاده نمود.
- ۳ - باید تنها از نور پایین استفاده نمود.
- ۴ - تمام چراغها را باید خاموش نمود.

۲۸ محدودیت های حرکت و سرعت در جاده ها

- به وسیله تعیین می گردد.
- ۱ - رانندگان
- ۲ - علایم و تابلوها
- ۳ - استفاده کنندگان از راه
- ۴ - افراد صلاحیت دار

۲۷ سرعت مجاز برای خودروها در جاده های

- اصلی در روز حداکثر..... و شبها حداکثر.....
- کیلومتر در ساعت است.
- ۱ - ۱۰۰ - ۱۱۰
- ۲ - ۱۰۰ - ۹۰
- ۳ - ۸۵ - ۹۵
- ۴ - ۱۱۰ - ۱۰۰

۳۰ کدام مورد زیر صحیح نمی باشد؟

- ۱ - کنترل دوره ای تایر زاپاس مهم می باشد.
- ۲ - عدم تنظیم چرخ ها در ساییدگی نامتوازن تایرها موثر است.
- ۳ - یکی از نکات مهم در خصوص سیستم ترمز، کنترل روغن ترمز است.
- ۴ - در صورتی که باد تایر بیش از حد مجاز باشد، سطح اتصال تایر با زمین در بیشترین حد خود قرار می گیرد.

۲۹ رانندگان با مشاهده چراغ چشمک زن زرد در تقاطع چه عملی باید انجام دهند؟

- ۱ - با احتیاط کامل و سرعت کم عبور نمایند.
- ۲ - با زدن بوق و با سرعت اولیه به حرکت خود ادامه دهند.
- ۳ - در صورت ضرورت بر سرعت خود بیفزایند.
- ۴ - با روشن نمودن چراغ خودرو از تقاطع عبور نمایند.



۷ مفهوم این تابلو چیست؟



۱ - عبور وسائط نقلیه موتوری ممنوع

۲ - عبور سواری ممنوع

۳ - عبور کلیه وسائط نقلیه ممنوع

۴ - ورود سواری ممنوع

۹ استفاده از بوق در کدام یک از موارد زیر مجاز است؟

۱ - اطلاع و آگاه سازی سایر کاربران راه و جلوگیری از بروز سانحه و خطر

۲ - اطلاع و آگاه سازی برای ادای احترام به سایر کاربران راه

۳ - برای کاهش شدت تصادفات

۴ - برای کاهش شدت تصادفات و ادای احترام به سایر کاربران راه

۱۱ منظور از این چراغ چیست؟



۱ - در این حالت عبور مستقیم و گردش در جهت پیکان مجاز می باشد.

۲ - عبور مستقیم مجاز بوده ولی گردش به سمت پیکان غیر مجاز می باشد

۳ - حرکت به صورت مستقیم ممنوع است.

۴ - صرفاً می توان به سمت راست حرکت نمود .

۱۳ در آزاد راه های بیرون شهری و مناطق غیرمسکونی، حداقل سرعت چند کیلومتر در ساعت است؟

۱ - ۱۳۰

۲ - ۷۰

۳ - ۸۵

۴ - ۹۵

۸ این تصویر بیانگر چیست؟



۱ - رانندگی بین خطوط

۲ - ممنوعیت عبور از روی خطوط زیگزاگ

۳ - خط کشی عرضی ممتد ایست

۴ - ممنوعیت حرکت روی خطوط هاشور (اضطرار) در حلقه راهها

۱۰ کدام یک از وسایل نقلیه زیر نسبت به دیگر وسایل نقلیه از ایمنی کمتری برخوردارند؟

۱ - خودروهای سواری

۲ - کامیونها و اتوبوسها

۳ - موتورسیکلت ها و دوچرخه ها

۴ - وسایل نقلیه کشاورزی

۱۲ به همراه چراغ چشمک زن قرمز معمولاً کدام تابلوی راهنمایی و رانندگی نصب می گردد؟

۱ - فقط عبور مستقیم مجاز

۲ - گردش به چپ ممنوع

۳ - فقط عبور به راست مجاز

۴ - ایست و یا رعایت حق تقدم

۱۴ در برخورد راه اصلی با راه فرعی تقدم عبور با وسیله ای است که ...

۱ - از راه اصلی عبور می کند

۲ - از راه فرعی عبور می کند .

۳ - به سمت راست گردش می کند .

۴ - در طرف راست وسیله نقلیه دیگر قرار دارد .

۱۵ منظور از توقف چیست؟

۱ - ایست وسیله نقلیه در زمان طولانی بدون حضور راننده

۲ - ایست وسیله نقلیه در زمان کوتاه

۳ - ایست وسیله نقلیه در زمان طولانی با حضور راننده

۴ - ایست وسیله نقلیه برای هر مدت ممنوع

۱۷ از چند متری پیچ ها سبقت گرفتن ممنوع است؟

۱ - ۱۵۰ متری

۲ - ۱۰۰ متری

۳ - ۵۰ متری

۴ - سبقت گرفتن در پیچ ها محدودیت ندارد

۱۹ کدامیک جزو وظایف سیستم تعلیق نمی باشد؟

۱ - تامین راحتی راننده

۲ - کنترل قدرت و شتاب خودرو

۳ - حفظ تعادل و پایداری خودرو به هنگام عبور از پستی یا بلندی ها

۴ - ممانعت از واژگونی خودرو هنگام گذر از پیچ های تند

۲۱ کدامیک از موارد زیر در خصوص کمکهای اولیه صحیح می باشد؟

۱ - انجام کمکهای اولیه حتماً باید توسط پزشکان صورت پذیرد.

۲ - کمکهای اولیه می تواند در محل حادثه یا در بیمارستان انجام شود.

۳ - کمکهای اولیه سبب کاهش چشمگیر مرگ و میر و تخفیف بیماری و آسیبهای مصدوم می شود.

۴ - کمکهای اولیه تأثیری در تخفیف بیماری و آسیبهای مجروح نداشته صرفاً جهت بالابردن روحیه بیمار صورت می گیرد.

۱۶ هرگاه وسیله نقلیه ای شیب در کنار و بیرون سطح راه توقف نماید و نور کافی در آن محل برای تشخیص اشخاص از فاصله ۱۵۰ متری وجود نداشته باشد انجام کدام مورد زیر ضروری است؟

۱ - نگهداشتن پدال ترمز برای روشن شدن چراغ ترمز

۲ - روشن نمودن چراغهای بزرگ با نور بالا

۳ - روشن نگهداشتن چراغهای کوچک جلو و خطر عقب وسیله نقلیه

۴ - روشن نمودن راهنمای سمت راست خودرو

۱۸ ، علاوه بر اینکه کلیدی ترین ابزار در کنترل خودرو میباشد ، می تواند به عنوان بازخوردهای مناسب، صحت یا عدم سلامت بخشهای مهمی از خودرو همچون سیستم جلوگیری و وضعیت فرمان پذیری را آشکار نماید.

۱ - پدال گاز

۲ - غریبلک فرمان

۳ - پدال ترمز

۴ - آینه بغل

۲۰ استفاده از کدام نوع کمربند ایمنی در خودرو الزامی است؟

۱ - سه نقطه ای

۲ - دو نقطه ای

۳ - کمربند ران

۴ - نوع کمربند ایمنی مهم نیست

۲۲ این صفات جزو کدام نوع از رانندگان می باشند: تغییر مسیر ناگهانی و خطرآفرین برای سایر رانندگان، قرار گرفتن به مدت طولانی در خط سرعت به منظور تثبیت اتومبیل پشت سر و استفاده از نور بالا برای اذیت کردن راننده مقابل.

۱ - رانندگان مسن

۲ - رانندگان پرخاشگر

۳ - رانندگان جوان

۴ - رانندگان بی تجربه



نامه راهنمایی و رانندگی

واین نامه رانندگی پایه سوم

زمان ۲۰ دقیقه

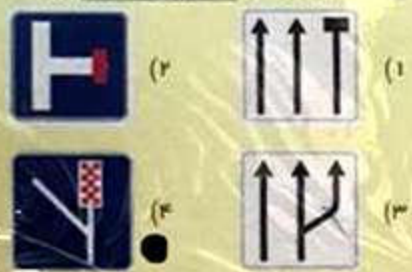
جدا خودداری فرمایید

از گذاشتن هر گونه علامت



عدد ۲

۲ کدام تابلو بیانگر خط عبور برای گریز می باشد؟



۱ کدام تابلو، ممنوعیت عبور وسایل نقلیه موتوری را اعلام می دارد؟



۴ این تابلو بیانگر چیست؟



- ۱ - فقط عبور پیاده
- ۲ - عبور پیاده ممنوع
- ۳ - عبور اطفال
- ۴ - عبور عابر پیاده

۳ عنوان این تابلو چیست؟



- ۱ - پرتاب سنگ
- ۲ - خطر سقوط در آب
- ۳ - ریزش سنگ
- ۴ - خطر پرتاب سنگ

۶ این تابلو بیانگر چیست؟



- ۱ - شروع جدا کننده
- ۲ - پایان جدا کننده
- ۳ - جریان همگرا
- ۴ - هدایت مسیر یا جدا کننده

۵ این تابلو بیانگر چیست؟



- ۱ - گذرگاه پیاده
- ۲ - زیرگذر یا روگذر
- ۳ - شروع محل پیاده روی
- ۴ - شیب سربالایی ده درصد

۲۴ در راهپای پرتراپیکسی که خودروها پشت سرهم به صورت فشرده در حرکت هستند، چگونه می توانید از بروز تصادف جلوگیری کنید؟



- ۱ - در شانه خاکی توقف کنید.
- ۲ - چراغهای خطر را روشن کنید.
- ۳ - فاصله خود را با اتومبیل جلویی افزایش دهید
- ۴ - پای خود را بر روی ترمز قرار دهید.

۲۳ این شکل چه چیزی را نشان می دهد؟



- ۱ - محدوده نقاط کور در خودروهای سنگین
- ۲ - عدم رعایت سرعت مجاز
- ۳ - طول محدودیت پارکینگ
- ۴ - سطح روشنایی چراغ ها

۲۶ در خیابان ها و جاده هایسی که نور کالیسی وجود دارد.....

- ۱ - باید از نور بالا استفاده نمود.
- ۲ - باید تنها از چراغ های جانبی جلو و عقب استفاده نمود
- ۳ - باید تنها از نور پایین استفاده نمود.
- ۴ - تمام چراغها را باید خاموش نمود.

۲۵ کدام گزینه در مورد گردش به چپ در راهپای یک طرفه درست است؟

- ۱ - رانندگان موظفند وسیله نقلیه را به منتهی الیه طرف راست خیابان هدایت و سپس به چپ گردش کنند
- ۲ - گردش به چپ در خیابان یک طرفه ممنوع است.
- ۳ - رانندگان موظفند وسیله نقلیه را به منتهی الیه طرف چپ خیابان هدایت و سپس به چپ گردش کنند
- ۴ - باید منتظر بمانند تا خیابان خلوت شود.

۲۸ دست کم هر چند وقت یکبار باید سطح آب رادیا تور را کنترل نمود؟



- ۱ - سالی یک بار
- ۲ - هفته ای یک بار
- ۳ - ماهی یک بار
- ۴ - نیازی به کنترل ندارد

۲۷ انجام کدام عمل در پشت چراغ قرمز در یک تقاطع نادرست است؟

- ۱ - به هنگام چراغ قرمز باید پشت خط ایستت توقف کامل نمود.
- ۲ - تا هنگام روشن شدن چراغ سبز و تخلیه تقاطع باید منتظر ماند.
- ۳ - اگر تقاطع خلوت باشد با احتیاط می توان گردش به راست نمود
- ۴ - عبور از چراغ قرمز ممنوع است.

۳۰ در این تقاطع، حق تقدم عبور به ترتیب با کدام خودروها می باشد؟



- ۱ - سبز، نارنجی، زرد، آبی
- ۲ - نارنجی، سبز، زرد، آبی
- ۳ - سبز، نارنجی، آبی، زرد
- ۴ - نارنجی، سبز، آبی، زرد

۲۹ مفهوم چراغ سبز راهنمایی چیست؟



- ۱ - ایست کامل و سپس عبور
- ۲ - عبور یا گردش آزاد است مگر آنکه گردش نمودن توسط علائم دیگر ممنوع شده باشد.
- ۳ - افزایش سرعت وسیله نقلیه و عبور سریع از تقاطع
- ۴ - توقف پشت تابلو ایست در تقاطع



ن نامه راهنمایی و رانندگی

واحدنامه رانندگی پایه سوم

زمان ۲۰ دقیقه

از گذاشتن هرگونه علامت جدا خودداری فرمایید



۲۴ در راهپای برترافیکسی که خودروها پشت سرهم به صورت فشرده در حرکت هستند چگونه می توانید از بروز تصادف جلوگیری کنید؟



- ۱ - در شانه خاکی توقف کنید .
- ۲ - چراغهای خطر را روشن کنید .
- ۳ - فاصله خود را با اتومبیل جلویی افزایش دهید ●
- ۴ - پای خود را بر روی ترمز قرار دهید .

۲۳ این شکل چه چیزی را نشان می دهد؟



- ۱ - محدوده نقاط کور در خودروهای سنگین ●
- ۲ - عدم رعایت سرعت مجاز
- ۳ - طول محدودیت پارکینگ
- ۴ - سطح روشنایی چراغ ها

۲ کدام تابلو بیانگر خط عبور برای گریز می باشد؟



(۲)



(۱)



(۴)



(۳)

۱ کدام تابلو، ممنوعیت عبور وسایل نقلیه موتوری را اعلام می دارد؟



(۲)



(۱)



(۴)



(۳)

۴ این تابلو بیانگر چیست؟



۱ - فقط عبور پیاده ●

۲ - عبور پیاده ممنوع

۳ - عبور اطفال

۴ - عبور عبور پیاده

۳ عنوان این تابلو چیست؟



۱ - پرتاب سنگ

۲ - خطر سقوط در آب

۳ - ریزش سنگ ●

۴ - خطر پرتاب سنگ

۶ این تابلو بیانگر چیست؟



۱ - شروع جدا کننده ●

۲ - پایان جدا کننده

۳ - جریان همگرا

۴ - هدایت مسیر یا جدا کننده

۵ این تابلو بیانگر چیست؟



۱ - گذرگاه پیاده

۲ - زیرگذر یا روگذر ●

۳ - شروع محل پیاده روی

۴ - شیب سربالایی ده در صد

۲۶ در خیابان ها و جاده هایسی که نورکافی وجود دارد.....

- ۱ - باید از نوربالا استفاده نمود .
- ۲ - باید تنها از چراغ های جانبی جلو و عقب استفاده نمود ●
- ۳ - باید تنها از نور پایین استفاده نمود .
- ۴ - تمام چراغها را باید خاموش نمود .

۲۸ دست کم هر چند وقت یکبار باید سطح آب رادیاتور را کنترل نمود؟



- ۱ - سالی یک بار
- ۲ - هفته ای یک بار ●
- ۳ - ماهی یک بار
- ۴ - نیازی به کنترل ندارد

۳۰ در این تقاطع، حق تقدم عبور به ترتیب با کدام خودروها می باشد؟



- ۱ - سبز ، نارنجی ، زرد ، آبی
- ۲ - نارنجی ، سبز ، زرد ، آبی
- ۳ - سبز ، نارنجی ، آبی ، زرد
- ۴ - نارنجی ، سبز ، آبی ، زرد

۲۷ انجام کدام عمل در پشت چراغ قرمز در یک تقاطع نادرست است؟

- ۱ - به هنگام چراغ قرمز باید پشت خط ایستت توقف کامل نمود .
- ۲ - تا هنگام روشن شدن چراغ سبز و تخلیه تقاطع باید منتظر ماند .
- ۳ - اگر تقاطع خلوت باشد با احتیاط می توان گردش به راست نمود ●
- ۴ - عبور از چراغ قرمز ممنوع است .

۲۹ مفهوم چراغ سبز راهنمایی چیست؟



- ۱ - ایست کامل و سپس عبور
- ۲ - عبور یا گردش آزاد است مگر آنکه گردش نمودن توسط علائم دیگر ممنوع شده باشد ●
- ۳ - افزایش سرعت وسیله نقلیه و عبور سریع از تقاطع
- ۴ - توقف پشت تابلو ایست در تقاطع



آیین نامه راهنمایی و رانندگی

(گواهینامه رانندگی پایه سوم)

زمان ۲۰ دقیقه

از گذاشتن هرگونه علامت بر روی برگه آزمون جدا قفسه‌داری فرمایید



۲۴ کاربرد روش ۲ نایه زمان در کجاست؟

- ۱ - تخمین مسافت خودرو در حال حرکت با وسیله نقلیه جلویی
- ۲ - بررسی آثار ناشی از تصادف
- ۳ - تست صحت کار موتور خودرو
- ۴ - محاسبه زمان چراغ راهنمایی در سر چهارراهها

۲۲ این شکل چه چیزی را نشان می دهد؟




- ۱ - ناپیش سطح روشنایی خودروها
- ۲ - استفاده از نور پامین در فواصل کمتر از ۱۵۰ متر با خودروی جلویی
- ۳ - توجه به جلو در حین رانندگی با روشن نمودن چراغ ها
- ۴ - استفاده از نور بالا در فواصل کمتر از ۱۵۰ متر با خودروی جلویی

۲ عنوان کدام تابلو، راهنمای مسیر می باشد؟



۱ کدام تابلو، درباره حق تقدم عبور نمی باشد؟




۲۶ حداقل میزان سرعت مجاز کلیه وسایل نقلیه در آزاد راههای برون شهری می باشد.

- ۱ - ۱۱۰ کیلومتر بر ساعت
- ۲ - ۷۰ کیلومتر بر ساعت
- ۳ - ۸۵ کیلومتر بر ساعت
- ۴ - ۹۵ کیلومتر بر ساعت

۲۵ دور زدن از چند متری پیچ ها ممنوع است؟

- ۱ - ۵۰۰ متری
- ۲ - ۴۰۰ متری
- ۳ - ۲۵۰ متری
- ۴ - ۱۵۰ متری

۲۸ در بحث مفهوم رنگ ها و علائم عبور و مرور، مفهوم کدام رنگ به معنی حرکات مجاز می باشد؟



۲۷ از زمانی که راننده تشخیص می دهد نیاز به توقف و ایستادن دارد تا لحظه بکارگیری ترمزها چه نامیده می شود؟

- ۱ - زمان واکنش
- ۲ - زمان توقف
- ۳ - زمان هوشیاری
- ۴ - زمان حیاتی

۳۰ کدام مورد زیر از رفتارهای رانندگان پرخطر و پرخطر می باشد؟

- ۱ - تغییر مسیر با زدن چراغ راهنما
- ۲ - استفاده از نوربالا در محل های مجاز
- ۳ - عبور از خط مقابل برای رهایی از ترافیک
- ۴ - رعایت سرعت مطمئنه و رانندگی بین خطوط



۲۹ مفهوم چراغ سبز راهنمایی چیست؟

- ۱ - ایست کامل و سپس عبور
- ۲ - عبور یا گردش آزاد است مگر آنکه گردش نمودن توسط علائم دیگر ممنوع شده باشد
- ۳ - عبور سریع از تقاطع با افزایش سرعت.
- ۴ - توقف پشت تابلو ایست در تقاطع.

۴ این تابلو بیانگر چیست؟



- ۱ - سرعت بیش از ۷۰ کیلومتر بر ساعت ممنوع
- ۲ - رعایت فاصله بیشتر از ۷۰ متر ممنوع
- ۳ - رعایت فاصله کمتر از ۷۰ متر ممنوع
- ۴ - سرعت کمتر از ۷۰ کیلومتر بر ساعت ممنوع

۳ عنوان این تابلو چیست؟



- ۱ - عبور دوچرخه ممنوع
- ۲ - عبور دوچرخه سوار
- ۳ - فقط عبور دوچرخه
- ۴ - عبور موتورگازی ممنوع

۶ این تابلو بیانگر چیست؟




- ۱ - تقاطع جاده و راه آهن در ۱۰۰ متری
- ۲ - خروجی از آزادراه ۱۰۰ متر
- ۳ - تقاطع جاده و راه آهن در ۲۰۰ متری
- ۴ - خروجی از آزادراه ۲۰۰ متر

۵ این تابلو بیانگر چیست؟



- ۱ - عبور فقط با زنجیر چرخ
- ۲ - استفاده از زنجیر چرخ
- ۳ - در مواقع برف و یخبندان
- ۴ - استفاده از زنجیر چرخ

۷ منظور از خطوط هانور در شکل زیر چیست؟




۱ - تفکیک گذرگاه ها

۲ - وجود موانع در راهها

۳ - همان خطوط منقطع می باشد

۴ - خطوط اضطرار

۸ این شکل چه نوع پارکی را نشان می دهد؟



۱ - مورب

۲ - افقی

۳ - عمودی

۴ - قائم

۹ استفاده از بوق در کدام یک از موارد زیر مجاز است؟

۱ - اطلاع و آگاه سازی سایر کاربران راه و جلوگیری از بروز سانحه و خطرات

۲ - اطلاع و آگاه سازی برای ادای احترام به سایر کاربران راه

۳ - برای کاهش شدت تصادفات

۴ - برای کاهش شدت تصادفات و ادای احترام به سایر کاربران راه

۱۱ به چه دلیل حرکت با دنده عقب خطرناک است؟

۱ - به طور کلی حرکت با دنده عقب ممنوع است

۲ - راننده نمی تواند پشت سر خود را به درستی و کامل ببیند

۳ - دنده هادر حرکت رو به عقب آسیب می بیند

۴ - خودرو صرفاً برای حرکت رو به جلو طراحی شده است

۱۳ در خیابان نسریمان فرعی در شهرها ، حداکثر سرعت چند کیلومتر در ساعت است؟

۱ - ۵۰

۲ - ۶۰

۳ - ۷۰

۴ - ۸۵

۱۲ هنگام رانندگی و مشاهده چراغ چشمک زن قرمز چه اقدامی باید انجام داد؟

۱ - عبور از تقاطع با سرعت کم و احتیاط لازم

۲ - عبور با احتیاط

۳ - عبور از تقاطع با همان سرعت و احتیاط لازم

۴ - ایست و عبور

۱۴ در سه راهه ها حق تقدم عبور با وسیله ای است که ...

۱ - در طرف راست وسیله نقلیه دیگر قرار دارد

۲ - به سمت راست گردش می کند

۳ - به طور مستقیم و در مسیر مجاز حرکت می کند

۴ - به سمت چپ در حال گردش است

۱۵ مهمترین وظیفه سیستم روغنکاری در خودرو کدام است؟

۱ - حفظ تعادل و پایداری خودرو

۲ - روانکاری و خنک کاری قطعات

۳ - رساندن سوخت به موتور

۴ - کمک به خروج دود از اگزوز

۱۶ از کدام علامت آگاه سازی برای سبقت در شب استفاده می شود؟

۱ - استفاده از بوق کوتاه

۲ - فقط تبدیل و تعویض نور چراغ بالا و پایین

۳ - تبدیل و تعویض نور چراغ بالا و پایین به همراه چراغ راهنما

۴ - استفاده از بوق بلند بطور متناوب

۱۷ سبقت از طرف راست وسیله نقلیه ای که در حال گردش به چپ می باشد ...

۱ - فقط در معابر شریانی درجه دو ممنوع است

۲ - ممنوع است

۳ - در هنگام روز مجاز است

۴ - مجاز است

۱۹ مقدار ولتاژ باتری در خودروهای معمول سواری چند ولت است؟

۱ - ۱۲

۲ - ۶

۳ - ۲۴

۴ - ۳

۲۱ در انجام کمکهای اولیه کدامیک از موارد زیر صحیح است؟

۱ - در ارائه کمکهای اولیه باید روشی انتخاب شود که موثرتر و مفیدتر از سایر روشها بوده و صدمه ای به مصدوم وارد نکند

۲ - در ارائه کمکهای اولیه اصل بر این است که به سرعت بیمار را از محل حادثه دور نماییم

۳ - در ارائه کمکهای اولیه باید روشی انتخاب شود که سریعتر جواب می دهد هرچند احتمال خطر در آن وجود داشته باشد

۴ - حین ارائه کمکهای اولیه اگر آرامش ندارید کار خود را سریع انجام دهید

۲۰ ... دستگاهی است که انرژی حرارتی و شیمیایی موجود در سوخت را به انرژی جنبشی یا مکانیکی تبدیل می کند

۱ - اگزوز

۲ - گیربکس

۳ - دیفرانسیل

۴ - موتور

۲۲ اصول گرفتن طولانی صندت رانندگان در شرایط نامساعد زیست محیطی منجر به چه می شود؟

۱ - افزایش مقاومت بدن در قبال عوامل نامساعد

۲ - افزایش صبوری و بردباری راننده

۳ - تدریجی پذیرایی عصبانیت زود هنگام و پرخاشگری

۴ - افزایش اعتماد بنفس و لز خود گذشتگی راننده



بن نامه راهنمایی و رانندگی

سوم

زمان ۲۰ دقیقه

از گذاشتن هرگونه علامت بر روی برکه آزمون جدا خودداری فرمایید

۲ کدام یک از تابلوهای زیر جزو تابلوهای راهنمای مسیر نمیباشد؟



۱ کدام تابلو، درباره توقف نمی باشد؟



۴ این تابلو بیانگر چیست؟



- ۱ - خیابان اصلی
- ۲ - رعایت حق تقدم
- ۳ - ورود ممنوع
- ۴ - پایان خیابان اصلی

۳ این تابلو بیانگر چیست؟



- ۱ - گذرگاه عبورپیاده
- ۲ - عبور اطفال
- ۳ - عبور عابر پیاده
- ۴ - عبور پیاده ممنوع

۶ این تابلو بیانگر چیست؟



- ۱ - پارکینگ
- ۲ - راننده معلولین
- ۳ - پارکینگ مخصوص افراد معلول
- ۴ - پارکینگ مخصوص افراد ناشنوا

۵ این تابلو بیانگر چیست؟



- ۱ - سرعت بیش از ۳۰ کیلومتر بر ساعت ممنوع
- ۲ - پایان حداقل سرعت ۳۰ کیلومتر
- ۳ - حداقل سرعت ۳۰ کیلومتر
- ۴ - پایان محدودیت سرعت (۳۰ کیلومتر)

۲۴ در این تقاطع، حق تقدم عبور به ترتیب با کدام یک می باشد؟



- ۱ - دوجرخه، سواری، کامیون
- ۲ - کامیون، سواری، دوجرخه
- ۳ - سواری، دوجرخه، کامیون
- ۴ - کامیون، دوجرخه، سواری

۲۲ هنگام سبقت گرفتن اعم از اینکه روز باشد یا شب، برای جلب توجه وسایل نقلیه پشت سر، انجام کدام مورد زیر ضروری است؟

- ۱ - بوق زدن
- ۲ - تبدیل نور چراغ خودرو
- ۳ - اشاره با دست
- ۴ - زدن چراغ راهنما

۲۶ در چه شرایطی می توان در آزاد راه ها از باند سمت چپ استفاده کرد؟

- ۱ - برای کنار رفتن از سر راه کامیونهای بزرگ و جلوگیری از بروز تصادف
- ۲ - برای سبقت از وسایل نقلیه دیگر یا استفاده از حداکثر سرعت مجاز در آن باند
- ۳ - برای سرعتهای بالاتر از ۱۳۰ کیلومتر در ساعت
- ۴ - تحت هیچ شرایطی نمی توان از باند سمت چپ استفاده کرد

۲۵ رانندگان و وسایل نقلیه در صورت توقف اضطراری که امکان انتقال و سلبه نقلیه به بیرون خط و یا مسبر عبوری وجود نداشته باشد، موظفند ...

- ۱ - با نصب علامت، از فاصله ۱۵۰ متری رانندگان وسایل نقلیه دیگر و پیادگان را آگاه نمایند.
- ۲ - با نصب علامت، از فاصله ۷۰ متری رانندگان وسایل نقلیه دیگر و پیادگان را آگاه نمایند.
- ۳ - با ایجاد موانع راه را ببندند.
- ۴ - با آمدن به وسط راه و علامت دادن با دست دیگران را آگاه کنند.

۲۸ مفهوم این تابلو چیست؟



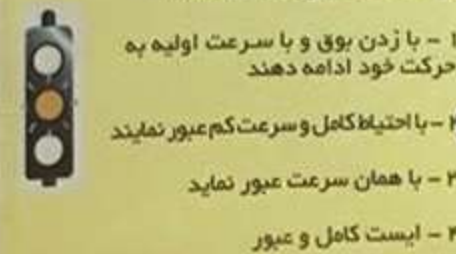
- ۱ - پایان استفاده اجباری از زنجیر چرخ
- ۲ - استفاده از زنجیر چرخ در هنگام یخبندان
- ۳ - عبور فقط با زنجیر چرخ
- ۴ - استفاده از زنجیر چرخ هنگام ریزش باران

۲۷ مفهوم این تابلو چیست؟



- ۱ - عبور دو طرفه
- ۲ - حق تقدم عبور با وسیله نقلیه مقابل است
- ۳ - عبور از هر دو طرف ممنوع
- ۴ - حق تقدم عبور با شما

۳۰ رانندگان با مشاهده چراغ چشمک زن زرد در تقاطع چه عملی باید انجام دهند؟



- ۱ - با زدن بوق و با سرعت اولیه به حرکت خود ادامه دهند
- ۲ - با احتیاط کامل و سرعت کم عبور نمایند
- ۳ - با همان سرعت عبور نمایند
- ۴ - ایست کامل و عبور

۲۹ کدامیک از تابلوهای زیر یک طرفه بودن راه را نشان می دهد؟



- ۱ - (Blue rectangular sign with a white arrow pointing up)
- ۲ - (Blue rectangular sign with a white arrow pointing up)
- ۳ - (Blue rectangular sign with a white arrow pointing up and a red arrow pointing down)
- ۴ - (Blue rectangular sign with a white arrow pointing up and a red arrow pointing down)

۷ بلند کردن دست به طور عمودی توسط پلیس به چه معناست؟



- ۱ - عبور سریع وسایل نقلیه از تقاطع
- ۲ - برای کلیه استفاده کنندگان از راه به معنای توجه توقف خواهد بود.
- ۳ - این علامت، رانندگانی را که بیشتر وارد محوطه تقاطع شده اند نیز ملزم به توقف میسازد.
- ۴ - رعایت سرعت مطمئنه در رانندگی

۸ کدام گزینه در مورد این شکل درست است؟



- ۱ - رانندگانی که در سمت خط پر (ممتد) قرار دارند، حق عبور از روی آن را ندارند.
- ۲ - رانندگانی که در سمت خط مقطع هستند نمی توانند از روی آن عبور کنند.
- ۳ - راننده سمت خط ممتد می تواند سبقت بگیرد.
- ۴ - راننده سمت خط مقطع باید با سرعت بالا عبور نماید.

۹ کدامیک از موارد زیر در خصوص مفهوم چراغ زرد صحیح نمی باشد؟

- ۱ - این چراغ به معنی هشدار برای تغییر رنگ چراغ از سبز به قرمز است.
- ۲ - با دیدن این چراغ باید از سرعت خودرو کاسته تا بتوانید به آرامی در پشت خط توقف بایستید.
- ۳ - در صورتیکه چراغ زرد شده و شما قبلاً در تقاطع وارد شده اید باید به حرکت خود ادامه داده و با احتیاط عبور نمایید.
- ۴ - به معنی هشدار برای تغییر رنگ از قرمز به سبز است و با زرد شدن چراغ باید به حرکت خود ادامه داده و با احتیاط از تقاطع عبور نمایید.

۱۰ کدامیک از موارد زیر در خصوص استفاده از تلفن همراه در حین رانندگی صحیح تر است؟

- ۱ - هرگونه استفاده از تلفن همراه شامل صحبت کردن، ارسال پیامک، دیدن تصاویر و ... ممنوع است.
- ۲ - صرفاً صحبت کردن با تلفن همراه ممنوع است.
- ۳ - صرفاً ارسال پیامک با تلفن همراه در حین رانندگی ممنوع می باشد.
- ۴ - فقط خواندن پیامک از تلفن همراه در حین رانندگی ممنوع است.

۱۱ کدام مورد زیر از علائم خستگی و خواب آلودگی راننده نمی باشد؟

- ۱ - حرکات نوسانی سر و گردن و احساس سنگینی در پلک ها
- ۲ - عدم تمرکز در رانندگی و رویا پردازی در ذهن
- ۳ - عدم توانایی کنترل خودرو بین خطوط و کاهش سرعت واکنش نسبت به شرایط
- ۴ - کنترل خودرو و حرکت بین خطوط

۱۲ کدام چراغ راهنمایی معمولاً در محل برخورد راه اصلی با راه فرعی نصب می گردد؟

- ۱ - چراغ چشمک زن زرد
- ۲ - چراغ چشمک زن قرمز
- ۳ - چراغ چشمک زن قرمز برای ایست
- ۴ - چراغ چشمک زن قرمز برای عبور

۱۳ در شهرها و مناطق مسکونی، در خیابان های شریان اصلی حداکثر سرعت چند کیلومتر در ساعت است؟

- ۱ - ۱۰۰
- ۲ - ۹۵
- ۳ - ۶۰
- ۴ - ۸۵

۱۴ در این تقاطع، حق تقدم عبور به ترتیب با کدام یک می باشد؟



- ۱ - آبی، نارنجی، سبز، زرد
- ۲ - سبز، زرد، آبی، نارنجی
- ۳ - زرد، سبز، نارنجی، آبی
- ۴ - سبز، زرد، نارنجی، آبی

۱۵ کدام یک به مفهوم « ایست وسیله نقلیه برای هر مدت ممنوع » می باشد؟

- ۱ - ایستادن
- ۲ - ایستادن ممنوع
- ۳ - توقف
- ۴ - توقف ممنوع

۱۶ از کدام علامت آگاه سازی برای سبقت گرفتن در روز استفاده می شود؟

- ۱ - افزایش سرعت و تبدیل متناوب نور چراغ
- ۲ - تعویض نور چراغ بالا و پایین
- ۳ - اشاره با دست به همراه بوق متناوب
- ۴ - بوق کوتاه و چراغ راهنما

۱۷ چراغ هایی که حضور وسیله نقلیه و عرض آن را از سمت جلو نشان می دهد کدام است؟

- ۱ - چراغ جانبی جلو
- ۲ - چراغ جانبی عقب
- ۳ - چراغ های کوچک عقب
- ۴ - چراغ توقف

۱۸ پدال های مقابل پای راننده به ترتیب از راست به چپ عبارتند از ...

- ۱ - کلاچ، گاز، ترمز
- ۲ - ترمز، گاز، کلاچ
- ۳ - گاز، ترمز، کلاچ
- ۴ - ترمز، کلاچ، گاز

۱۹ کدام جمله درباره کیسه هوا صحیح نمی باشد؟

- ۱ - فعال شدن کیسه هوا در حالتی که کمر بند ایمنی بسته نشده باشد، نتایج مخرب تری خواهد داشت.
- ۲ - در خودروهای مجهز به کیسه هوا دیگر نیازی به کمر بند ایمنی نمی باشد.
- ۳ - یکی از تکنولوژی های پیشرفته در زمینه ایمنی خودرو، سیستم کیسه هوا یا ایربگ می باشد.
- ۴ - کیسه هوا، هنگام تشخیص ضربه ناشی از تصادف در کسری از ثانیه باز می شود.

۲۰ وظیفه کدام قطعه، مانع از ورود گرد و غبار و دیگر ذرات معلق به داخل موتور می باشد؟

- ۱ - فیلتر هوا
- ۲ - فیلتر سوخت
- ۳ - فیلتر روغن
- ۴ - فن

۲۱ برای انجام کمک های اولیه اگر آرامش ندارید چه باید بکنید؟

- ۱ - به مصدوم بگویند در حال حاضر آرامش ندارید و نمی توانید کاری برای او انجام دهید.
- ۲ - باید هرچه سریعتر صحنه را ترک نمایید و از محل حادثه دور شوید
- ۳ - باید سریعاً اراده کمکهای اولیه را به اتمام رسانید.
- ۴ - کشیدن چند نفس عمیق و آرام به شما کمک می کند تا آرامش خود را بدست آورده و به شرایط محیط تسلط یابید

۲۲ کدام یک از مهم ترین عوامل و خصوصیات ایست است که موجب عملکرد ضعیف یک راننده می شود؟

- ۱ - عدم شناسایی و تشخیص نادرست حوادث غیرمنتظره و حادثه ساز
- ۲ - نداشتن تمرکز در حین رانندگی
- ۳ - نداشتن توجه کامل به ایمنی سایر کاربران ترافیک
- ۴ - تمام موارد

۷ کدام گزینه در مورد این شکل درست است؟



۱- رانندگان باید قبل از خط معقد ایستند که معمولاً در تقاطع‌ها کشیده می‌شود. توقف کامل نمایند.

۲- رانندگان با مشاهده این خطوط از سرعت خود کاسته و با احتیاط عبور نمایند.

۳- رانندگان با مشاهده این خطوط از سرعت خود کاسته و با رعایت حق تقدم عبور وارد راه اصلی شوند.

۴- رانندگان با مشاهده این خطوط از سرعت خود کاسته و با رعایت احتیاط و حق تقدم عبور وارد راه اصلی شوند.

۸ شکل مستطیل قائم معمولاً برای چه نوع

تابلوهایی استفاده می‌شود؟



۱- شروع و پایان حق تقدم مسیر

۲- راهنما و هشدار

۳- دستوری و خدمات

۴- دستوری یا یازدارنده

۹ کدامیک از موارد زیر، مفهوم چراغ قرمز می‌باشد؟

۱- این چراغ نشان دهنده آن است که می‌توانید با احتیاط از تقاطع عبور نمایید.

۲- به معنی هشدار جهت تغییر رنگ چراغ است و باید با دیدن آن توقف سپس حرکت نمایید.

۳- با دیدن این چراغ شما می‌توانید به آرامی و در صورتیکه عبور خالی است از تقاطع عبور نمایید.

۴- این چراغ به معنی توقف می‌باشد و با دیدن آن باید پشت خط ایستاد توقف نمود.

۱۱ شکل و مواد صادر بر کدام یک از موارد زیر تأثیر منفی می‌گذارد؟

۱- توانایی ذهنی، هوشیاری و دید

۲- تشخیص موقعیتهای خطرناک

۳- تمرکز و کنترل سرعت

۴- تمام موارد

۱۲ با مشاهده چراغ قرمز راهنمایی و در صورت نبودن خط ایست برای توقف، در چند متری چراغ باید توقف کنیم؟

۱- سه متری

۲- پنج متری

۳- دو متری

۴- چهار متری

۱۴ هرگاه دو یا چند وسیله نقلیه از دو یا چند راه مختلف به تقاطع هم عرض برسند حق تقدم عبور با وسیله ای است که

۱- دارای سرنشین بیشتری است

۲- به سمت راست گردش می‌کند

۳- در طرف راست وسیله نقلیه دیگر قرار دارد

۴- دارای شتاب و سرعت بیشتری می‌باشد

۱۳ در بزرگراه‌های درون شهری حداکثر سرعت چند کیلومتر در ساعت است؟

۱- ۱۰۰

۲- ۱۲۰

۳- ۱۱۰

۴- ۱۲۵

۱۵ ایستادن ممنوع همان است.

۱- توقف

۲- توقف مطلقاً ممنوع

۳- توقف ممنوع

۴- ایستادگی وسیله نقلیه در زمان کوتاه

۱۶ برای کاستن سرعت هنگامی که وسیله نقلیه فاقد چراغ راهنما باشد باید

۱- دست راست را به طرف پایین نگهداشت

۲- دست چپ را به طرف بالا نگهداشت

۳- دست چپ را به طور افقی نگهداشت

۴- دست چپ را به طور افقی از بالا به پایین حرکت داد

۱۷ تردد کدام نوع وسیله نقلیه در خط سوم آزادراه‌ها ممنوع نیست؟

۱- اتوبوس

۲- وانت‌ها

۳- مینی بوس

۴- انواع بارکش‌ها با وزن بیش از ۳ / ۵ تن

۱۸ چه هنگام می‌توان از ترمز دستی استفاده نمود؟

۱- هنگام توقف در سرازیری‌ها یا سربالایی‌ها

۲- در هر شرایطی

۳- تنها در سرعتهای بالا

۴- هنگام توقف خودرو و یا در سرعتهای بسیار پایین

۱۹ میزان کارایی روغن‌های معمولی موتور معمولاً چند کیلومتر می‌باشد؟

۱- حدود ۲ هزار کیلومتر

۲- حدود ۴۰ تا ۵۰ هزار کیلومتر

۳- حدود ۸ تا ۱۰ هزار کیلومتر

۴- ۵۰ هزار کیلومتر

۲۰ کدام یک جزو سیستم انتقال قدرت نمی‌باشد؟

۱- کلاچ

۲- میل لنگ

۳- گیربکس

۴- دیفرانسیل

۲۱ کدام یک از موارد زیر در خصوص ایمن کردن صحنه حادثه می‌باشد؟

۱- پارک خودرو در فاصله مناسب استفاده از تابلو اعلان خطر مطمئن شدن از اینکه خطری شما را تهدید نمی‌کند.

۲- پارک خودرو در فاصله مناسب کشیدن چند نفس عمیق و آرام استفاده از تابلو اعلان خطر

۳- استفاده از تابلو اعلان خطر گرفتن شرح حال از مصدومین کشیدن چند نفس آرام و عمیق

۴- پارک خودرو در فاصله مناسب بررسی وضعیت مصدومین دور کردن مصدوم از صحنه حادثه

۲۲ علائم خستگی در رانندگی چیست؟

۱- تمرکز در حین رانندگی

۲- تشخیص حوادث غیرمنتظره

۳- تشخیص حوادث حادثه ساز

۴- کم شدن توجه به رانندگی و کاهش سرعت تصمیم‌گیری




آزمایش آیین نامه راهنمایی و رانندگی

نام: نام خانوادگی:

زمان ۲۰ دقیقه

از گذاشتن هرگونه علامت بر روی برگه امتحان خودداری فرمایید

۲ کدام یک جزو تابلوهای حاشیه نما نمی باشد؟



۱ کدام تابلو، بیانگر تقاطع نمی باشد؟



۴ این تابلویانگر چیست؟



- ۱- حق تقدم عبور با وسیله نقلیه مقابل است
- ۲- حق تقدم عبور با شعا
- ۳- جاده دو طرفه
- ۴- عبور از هر دو سمت مجاز

۳ این تابلو بیانگر چیست؟



- ۱- عبور حیوانات وحشی
- ۲- عبور حیوانات اهلی
- ۳- فقط عبور کوزن
- ۴- شروع منطقه حیات وحش

۶ این تابلو بیانگر چیست؟



- ۱- سازمان امداد و نجات جاده ای
- ۲- مرکز درمانی واقع در جاده
- ۳- پست امدادی
- ۴- بیمارستان

۵ این تابلویانگر چیست؟



- ۱- منطقه محدودیت سرعت ۳۰ کیلومتر
- ۲- حداقل سرعت ۳۰ کیلومتر
- ۳- سرعت بیش از ۳۰ کیلومتر بر ساعت ممنوع
- ۴- پایان حداقل سرعت ۳۰ کیلومتر

۲۴ در این سه راه ، حق تقدم عبور به ترتیب یا کدام یک می باشد؟



- ۱- ابتدا ۳ سپس ۲ و ۱ با هم
- ۲- به ترتیب ۳ ، ۲ ، ۱
- ۳- ابتدا ۱ و ۲ با هم سپس ۳
- ۴- به ترتیب ۱ ، ۲ ، ۳

۲۲ این شکل چه موردی را هشدار می دهد؟



- ۱- رمانی که شرایط جاده استاندارد نیست و چاله و دست انداز وجود دارد باید احتیاط نمود.
- ۲- در شرایطی مانند سه یا ریزش باران که شعاع دید کم است باید با سرعتی کمتر از محدوده سرعت قانونی حرکت نمود.
- ۳- در شرایطی که در جاده عبور پیاده یا دوچرخه سوار وجود دارد باید سرعت مناسب را انتخاب نمود.
- ۴- در نزدیکی مراکز خرید از سرعت خود بکاهید.


۲۶ اگر هنگام رانندگی در آزاد راه تابلو خودرو بنجر شود چه باید کرد؟

- ۱- باید در همان محل توقف کرد
- ۲- باید در خط توقف اضطراری توقف کرد
- ۳- می توان در بین خطوط عبوری آزاد راه توقف کرد
- ۴- موارد ۱ و ۳ صحیح می باشند

۲۵ ایستادن یا توقف وسایل نقلیه در کدام یک از محلتهای زیر ممنوع است؟

- ۱- در فاصله ۲۰ متری میدان یا تقاطع یا سه راهها یا تقاطع راه آهن
- ۲- پیاده رو و گذرگاه پیاده
- ۳- از ۵ متری ورودی مراکز آتش نشانی
- ۴- از ۵ متری ورودی مراکز فوریت های پزشکی

۲۸ کدامیک از تابلوهای زیر به معنای خطر می باشد؟



۲۷ کدام یک از تابلوهای زیر راننده را از انجام عملی باز می دارد؟



۳۰ منظور از تخلفی از محدودیت های سرعتی در راه ها کدام است؟

- ۱- رعایت سرعت مطمئنه
- ۲- عدم رعایت سرعت مجاز تعیین شده
- ۳- رعایت قوانین و مقررات تعیین شده
- ۴- تجاوز به حریم قانونی دیگران

۲۹ در این شکل حق تقدم عبور عبارتست از:



- ۱- زرد ، سبز ، خودروی امدادی
- ۲- خودروی امدادی ، زرد ، سبز
- ۳- خودروی امدادی ، سبز ، زرد
- ۴- سبز ، زرد ، خودروی امدادی

۷ بلند کردن دستهای پلیس به دو طرف و بطور افقی به چه معناست؟

۱- کلاه و سابل عقبه مقابل پلیس قرار گرفته اند باید بایستند.

۲- کلاه استفاده کنندگان از راه که جهت حرکت آنها در امتداد جهت نشان داده شده با دست یا دستهای پلیس میباشد باید بایستند.

۳- کلاه و سابل نقلیه که پشت سر پلیس قرار گرفته اند باید بایستند.

۴- کلاه و سابل نقلیه که در امتداد جهت دست پلیس قرار گرفته اند باید سریع عبور نمایند.



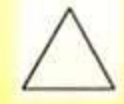
۸ از مثلث متساوی الاضلاع (نشسته روی قاعده) معمولاً برای چه نوع تابلوهایی استفاده می شود؟

۱- دستوری و خدمات

۲- علائم راهنما

۳- علامت هشدار دهنده برای خطر

۴- دستوری یا بازدارنده



۱۵ منظور از ایست وسیله نقلیه در زمان کوتاه کدام است؟

۱- ایستادن

۲- ایستادن ممنوع

۳- ایست وسیله نقلیه برای هر مدت ممنوع

۴- پارک خودرو

۱۶ هنگام توقف اگر وسیله نقلیه چراغ راهنما نداشته باشد باید
 ۱- دست راست را به طرف پایین نگهداشت
 ۲- دست چپ را به طرف پایین نگهداشت
 ۳- دست چپ را به طور افقی نگهداشت
 ۴- دست راست را به طور افقی نگهداشت

۹ کدامیک از موارد زیر در خصوص عبور از روی خط آهن صحیح می باشد؟

۱- در طول عبور از خط آهن دنده خودرو باید از دنده سنگین به دنده سبک تغییر داد.

۲- در طول عبور از خط آهن دنده خودرو باید از دنده سبک به دنده سنگین تغییر داد.

۳- در طول عبور از خط آهن دنده خودرو را نباید تعویض نمود.

۴- قبل از رسیدن به خط آهن باید سرعت را افزایش داده و با سرعت از خط آهن عبور نمود.

۱۰ کدامیک از موارد زیر صحیح است؟

۱- حمل مسافر در قسمت بار یا صندوق عقب ممنوع است.

۲- سبقت گرفتن برای اتوبوسها و کامیونها ممنوع است.

۳- از ۱۵۰ متر مانده به ورودی تونلها و پل ها سبقت ممنوع است.

۴- از ۱۰۰ متر مانده به پیچ ها تا ۱۰۰ متر پس از آن سبقت گرفتن ممنوع است.

۱۷ در جاده های اصلی بیرون شهر، حداکثر سرعت در شب ها چند کیلومتر در ساعت است؟

۱- ۸۵

۲- ۹۵

۳- ۶۵

۴- ۷۰

۱۸ مهمترین نکته ای که در خرید خودرو باید در نظر داشت چیست؟

۱- سطح ایمنی

۲- نوع خودرو

۳- زیبایی ظاهری

۴- تجهیزات رفاهی

۱۱ در چه شرایطی می توان مانع سبقت گرفتن خودروی در حال سبقت شد؟

۱- زمانی که هوا رو به تاریکی است

۲- زمانی که سرعت خودرو سبقت گیرنده خیلی زیاد باشد

۳- زمانی که شرایط بارانی یا برفی است

۴- در هیچ شرایطی

۱۲ در کنترل و تنظیم عبور و مرور کدام مورد بر سایرین مقدم است؟

۱- خط کشی و ترسیم ها

۲- چراغ راهنمایی

۳- فرمان پلیس

۴- تابلوهای راهنمایی

۱۹ سطح روغن موتور را با چه وسیله می توان کنترل نمود؟

۱- پمپ روغن

۲- در مخزن روغن

۳- فیلتر روغن

۴- سیم روغن (گیج روغن)

۲۰ مهم ترین وظایف روغن در موتور چیست؟

۱- صرفاً روان کاری قطعات

۲- خنک کاری قطعات

۳- روانکاری قطعات، کمک به خنک کاری

۴- جلوگیری از ورود گرد و غبار به موتور

۱۳ حداکثر سرعت در آزادراه های بیرون شهری برای انواع سواری چند کیلومتر در ساعت است؟

۱- ۱۲۵

۲- ۱۰۰

۳- ۱۲۰

۴- ۹۵

۱۴ در تقاطع هم عرض اگر دو وسیله نقلیه ای که روبروی یکدیگر در حرکتند بخواهند با هم وارد خیابان مجاور واحدی شوند حق تقدم عبور با وسیله نقلیه ای است که
 ۱- در طرف راست وسیله نقلیه دیگر قرار دارد
 ۲- به سمت راست گردش می کند
 ۳- سرعت بیشتری دارد
 ۴- در حال گردش به چپ می باشد

۲۱ در کدامیک از موارد زیر دور کردن خود و اطرافیان از صحنه تصادف از اهمیت بیشتری نسبت به سایر موارد برخوردار است؟

۱- در حوادثی که خطرانی نظیر جاری شدن مواد خطرناک یا گازهای سمی وجود دارد

۲- در حوادثی که تعداد مصدومین کم می باشد.

۳- در تصادفات خودروهای عمومی که امداد رسانی کلیه افراد ممکن نمی باشد.

۴- در مواردی که خودرو در کنار راه قرار نداشته باشد.

۲۲ کدام گزینه نادرست است؟

۱- حرکات نوسانی سر و گردن از علائم خواب آلودگی است.

۲- عدم درک مناسب از موقعیت و شرایط موجود از نشانه های خستگی در رانندگی است.

۳- عواطف و احساسات بر سیستم اعصاب رانندگان تاثیر خاصی ندارد

۴- یکی از نشانه های خستگی که عملکرد راننده را مختل می سازد مشروبات الکلی است.



نامه راهنمایی و رانندگی

زمان ۲۰ دقیقه

از گذاشتن هرگونه علامت بر روی برگه آزمون جدا خودداری فرمایید



۲ عنوان این تابلو چیست؟

- ۱- پیچهای پی در پی (اولین پیچ به چپ)
- ۲- پیچهای پی در پی (اولین پیچ به راست)
- ۳- پیچ به راست
- ۴- پیچ به چپ

۱ کدام تابلو، بیانگر جاده دوطرف می باشد؟



۲ این تابلو بیانگر چیست؟



- ۱- عبور حیوانات وحشی
- ۲- عبور حیوانات اهلی
- ۳- منطقه حیات وحش
- ۴- محل عبور حیوانات

۴ این تابلو بیانگر چیست؟



- ۱- عبور موتورکتری ممنوع
- ۲- عبور دوچرخه ممنوع
- ۳- فقط عبور دوچرخه
- ۴- عبور چرخ دستی ممنوع

۵ این تابلو بیانگر چیست؟



- ۱- پایان خیابان اصلی
- ۲- آزادراه
- ۳- پایان آزادراه
- ۴- پایان تقاطع راه آهن

۶ این تابلو بیانگر چیست؟



- ۱- حاشیه نمای راست
- ۲- پایان جدا کننده
- ۳- جریان همگرا
- ۴- هدایت مسیر با جدا کننده

۲۲ حمل مسافر در قسمت بار

۱- مجاز است

۲- در صورت رعایت ایمنی مجاز است

۳- ممنوع است

۴- در مسافت های کوتاه مجاز است

۲۴ در این تقاطع، حق تقدم عبور به ترتیب با کدام یک می باشد؟



- ۱- آبی فرمز، دوچرخه کابینت
- ۲- دوچرخه کابینت، آبی فرمز
- ۳- کابینت، دوچرخه آبی فرمز
- ۴- فرمز، آبی، دوچرخه کابینت

۲۶ تحت چه شرایطی می توان در تقاطع ها سبقت گرفت؟

- ۱- اگر تقاطع خلوت باشد
- ۲- اگر چراغ تقاطع چشمک زن باشد
- ۳- سبقت در تقاطع ها ممنوع است
- ۴- اگر مسیر یک طرفه باشد

۲۵ ایستادن یا توقف وسایل نقلیه در کدام یک محلهای زیر ممنوع است؟

- ۱- از ۵۰ متری شیرهای آتش نشانی
- ۲- در فاصله ۵۰ متری میدان یا تقاطع یا سه راهها یا تقاطع راه آهن
- ۳- از ۱۰۰ متری ابتدا تا انتهای پیچ ها
- ۴- از ۱۵ متری ورودی بیمارستان ها

۲۸ در صورت مشاهده تابلو مقابل متظر چه چیزی باید بود؟



- ۱- گردش به چپ ممنوع
- ۲- پیچهای پی در پی (اولین پیچ به چپ)
- ۳- پیچ به چپ
- ۴- پیچ به راست

۲۷ در این تقاطع، حق تقدم عبور به ترتیب با کدام یک می باشد؟



- ۱- آبی، قهوه ای
- ۲- قهوه ای، آبی
- ۳- هر سه خودرو با هم می توانند حرکت کنند
- ۴- فقط خودروی قهوه ای مجاز به حرکت می باشد

۳۰ با مشاهده چراغ چشمک زن زرد در تقاطع چه عملی را انجام می دهید؟



- ۱- با زدن بوق و با سرعت اولیه به حرکت خود ادامه دهید
- ۲- قبل از خط ایست توقف کامل کنید
- ۳- از سرعت خود بکاهید و با احتیاط عبور کنید
- ۴- با همان سرعت از تقاطع عبور نمایید

۲۹ در بحث مفهوم رنگها و علائم عبور و مرور، مفهوم رنگ قهوه ای کدام است؟



- ۱- راهنمای خدمات
- ۲- راهنمای مناطق تفریحی و گردشگری و فرهنگی
- ۳- علائم دستوری
- ۴- راهنمای مسیر در سایر راه ها



بن نامه راهنمایی و رانندگی

کتابخانه راهنمایی و رانندگی (موسم)

زمان ۲۰ دقیقه

از گذاشتن هرگونه علامت بر روی برکه آزمون جدا خودداری فرمایید

V



۲ عنوان این تابلو چیست؟

۱- پیچ به راست

۲- پیچ به چپ

۳- گردش به راست ممنوع

۴- گردش به چپ ممنوع

۱ کدام تابلو، بیانگر تقاطع جاده و راه آهن در ۱۰۰ متری می باشد؟



۴ این تابلویانگر چیست؟



۱- سبقت موتورسیکلت ممنوع

۲- عبور وسائط نقلیه موتوری ممنوع

۳- عبور موتورسیکلت ممنوع

۴- عبور موتورگازی ممنوع

۳ این تابلویانگر چیست؟



۱- تقاطع

۲- محدوده خطر

۳- تقاطع با راه آهن

۴- خطوط پرواز هواپیما

۶ این تابلو بیانگر چیست؟



۱- ورود به راه اصلی از راست

۲- هدایت مسیر با جدا کننده

۳- تقاطع فرعی با اصلی

۴- جریان همگرا

۵ این تابلویانگر چیست؟



۱- پایان شهر

۲- ابتدای شهر

۳- ورود به شهر

۴- ابتدای منطقه مسکونی

۲۲ این شکل چه موردی را هشدار می دهد؟



۱- زمانی که شرایط جاده استاندارد نیست باید احتیاط نمود.

۲- موتور سبکلت ها همیشه دارای حق تقدم هستند.

۳- هنگام گردش باید مراقب بود فضای کافی برای موتور سواران احتمالی در نظر گرفت.

۴- همواره از گردش به چپ خودداری نمایید.

۲۵ کدام گزینه درست است؟

۱- حرکت با دنده خالص در سرازیری ها بدون اشکال است.

۲- حرکت در پوشش وسایل نقلیه امدادی برای وسایل نقلیه دیگر ممنوع است.

۳- وسایل نقلیه می توانند از روی لوله های آب آتش نشانی که برای خاموش کردن آتش در خیابان قرار گرفته اند عبور نمایند.

۴- راندن وسیله نقلیه ای که بیش از ظرفیت مندرج درکارت مشخصات، بار یا مسافر گرفته مجاز است.

۲۴ کدامیک از موارد زیر نشان دهنده بوجود آمدن حالت خستگی و خواب آلودگی در حین رانندگی است؟

۱- پلک زدن، کنترل بین خطوط، عدم تمرکز بر روی رانندگی و رویا بردازی.

۲- احساس سنگینی در پلکها، کنترل آگاهانه بر روی سرعت خودرو، عدم توانایی کنترل خودرو بین خطوط.

۳- احساس سنگینی در پلکها، عدم کنترل آگاهانه بر سرعت خودرو، عدم تمرکز روی رانندگی و رویا بردازی در ذهن.

۴- افزایش سرعت واکنش نسبت به شرایط احساس سنگینی در پلکها عدم کنترل آگاهانه بر روی سرعت خودرو.

۲۶ خودرویی که دور آن یا دایره مشخص شده است، به کدام یک از خودروها باید اجازه عبور بدهد؟



۱- خودروهای ۱ و ۲

۲- خودروهای ۱ و ۳

۳- خودروهای ۲ و ۳

۴- تمام خودروها

۲۸ مفهوم این تابلو چیست؟



۱- خطر در گردش به راست

۲- خطر در گردش به چپ

۳- پیچهای پی در پی اولین پیچ به چپ

۴- پیچهای پی در پی اولین پیچ به راست

۳۰ کدام مورد از مصادیق حقوق شهروندی در رانندگی نمی باشد؟

۱- حرکت بین خطوط ترافیک

۲- تخلف از محدودیت های سرعت در راهها

۳- رعایت قوانین مرتبط با سرعت

۴- رعایت سرعت مجاز در رانندگی

۲۹ مفهوم این تابلو چیست؟



۱- پیچ به راست

۲- دور زدن ممنوع

۳- پیچ به چپ

۴- گردش به چپ ممنوع

۷ رنگ قرمز در علائم عبور و مرور به چه معنوی است؟



- ۱ - حرکات مجاز و راهنمای مسیر در بزرگراه ها
- ۲ - هشدارهای عمومی و انجام عملیات ساختمانی
- ۳ - منع کننده یا ایست
- ۴ - راهنمای مناطق آموزشی

۸ از شکل دایره معمولا برای چه نوع علائم عبور و مرور و تابلوهایی استفاده می شود؟



- ۱ - دستوری و خدمات
- ۲ - علائم راهنما
- ۳ - علامت هشدار دهنده برای خطر
- ۴ - دستوری یا بازدارنده

۹ کدامیک از موارد زیر صحیح می باشد؟

- ۱ - زمانی که جاده خیس یا مرطوب است زمان توقف خودرو کاهش می یابد.
- ۲ - استفاده از سیستم تهویه خودرو در شرایط بارندگی به منظور جلوگیری از عرق کردن شیشه های خودرو
- ۳ - استفاده از نور بالای چراغها در شرایط مه و دود
- ۴ - حرکت در منتهی الیه سمت چپ جاده هایی که فاقد خط کشی است.

۱۰ کدامیک از موارد زیر درخصوص استفاده از کمربند ایمنی صحیح تر است؟

- ۱ - بستن کمربند ایمنی برای سرنشینان زیر ۱۲ سال در ردیف جلو الزامی است.
- ۲ - بستن کمربند ایمنی برای سرنشینان ردیف جلو الزامی است.
- ۳ - بستن کمربند ایمنی برای سرنشینان ردیف عقب الزامی است.
- ۴ - بستن کمربند ایمنی برای سرنشینان ردیف جلو و عقب الزامی است.

۱۱ در چه شرایطی باید سرعت خود را کمتر از محدوده سرعت مجاز انتخاب نمود؟

- ۱ - زمانی که شرایط جاده استاندارد نیست
- ۲ - هنگامی که شعاع دید کم است
- ۳ - در شرایطی که درجاده و یا خیابان عابر پیاده یا دوچرخه سوار وجود دارد
- ۴ - تمام موارد

۱۲ هدف از طراحی شانه راه در دو طرف خط های عبور و رفت و برگشت کدام است؟

- ۱ - تغییر سرعت برای پیوست به جریان ترافیک
- ۲ - خط کمکی برای تردد و افزایش ظرفیت
- ۳ - توقف اضطراری
- ۴ - ایستادن برای استراحت

۱۳ حداقل سرعت در آزادراه های درون شهری چند کیلومتر در ساعت است؟

- ۱ - ۵۰ کیلومتر در ساعت
- ۲ - ۷۰ کیلومتر در ساعت
- ۳ - ۳۰ کیلومتر در ساعت
- ۴ - ۶۰ کیلومتر در ساعت

۱۴ چند متر بعد از تونل ها و پل ها سبقت گرفتن آزاد است؟

- ۱ - سبقت از انتهای آنها مجاز است
- ۲ - ۵۰ متری
- ۳ - ۱۰۰ متری
- ۴ - ۷۰ متری

۱۵ در آیین نامه راهنمایی و رانندگی منظور از سلب اعتبار قانونی گواهینامه رانندگی کدام است؟

- ۱ - انقضا، گواهینامه
- ۲ - ابطال گواهینامه
- ۳ - توقیف گواهینامه
- ۴ - استرداد گواهینامه

۱۶ برای گردش به چپ اگر وسیله نقلیه موتوری فاقد چراغ راهنما باشد باید

- ۱ - دست چپ را به طور افقی نگهداشت
- ۲ - دست چپ را به طرف بالا نگهداشت
- ۳ - دست چپ را به طرف پایین نگهداشت
- ۴ - دست راست را به طرف بالا نگهداشت

۱۷ در جاده های اصلی، حداکثر سرعت در روز چند کیلومتر در ساعت است؟

- ۱ - ۱۲۰
- ۲ - ۱۰۰
- ۳ - ۱۱۰
- ۴ - ۹۵

۱۸ در این تقاطع هم عرض، حق تقدم عبور به ترتیب با کدام یک می باشد؟



- ۱ - دوچرخه، موتورسیکلت، سواری
- ۲ - سواری، موتورسیکلت، دوچرخه
- ۳ - موتورسیکلت، دوچرخه، سواری
- ۴ - سواری، دوچرخه، موتورسیکلت

۱۹ کدام گزینه درباره ضدیخ صحیح نمی باشد؟

- ۱ - مایع ضدیخ از یخ زدگی آب در سورها جلوگیری می کند.
- ۲ - عدم استفاده از ضدیخ در تابستان می تواند منجر به جوش آوردن زودتر موتور شود.
- ۳ - ضدیخ در جلوگیری از زنگ زدگی رادیاتور و قطعات سیستم خنک کاری موثر است.
- ۴ - بهتر است کل مخزن رادیاتور به جای آب از ضدیخ پر شود.

۲۰ در موتور خودروها برای تصفیه روغن از چه وسیله ای استفاده می شود؟

- ۱ - مخزن روغن
- ۲ - پمپ روغن
- ۳ - فیلتر روغن
- ۴ - صافی بدزین

۲۱ در ارزیابی مصدومین کدامیک از مصدومین را باید در اولویت انجام کمکهای اولیه قرار داد؟

- ۱ - مصدومینی که آسیبهای آنها کمتر است و با انجام کمکهای اولیه سریرا بهبود می یابند.
- ۲ - مصدومینی که آسیبهای آنها بسیار شدید است نظیر سوختگی ها یا زخمهای وسیع
- ۳ - مصدومینی که از سن بالاتری نسبت به سایر مصدومین برخوردارند.
- ۴ - کودکان در اولویت انجام کمکهای اولیه هستند.

۲۲ خودروهایی که دورشان خط کشیده شده، دچار چه خطایی شده اند؟



- ۱ - سرعت غیرمجاز
- ۲ - عدم رانندگی بین خطوط
- ۳ - سبقت از سمت چپ وسیله نقلیه
- ۴ - رانندگی با سرعت غیرایمن

۷ راننده ای که دست چپ را به طرف بالا نگهدارنده به چه معناست؟



۱- توقف

۲- گردش یا تغییر مسیر به چپ

۳- گردش یا تغییر مسیر به راست

۴- کاهش سرعت و پارک خودرو

۸ تبعیت از این تابلوها الزامی و در صورت عدم توجه، رانندگان مرتکب خلاف و نقض قانون می گردند:

۱- تابلوهای هشدار دهنده

۲- تابلوهای اخطاری

۳- تابلوهای آگاهی دهنده غیر دستوری

۴- تابلوهای آگاهی دهنده دستوری

۹ کدامیک از موارد زیر در خصوص رانندگی در شرایط ریزش برف و باران صحیح می باشد؟

۱- هنگامی که وسیله نقلیه ای در فاصله ای نزدیک و غیر ایمن از روبرو در حال حرکت است

۲- از ۱۰۰ متر مانده به پیچها تا ۱۰۰ متر پس از آن

۳- از ۱۵۰ متر مانده به ورودی تونل ها و پل ها

۴- برای اتوبوسها و کامیونها در معابر برون شهری

۱۰ چرا رانندگی با سرعت زیاد خطر آفرین است؟

۱- کنترل وسیله نقلیه سخت تر خواهد شد.

۲- صدعات و تلفات در تصادفات بیشتر خواهد بود.

۳- توانایی گریز از تصادف را نخواهند داشت.

۴- تعام موارد

۱۱ چرا رانندگی با سرعت زیاد خطر آفرین است؟

۱- اعلام خطر به کاربران ترافیک

۲- حرکت عابران پیاده بر روی خط مورد نظر

۳- مرز توقف وسایل نقلیه

۴- رویت شبکه معابر هنگام تاریکی

۱۲ منظور از طراحی خط ایست در ورودی تقاطع کدام است؟

۱- اعلام خطر به کاربران ترافیک

۲- حرکت عابران پیاده بر روی خط مورد نظر

۳- مرز توقف وسایل نقلیه

۴- رویت شبکه معابر هنگام تاریکی

۱۳ در راه های یک طرفه، حرکت برخلاف مسیر تعیین شده ...

۱- ۲۰۰ متری

۲- ۱۵۰ متری

۳- ۱۸۰ متری

۴- ۱۰۰ متری

۱۴ از چند متری ورودی تونل ها سبقت گرفتن ممنوع است؟

۱- با دادن علاقت و زدن چراغ راهنما مانعی ندارد

۲- ممنوع است

۳- برای گردش به چپ آزاد است

۴- با رعایت حق تقدم آزاد است.

۱۵ خطی عبوری که به منظور تغییر سرعت، انجام حرکات گردش و یا افزایش ظرفیت راه در کنار خط عبور ایجاد می شود؟

۱- خط ویژه

۲- خط تغییر سرعت

۳- خط کمک

۴- خط ایست

۱۶ در صورتی که در وسط تقاطع، چراغ راهنمایی زرد شود ...

۱- با احتیاط کامل و سرعت کم عبور نمایید

۲- توقف نموده و با دنده عقب به پشت چراغ راهنمایی برگردید.

۳- در همان محل توقف نموده و اجازه عبور را به سایرین بدهید.

۴- توقف نموده بلافاصله گردش به راست نمایید.

۱۷ در بزرگراه های برون شهری و مناطق غیر مسکونی، حداکثر سرعت برای انواع وانت بارها چند کیلومتر در ساعت است؟

۱- ۱۲۵

۲- ۱۲۰

۳- ۱۱۰

۴- ۱۳۰

۱۸ ترمز دستی به عنوان ترمز ... و ترمز پایی به عنوان ترمز ... یا ترمز سرویس شناخته می شود.

۱- سرعتی - قدرتی

۲- اولیه - ثانویه

۳- قدرتی - سرعتی

۴- ثانویه - اولیه

۱۹ کدام یک از موارد زیر جزو سیستم اگزوز خودرو می باشد؟

۱- فیلتر هوا

۲- مبدل کاتالیست

۳- نشانگر سوخت

۴- فن

۲۰ کدام یک جزو سیستم خشک کاری موتور نمی باشد؟

۱- ترموستات

۲- رادیاتور

۳- میل لنگ

۴- فن

۲۱ کدامیک از موارد زیر جزء نیازهای حیاتی مضمون می باشد؟

۱- بازی بودن راه تنفس، تنفس به اندازه کافی، گردش خون مناسب

۲- بسته بودن راه تنفس، تنفس کمتر از حد معمول، عدم وجود خونریزی

۳- باز بودن راه تنفس، خونریزی شدید، گردش خون مناسب

۴- بازی بودن راه تنفس، داشتن درجه حرارت بالا، گردش خون مناسب

۲۲ راننده خودروی نشان داده شده در این شکل دچار چه خطایی شده است؟



۱- عدم رانندگی بین خطوط

۲- عدم رعایت فاصله طولی مناسب

۳- رانندگی با سرعت بالا

۴- روشن نکردن چراغ ها




آزمایش آشنایی نامه راهنمایی و رانندگی

هشتمه ۱۳۹۰

زمان ۲۰ دقیقه

از گذاشتن هرگونه علامت بر روی برگه آزمون جدا خودداری فرمایید



۱ این تابلویاتگر چیست؟

- ۱- شیب سرازیری ۱۰ درصد
- ۲- شیب سرازیری ۲۰ درصد
- ۳- سربالایی خطرناک
- ۴- سرازیری خطرناک

۱ کدام تابلو، بیانگر تقاطع جاده و راه آهن بدون راهنما در ۳۰۰ متری می باشد؟



۳ این تابلو بیانگر چیست؟



۴ این تابلویاتگر چیست؟



- ۱- عبور کامیون با بار ممنوع
- ۲- مسیر کامیون حامل کلالی خطرناک
- ۳- عبور کامیون ممنوع
- ۴- عبور وسائط نقلیه با محموله خطرناک ممنوع

- ۱- درباره وجود چراغ راهنمایی هشدار می دهد
- ۲- عبور از چراغ قرمز ممنوع است
- ۳- درباره خراب بودن چراغ راهنمایی هشدار می دهد
- ۴- با رعایت احتیاط می توان از تقاطع عبور نمود

۶ کدامیک از تابلوهایی زیر به معنای پایان محدوده توقف ممنوع می باشد؟



۵ این تابلو بیانگر چیست؟



- ۱- گذرگاه عابر پیاده
- ۲- مدرسه
- ۳- گذرگاه پیاده
- ۴- عبور اطفال

۲۴ یکی از مهم ترین مشکلات زیست محیطی کلان شهرهای کشور کدام است؟

- ۱- آلودگی هوا ناشی از مصارف خانگی
- ۲- آلودگی هوا ناشی از صنایع
- ۳- آلودگی هوا ناشی از تردد روزانه خودرو
- ۴- سیستم حمل و نقل پایدار شهری

۲۳ در این تقاطع هم عرض، حق تقدم عبور به ترتیب با کدام یک می باشد؟



۲۶ به چه دلیل مسافت گرفتن از کامیون طولانی (کشنده و پدک) خطرناکتر از مسافت گرفتن از یک اتومبیل معمولی است؟

- ۱- کامیون ها ممکن است ناگهان کنارکشیده و توقف کنند.
- ۲- ترمز کامیون ها به خوبی ترمز اتومبیل های دیگر نیست.
- ۳- کامیونها نسبت به اتومبیل ها، طول ترند و برای سبقت از آنها به مسافت و زمان بیشتری نیاز است
- ۴- کامیون ها با سرعت کمتری از تیه ها بالا می روند.

۲۵ کدام گزینه درست است؟

- ۱- حرکت با دنده خلاص در سرازیری ها بدون اشکال است.
- ۲- حرکت در پوشش وسایل نقلیه امدادی برای وسایل نقلیه دیگر ممنوع است
- ۳- وسایل نقلیه می توانند از روی لوله های آب آتش نشانی که برای خاموش کردن آتش در خیابان قرار گرفته اند، عبور نمایند.
- ۴- راندن وسیله نقلیه ای که بیش از ظرفیت مندرج در کارت مشخصات، بار یا مسافر گرفته مجاز است.

۲۸ اگر بر سر چهارراهی چراغ سبز باشد اما داخل تقاطع بدلیل ترافیک بسته باشد چه باید کرد؟

- ۱- چون چراغ سبز است می توان عبور کرد.
- ۲- باید صبر کرد تا راه باز شود و نباید تقاطع را مسدود نمود.
- ۳- می توان با بوق زدن، خودروهای جلویی را وادار به حرکت نمود.
- ۴- می توان با چراغ زدن، خودروهای جلویی را وادار به حرکت نمود.

۲۷ رانندگان با مشاهده چراغ قرمز چشمک زن در تقاطع باید چه عملی انجام دهند؟

- ۱- قبل از ورود به تقاطع یا گذرگاه عابر پیاده توقف، پس از اطمینان از عدم وجود خطر تصادف عبور کنند.
- ۲- با سرعت بالا و بی درنگ از تقاطع عبور نمایند.
- ۳- از سرعت خود کاسته و با احتیاط عبور کنند.
- ۴- عبور آزاد است ولی باید با سرعت کم از تقاطع عبور کنند.

۳۰ کدامیک از تابلوهایی زیر به مفهوم آن است که بچهایی در جلو وجود دارد؟



۲۹ محدودیتهای حرکت و سرعت در جاده ها بوسیله تعیین می گردد.

- ۱- علائم و تابلوها
- ۲- رانندگان
- ۳- سازمان راهداری
- ۴- افراد صلاحیت دار

۷ راننده ای که دست چپ را به طور افقی



نگهداشته به چه معناست؟

۱ - گردش یا تغییر مسیر به راست

۲ - گردش یا تغییر مسیر به چپ

۳ - توقف

۴ - افزایش سرعت

۹ کدامیک از موارد زیر در حین رانندگی در شب اشتباه است؟

۱ - روشن نمودن چراغ های کوچک و بزرگ بطور همزمان

۲ - استفاده از بوق کوتاه هنگام سبقت

۳ - کاهش سرعت در صورت نزدیک شدن خودرویی از روبرو که از نور بالا استفاده می کند.

۴ - استفاده از چراغ مه شکن در هنگام ریزش باران

۱۱ حرکت با دنده خلاص در سرازیری ها چه حکمی دارد؟

۱ - مجاز است

۲ - در صورت نبودن مانع اشکالی ندارد

۳ - ممنوع است

۴ - در صورت عدم ایجاد خطر اشکالی ندارد

۱۳ توقف وسیله نقلیه در کدام مورد زیر ممنوع است؟

۱ - ۱۰۰ متری اطراف چراغ راهنمایی

۲ - ۲۵ متری مراکز فوریت های پزشکی

۳ - ۲۰ متری شیرهای آب آتش نشانی

۴ - معابر در ارتفاع

۸ این شکل نشان دهنده چیست؟



۱ - حرکت کردن از روی خطوط هاشور ممنوع است

۲ - خطوط هاشور مخصوص عبور اضطراری وسایل نقلیه امدادی می باشد

۳ - خطوط هاشور معمولا در کنار شبکه معابر آژدرها، بزرگراهها و تونلها کشیده می شوند.

۴ - تمام موارد

۱۰ در کدامیک از موارد زیر سبقت ممنوع نمی باشد؟

۱ - برای اتوبوس ها و کامیونها در معابر برون شهری.

۲ - از ۵۰ متر مانده به پیچها تا ۵۰ متر پس از آن.

۳ - سبقت از وسیله نقلیه ای که در حال سبقت گرفتن است مگر در راههای دارای سه خط عبور.

۴ - در سربلندی های تند و سربالایی که میدان دید راننده کم است.

۱۲ رانندگانی که قصد گردش به راست یا به چپ را دارند مکلفند از چه فاصله ای به وسیله چراغ راهنما علامت بدهند؟

۱ - ۲۵۰ متری

۲ - ۱۵۰ متری

۳ - ۲۰۰ متری

۴ - ۱۰۰ متری

۱۴ از چند متری بعد از پیچ ها سبقت گرفتن آزاد است؟

۱ - ۳۰ متری

۲ - ۵۰ متری

۳ - ۴۰ متری

۴ - ۲۰ متری

۱۵ آزاد راه راهی است دارای حداقل

۱ - دو خط اتومبیل رو برای طرف رفت

۲ - سه خط اتومبیل رو برای هر طرف

۳ - دو خط اتومبیل رو برای هر طرف

۴ - سه خط اتومبیل رو برای طرف برگشت

۱۷ در معابر محلی و میادین شهرها، حداکثر سرعت چند کیلومتر در ساعت است؟

۱ - ۵۵

۲ - ۶۵

۳ - ۳۰

۴ - ۴۵

۱۹ کدام یک از اجزای موتور نمی باشد؟

۱ - سیپک

۲ - سرسیلندر

۳ - میل لنگ

۴ - فلایویل



۲۱ مفهوم برجسب مقابل کدام است؟

۱ - راننده ناشنوا

۲ - راننده بیمار

۳ - راننده معلول

۴ - معلولین و جانبازان



۱۶ در این شکل حق تقدم عبور با کیست؟

۱ - آبی، زرد

۲ - هم زمان با هم می توانند حرکت کنند.

۳ - زرد، آبی

۴ - بستگی به سرعت خودروها دارد.



۱۸ ترمز دستی معمولا عمل می کند.

۱ - فقط بر چرخهای جلو

۲ - فقط بر چرخهای عقب

۳ - فقط بر چرخهای سمت چپ

۴ - فقط بر چرخهای سمت راست

۲۰ وظیفه قطع و وصل کردن مدار آب از موتور به رادیاتور بر عهده کدام قطعه می باشد؟

۱ - پمپ روغن

۲ - کلاچ

۳ - ترموستات

۴ - فن

۲۲ کدام یک جزو آلاینده های هوا نمی باشد؟

۱ - مونواکسید کربن

۲ - اکسیدهای نیتروژن

۳ - اکسیژن

۴ - ذرات معلق



آزمون آیین نامه راهنمایی و رانندگی

این نامه رانندگی پایه سوم

زمان ۲۰ دقیقه

از گذاشتن هرگونه علامت روی این جدا خودداری فرمایید

۹



۲ عنوان این تابلو چیست؟

۱ - پل متحرک

۲ - سرازیری خطرناک

۳ - سربالایی خطرناک = ۱ درصد

۴ - شیب سرازیری = ۱ درصد

۱ کدام تابلو ممنوعیت عبور وسایل نقلیه موتوری را بیان می کند؟



(۲)



(۱)



(۴)



(۳)



۴ این تابلویانگر چیست؟

۱- عبور خودروی کشاورزی ممنوع

۲- عبور گاری ممنوع

۳- عبور چرخ دستی ممنوع

۴- عبور با محموله خطرناک ممنوع



۳ این تابلو بیانگر چیست؟

۱ - درباره مشغول به کار بودن کارگران هشدار می دهد.

۲- احتمال ریزش سنگ را مطرح می کند.

۳ - نزدیک بودن یک تونل را هشدار می دهد.

۴- خطر برخورد با عابر پیاده را مطرح می کند.



۶ این تابلو بیانگر چیست؟

۱- حداقل سرعت در خط عبور

۲- حداقل سرعت

۳- سرعت توصیه شده

۴- فاصله از نصب تابلو



۵ این تابلویانگر چیست؟

۱ - محدوده توقف ممنوع در طول شبانه روز

۲- پارکینگ

۳ پارک سوار

۴- محدوده پارک آزاد

۲۴ مفهوم این تابلو چیست؟



۱ - حداقل سرعت در خط های عبور

۲ - حداکثر سرعت در خط های عبور

۳ - حداقل سرعت توصیه شده

۴ - سرعت بیش از ۵۰ کیلومتر در ساعت ممنوع

۲۳ این شکل سانکر چه موضوعی است؟



۱ - جهت قرار گیری چرخ هانگام پارک در سربالایی دارای جدول

۲ - جهت قرار گیری چرخ هانگام رگ در سرازیری دارای جدول

۳ - نحوه حرکت دنده عقب در سربالایی

۴ - نحوه حرکت در سرازیری

۲۶ درباره محل پارک خودرو کدام گزینه غلط است؟

۱- پارک کردن در خطوط شطرنجی داخل تقاطع ممنوع است

۲- پارک کردن در حریم تقاطعها و گذرگاههای عابر پیاده ممنوع است

۳- در محلی باید پارک کرد که مانع سایر استفاده کنندگان از راه نشد

۴- پارک کردن مقابل درب ورودی ساختمانها و منازل مجاز است

۲۵ در این تقاطع حق تقدم عبور به ترتیب با کدام یک می باشد؟



۱ - قرمز، زرد، آبی

۲ - زرد، آبی، قرمز

۳ - قرمز، آبی، زرد

۴ - آبی، زرد، قرمز

۲۸ در این تصویر عمده ترین خطری که راننده اتومبیل پشت سر به آن مواجه خواهد بود کدام است؟



۱- ممکن است دوچرخه سوار ترمز کند و بایستد.

۲- ممکن است دوچرخه سوار ناگهان به داخل خیابان منحرف شود.

۳- ممکن است دوچرخه سوار ناگهان به سمت راست رفته و پیاده شود.

۴- ممکن است دوچرخه سوار بر سرعت خود بیفزاید.

۲۷ کدام مورد از انواع آلودگی سهم زیادی از آلودگی ترافیک شهری را تشکیل می دهد؟

۱- آلودگی هوا ناشی از کارخانجات

۲- آلودگی هوا ناشی از منابع خانگی

۳- آلودگی شنیداری

۴- آلودگی هوا ناشی از وسایل نقلیه موتوری

۲۰ وظیفه تولید برق در خودرو بر عهده کدام قطعه است؟

۱ - سیستم تعلیق

۲ - تسمه پروانه

۳- دینام

۴- فن

۲۹ راننده ای که مرتکب تصادف منجر به جرح یا فوت می گردد چه وظیفه ای دارد؟

۱ - بلافاصله وسیله نقلیه را از محل تصادف خارج کند.

۲ - بلافاصله وسیله نقلیه را در محل تصادف متوقف سازد.

۳- با نصب علائم ایمنی هشدار دهنده، سایر رانندگان را از وقوع حادثه آگاه سازد.

۴- موارد ۲ و ۳ صحیح می باشد

۷ راننده ای که دست چپ را به طرف پایین نگهداشته به چه معناست؟



- ۱- گردش یا تغییر مسیر به راست
- ۲- گردش یا تغییر مسیر به چپ
- ۳- توقف ●
- ۴- افزایش سرعت

۸ مفهوم رنگ سبز در علائم عبور و مرور چیست؟



- ۱- حرکات مجاز، راهنمای مسیر در بزرگراه ها و اماکن مذهبی
- ۲- منع کننده یا ایست
- ۳- راهنما برای مناطق اداری و آموزشی و خدماتی
- ۴- راهنما برای مناطق تفریحی و فرهنگی و گردشگری

۹ کدامیک از موارد زیر در حین رانندگی در شب اشتباه است؟

- ۱- روشن نمودن چراغ های کوچک و بزرگ بطور همزمان
- ۲- استفاده از بوق کوتاه هنگام سبقت ●
- ۳- کاهش سرعت در صورت نزدیک شدن خودرویی از روبرو که از نور بالا استفاده می کند.
- ۴- استفاده از چراغ مه شکن در هنگام ریزش

۱۰ در سبقت گرفتن کدامیک از موارد زیر را باید رعایت نمود؟

- ۱- یافتن فضایی برای جلو افتادن از خودروی دیگر
- ۲- داشتن سرعتی معادل سرعت خودرویی که می خواهیم از آن سبقت بگیریم.
- ۳- عدم ممنوعیت سبقت در آن مکان از راه اطمینان از خالی بودن وسیله نقلیه در لاین دیگر
- ۴- عدم ممنوعیت سبقت در آن مکان از راه مگر سرعت خودرو آن قدر باشد که در زمان کوتاه عمل سبقت گرفتن تمام شود.

۱۱ بازدید مخزن آب رادیاتور چه زمانی باید انجام شود؟

- ۱- صرفاً در فصل تابستان که هوا گرم است.
- ۲- زمانی که خودرو روشن است.
- ۳- زمانی که خودرو در حال حرکت است.
- ۴- زمانی که موتور خاموش و سرد است ●

۱۲ چراغ هایی که حضور وسیله نقلیه و عرض آن را از سمت جلو نشان می دهد کدام است؟

- ۱- چراغ جانبی جلو ●
- ۲- چراغ جانبی عقب
- ۳- چراغ های کوچک عقب
- ۴- چراغ توقف

۱۳ روی یدک و هر نوع وسیله نقلیه ای که وسیله نقلیه دیگر آن را می کشد باید بر روی وسیله نقلیه نصب تا سایر رانندگان آن را ببینند.

- ۱- پوچ سفید به ابعاد حداقل ۱۰۰ سانتی متر
- ۲- پوچ قرمز به ابعاد ۵۰ سانتی متر
- ۳- پوچ سفید به ابعاد حداقل ۵۰ سانتی متر ●
- ۴- چراغ الکتریکی با نور قرمز

۱۴ از چند متری ورودی پل ها سبقت گرفتن ممنوع است؟

- ۱- ۲۵۰ متری
- ۲- ۱۵۰ متری
- ۳- ۲۰۰ متری
- ۴- ۱۰۰ متری ●

۱۵ دور زدن از روی خط پر و یا یک خط ممتد

- ۱- با رعایت احتیاط بدون اشکال است
- ۲- ممنوع است ●
- ۳- مجاز است
- ۴- در صورت خلوت بودن مسیر مجاز است

۱۶ به همراه چراغ چشمک زن فرمز معمولاً کدام تابلو راهنمایی و رانندگی نصب می گردد؟

- ۱- فقط عبور مستقیم مجاز
- ۲- گردش به چپ ممنوع
- ۳- فقط عبور به راست مجاز
- ۴- ایست و یا رعایت حق تقدم ●

۱۸ ترمز سرویس (ترمز پایسی) مطابق با الزامات استانداردهای خودرویی باید بر عمل کند.

- ۱- تمامی چرخها ●
- ۲- فقط بر چرخ های جلو
- ۳- فقط بر چرخ های عقب
- ۴- فقط بر چرخ های محرک

۱۹ علاوه بر اینکه کلیدی ترین ابزار در کنترل خودرو میباشد، می تواند به عنوان بازخوردی مناسب، صحت یا عدم سلامت بخشهای مهمی از خودرو همچون سیستم جلوبندی و وضعیت فرمان پذیری را آشکار نماید.

- ۱- پدال ترمز
- ۲- پدال گاز
- ۳- غربیلک فرمان ●
- ۴- آینه بغل

۲۰ مهمترین مزیت ترمز ضد قفل چیست؟

- ۱- حفظ فرمان پذیری خودرو و جلوگیری از لغزش ●
- ۲- افزایش قدرت و سرعت خودرو
- ۳- کاهش مصرف سوخت
- ۴- استهلاک کمتر تایرها

۲۲ بزرگترین منبع آلودگی هوا در کلان شهرها کدام است؟

- ۱- کارگاه ها
- ۲- خودرو ●
- ۳- وسایل گازسوز خانگی
- ۴- پالایشگاه ها

۲۰- انجام کدامیک از موارد زیر در هنگام تنفس مصنوعی صحیح تر است؟
 (۱) خارج کردن اجسام خارجی از دهان مصدوم، دادن تنفس مصنوعی، بررسی تنفس حداقل به مدت ۲۰ ثانیه
 (۲) خارج کردن اجسام خارجی از دهان مصدوم، بررسی تنفس حداقل به مدت ۲۰ ثانیه، دادن تنفس به مدت ۵ ثانیه
 (۳) خارج کردن اجسام خارجی از دهان مصدوم، باز کردن راه هوایی با بالا بردن چانه مصدوم، بررسی داشتن تنفس پس از باز بودن راه هوایی
 (۴) باز کردن دهان مصدوم و دادن تنفس مصنوعی، بررسی تنفس به مدت ۲۰ ثانیه، دادن تنفس مصنوعی به مدت ۵ ثانیه

تنفس به مدت ۲۰ ثانیه، دادنه دادن تنفس مصنوعی به مدت ۵ دقیقه



مه راهنمایی و رانندگی

مه، آشننگر، پایه سوم

زمان ۲۰ دقیقه

از گذاشتن هرگونه علامت بر روی برکه از هون جدا خودداری فرمایید



۲ عنوان این تابلو چیست؟



- ۱ - جاده باریک می شود
- ۲ - راه از چپ باریک می شود
- ۳ - راه باریک
- ۴ - ورودی خیابان

۱ کدام تابلو بیانگر عبور خودروی کشاورزی ممنوع می باشد؟



۴ این تابلو بیانگر چیست؟



- ۱ - عبور وسائط نقلیه با وزن بیش از ۵ تن ممنوع
- ۲ - عبور کامیون با طول بیش از ۵ متر ممنوع
- ۳ - عبور با عرض بیش از ۵ متر ممنوع
- ۴ - عبور با بار بیش از ۵ تن بر هر محور ممنوع

۳ عنوان این تابلو چیست؟



- ۱ - تقاطع با راه آهن
- ۲ - تقاطع فرعی و اصلی
- ۳ - ورود به راه اصلی از راست
- ۴ - تقاطع

۶ این برجسب بیانگر چیست؟



- ۱ - پست امدادی
- ۲ - راننده ناشنوا
- ۳ - بیمارستان
- ۴ - راننده معلول

۵ این تابلو بیانگر چیست؟



- ۱ - پایان شهر
- ۲ - تونل
- ۳ - پایان تونل
- ۴ - ورود به شهر

۲۴ در کدام یک خطوط اضطرار نمایش داده شده است؟



۲۳ این شکل بیانگر چیست؟
۱-سواری در حال سبقت گرفتن از موتورسوار است.
۲-موتورسوار در نقطه کور سواری قرار دارد.
۳-سبقت در محل غیر مجاز
۴-عدم رعایت فاصله طولی مناسب



۲۶ چرا قبل از سبقت گرفتن از یک کامیون طویل، باید فاصله را با آن کاملا حفظ کنید؟

- ۱ - زیرا برای سبقت گرفتن از کامیون طویل در پیچ ها باید شتاب کافی داشته باشید.
- ۲ - سبقت گرفتن از خودروهای طویل ممنوع است
- ۳ - برای اینکه در نقطه کور قرار بگیرید.
- ۴ - برای اینکه از موقعیت جلوی کامیون اطلاع کافی داشته و در نقطه کور قرار نگیرید.

۲۵ در این تقاطع، حق تقدم عبور به ترتیب با کدام یک می باشد؟



- ۱ - آبی، نارنجی، سبز، زرد
- ۲ - سبز، زرد، آبی، نارنجی
- ۳ - زرد، سبز، نارنجی، آبی
- ۴ - سبز، زرد، نارنجی، آبی

۲۸ مفهوم این تابلو چیست؟



- ۱ - ورود به راه اصلی از راست
- ۲ - تقاطع
- ۳ - ورود به راه اصلی از چپ
- ۴ - تقاطع فرعی و اصلی

۲۷ کاربرد روش ۲ تاییه زمان در کجاست؟

- ۱ - بررسی آثار ناشی از تصادف
- ۲ - تخمین مسافت خودرو در حال حرکت با وسیله نقلیه جلویی
- ۳ - کنترل صحت کار موتور خودرو
- ۴ - محاسبه زمان چراغ زرد راهنمایی در سر چهارراه ها

۲۹ مفهوم چراغ سبز راهنمایی چیست؟



- ۱ - ایست کامل و سپس عبور
- ۲ - عبور با گردش آزاد است مگر آنکه گردش نمودن توسط علائم دیگر ممنوع شده باشد
- ۳ - عبور ممنوع است مگر آن که وسیله نقلیه با سرعت بالا در حال تردد باشد
- ۴ - برای اتوبوس ها عبور آزاد و سایرین باید توقف نمایند

- ۳۰ کدام مورد زیر از عوامل افزایش ایمنی در شبکه معابر و راه های کشور می باشد؟
- ۱ - تغییر ناگهانی مسیر حرکت به چپ در راه های فاقد خط کشی
- ۲ - رعایت حق تقدم عبور هنگام رانندگی
- ۳ - تغییر ناگهانی مسیر حرکت به راست در راه های فاقد خط کشی
- ۴ - حرکت با سرعتی بیش از سرعت تعیین شده در شبکه راه ها

۷ مفهوم خطوط مقطع یا بریده بریده در این شکل چیست؟



۱- برای مشخص نمودن مسیر عبور دو چرخه

۲- عمل سبقت، گردش، تغییر خط حرکت و دور زدن از روی این خطوط (با رعایت احتیاط) بدون اشکال می باشد.

۳- رانندگان وسایل نقلیه نباید به هیچ وجه از روی این خطوط عبور نمایند.

۴- محل پارک خودرو

۸ مفهوم رنگ قرمز در علائم عبور و مرور چیست؟



۱- حرکات مجاز، راهنمای مسیر در بزرگراه ها و اماکن مذهبی

۲- منع کننده یا ایست

۳- راهنما برای مناطق اداری و آموزشی و خدماتی

۴- راهنما برای مناطق تفریحی و فرهنگی و گردشگری

۱۰ سبقت چیست؟

۱- جلو افتادن و یا پیشی گرفتن از خودرو دیگری که در همان مسیر حرکت می کند.

۲- در جلوی خودروی دیگر حرکت نمودن

۳- حرکت در جهت مسیر خودروهای دیگر و جلوتر از همه آنها

۴- حرکت در لاین مخالف و جلو افتادن از خودروی دیگر

۹ اگر خودرویی یا نور بالا از روبرو به شماره نزدیک شود چه باید بکنید؟

۱- باید با تبدیل نور پایین به نور بالا و بوق معتدل او را متوجه نمود که از نور پایین استفاده کند.

۲- باید سرعت را افزایش داده و سریع تر از او عبور کرد.

۳- سرعت را کاهش داده و به سمت راست جاده نگاه کرده و با کنار چشم حرکت خودرو مقابل را تحت نظر داشت.

۴- باید سرعت را کاهش داده و فقط به خودروی مقابل نگاه کرد.

۱۱ در کدام شرایط زیر، برای توقف به مسافت بیشتری نیاز است؟

۱- در شرایط آفتابی و روز روشن

۲- وقتی خودرو سنگین تر است یا شرایط بارانی و برفی است

۳- وقتی خودرو سبک تر است

۴- وقتی بدون بار و مسافر در حال حرکت هستیم

۱۲ در این شکل حق تقدم عبور به ترتیب با کدام خودروها است؟



۱- ابتدا ۱، سپس ۲ و بعد ۳

۲- ابتدا ۳، سپس ۲ و بعد ۱

۳- ابتدا ۲، سپس ۱ و بعد ۳

۴- ابتدا ۳، سپس ۱ و بعد ۲

۱۳ هرگاه وسیله نقلیه موتوری در راه ها از کار بماند و به دلیل نور کافس نیاز به چراغ نباشد، راننده باید مثلث های سبزه رنگ را در چه فاصله ای از طرف عقب و جلوی وسیله نقلیه به نحوی که قابل دیدن باشد قرار دهد؟

۱- ۲۰۰ متری

۳- ۱۵۰ متری

۲- از ۱۵۰ متری ورودی تونل ها

۳- از ۱۰۰ متری مانده به پیچ ها

۴- از ۱۰۰ متری پس از پیچ ها

۱۴ سبقت گرفتن در راه ها در کدام مورد ممنوع می باشد؟

۱- اتوبوس و کامیون ها در معابر شهری

۲- از ۱۵۰ متری ورودی تونل ها

۳- از ۱۰۰ متری مانده به پیچ ها

۴- از ۱۰۰ متری پس از پیچ ها

۱۵ در راه های یک طرفه برای گردش به چپ، رانندگان موظفند وسیله نقلیه را

۱- به منتهی الیه سمت راست هدایت و گردش نمایند.

۲- منتهی الیه چپ هدایت و گردش نمایند.

۳- در شانه سمت راست متوقف و سپس با زدن راهنما گردش نمایند.

۴- در سمت راست متوقف و با رعایت حق تقدم گردش نمایند.

۱۷ در آزادراه های بیرون شهری و مناطق غیرمسکونی، حداقل سرعت چند کیلومتر در ساعت است؟

۱- ۵۰

۲- ۷۰

۳- ۶۰

۴- ۱۰۰

۱۹ لورزش غریبک فرمان می تواند ناشی از کدام نقص باشد؟

۱- خرابی جعبه دنده

۲- بالانس نبودن چرخ ها

۳- تمام شدن صفحه کلاج

۴- پایین بودن سطح سوخت

۲۱ در خصوص آتش سوزی خودرو انجام کدامیک از موارد زیر صحیح تر می باشد؟

۱- در هنگام آتش سوزی خودرو باید ابتدا از شعله دور شدن موتور خودرو جلوگیری بعمل آورد.

۲- در هنگام آتش سوزی خودرو باید ابتدا قسمتهای داخلی خودرو را خاموش نمود.

۳- در صورت وجود کیسول آتش نشانی یا استفاده از آن آتش را خاموش نموده و در صورت عدم وجود کیسول آتش نشانی با پنو یا یک جسم غیرقابل اشتعال شعله را خفه کنید.

۴- احتمال انفجار خودرو در صورتی که شعله به داخل خودرو انتقال یابد زیاد است.

۱۶ هنگام رانندگی و مشاهده چراغ چشمک زن قرمز چه اقدامی باید انجام داد؟

۱- عبور از تقاطع با سرعت زیاد و احتیاط لازم

۲- عبور با احتیاط

۳- ایست و عبور

۴- عبور از تقاطع با سرعت کم و احتیاط لازم

۱۸ هدف از، تسلط کامل پاهای و دستها بر تجهیزات کنترلی همچون پدالها، اهرمها و غریبک فرمان می باشد.

۱- معاینه فنی

۲- تنظیم آینه ها

۳- سلامت فنی

۴- تنظیم صندلی

۲۰ کدامیک جزو وظایف سیستم تعلیق نمی باشد؟

۱- کنترل قدرت و شتاب خودرو

۲- تأمین راحتی راننده

۳- حفظ تعادل و پایداری خودرو هنگام عبور از پستی یا بلندی ها

۴- ممانعت از واژگونی خودرو هنگام عبور از پیچها

۲۲ این صفات جزو کدام نوع از رانندگان می باشد: مانور و تغییر مسیر به طور مکرر، بوق زدنهای بیپوده و مکرر و عبور از خط مقابل برای رهایی از ترافیک.

۱- رانندگان حسن

۲- رانندگان پرخاشگر

۳- رانندگان جوان

۴- رانندگان بی تجربه

۷ خطوط هانوس در راهها نشان دهنده چیست؟



۱- محل توقف

۲- محل استراحت

۳- وجود موانع

۴- منطقه خطر

۸ خودرویی که با دایره مشخص شده است به کدام یک از خودروها باید حق تقدم عبور بدهد؟



۱- خودروهای ۱ و ۲

۲- خودروهای ۱ و ۳

۳- خودروهای ۲ و ۳

۴- به همه خودروها

۹ در کدام یک از سطوح زیر مسافت توقف افزایش می یابد؟

۱- آسفالت زیر

۲- آسفالت با شرایط مطلوب ولی خشک

۳- در جاده های سنگلاخ

۴- آسفالت با شرایط نامطلوب و آلوده به قیر

۱۰ کدام یک از موارد زیر در خصوص حرکت با سرعت زیاد صحیح نمی باشد؟

۱- صدمات و تلفات در تصادفات با سرعت زیاد بیشتر است.

۲- در سرعتهای بالا زمان واکنش نسبت به خطرات بسیار افزایش می یابد.

۳- احتمال گشته شدن در تصادفات با سرعتهای بالا بسیار زیاد است.

۴- کنترل وسیله نقلیه در سرعتهای بالا بسیار سخت است.

۱۱ حداقل عمق شیار تایرها چند میلی متر باید باشد؟

۱- ۲

۲- ۱۵

۳- ۱/۵

۴- ۰/۵

۱۲ حداکثر میزان سرعت مجاز انواع سواری در بزرگراه های بیرون شهری چند کیلومتر در ساعت است؟

۱- ۱۲۰

۲- ۱۲۵

۳- ۱۱۰

۴- ۱۰۰

۱۳ هرگاه وسیله نقلیه ای شب در کنار و بیرون سطح راه توقف نماید و نور کالی در آن محل برای تشخیص اشخاص از فاصله ۱۵۰ متری وجود نداشته باشد انجام کدام مورد زیر ضروری است؟

۱- روشن نگهداشتن چراغهای کوچک جلو و خطر عقب وسیله نقلیه

۲- روشن نمودن چراغهای بزرگ با نور بالا

۳- نگهداشتن پدال ترمز برای روشن شدن چراغ ترمز

۴- روشن نمودن راهنمای سمت راست خودرو

۱۴ از چند متری بيج ها سبقت گرفتن ممنوع است؟

۱- ۳۰ متری

۲- ۵۰ متری

۳- ۴۰ متری

۴- سبقت گرفتن در بيج ها محدودیت ندارد

۱۵ رانندگان هنگام رویه رو شدن با وسایل نقلیه ای که در جهت مخالف حرکت می کنند حداقل از چند متری از چراغ عبور (نور پایین) استفاده می نمایند؟

۱- ۵۰ متری

۲- ۱۰۰ متری

۳- ۱۵۰ متری

۴- ۲۵۰ متری

۱۶ در کنترل و تنظیم عبور و مرور کدام مورد بر سایرین مقدم است؟

۱- خط کشی و ترسیم ها

۲- چراغ راهنمایی

۳- فرمان پلیس

۴- تابلوهای راهنمایی

۱۷ در بزرگراه های بیرون شهری حداکثر سرعت چند کیلومتر در ساعت است؟

۱- ۱۱۰

۲- ۱۲۰

۳- ۱۰۰

۴- ۱۲۵

۱۸، دستگاهی است که انرژی حرارتی و شیمیایی موجود در سوخت را به انرژی جنبشی یا مکانیکی تبدیل می کند.

۱- دیفرانسیل

۲- گیربکس

۳- موتور

۴- اگزوز

۱۹ در این تقاطع، حق تقدم عبور به ترتیب با کدام یک می باشد؟



۱- دوجرخه، سواری، کامیون

۲- کامیون، دوجرخه، سواری

۳- سواری، دوجرخه، کامیون

۴- کامیون، سواری، دوجرخه

۲۰ میزان کارایی روغن های معمولی موتور چند کیلومتر می باشد؟

۱- در حدود ۲ هزار کیلومتر

۲- در حدود ۸۰ تا ۱۰۰ هزار کیلومتر

۳- در حدود ۸ تا ۱۰ هزار کیلومتر

۴- هزار کیلومتر

۲۱ هنگام ارائه کمکهای اولیه و دادن تنفس مصنوعی، پس از چه مدت باید گردش خون مصنوعی را بررسی نمود؟

۱- پس از هر ۱۰ بار تنفس مصنوعی (تقریباً یک دقیقه)

۲- پس از هر ۳۰ بار تنفس مصنوعی (تقریباً دو دقیقه)

۳- پس از هر ۵۰ بار تنفس مصنوعی (تقریباً پنج دقیقه)

۴- در هنگام دادن تنفس مصنوعی نیازی به بررسی گردش خون نیست.

۲۲ کدام یک از مهمترین عوامل و خصوصیات است که موجب عملکرد ضعیف یک راننده می شود؟

۱- عدم شناسایی و تشخیص تدریست حوادث غیرمنتظره و حادثه ساز

۲- نداشتن تمرکز در حین رانندگی

۳- نداشتن توجه کامل به ایمنی سایر کاربران ترافیک

۴- تمام موارد



آزمون آیین نامه راهنمایی و رانندگی

نام و نام خانوادگی: _____

۱۲

زمان ۲۰ دقیقه

از گذاشتن هرگونه علامت بر روی برگه آزمون جدا خودداری فرمایید



۱ عنوان این تابلو چیست؟

۱ - چاله

۲ - برآمدگی

۳ - دست انداز

۴ - شانه خطر ناک

۲ کدام تابلو بیانگر آن است که عبور از هر دو سمت مجاز می باشد؟



۲



۱



۴



۳



۳ این تابلو بیانگر چیست؟

۱ - سبقت برای کامیون ممنوع

۲ - سبقت ممنوع

۳ - حق تقدم عبور با شما

۴ - جاده دو طرفه



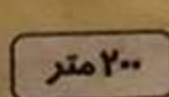
۴ این تابلو بیانگر چیست؟

۱ - ایستادن ممنوع

۲ - میدان

۳ - رعایت حق تقدم

۴ - به تابلو ایست نزدیک می شوید



۵ این تابلو بیانگر چیست؟

۱ - تا ۲۰۰ متر پارک کردن مجاز است

۲ - طول ممنوعیت با محدودیت پارکینگ

۳ - فاصله از محل نصب تابلو تا شروع قسمت خطر

۴ - رعایت فاصله کمتر از ۲۰۰ متر ممنوع



۶ این تابلو بیانگر چیست؟

۱ - استراحتگاه (کاروان)

۲ - تفرجگاه

۳ - استراحتگاه (چادر)

۴ - هتل

۲۴ کدام یک به معنای پارکینگ مخصوص افراد معلول است؟



۲



۱



۴



۳

۲۳ در راه هایی که مسیر حرکت وسایل نقلیه به دلیل عملیات حفاری بسته باشد، حق تقدم عبور با وسیله نقلیه ای است که.....

۱ - مسیر عبور آن ها بسته باشد.

۲ - مسیر عبور آن ها باز و دارای موانع ثابتی باشد.

۳ - مسیر عبور آن ها باز یا سهم عبور بیشتری داشته باشند.

۴ - مسیر عبور آن ها باز یا سهم عبور کمتری داشته باشند.

۲۶ کدام گزینه درباره عبور و توقف در مسیرهای ویژه اتوبوس شرکت واحد صحیح است؟

۱ - به جز اتومبیل های مجاز، برای مابقی وسایل نقلیه ممنوع است.

۲ - حتی در صورت ترافیک، نمی توان از مسیر ویژه اتوبوس عبور کرد.

۳ - گزینه های ۱ و ۲ صحیح است.

۴ - در صورت ترافیک سنگین می توان از مسیر ویژه اتوبوس عبور کرد.

۲۵ فردی که نوشابه الکلی یا مواد مخدر و داروهای خواب آور مصرف کرده، در چه شرایطی می تواند رانندگی کند؟

۱ - تا زمانی که آثار آن باقی است، رانندگی ممنوع می باشد.

۲ - در صورت شرایط اضطراری می تواند رانندگی کند.

۳ - تا یک سال نباید رانندگی کند.

۴ - موارد ۲ و ۳

۲۸ ایستادن یا توقف وسایل نقلیه در کدام یک محل های زیر ممنوع است؟

۱ - پیاده رو و گذرگاه پیاده

۲ - در فاصله ۱۵ متری میدان یا تقاطع یا سه راه ها یا تقاطع راه آهن

۳ - از ابتدا تا انتهای پیچها

۴ - تمام موارد

۲۷ در راه های شیب دار کوهستانی که دو وسیله نقلیه در کنار یکدیگر نمی توانند عبور نمایند، حق تقدم عبور با وسیله نقلیه ای است که.....

۱ - در جهت سربالایی در حرکت است.

۲ - در جهت سرازیری در حرکت است.

۳ - در جهت سرازیری با سرعت کم در حرکت است.

۴ - سهم بیشتری از عبور داشته و در جهت سرازیری در حرکت است.

۳۰ مفهوم این تابلو چیست؟



۱ - پل زیرگذر

۲ - تونل

۳ - اثر باستانی

۴ - پایان تونل

۲۹ در صورت مشاهده تابلو مقابل متظر چه چیزی باید بود؟



۱ - گردش به چپ ممنوع

۲ - پیچهای پی در پی (اولین پیچ به چپ)

۳ - پیچ به چپ

۴ - پیچ به راست



نامه راهنمایی و رانندگی

نامه رانندگی پایه سوم

زمان ۲۰ دقیقه

از گذاشتن هرگونه علامت بر روی برگه امتحان جدا خودداری فرمایید



۲ عنوان این تابلو چیست؟

- ۱- دست انداز
- ۲- برآمدگی
- ۳- ریزش سنگ
- ۴- سربالایی خطرناک

۱ کدام تابلو بیانگر این است که فقط عبور راست مجاز می باشد؟



۲ این تابلو بیانگر چیست؟



۱- رعایت حق تقدم

۲- به تابلو ایست نزدیک می شوید

۳- به تابلور رعایت حق تقدم عبور نزدیک می شوید


۴- به تابلو خطر نزدیک می شوید

۳ این تابلو بیانگر چیست؟



- ۱- گردش به راست ممنوع
- ۲- گردش به چپ ممنوع
- ۳- پیچ به راست
- ۴- پیچ به راست بدون محدودیت

۴ این تابلو بیانگر چیست؟



- ۱- سرعت توصیه شده
- ۲- طول ممنوعیت با محدودیت پارکینگ
- ۳- طول محدوده خطر
- ۴- حاشیه نمای دوطرفه

۵ این تابلو بیانگر چیست؟



- ۱- جایگاه سوخت
- ۲- پست امدادی
- ۳- استراحتگاه
- ۴- تعمیرگاه

۲۴ کدام یک به معنای راننده معلول است؟



۲۳ انجام دادن کدام گزینه درست است؟



۱- استفاده از نور بالا در فواصل کمتر از ۱۵۰ متر با خودروی جلویی

۲- استفاده از چراغهای با نور خیره کننده

۳- عدم استفاده از نوربالا در شب

۴- استفاده از نور پایین در فواصل کمتر از ۱۵۰ متر با خودروی جلویی

۲۵ کدام گزینه نادرست است؟

۱- رانندگی برای کسی که نوشابه الکلی با مواد مخدر و داروهای خواب آور مصرف کرده تا رفع کامل آثار آن ممنوع است.

۲- رساننده موظف است هنگام رانندگی، گواهی نامه رانندگی خویش را همراه داشته باشد.

۳- استفاده از بیوق برای مقاصدی مانند صدا زدن افراد و جلب توجه مسافر ممنوع است.

۴- رانندگان می توانند ضمن رانندگی، دخانیات استعمال نمایند.

۲۶ کدام گزینه درباره عبور و توقف در مسیرهای ویژه اتوبوس شرکت واحد صحیح است؟

- ۱- به جز اتومبیلهای مجاز، برای مابقی وسایل نقلیه ممنوع است.
- ۲- در ساعات شب می توان از مسیر ویژه اتوبوس عبور نمود.
- ۳- در صورت نبودن پلیس می توان از خطوط ویژه استفاده نمود.
- ۴- در صورت ترافیک سنگین می توان از مسیر ویژه اتوبوس عبور کرد.

۲۸ انجام کدام یک از اعمال زیر در خصوص زخمیهای صحنه تصادف نادرست است؟

- ۱- دلجویی از آنها
- ۲- گرم نگه داشتن آنها
- ۳- ایجاد شرایطی که زخمیها تنها نمانند.
- ۴- دادن خوراکی به افراد زخمی

۲۷ در این تقاطع، حق تقدم عبور به ترتیب با کدام خودروها می باشد؟



- ۱- زرد، آبی، نارنجی
- ۲- آبی، زرد، نارنجی
- ۳- نارنجی، آبی، زرد
- ۴- نارنجی، زرد، آبی

۳۰ در اعداد رسانی، این جمله به کدام مورد مربوط می شود: « خیلی سریع و در کمال خونسردی حادثه را بررسی نمایید »

- ۱- امن کردن محل حادثه
- ۲- ارائه کمک های اولیه
- ۳- ارزیابی موقعیت
- ۴- درخواست کمک

۲۹ در این تصویر عمده ترین خطری که راننده اتومبیل پشت سر با آن مواجه خواهد بود کدام است؟



- ۱- ممکن است دوچرخه سوار ترمز کند و بایستد.
- ۲- ممکن است دوچرخه سوار ناگهان به داخل خیابان متحرک شود.
- ۳- ممکن است دوچرخه سوار ناگهان به سمت راست رفته و پیاده شود.
- ۴- ممکن است دوچرخه سوار ناگهان توقف نماید.

۷ خطوط طولی نشان داده شده در این شکل چه نوع خطوطی می باشد؟



- ۱ - خط مقطع یا بریده بریده
- ۲ - خط مسدود و مقطع ترکیبی
- ۳ - خط طولی مسدود
- ۴ - خطوط هاشور

۸ در تقاطع روسرو که فاقد چراغ راهنمایی است حق تقدم با کدام خودرو می باشد؟



- ۱ - خودروی شماره ۱
- ۲ - خودروی شماره ۲
- ۳ - خودرویی که فاقد تابلوی رعایت حق تقدم است
- ۴ - موارد ۲ و ۳

۹ کدامیک از موارد زیر در خصوص رانندگی در شب صحیح است؟

- ۱ - میزان تصادفات در شب کاهش می یابد.
- ۲ - در شب زمان کمتری طول می کشد تا راننده موانع موجود را ببیند.
- ۳ - محدوده دید راننده در شب کاهش می یابد.
- ۴ - با افزایش سرعت در شبها می توان کاهش دید را جبران کرد.

۱۰ کدامیک از موارد زیر در خصوص سرعت و حرکت صحیح می باشد؟

- ۱ - کنترل وسیله نقلیه در سرعتهای پایین بسیار سخت است.
- ۲ - تصدمات و تلفات در تصادفات با سرعت زیاد بسیار بیشتر است
- ۳ - در سرعتهای بالا زمان واکنش نسبت به خطرات بسیار افزایش می یابد.
- ۴ - سایر کاربران راه بدلیل سرعت بالای وسیله نقلیه شما، زمان واکنش زیادی خواهند داشت.

۱۱ کم بودن عمق شیار تابر منجر به چه می شود؟

- ۱ - کاهش مقدار اصطکاک میان تابر و سطح راه
- ۲ - افزایش احتمال آسیب به تابر
- ۳ - سر خوردن خودرو به ویژه در سطوح خیس یا مرطوب
- ۴ - تمام موارد

۱۲ منظور از توقف چیست؟

- ۱ - ایستت وسیله نقلیه در زمان طولانی بدون حضور راننده
- ۲ - ایستت وسیله نقلیه در زمان کوتاه
- ۳ - ایستت وسیله نقلیه در زمان طولانی با حضور راننده
- ۴ - ایستت وسیله نقلیه برای هر مدت ممنوع

۱۳ کدام مورد زیر از علائم خستگی و خواب آلودگی راننده می باشد؟

- ۱ - تمرکز در رانندگی
- ۲ - توانایی کنترل خودرو بین خطوط حرکت
- ۳ - داشتن سرعت واکنش مناسب نسبت به شرایط
- ۴ - عدم کنترل آگاهانه بر سرعت خودرو

۱۴ از چند متری تقاطع ها سبقت گرفتن ممنوع است؟

- ۱ - ۴۰ متری
- ۲ - ۳۰ متری
- ۳ - ۵۰ متری
- ۴ - سبقت گرفتن محدودیت ندارد

۱۵ استفاده از چراغ های چشمک زن و رنگارنگ در وسایل نقلیه؟

- ۱ - برای دید بیشتر اشیا، و اشخاص مانعی ندارد.
- ۲ - مانعی ندارد
- ۳ - ممنوع است مگر با مجوزهای لازم از مراجع ذیصلاح
- ۴ - تحت هر شرایطی حتی اخذ مجوز نیز ممنوع است.

۱۶ با مشاهده چراغ قرمز راهنمایی و در صورت نبودن خط ایست برای توقف در چند متری چراغ باید توقف کنیم؟

- ۱ - دو متری
- ۲ - سه متری
- ۳ - پنج متری
- ۴ - چهار متری

۱۷ در شهرها و مناطق مسکونی، در خیابان های شریان اصلی حداکثر سرعت چند کیلومتر در ساعت است؟

- ۱ - ۱۰۰
- ۲ - ۶۵
- ۳ - ۶۰
- ۴ - ۸۵

۱۸ استفاده از کدام نوع کمربند ایمنی در خودرو الزامی است؟

- ۱ - نوع کمربند ایمنی مهم نیست
- ۲ - دو نقطه ای
- ۳ - کمربند ران
- ۴ - سه نقطه ای

۱۹ چه هنگام می توان از ترمز دستی استفاده نمود؟

- ۱ - تنها در سرعتهای بالا
- ۲ - در هر شرایطی
- ۳ - هنگام توقف خودرو و یا در سرعتهای بسیار پایین
- ۴ - هنگام توقف در سرازیرها یا سربالاییها

۲۰ کدام جمله درباره کیسه هوا صحیح نمی باشد؟

- ۱ - کیسه هوا، هنگام تشخیص ضربه ناشی از تصادف در کسری از ثانیه باز می شود.
- ۲ - فعال شدن کیسه هوا در حالتی که کمربند ایمنی بسته نشده باشد، نتایج مخرب تری خواهد داشت.
- ۳ - یکی از تکنولوژی های پیشرفته در زمینه ایمنی خودرو، سیستم کیسه هوا یا ایربگ می باشد.
- ۴ - با وجود کیسه هوا دیگر نیازی به کمربند ایمنی نمی باشد

۲۱ کدامیک از موارد زیر جان فرد را نسبت به موارد دیگر دیرتر به خطر می اندازد؟

- ۱ - فقدان تنفس
- ۲ - بالا بودن درجه حرارت بدن
- ۳ - فقدان ضربان قلب
- ۴ - خونریزی شدید

۲۲ فرار گرفتن مولاتی مدت رانندگان در شرایط نامساعد زیست محیطی منجر به چه می شود؟

- ۱ - کسب انرژی مثبت و تلاش مضاعف
- ۲ - رانندگی سالم و حفظ حقوق اجتماعی دیگران
- ۳ - تحریک پذیری، عصبانیت زود هنگام و پرخاشگری
- ۴ - رانندگی ایمن و رعایت اصول رانندگی صحیح

۷ مفهوم دو خط طولی مستد در این شکل چیست؟



- ۱- عبور از روی آن فقط برای سبقت مانعی ندارد
- ۲- عبور از روی آنها در هر شرایطی مجاز است.
- ۳- رانندگان وسایل نقلیه نباید به هیچ وجه از روی این خطوط عبور نمایند
- ۴- عبور سواری از روی آنها مجاز است

۸ مفهوم شکل لوزی در علائم عبور و مرور چیست؟



- ۱- علامت دستوری، بازدارنده
- ۲- صرفاً برای رعایت حق تقدم
- ۳- معمولاً برای علائم راهنما
- ۴- شروع و پایان حق تقدم مسیر

۱۰ در کدامیک از موارد زیر احتمال وقوع تصادفات کمتر است؟

- ۱- هوای خشک ، شرایط جاده استاندارد
- ۲- وجود مه ، ریزش باران ، گولک
- ۳- وجود مه ، ریزش باران ، شرایط جاده استاندارد
- ۴- وجود چاله و دست انداز در جاده ، ریزش باران

۹ در کدامیک از موارد زیر باید نور بالا را به نور پایین تبدیل نماییم؟

- ۱- زمانی که فاصله شما با خودرویی که در جلوی شما حرکت می کند ۱۵۰ متر یا بیشتر باشد.
- ۲- زمانی که فاصله شما با خودرویی که از مقابل به شما نزدیک می شود ۱۵۰ متر یا کمتر باشد.
- ۳- زمانی که فاصله شما با خودرویی که در جلوی شما حرکت می کند ۲۰۰ متر یا کمتر باشد.
- ۴- نیازی به تغییر نور بالا به نور پایین به جز در جاده های پر رفت و آمد نیست.

۱۲ در این شکل حق تقدم عبور با کدام خودرو است؟



- ۱- خودرویی که با دایره مشخص شده است.
- ۲- خودرویی که خارج میدان قرار دارد.
- ۳- بستگی به جهت حرکت خودرو دارد.
- ۴- بستگی به مسیر نهایی خودرو دارد.

۱۱ کدام گزینه در مورد باد تأیر صحیح تر است؟

- ۱- پر باد بودن تأیر ها می تواند فرمان پذیری خودرو را افزایش دهد.
- ۲- کم باد بودن تأیر ها باعث کاهش مصرف سوخت می شود.
- ۳- کم باد بودن تأیر ها باعث فرسایش تأیر، از دست رفتن تعادل و هدایت و فرمان پذیری هنگام ترمزگیری خواهد شد.
- ۴- باد تأیر زاپاس را می توان تخلیه و به همان شکل آن را نگهداری نمود.

۱۴ از چند متری تقاطع راه آهن سبقت گرفتن ممنوع است؟

- ۱- ۵۰ متری
- ۲- ۱۰۰ متری
- ۳- ۱۵۰ متری
- ۴- محدودیت ندارد

۱۳ در صورت خرابی وسیله نقلیه و میسر نبودن انتقال آن به محل مناسب ، چراغ الکترونیکی را برای آگاه سازی دیگران باید در چه فاصله ای از وسیله نقلیه قرار داد؟

- ۱- ۱۰۰ متری
- ۲- ۲۰۰ متری
- ۳- ۱۵۰ متری
- ۴- ۷۰ متری

۱۵ برای گردش به چپ در راه های بدون ششراهی که دارای دو خط عبور رفت و برگشت بدون مانع فیزیکی جداکننده می باشند رانندگان باید ابتدا وسیله نقلیه را

- ۱- در سمت چپ راه قرار گرفته و سپس با رعایت حق تقدم گردش نمایند
- ۲- در سمت چپ راه متوقف نمایند
- ۳- در شانه راه و یا منتهی الیه سمت راست راه متوقف نمایند
- ۴- در سمت چپ راه قرار گرفته و با زدن راهنما اقدام به گردش نمایند

۱۷ در خیابان شریان فرعی در شهرها، حداکثر سرعت چند کیلومتر در ساعت است؟

- ۱- ۵۰
- ۲- ۶۰
- ۳- ۷۰
- ۴- ۸۵

۱۶ کدام چراغ راهنمایی معمولاً در محل برخورد راه اصلی با راه فرعی نصب می گردد؟

- ۱- چراغ چشمک زن قرمز برای ایست
- ۲- چراغ چشمک زن قرمز
- ۳- چراغ چشمک زن زرد
- ۴- چراغ چشمک زن قرمز برای عبور

۱۸ هدف از ، تسلط کامل پاها و دستها بر تجهیزات کنترلی همچون پدالها، اهرمها و غریبک فرمان می باشد.

- ۱- معاینه فنی
- ۲- تنظیم آینه ها
- ۳- سلامت فنی
- ۴- تنظیم صندلی

۲۰ کدامیک جزو وظایف سیستم تعلیق نمی باشد؟

- ۱- کنترل قدرت و شتاب خودرو
- ۲- تأمین راحتی راننده
- ۳- حفظ تعادل و پایداری خودرو هنگام عبور از پستی یا بلندی ها
- ۴- ممانعت از واژگونی خودرو هنگام عبور از پیچها

۲۲ این صفات جزو کدام نوع از رانندگان می باشند: مانور و تغییر مسیر به طور مکرر، بوق زدنهای بیهوده و مکرر و عبور از خط مقابل برای رهایی از ترافیک.

- ۱- رانندگان مسن
- ۲- رانندگان پرخاشگر
- ۳- رانندگان جوان
- ۴- رانندگان بی تجربه

۲۱ در خصوص آتش سوزی خودرو انجام کدامیک از موارد زیر صحیح تر می باشد؟

- ۱- در هنگام آتش سوزی خودرو باید ابتدا از شعله دور شدن موتور خودرو جلوگیری بعمل آورد.
- ۲- در هنگام آتش سوزی خودرو باید ابتدا قسمتهای داخلی خودرو را خاموش نمود.
- ۳- در صورت وجود کپسول آتش نشانی با استفاده از آن آتش را خاموش نموده و در صورت عدم وجود کپسول آتش نشانی با پتو یا یک جسم غیرقابل اشتعال شعله را خفه کنید.
- ۴- احتمال انفجار خودرو در صورتی که شعله به داخل خودرو انتقال یابد زیاد است.



نامه راهنمایی و رانندگی

شماره نامه: (م)

زمان ۲۰ دقیقه

این نشانه‌ها هر کجای علائم بر روی برکه آزمون جدا خودداری فرمایید

۱۴

۲ عنوان این تابلو چیست؟




- ۱ - راه لغزنده
- ۲ - دست انداز
- ۳ - چاله
- ۴ - شانه خطرناک

۴ این تابلو بیانگر چیست؟



- ۱ - عبور کامیون با طول بیش از ۱۰ متر ممنوع
- ۲ - عبور با عرض بیش از ۱۰ متر ممنوع
- ۳ - عبور با بار بیش از ۱۰ تن بر هر محور ممنوع
- ۴ - خودرو طولی

۶ این تابلو بیانگر چیست؟



- ۱ - طول محدوده خطر
- ۲ - طول ممنوعیت با محدودیت پارکینگ
- ۳ - عبور کامیون با طول بیش از ۱۰ متر ممنوع
- ۴ - رعایت فاصله کمتر از ۱۰ متر ممنوع

۱ کدام تابلو بیانگر پایان منطقه توقف ممنوع می باشد؟



(۲)



(۱)



(۴)



(۳)

۳ این تابلو بیانگر چیست؟



- ۱ - بسته بودن یکی از خطوط عبور
- ۲ - تقاطع با راه آهن
- ۳ - تقاطع با راه آهن دو خطه
- ۴ - تقاطع راه آهن با راهبند

۵ این تابلو بیانگر چیست؟



- ۱ - فقط عبور پیاده
- ۲ - گذرگاه پیاده
- ۳ - فقط عبور دوچرخه و پیاده
- ۴ - عبور اطفال

۲۴ کدام یک به معنای راننده معلول است؟



(۲)



(۱)



(۴)



(۳)

۲۶ چرا قبل از سبقت گرفتن از یک کامیون طولی باید فاصله را با آن کاملاً حفظ کنید؟

- ۱ - زیرا برای سبقت گرفتن از کامیون طولی در پیچ‌ها باید شتاب کافی داشته باشید.
- ۲ - سبقت گرفتن از خودروهای طولی ممنوع است.
- ۳ - برای اینکه در نقطه کور قرار بگیرید.
- ۴ - برای اینکه از موقعیت جلوی کامیون اطلاع کافی داشته و در نقطه کور قرار نگیرید.

۲۸ مفهوم این تابلو چیست؟



- ۱ - مسیر کامیون حامل کالای خطرناک
- ۲ - عبور وسایل نقلیه باری آزاد است.
- ۳ - مسیر یک طرفه وسایل نقلیه باری
- ۴ - مسیر کامیون حامل کالای تجاری

۳۰ در این تقاطع، حق تقدم عبور به ترتیب با کدام خودروها می باشد؟



- ۱ - آبی، زرد، نارنجی و سبز
- ۲ - زرد، آبی، نارنجی و سبز
- ۳ - سبز، نارنجی، زرد، آبی
- ۴ - سبز، آبی، نارنجی، زرد

۲۳ این شکل چه چیزی را نشان می دهد؟



- ۱ - عدم رعایت سرعت مجاز
- ۲ - محدوده نقاط کور در خودروهای سنگین
- ۳ - عدم رعایت حق تقدم عبور
- ۴ - سطح روشنایی چراغ‌ها

۲۵ در صورت دیدن حرکت گله و رمه چگونه باید عمل نمود؟

- ۱ - رانندگان موظفند از سرعت خود کاسته و در صورت لزوم تا عبور احشام توقف نمایند.
- ۲ - باید به سرعت عبور نمود.
- ۳ - نباید توقف کرد.
- ۴ - باید با چراغ و بوق زدن، گله و رمه را متوجه نمود.

۲۷ کدامیک از تابلوهای زیر به معنای پایان سبقت ممنوع می باشد؟



(۲)



(۱)



(۴)



(۳)

۲۹ منظور از این چراغ چیست؟



- ۱ - در این حالت عبور مستقیم و گردش در جهت پیکان مجاز می باشد.
- ۲ - عبور مستقیم مجاز بوده ولی گردش به سمت پیکان غیر مجاز می باشد.
- ۳ - حرکت به صورت مستقیم ممنوع است.
- ۴ - صرفاً می توان به سمت راست حرکت نمود.

۷ کدام نوع از خطوط بارک در این شکل نشان داده شده است؟



۱ - مورب

۲ - افقی

۳ - عمودی

۴ - هیچ کدام

۸ منظور از وسیله نقلیه طویل چیست؟



۱ - وسیله نقلیه ای است که طول آن کمتر از ۲۲/۵ متر باشد.

۲ - وسیله نقلیه ای است که طول آن بیش از ۱۲/۵ متر باشد.

۳ - وسیله نقلیه ای است که طول آن بیش از ۱۸/۵ متر باشد.

۴ - هر نوع خودروی باربری

۹ مجموع مسافتی که در زمان واکنش طی می شود به علاوه مسافت ترمزها، چه نام دارد؟

۱ - مسافت ترمز

۲ - مسافت توقف

۳ - مسافت واکنش

۴ - مسافت اضطراری

۱۰ میزان سرعت مجاز و محدودیت سرعت در جاده ها و خیابان ها به چه صورت مشخص می شود؟

۱ - سرعت مجاز بسته به نوع خودرو و مدل آن قابل تغییر است.

۲ - با توجه به مواردی که GPS خودرو نشان می دهد.

۳ - با توجه به تابلوهای نصب شده و آیین نامه راهنمایی و رانندگی.

۴ - با توجه به دستور متصدی جاده ها مشخص می شود.

۱۱ کتیف بودن شیشه های خودرو به چه دلیل می تواند خطرناک باشد؟

۱ - باعث کاهش مقاومت شیشه در برخوردها می شود.

۲ - باعث کاهش دید می شود.

۳ - باعث خراب شدن برف پاک کن ها می شود.

۴ - تمام موارد

۱۲ کدام یک به مفهوم « ایست وسیله نقلیه برای هر مدت ممنوع » می باشد؟

۱ - ایستادن

۲ - ایستادن ممنوع

۳ - توقف

۴ - توقف ممنوع

۱۳ از کدام علامت آگاه سازی برای سبقت در نسب استفاده می شود؟

۱ - استفاده از بوق کوتاه

۲ - فقط تبدیل و تعویض نور چراغ بالا و پایین

۳ - تبدیل و تعویض نور چراغ بالا و پایین به همراه چراغ راهنما

۴ - استفاده از بوق بلند بطور متناوب

۱۴ سبقت از طرف راست وسیله نقلیه ای که در حال گردش به چپ می باشد

۱ - مجاز است

۲ - ممنوع است

۳ - در هنگام روز مجاز است

۴ - فقط در معابر شریانی درجه دو ممنوع است

۱۵ رانندگان وسایل نقلیه موظفند برای رویت کلیه اشیاء و اشخاص در جاده ها از چراغ استفاده نمایند.

۱ - چراغهای جانبی عقب

۲ - نور پایین

۳ - چراغهای جانبی جلو

۴ - نور بالا

۱۶ هدف از طراحی شانه راه در دو طرف خط های عبور و رفت و برگشت کدام است؟

۱ - ایستادن برای استراحت

۲ - خط کمکی برای تردد و افزایش ظرفیت

۳ - تغییر سرعت برای پیوست به جریان ترافیک

۴ - توقف اضطراری

۱۷ حداقل سرعت در آزادراه های درون شهری چند کیلومتر در ساعت است؟

۱ - ۵۰

۲ - ۶۰

۳ - ۷۰

۴ - ۴۰

۱۸ وظیفه کدام قطعه مانع از ورود گرد و غبار و دیگر ذرات معلق به داخل موتور می باشد؟

۱ - فیلتر روغن

۲ - فیلتر سوخت

۳ - فیلتر هوا

۴ - فن

۱۹ در این سه راه، حق تقدم عبور به ترتیب با کدام یک می باشد؟



۱ - ابتدا ۳ سپس ۱ و ۲ با هم

۲ - سه ترتیب ۱، ۲، ۳

۳ - سه ترتیب ۱، ۲، ۳

۴ - ابتدا ۱ و ۲ با هم سپس ۳

۲۰ سطح روغن موتور را با چه وسیله می توان کنترل نمود؟

۱ - فیلتر روغن

۲ - در مخزن روغن

۳ - سیم روغن (کیچ روغن)

۴ - پمپ روغن

۲۱ در خصوص احتیاط های لازم هنگام وقوع تصادفات انجام کدامیک از موارد زیر اشتباه است؟

۱ - روشن نگه داشتن خودرو حتی در صورتی که خودرو قابلیت حرکت ندارد

۲ - هشدار توسط افراد به دیگر رانندگان تا سرعت خودرو را کاهش دهند.

۳ - استفاده از تابلو اعلان خطر

۴ - تذکر جهت روشن نکردن سیگار در صورت آسیب باک سوخت خودروها

۲۲ علامت خستگی در رانندگی چیست؟

۱ - راندن خودرو با سرعت مطمئنه و رعایت قوانین و مقررات

۲ - کم شدن توجه به رانندگی و کاهش سرعت تصمیم گیری

۳ - نشاط و پر انرژی بودن در رانندگی

۴ - رانندگی ایمن و رعایت سرعت مجاز



نامه راهنمایی و رانندگی

سوم

زمان ۲۰ دقیقه

از گذاشتن هرگونه علامت بر روی برگه آزمون جدا خودداری فرمایید

۱۵



۲ عنوان این تابلو چیست؟

۱ - راننده معلول

۲ - معلولیت مطلق

۳ - راننده ناشنوا

۴ - جانبازان و معلولین

۱ کدام تابلو بیانگر مسیر کامیون حامل کالای خطرناک نمی باشد؟



(۲)



(۱)



(۴)



(۳)

۳ این تابلو بیانگر چیست؟



۱ - پیچ به چپ

۲ - تراکم ترافیک

۳ - میدان

۴ - جهت عبور در میدان

۴ این تابلو بیانگر چیست؟



۱ - بوق زدن ممنوع

۲ - بوق زدن در شب آزاد

۳ - تعمیرگاه

۴ - منطقه بوق زدن آزاد

۵ این تابلو بیانگر چیست؟



۱ - فقط عبور پیاده

۲ - تفرج گاه

۳ - گذرگاه پیاده

۴ - شروع محل پیاده روی

۶ این تابلو بیانگر چیست؟



۱ - تفرجگاه

۲ - پارکینگ

۳ - خطوط منقطع

۴ - تقاطع فرعی با اصلی در قوس

۲۴ خودروی نشان داده شده در این شکل مشغول انجام چه نوع پارکی است؟



۱ - پارک مورب

۲ - پارک عمودی

۳ - پارک دوبل

۴ - پارک مستقیم

۲۳ در چه فاصله ای از مراکز انش نشانی توقف وسیله نقلیه ممنوع است؟

۱ - ۴ متری

۲ - ۲۵ متری

۳ - ۱۵ متری

۴ - محدودیتی ندارد

۲۶ در این شکل (تقاطع هم عرضی) حق تقدم عبور با کدام خودرو می باشد؟



۱ - همزمان می توانند وارد یک مسیر شوند.

۲ - وسیله ای که در سمت راست وسیله دیگر قرار دارد.

۳ - وسیله ای که به سمت راست گردش می کند

۴ - وسیله ای که به سمت چپ گردش می کند.

۲۵ فردی که نوشابه الکلی یا مواد مخدر و داروهای خواب آور مصرف کرده در چه شرایطی می تواند رانندگی کند؟

۱ - تا زمانی که آثار آن باقی است. رانندگی ممنوع می باشد.

۲ - در صورت شرایط اضطراری می تواند رانندگی کند.

۳ - تا یک سال نباید رانندگی کند

۴ - موارد ۲ و ۳

۲۸ مفهوم چراغ سبز راهنمایی چیست؟



۱ - ایست کامل و سپس عبور

۲ - عبور یا گردش آزاد است مگر آنکه گردش نمودن توسط علائم دیگر ممنوع شده باشد

۳ - با مشاهده این چراغ رعایت حق تقدم وسایلی که مستقیم حرکت می کنند و یا عابرین پیاده الزامیست.

۴ - موارد ۲ و ۳ صحیح می باشند.

۲۷ مفهوم این تابلو چیست؟



۱ - ورود به راه اصلی از چپ

۲ - تقاطع

۳ - ورود به راه اصلی از راست

۴ - تقاطع فرعی و اصلی

۳۰ در امن کردن محل حادثه ترافیکی ، کدام مورد صحیح نمی باشد؟

۱ - مراقبت از سلامت خود

۲ - خاموش کردن وسیله نقلیه حادثه ساز

۳ - دور کردن مصدوم از محل حادثه

۴ - نجات دادن جان مصدوم گیر افتاده در آتش

۲۹ انجام کدام یک از اعمال زیر در خصوص زخمیهای صحنه تصادف نادرست است؟

۱ - دلجویی از آنها

۲ - گرم نگه داشتن آنها

۳ - ایجاد شرایطی که زخمیها تنها نمانند

۴ - دادن خوراکی به افراد زخمی



و رانندگی

موم

زمان ۳۰ دقیقه

تعداد: ۳۰ سؤال

از گذاشتن هر گونه علامت بر روی برگه آزمون جدا خودداری فرمایند

۱۶



۲ عنوان این تابلو چیست؟

- ۱- ریزش کوه
- ۲- پرتاب سنگ
- ۳- راه لغزنده
- ۴- ریزش سنگ

۱ کدام تابلو بیانگر فقط عبور دوچرخه می باشد؟



۴ این تابلو بیانگر چیست؟

- ۱- ایست بازرسی (کمرک)
- ۲- ورود ممنوع
- ۳- ورود از هر دو طرف ممنوع
- ۴- توقف ممنوع



۳ این تابلو بیانگر چیست؟

- ۱- تقاطع راه آهن با راهبند
- ۲- جهت وزش باد شدید از چپ
- ۳- جهت وزش باد شدید از راست
- ۴- تقاطع راه آهن بدون راهبند



۶ مفهوم این تابلو چیست؟

- ۱- مسیر ویژه اتوبوس شرکت واحد
- ۲- ایستگاه اتوبوس
- ۳- مسیر ویژه وسایل نقلیه سنگین
- ۴- مسیر قطار شهری



۵ این تابلو بیانگر چیست؟

- ۱- تلفن عمومی
- ۲- جایگاه سوخت
- ۳- تعمیرگاه
- ۴- استراحت گاه کاروان

۲۲ شماره های ۱۷ تا ۱۹ به ترتیب بیانگر چه قطعاتی هستند؟



- ۱- پدال های ترمز، کلاچ و گاز
- ۲- پدال های گاز، ترمز و کلاچ
- ۳- ترمز دستی، پدال گاز و پدال کلاچ
- ۴- دسته دنده، ترمز دستی و پدال گاز

۲۳ رانندگانی که قصد گردش یا توقف را دارند، باید از چه فاصله ای به وسیله چراغ راهنما علامت بدهند؟

- ۱- ۲۰۰ متری
- ۲- ۱۵۰ متری
- ۳- ۱۰۰ متری
- ۴- ۲۵۰ متری

۲۶ مفهوم چراغ زرد راهنمایی چیست؟



- ۱- با احتیاط می توان عبور کرد
- ۲- عبور کاملا آزاد است
- ۳- گردش به چپ آزاد است
- ۴- با مشاهده این چراغ رانندگان نباید به تقاطع یا گذرگاه عابر پیاده وارد شوند

۲۵ در چه شرایطی می توان با لاستیک های فرسوده رانندگی نمود؟

- ۱- در صورت خشک بودن راه مجاز است
- ۲- تحت هر شرایطی ممنوع است
- ۳- در راه های یخ زده و برفی ممنوع است
- ۴- موارد ۱ و ۳

۲۸ در این شکل حق تقدم عبور با کدام خودرو می باشد؟



- ۱- خودروی ۲
- ۲- بستگی به سرعت خودروها دارد
- ۳- خودروی ۱
- ۴- خودرویی که در مسیر مستقیم حرکت می کند

۲۷ ایستادن یا توقف وسایل نقلیه در کدام یک از محل های زیر ممنوع است؟

- ۱- پیاده رو و گذرگاه پیاده
- ۲- در فاصله ۱۵ متری میدان یا تقاطع یا سه راه ها یا تقاطع راه آهن
- ۳- از ابتدا تا انتهای پیچ ها
- ۴- تمام موارد

۳۰ مفهوم این تابلو چیست؟



- ۱- پیچ به راست
- ۲- دور زدن ممنوع
- ۳- پیچ به چپ
- ۴- گردش به چپ ممنوع

۲۹ مفهوم این تابلو چیست؟



- ۱- خطر در گردش به راست
- ۲- خطر در گردش به چپ
- ۳- پیچهای پی در پی، اولین پیچ به چپ
- ۴- پیچ های پی در پی، اولین پیچ به راست

۷ کدام نوع از خطوط پارک در این شکل نشان داده شده است؟

- ۱ - افقی
- ۲ - مورب
- ۳ - عمودی
- ۴ - پارک طبقاتی

۹ مسافتی که از زمان ترمز تا زمان توقف طی می شود چه نام دارد؟

- ۱ - مسافت واکنش
- ۲ - مسافت توقف
- ۳ - مسافت ترمز
- ۴ - مسافت اضطراری

۱۱ حداقل عمق نسیار تاپرها چند میلی متر باید باشد؟

- ۱ - ۲۰
- ۲ - ۱۵
- ۳ - ۱/۵
- ۴ - ۰/۵

۱۳ هرگاه وسیله نقلیه ای نسیب در کنار و بیرون سطح راه توقف نماید و نور گالی در آن محل برای تشخیص تشخیص از فاصله ۱۵۰ متری وجود نداشته باشد انجام کدام مورد زیر ضروری است؟

- ۱ - روشن نگهداشتن چراغهای کوچک جلو و خطر عقب وسیله نقلیه
- ۲ - روشن نمودن چراغهای بزرگ با نور بالا
- ۳ - نگهداشتن پدال ترمز برای روشن شدن چراغ ترمز
- ۴ - روشن نمودن راهنمای سمت راست خودرو

۸ مفهوم رنگ زرد در علائم عبور و مرور چیست؟

- ۱ - راهنمایی برای مناطق اداری و آموزشی و خدماتی
- ۲ - منع کننده یا ایست
- ۳ - هشدارهای عمومی و هشدار برای انجام عملیات ساختمانی و یا تعمیر و نگهداری
- ۴ - راهنما برای مناطق تفریحی و فرهنگی و گردشگری

۱۰ کدام یک از موارد زیر در خصوص حرکت با سرعت زیاد صحیح نمی باشد؟

- ۱ - صدمات و تلفات در تصادفات با سرعت زیاد بیشتر است.
- ۲ - در سرعتهای بالا زمان واکنش نسبت به خطرات بسیار افزایش می یابد.
- ۳ - احتمال گشته شدن در تصادفات با سرعتهای بالا بسیار زیاد است.
- ۴ - کنترل وسیله نقلیه در سرعتهای بالا بسیار سخت است.

۱۲ حداکثر میزان سرعت مجاز انواع سواری در بزرگراه های بیرون شهری چند کیلومتر در ساعت است؟

- ۱ - ۱۲۰
- ۲ - ۱۲۵
- ۳ - ۱۱۰
- ۴ - ۱۰۰

۱۴ از چند متری بیج ها سبقت گرفتن ممنوع است؟

- ۱ - ۳۰ متری
- ۲ - ۵۰ متری
- ۳ - ۴۰ متری
- ۴ - سبقت گرفتن در بیج ها محدودیت ندارد

۱۵ در راه های مسطح که دو طرف راه منتهی به کوه و پرتگاه می باشد حق تقدم با کدام وسیله کیست؟

- ۱ - آن که از سرعت بیشتری برخوردار است.
- ۲ - آن که در طرف کوه قرار دارد.
- ۳ - آن که در حال سبقت است.
- ۴ - آن که در طرف پرتگاه قرار دارد

۱۷ حداقل سرعت در آزاد راه های درون شهری چند کیلومتر در ساعت است؟

- ۱ - ۳۰ کیلومتر در ساعت
- ۲ - ۵۰ کیلومتر در ساعت
- ۳ - ۷۰ کیلومتر در ساعت
- ۴ - ۶۰ کیلومتر در ساعت

۱۹ در این تقاطع، حق تقدم عبور به ترتیب با کدام یک می باشد؟



- ۱ - آبی ، قهوه ای
- ۲ - قهوه ای ، آبی
- ۳ - هر سه خودرو با هم می توانند حرکت کنند.
- ۴ - فقط خودروی قهوه ای مجاز به حرکت می باشد.

۲۱ کمک های اولیه چیست؟

- ۱ - به اقدامات صورت گرفته توسط پرسنل ار در مرکز اورژانس گویند.
- ۲ - به اقدامات اولیه ای گویند که در درمانگاه یا مراکز اورژانس انجام می شود.
- ۳ - به اقدامات اولیه ای گویند که مصدوم را در محل حادثه از خطر مرگ نجات دهد.
- ۴ - به اقدامات اولیه ای گویند که بلافاصله در محل حادثه و قبل از رسیدن اورژانس کمک درمانی صورت می گیرد.

۱۶ منظور از طراحی خط ایست در ورودی تقاطع کدام است؟

- ۱ - حرکت عابران پیاده بر روی خط مورد نظر
- ۲ - مرز توقف وسایل نقلیه
- ۳ - اعلام خطر به کاربران ترافیک
- ۴ - رویت شبکه معابر هنگام تاریکی

۱۸ کدام یک جزو سیستم انتقال قدرت نمی باشد؟

- ۱ - کلاچ
- ۲ - میل لنگ
- ۳ - گیربکس
- ۴ - دیفرانسیل

۲۰ کدام گزینه درباره ضدیخ صحیح نمی باشد؟

- ۱ - ضدیخ در جلوگیری از زنگ زدگی رادیاتور و قطعات سیستم خنک کاری موثر است.
- ۲ - عدم استفاده از ضدیخ در تابستان می تواند منجر به جوش آوردن زودتر موتور شود.
- ۳ - بهتر است گل مخزن رادیاتور به جای آب از ضدیخ پر شود
- ۴ - مایع ضدیخ از یخ زدگی آب در سرما جلوگیری می کند.

۲۲ کدام گزینه نادرست است؟

- ۱ - خوردن غذاهای سنگین از عوامل خواب آلودگی در رانندگی است.
- ۲ - عدم درک مناسب از موقعیت و شرایط موجود از نشانه های خستگی در رانندگی است.
- ۳ - عواطف و احساسات بر سیستم اعصاب رانندگان تاثیر خاصی ندارد
- ۴ - یکی از نشانه های خستگی که عملکرد راننده را مختل می سازد مشروبات الکلی است.



نامه راهنمایی و رانندگی



زمان ۲۰ دقیقه

از گذاشتن هرگونه علامت بر روی برگه آزمون جدا خودداری فرمایید



۲ عنوان این تابلو چیست؟

- ۱ - پرتاب سنگ
- ۲ - ریزش سنگ
- ۳ - شانه خطرناک
- ۴ - عبور از آب

۱ کدام تابلو بیانگر حداکثر سرعت در خط های عبور است؟



۳ این تابلو بیانگر چیست؟



۴ این تابلو بیانگر چیست؟



- ۱ - توقف ممنوع
- ۲ - پایان سبقت ممنوع
- ۳ - پایان تمام محدودیتها
- ۴ - تقاطع با راه آهن

- ۱ - ایستادن ممنوع
- ۲ - ایست
- ۳ - توقف ممنوع
- ۴ - ورود ممنوع



۶ مفهوم این تابلو چیست؟



- ۱ - عبور با ارتفاع بیش از ۲ متر ممنوع
- ۲ - عبور با عرض بیش از ۲ متر ممنوع
- ۳ - عبور وسایل نقلیه با وزن بیش از ۲ تن ممنوع
- ۴ - عبور با بار بیش از ۲ تن بر هر محور ممنوع

۵ این تابلو بیانگر چیست؟

- ۱ - بن بست
- ۲ - بسته بودن یکی از خطوط عبور
- ۳ - سمت راست بن بست
- ۴ - خط عبور برای گریز

۲۴ شماره های ۱۷ تا ۱۹ به ترتیب بیانگر چه قطعاتی هستند؟



- ۱ - دسته دنده، ترمز دستی و پدال گاز
- ۲ - پدال های گاز، ترمز و کلاچ
- ۳ - ترمز دستی، پدال گاز و پدال کلاچ
- ۴ - پدال های ترمز، کلاچ و گاز

۲۲ این شکل چه موردی را هشدار می دهد؟



- ۱ - زلفی که شرایط جاده استاندارد نیست باید احتیاط نمود.
- ۲ - موتورسیکلت ها همیشه دارای حق تقدم هستند.
- ۳ - هنگام گردش باید مراقب بود فضای کافی برای موتورسواران احتمالی در نظر گرفت.
- ۴ - همواره از گردش به چپ خودداری نمایید.

۲۶ رانندگان با مشاهده چراغ فرمز چشمک زن در تقاطع باید چه عملی انجام دهند؟



- ۱ - کاملا توقف نموده و سپس با سرعت زیاد حرکت کنند.
- ۲ - از سرعت خود کاسته و با احتیاط عبور کنند.
- ۳ - عبور آزاد است ولی باید از سرعت کم از تقاطع عبور کنند.
- ۴ - قبل از ورود به تقاطع یا گذرگاه عابر پیاده توقف کرده و پس از اطمینان از عدم وجود خطر تصادف عبور کنند.

۲۵ در برخورد راه اصلی با راه فرعی حق تقدم با کیست؟

- ۱ - با وسیله ای است که از راه فرعی عبور می کند
- ۲ - تفاوتی ندارد
- ۳ - با وسیله ای که در مسیر مستقیم حرکت می کند
- ۴ - با وسیله ای است که از راه اصلی عبور می کند

۲۸ مفهوم این تابلو چیست؟



- ۱ - عبور دو طرفه
- ۲ - حق تقدم عبور با وسیله نقلیه مقابل است
- ۳ - عبور از هر دو طرف ممنوع
- ۴ - توقف در روزهای زوج ممنوع

۲۷ مفهوم این تابلو چیست؟



- ۱ - پارک سوار معلولین
- ۲ - راننده معلول
- ۳ - پارکینگ مخصوص افراد معلول
- ۴ - پارکینگ

۲۰ در ارائه کمک های اولیه اصل کلی بر این است که....

- ۱ - سریع به مصدومین کمک نمایید
- ۲ - سریع محل حادثه جمع آوری شود
- ۳ - در ارائه امداد روش کم خطر را به کار ببرید
- ۴ - مصدوم را سریع از داخل خودرو بیرون بکشید

۲۹ راننده ای که مرتکب تصادف منجر به جرح یا فوت می گردد چه وظیفه ای دارد؟

- ۱ - بلافاصله وسیله نقلیه را از محل تصادف خارج کند
- ۲ - بلافاصله وسیله نقلیه را در محل تصادف متوقف سازد
- ۳ - با نصب علائم هشدار دهنده، سایر رانندگان را از وقوع حادثه آگاه سازد
- ۴ - موارد ۲ و ۳ صحیح می باشد

۷ کدام نوع از خطوط بارک در این شکل نشان داده شده است؟



- ۱ - مورب
- ۲ - افقی
- ۳ - عمودی
- ۴ - هیچ کدام

۸ مفهوم رنگ آبی در علائم عبور و مرور چیست؟



- ۱ - راهنمای خدمات، حرکات مجاز، علائم اخباری و راهنمای مسیر در آزاد راه ها
- ۲ - منع کننده یا ایست
- ۳ - راهنما برای مناطق اداری و آموزشی و خدماتی
- ۴ - راهنما برای مناطق تفریحی و فرهنگی و گردشگری

۹ از زمانی که راننده تشخیص می دهد نیاز به توقف دارد تا لحظه به کارگرفتن ترمزها چه نام دارد؟

- ۱ - زمان ترمز
- ۲ - مسافت توقف
- ۳ - مسافت ترمز
- ۴ - زمان واکنش

۱۰ چگونه می توان نقاط کور را در رانندگی کاهش داد؟

- ۱ - کاهش ارتفاع خودرو با دستکاری در سیستم تعلیق
- ۲ - با تنظیم دقیق آینه ها
- ۳ - کم کردن سرعت خودرو
- ۴ - حذف آینه وسط

۱۱ از بوی به چه منظوری استفاده می شود؟

- ۱ - در مراسم های شادی
- ۲ - برای اظهار به راننده جلویی
- ۳ - برای آگاه سازی سایر کاربران راه و جلوگیری از بروز سانحه و خطر
- ۴ - تمام موارد

۱۲ منظور از ایست وسیله نقلیه در زمان کوتاه کدام است؟

- ۱ - ایستادن
- ۲ - ایستادن ممنوع
- ۳ - ایست وسیله نقلیه برای هرمدت ممنوع
- ۴ - ایست وسیله نقلیه در زمان طولانی

۱۳ برای گاستن سرعت هنگامی که وسیله نقلیه فاقد چراغ راهنما باشد باید

- ۱ - دست راست را به طرف پایین نگهداشت
- ۲ - دست چپ را به طرف بالا نگهداشت
- ۳ - دست چپ را به طور افقی نگهداشت
- ۴ - دست چپ را به طور افقی از بالا به پایین حرکت داد

۱۴ در راه های بیرون شهر حداکثر سرعت در شب ها در جاده های فرعی چند کیلومتر در ساعت است؟

- ۱ - ۸۵
- ۲ - ۹۵
- ۳ - ۶۵
- ۴ - ۷۵

۱۵ در راه های کوهستانی که در آن ها عبور از کنار وسایل نقلیه طرف مقابل غیرممکن و مشکل می باشد حق تقدم با وسیله نقلیه ای است که.....

- ۱ - در حال سبقت در سرازیری است
- ۲ - در جهت سرازیری در حرکت است
- ۳ - در جهت سربالایی در حرکت است
- ۴ - در جهت سرازیری و در مسیر مجاز در حرکت است

۱۶ رانندگانی که قصد گردش به راست یا به چپ را دارند مکلفند از چه فاصله ای به وسیله چراغ راهنما علامت بدهند؟

- ۱ - ۲۵۰ متری
- ۲ - ۱۵۰ متری
- ۳ - ۲۰۰ متری
- ۴ - ۱۰۰ متری

۱۷ در این شکل حق تقدم عبور به ترتیب با کدام خودرو ها می باشد؟



- ۱ - سبز ، زرد ، قرمز
- ۲ - قرمز ، زرد ، سبز
- ۳ - قرمز ، سبز ، زرد
- ۴ - زرد ، سبز ، قرمز

۱۸ در موتور خودروها برای تصفیه روغن از چه وسیله ای استفاده می شود؟

- ۱ - مخزن روغن
- ۲ - پمپ روغن
- ۳ - فیلتر روغن
- ۴ - صافی بنزین

۱۹ ترمز دستی معمولاً عمل می کند.

- ۱ - بر چرخهای جلو
- ۲ - بر چرخهای عقب
- ۳ - بر چرخهای سمت چپ
- ۴ - بر چرخهای سمت راست

۲۰ کدام یک از موارد زیر جزو سیستم اگزوز خودرو می باشد؟

- ۱ - فیلتر هوا
- ۲ - کاتالیست
- ۳ - نشانگر سوخت
- ۴ - فن

۲۱ کدامیک از موارد زیر در خصوص کمک های اولیه صحیح می باشد؟

- ۱ - کمکهای اولیه سبب کاهش چشعگیر مرگ و میر و تخفیف بیماری و آسیبهای مصدوم می شود.
- ۲ - کمکهای اولیه می تواند در محل حادثه یا در بیمارستان انجام شود.
- ۳ - انجام کمکهای اولیه حتماً باید توسط پزشکان صورت پذیرد.
- ۴ - کمکهای اولیه تاثیری در تخفیف بیماری و آسیبهای مجروح نداشته صرفاً جهت بالابردن روحیه بیمار صورت می گیرد.

۲۲ خودروهایی که دورشان خط کشیده شده دچار چه خطایی شده اند؟



- ۱ - سرعت غیرمجاز
- ۲ - عدم رانندگی بین خطوط
- ۳ - عبور از خط عابر پیاده
- ۴ - حرکت در معابر غیرمجاز

۷ خط کتبی عرسي نشان داده شده در این شکل نشان دهنده چه نوع خط کتبی می باشد؟



- ۱- خط عمود ایست
- ۲- خطوط توقف منقطع
- ۳- خط پیشی عبور پیاده
- ۴- خطوط شطرنجی

۸ مفهوم رنگ نارنجی در علائم عبور و مرور چیست؟



- ۱- راهنمای خدمات، حرکات مجاز، علائم اخباری و راهنمای مسیر در آزادراه ها
- ۲- راهنما برای مناطق اداری و آموزشی و خدماتی
- ۳- منع کننده یا ایست
- ۴- راهنما برای مناطق تفریحی و فرهنگی و گردشگری

۹ مدت زمانی که طول می کشد تا خودروی شما متوقف شود به چه عواملی بستگی دارد؟

- ۱- مسافت ترمز، ابعاد لاستیک، میزان دید
- ۲- طول خودرو، زمان واکنش، مسافت ترمز
- ۳- طول خودرو، سرعت خودرو، زمان واکنش
- ۴- زمان واکنش، مسافت ترمز، مسافت توقف

۱۰ در زمستان و در هنگام برف و کولاک چه مواردی درخصوص تایر خودرو باید رعایت شود؟

- ۱- باید از تایر یخ شکن یا زنجیر چرخ استفاده نمود
- ۲- باید باد لاستیکی را ۱/۵ برابر بیشتر کرد.
- ۳- باید باد لاستیکی را ۱/۵ برابر کمتر کرد.
- ۴- باید از تایرهایی با عمق عاج کمتر از ۱/۵ میلی متر استفاده کرد.

۱۱ مهمترین وسیله هشدار دهنده در خودرو چیست؟

- ۱- نوربالا
- ۲- چراغ نورپایین
- ۳- بوق
- ۴- چراغ های راهنما

۱۲ در آیین نامه راهنمایی و رانندگی منظور از سلب اعتبار قانونی گواهینامه رانندگی کدام است؟

- ۱- استرداد گواهینامه
- ۲- انقضا، گواهینامه
- ۳- توقیف گواهینامه
- ۴- ابطال گواهینامه

۱۳ هنگام توقف اگر وسیله نقلیه چراغ راهنما نداشته باشد باید _____

- ۱- دست چپ را به طور افقی نگهداشت
- ۲- دست راست را به طرف پایین نگهداشت
- ۳- دست چپ را به طرف پایین نگهداشت
- ۴- دست راست را به طور افقی نگهداشت

۱۴ در جاده های اصلی، حداکثر سرعت در روز چند کیلومتر در ساعت است؟

- ۱- ۸۵
- ۲- ۹۵
- ۳- ۷۰
- ۴- ۶۰

۱۵ در راه هایی که مسیر حرکت وسایل نقلیه به علت وجود موانع ثابت بسته و یا برای عبور از مسیر مجاز کافی نباشد حق تقدم با وسیله نقلیه ای است که _____

- ۱- مسیر عبور آنها باز و یا سهم عبور بیشتری دارای می باشد
- ۲- در طرف راست وسیله نقلیه قرار گرفته است
- ۳- در طرف مقابل در حال حرکت است.
- ۴- از سرعت بیشتری برخوردار باشد.

۱۷ در این شکل حق تقدم عبور با کدام خودروها می باشد؟



- ۱- خودروهای قرمز
- ۲- خودروی آبی
- ۳- خودرویی که از چپ به راست در حال حرکت است
- ۴- خودرویی که از راست به چپ در حال حرکت است

۱۹ ترمز سرویس (ترمز پایسی) مطابق با الزامات استانداردهای خودرویی باید بر _____ عمل کند.

- ۱- بر چرخهای محرک
- ۲- بر چرخ های جلو
- ۳- بر چرخهای عقب
- ۴- تمامی چرخها

۲۱ در انجام کمک های اولیه کدامیک از موارد زیر صحیح است؟

- ۱- در ارائه کمکهای اولیه باید روشی انتخاب شود که سریعتر جواب می دهد هرچند احتمال خطر در آن وجود داشته باشد.
- ۲- در ارائه کمکهای اولیه اصل بر این است که به سرعت بیمار را از محل حادثه دور نماییم.
- ۳- در ارائه کمکهای اولیه باید روشی انتخاب شود که موثرتر و مفیدتر از سایر روشها بوده و مندرجه ای به مصدوم وارد نکند.
- ۴- حین ارائه کمکهای اولیه اگر آرایش ندارید سریعتر کار خود را باید به اتمام رسانید.

۱۶ چراغ هایی که حضور وسیله نقلیه و عرض آن را از سمت جلو نشان می دهد کدام است؟

- ۱- چراغ های کوچک عقب
- ۲- چراغ جانبی عقب
- ۳- چراغ جانبی جلو
- ۴- چراغ توقف

۱۸ کدام یک جزو سیستم خشک کاری موتور نمی باشد؟

- ۱- رادیاتور
- ۲- میل لنگ
- ۳- ترموستات
- ۴- فن

۲۰ از _____ برای کنترل پدال کلاچ و از _____ برای کنترل پدالهای گاز و ترمز استفاده می شود.

- ۱- پای راست، پای چپ
- ۲- پای چپ، پای راست
- ۳- دست راست، پای چپ
- ۴- دست چپ، پای چپ

۲۲ راننده خودروی نشان داده شده در این شکل دچار چه خطایی شده است؟



- ۱- عدم رانندگی بین خطوط
- ۲- عدم رعایت فاصله طولی مناسب
- ۳- حرکت با سرعت زیاد
- ۴- سبقت غیرمجاز

توجه: راهنمایی و رانندگی

زمان ۲۰ دقیقه

از گذاشتن هرگونه علامت بر روی بوم بگم چون جدا خودداری فرمایید



۱ کدام تابلو بیانگر خط ویژه عبور می باشد؟

۲ عنوان این تابلو چیست؟

۱- بیج های پی در پی
۲- شانه خطرناک
۳- راه لغزنده
۴- راه از راست باریک می شود






۳ این تابلو بیانگر چیست؟

۱- ایست
۲- رعایت حق تقدم
۳- به تابلو رعایت حق تقدم نزدیک می شود
۴- خطر

۴ این تابلو بیانگر چیست؟

۱- دور زدن ممنوع
۲- گردش به چپ ممنوع
۳- پیچهای پی در پی
۴- پیچ به چپ




۵ این تابلو بیانگر چیست؟

۱- بن بست
۲- افزایش خطوط عبور
۳- بسته بودن یکی از خطوط عبور
۴- کاهش خطوط عبور

۶ مفهوم این تابلو چیست؟

۱- رعایت فاصله کمتر از ۷۰ متر ممنوع
۲- رعایت فاصله بیشتر از ۷۰ متر ممنوع
۳- سرعت بیشتر از ۷۰ کیلومتر در ساعت ممنوع
۴- سبقت تا ۷۰ متر ممنوع




۲۳ در این شکل حق تقدم عبور عبارتست از:

۱- زرد، سبز، خودروی امدادی
۲- خودروی امدادی، زرد، سبز
۳- خودروی امدادی، سبز، زرد
۴- سبز، زرد، خودروی امدادی

۲۴ کدام یک در مورد دسته دنده اشتباه است؟

۱- اهرم دسته دنده معمولاً در سمت راست راننده قرار دارد.
۲- گیربکس خودروهای سواری معمولاً ۵ حالت (۵ سرعته) می باشد.
۳- اهرم دنده به طور مستقیم با سیستم کلاچ در ارتباط می باشد.
۴- وقتی دنده در حالت خلاص باشد نیرویی به پشت چرخ های محرک منتقل نخواهد شد.




۲۵ با کسانی که در مدت ضبط گواهینامه مبادرت به رانندگی نمایند چه برخوردی می شود؟

۱- به مرجع قضایی معرفی و به مجازات مقرر برای رانندگی بدون گواهینامه محکوم می شوند.
۲- تا پایان عمر به آنها گواهینامه داده نخواهد شد.
۳- در صورتی که مرتکب خلاف نشوند، مشمول مجازات نمی شوند.
۴- باید هزینه سریعتر خود را به مراجع انتظامی معرفی کنند.

۲۶ رانندگان یا مشاهده چراغ قرمز چشمک زن در تقاطع باید چه عملی انجام دهند؟


۱- کاملاً توقف نموده و سپس با سرعت زیاد حرکت کنند.
۲- از سرعت خود کاسته و با احتیاط عبور کنند.
۳- عبور آزاد است ولی باید با سرعت بالا از تقاطع عبور کنند.
۴- قبل از ورود به تقاطع یا گذرگاه عابر پیاده توقف کرده و پس از اطمینان از عدم وجود خطر تصادف عبور کنند.



۲۷ مفهوم مستطیل برجسی در علامت عبور و مرور کدام است؟

۱- دستوری و خدمات
۲- رعایت حق تقدم
۳- دستوری و بازدارنده
۴- علامت راهنما

۲۸ تکیه نمودن و اویزان شدن اشخاص به وسایل نقلیه
۱- مجاز است
۲- با رعایت احتیاط مجاز است
۳- ممنوع است
۴- در صورت بی خطر بودن مجاز است



۲۹ کدام یک از عوامل مهم اتلاف سوخت و انرژی در خودروها محسوب می شود؟

۱- حرکت با سرعت مطمئنه
۲- عدم تنظیم موتور و احتراق ناقص در سیلندرها
۳- رانندگی در شب
۴- رانندگی در مناطق سردسیر

۳۰ کدامیک از تابلوهای زیر به مفهوم آن است که بیج هایی در جلو وجود دارد؟

۱- (1) (2) (3) (4)
۲- (1) (2) (3) (4)








بن نامه راهنمایی و رانندگی

گواهینامه رانندگی (موسم)

زمان ۲۰ دقیقه

از گذاشتن هرگونه علامت ممنوع است. در صورتی که آزمون جدا خودداری فرمایید.



۱ عنوان کدام تابلو راه یک طرفه می باشد؟



۲ عنوان این تابلو چیست؟



- ۱ - شانه خطرناک
- ۲ - راه لغزنده
- ۳ - پل متحرک
- ۴ - برآمدگی

۳ این تابلو بیانگر چیست؟



- ۱ - توقف ممنوع
- ۲ - سبقت ممنوع
- ۳ - عبور سواری ممنوع
- ۴ - عبور وسایل نقلیه موتوری ممنوع

۴ این تابلو بیانگر چیست؟




- ۱ - حق تقدم عبور با شما
- ۲ - حق تقدم عبور با وسیله نقلیه مقابل است
- ۳ - سبقت ممنوع
- ۴ - عبور کلیه وسائط نقلیه ممنوع

۵ این تابلو بیانگر چیست؟



- ۱ - سبقت برای کامیون ممنوع
- ۲ - خط ویژه عبور به جز کامیون
- ۳ - پایان سبقت ممنوع برای کامیون
- ۴ - مسیر توصیه شده برای وسایل سنگین

۶ کدامیک از تابلوهای زیر به معنای محدوده توقف ممنوع در طول شبانه روز می باشد؟

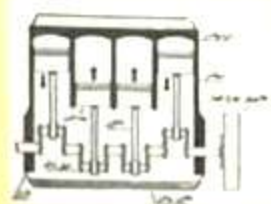


۲۳ این شکل بیانگر چه موضوعی است؟



- ۱ - جهت قرار گیری چرخ ها هنگام پارک در سرازیری دارای جدول
- ۲ - جهت قرار گیری چرخ ها هنگام پارک در سربالایی دارای جدول
- ۳ - نحوه حرکت دنده عقب در سربالایی
- ۴ - نحوه حرکت در سرازیری

۲۴ این شکل یک موتور چند سیلندر را نشان می دهد؟



- ۱ - ۸ سیلندر
- ۲ - ۳ سیلندر
- ۳ - ۴ سیلندر
- ۴ - ۶ سیلندر

۲۶ رانندگان با مشاهده چراغ چشمک زن زرد در تقاطع چه عملی باید انجام دهند؟



- ۱ - با احتیاط کامل و سرعت کم عبور نمایند.
- ۲ - با زدن بوق و با سرعت اولیه به حرکت خود ادامه دهند.
- ۳ - با سرعت بالا از تقاطع عبور نمایند.
- ۴ - تا رسیدن اورژانس یا پلیس صبر نمایند.

۲۵ با کسانی که در مدت ضبط گواهینامه مبادرت به رانندگی نمایند چه برخوردی می شود؟

- ۱ - در صورتی که مرتکب خلاف نشوند، مشمول مجازات نمی شوند.
- ۲ - تا پایان عمر به آنها گواهینامه داده نخواهد شد.
- ۳ - به مرجع قضایی معرفی و به مجازات مقرر برای رانندگی بدون گواهینامه محکوم می شوند.
- ۴ - باید هرچه سریعتر خود را به مراجع قضایی معرفی کنند.

۲۸ مفهوم این تابلو چیست؟



- ۱ - خطر در گردش به راست
- ۲ - خطر در گردش به چپ
- ۳ - پیچهای پی در پی، اولین پیچ به چپ
- ۴ - پیچ های پی در پی، اولین پیچ به راست

۲۷ در صورتیکه در وسط تقاطع چراغ راهنمایی زرد شود

- ۱ - توقف نموده بلافاصله گردش به راست نمایید.
- ۲ - توقف نموده و با دنده عقب به پشت چراغ راهنمایی برگردید.
- ۳ - در همان محل توقف نموده و اجازه عبور را به سایرین بدهید.
- ۴ - با احتیاط کامل و سرعت کم عبور نمایید

۲۰ حمل و نقل پایدار شهری نیازمند چیست؟

- ۱ - کنترل و کاهش آلودگی هوا
- ۲ - مدیریت ترافیک
- ۳ - موارد ۱ و ۲
- ۴ - ممانعت از تولید خودروهای سواری شخصی

۲۹ در این شکل حق تقدم عبور عبارتست از:



- ۱ - زرد، سبز، خودروی امدادی
- ۲ - خودروی امدادی، زرد، سبز
- ۳ - خودروی امدادی، سبز، زرد
- ۴ - سبز، زرد، خودروی امدادی

۷ خط کنسی عرضی نشان داده شده در این شکل نشان دهنده چیست؟



- ۱- خط توقف منقطع
- ۲- این خطوط معمولاً در تقاطع ها کشیده می شود و رانندگان باید قبل از آن توقف کامل نمایند.
- ۳- خط کنسی عبور پیاده
- ۴- رانندگان باید از سرعت خود کاسته و با احتیاط و رعایت حق تقدم وارد راه اصلی شوند.

۸ مفهوم شکل مثلث متساوی الاضلاع (نشسته روی یک راس) در علائم عبور و مرور چیست؟



- ۱- شروع و پایان حق تقدم مسیر
- ۲- صرفاً برای رعایت حق تقدم
- ۳- معمولاً برای اعلام راهنما
- ۴- علامت دستوری، بازدارنده

۹ کدامیک از موارد زیر در خصوص حرکت با دنده عقب صحیح است؟

- ۱- در حرکت به سمت عقب باید سریع حرکت کرده و از سرعت مخالف راننده گردش نمود.
- ۲- در حرکت با دنده عقب باید به آرامی حرکت نموده و از فردی که در کنار شما در خودرو است بخواهید به عقب نگاه کند.
- ۳- در حرکت با دنده عقب باید میدان دید عقب را کنترل نموده و به آرامی و با نگاه کردن به فضای پشت حرکت نمود.
- ۴- در حرکت به سمت عقب نیازی به نگاه کردن به پشت سر نبوده و صرفاً از طریق آینه ها می توان این کار را انجام داد.


۱۰ پر باد بودن تایر خودرو می تواند باعث بروز کدامیک از موارد زیر شود؟

- ۱- باعث افزایش مصرف سوخت در سرعت های زیر ۵۰ کیلومتر در ساعت می شود.
- ۲- فرمان پذیری خودرو را کاهش داده و باعث ایجاد خطر می گردد.
- ۳- باعث فرسایش تایر در سرعت های بالای ۵۰ کیلومتر خواهد بود.
- ۴- باعث سرخوردن لاستیک در حین ترمز در سرعت های زیر ۵۰ کیلومتر در ساعت می شود.

۱۱ کیف بودن شیشه چراغها منجر به چه می شود؟

- ۱- سوختن لامپ ها
- ۲- کاهش شدت روشنایی
- ۳- عدم کارکردن نور بالا
- ۴- از کار افتادن چراغ های راهنما

۱۲ کدام تابلو به مفهوم پارکینگ مخصوص افراد معلول می باشد؟



۱۴ در بزرگراه های بیرون شهری و مناطق غیرمسکونی، حداکثر سرعت برای انواع سواری چند کیلومتر در ساعت است؟

- ۱- ۱۲۰
- ۲- ۱۱۰
- ۳- ۱۲۵
- ۴- ۱۳۰

۱۵ در خیابان و بیا در تقاطعی که وسایل نقلیه روبروی یکدیگر حرکت می کنید هرگاه وسیله راننده بخواهد گردش به چپ بکند حق تقدم با وسیله ای نقلیه ایست که



- ۱- توقف نموده و با روشن نمودن راهنما قصد گردش به چپ را دارد.
- ۲- در طرف راست قرار دارد.
- ۳- راهنما خود را روشن نموده است.
- ۴- مستقیم و در مسیر مجاز حرکت می کند.

۱۶ هرگاه وسیله نقلیه موتوری در راه ها از کار بیفتد و به دلیل نور کافی نیاز به چراغ نباشد، راننده باید مثلث های سبزرنگ را در چه فاصله ای از طرف عقب و جلو وسیله نقلیه به نحوی که قابل دیدن باشد قرار دهد؟

- ۱- ۷۰ متری
- ۲- ۱۰۰ متری
- ۳- ۱۵۰ متری
- ۴- ۲۰۰ متری

۱۷ روی یدک و هرنوع وسیله نقلیه ای که وسیله نقلیه دیگر آن را می کشد باید

- ۱- پرچم قرمز به ابعاد حداقل ۱۰۰ سانتی متر
- ۲- پرچم قرمز به ابعاد ۵۰ سانتی متر
- ۳- پرچم سفید به ابعاد حداقل ۵۰ سانتی متر
- ۴- چراغ الکتریکی با نور قرمز

۱۸ وظایف روغن در موتور چیست؟

- ۱- روانکاری قطعات، کمک به خنک کاری
- ۲- خنک کاری قطعات
- ۳- صرفاً روان کاری قطعات
- ۴- جلوگیری از ورود گرد و غبار به موتور

۱۹ ترمز دستی به عنوان ترمز و ترمز پایسی به عنوان ترمز یا ترمز سرویس شناخته می شود.

- ۱- سرعتی قدرتی
- ۲- اولیه ثانویه
- ۳- قدرتی سرعتی
- ۴- ثانویه اولیه

۲۰ وظیفه کنیستر چیست؟

- ۱- از ورود بخارهای بنزین به فضای آزاد جلوگیری می کند.
- ۲- قدرت ترمزگیری را افزایش می دهد.
- ۳- فرمان پذیری خودرو را بهبود می بخشد.
- ۴- خرابی سیستم کیسه هوا را اعلام می کند.

۲۱ برای انجام کمک های اولیه اگر آرامش ندارید چه باید بکنید؟

- ۱- باید هرچه سریعتر صحنه را ترک نمایید.
- ۲- کشیدن چند نفس عمیق و آرام به شما کمک می کند تا آرامش خود را بدست آورده و به شرایط محیط تسلط یابید.
- ۳- باید سریعاً ارائه کمک های اولیه را به انعام رسانید.
- ۴- به مسدوم بگویند در حال حاضر آرامش ندارید و نمی توانید کاری برای او انجام دهید.

۲۲ کدام یک جزو الاینده های هوا نمی باشد؟

- ۱- مونواکسید کربن
- ۲- اکسیدهای نیتروژن
- ۳- اکسیژن
- ۴- ذرات معلق



ن نامه راهنمایی و رانندگی



زمان ۲۰ دقیقه

از گذاشتن هرگونه علامت بر روی برکه آرمون جدا خودداری فرمایید



۲ عنوان این تابلو چیست؟

- ۱ گذرگاه عابر پیاده
- ۲ عبور عابر پیاده
- ۳ عبور اطفال
- ۴ عبور پیاده ممنوع

۱ کدام تابلو به مفهوم پارکینگ مخصوص افراد معلول می باشد؟



۴ این تابلو بیانگر چیست؟



- ۱- توقف در روزهای فرد هفته ممنوع
- ۲- توقف در روزهای زوج هفته ممنوع
- ۳- ایستادن ممنوع
- ۴- منطقه توقف ممنوع

۳ این تابلو بیانگر چیست؟



- ۱- ورود ممنوع
- ۲- ورود از هر دو طرف ممنوع
- ۳- عبور کلیه وسائط نقلیه ممنوع
- ۴- پایان تمام محدودیتها

۵ این تابلو بیانگر چیست؟



- ۱- حداقل سرعت ۶۰ کیلومتر
- ۲- سرعت بیش از ۶۰ کیلومتر بر ساعت ممنوع
- ۳- سرعت توصیه شده
- ۴- رعایت فاصله کمتر از ۶۰ متر ممنوع

۶ کدامیک از تابلوهای زیر به معنای پارکینگ می باشد؟



۲۴ مبدل کاتالیستی جزو کدام یک از سیستمهای خودرویی است؟



- ۱- سیستم روغن کاری
- ۲- سیستم خنک کاری
- ۳- سیستم اگزوز
- ۴- سیستم سوخت رسانی

۲۳ وسیله نقلیه ای که در مسیر مجاز در حال حرکت است نسبت به وسیله نقلیه متوقفی که در حال شروع به حرکت به جلو می باشد ،
۱- حق تقدم عبور دارد

- ۲- حق تقدم عبور ندارد.
- ۳- در صورت داشتن سرعت، حق تقدم عبور دارد.
- ۴- در صورت زدن چراغ راهنما، حق تقدم عبور دارد.

۲۶ رانندگان با مشاهده چراغ چشمک زن زرد در تقاطع چه عملی باید انجام دهند؟



- ۱- با زدن بوق و با سرعت اولیه به حرکت خود ادامه دهند.
- ۲- با احتیاط کامل و سرعت کم عبور نمایند.
- ۳- در صورت ضرورت سریع عبور نمایند.
- ۴- با افزایش سرعت تقاطع را تخلیه نمایند.

۲۵ در چه شرایطی می توان شاسی خودرو را عوض نمود؟

- ۱- در هیچ شرایطی نمی توان عوض نمود.
- ۲- تعویض آن دلبخواه و بدون اشکال است.
- ۳- تنها با مجوز راهنمایی و رانندگی میتوان به این کار اقدام نمود.
- ۴- مجوز کارخانه سازنده برای این کار کافی است.

۲۸ در این تقاطع حق تقدم عبور به ترتیب با کدام یک می باشد؟



- ۱- قرمز، آبی، سبز
- ۲- سبز، آبی، قرمز
- ۳- آبی، قرمز، سبز
- ۴- قرمز، سبز، آبی

۲۷ مفهوم این تابلو چیست؟



- ۱- رعایت حق تقدم
- ۲- خطر
- ۳- خطر مه و کولاک
- ۴- به تابلوی رعایت حق تقدم نزدیک می شوید.

۲۹ در صورت مشاهده تابلو مقابل متظر چه چیزی باید بود؟



- ۱- گردش به چپ ممنوع
- ۲- پیچهای پی در پی (اولین پیچ به چپ)
- ۳- پیچ به چپ
- ۴- پیچ به راست

۳۰ مفهوم این تابلو چیست؟



- ۱- پل زیرگذر
- ۲- تونل
- ۳- اثر باستانی
- ۴- پایان تونل

۷ خطوط شطرنجی در وسط تقاطع نشان دهنده چیست؟



۱- مربوط به زمانی می شود که تراکم خودروها در یک تقاطع زیاد بوده و امکان تخلیه وجود نداشته باشد.
۲- عبور از روی این خطوط ممنوع است.

۳- رانندگان باید قبل از خطوط شطرنجی توقف و مسیر حرکت خودروهای دیگر را باز نگاه دارند.
۴- تمام موارد

۸ مفهوم شکل هشت گوشه مقابل در علائم عبور و مرور چیست؟



۱- شروع و پایان حق تقدم مسیر
۲- صرفاً برای رعایت حق تقدم

۳- تنها برای تابلوهای ایست (توقف)

۴- علامت دستوری، بازدارنده

۱۰ چرا شکسته و کثیف بودن شیشه های خودرو می تواند خطرناک باشد.

۱- چون باعث کاهش دید می شود.

۲- چون باعث کاهش انعکاس نور می شود.

۳- چون باعث افزایش انعکاس نور می شود.

۴- شکسته بودن و کثیف بودن شیشه ها خطر آفرین نمی باشد.

۱۲ مفهوم برجسب مقابل کدام است؟



۱- راننده معلول

۲- نابینای مطلق

۳- راننده ناشنوا

۴- راننده دارای نقص عضو

۱۱ کدام گزینه در مورد رانندگی ایمن درست است؟

۱- در بعضی موارد لازم است از حق خود چشم پوشی کنید.

۲- تحت هیچ شرایطی نباید از حق خود چشم پوشی کنید.

۳- در شرایط اضطراری می توان تابلو ورود ممنوع را نادیده گرفت.

۴- همیشه با سرعت بالا حرکت کنید تا زودتر به مقصد برسید.

۱۳ برای تغییر مسیر به سمت راست اگر وسیله نقلیه موتوری چراغ راهنما نداشته باشد باید

۱- دست چپ را به طرف بالا نگاهداشت

۲- دست راست را به طرف بالا نگاهداشت -

۳- دست چپ را به طور افقی نگاهداشت

۴- دست راست را به طور افقی نگاهداشت

۱۴ در معابر محلی و میادین شهرها، حداکثر سرعت چند کیلومتر در ساعت است؟

۱- ۶۵

۲- ۳۰

۳- ۵۵

۴- ۴۵

۱۵ در گذرگاه پیاده که چراغ راهنمایی و رانندگی وجود نداشته باشد حق تقدم عبور با

۱- پیادگان است

۲- وسیله نقلیه ای که در مسیر مجاز حرکت می نماید.

۳- وسیله نقلیه ای که از سرعت بالایی برخوردار است.

۴- وسیله نقلیه ای به طور مستقیم حرکت می کند.

۱۷ در صورت خرابی وسیله نقلیه و میسر نبودن انتقال آن به محل مناسب، چراغ الکتریکی را برای آگاه سازی دیگران باید در چه فاصله ای از وسیله نقلیه قرار دارد؟

۱- ۷۰ متری

۲- ۲۰۰ متری

۳- ۱۵۰ متری

۴- ۱۰۰ متری

۱۹ هدف از، تسلط کامل باها و دستها بر تجهیزات کنترلی همچون پلاکها، اهرمها و غریبک فرمان می باشد.

۱- معاینه فنی

۲- تنظیم آینه ها

۳- سلامت فنی

۴- تنظیم صندلی

۲۱ کدامیک از موارد زیر در خصوص ایمن کردن صحنه حادثه صحیح تر می باشد؟

۱- پارک خودرو در فاصله مناسب، استفاده از تابلو اعلان خطر، مطمئن شدن از اینکه خطری شما را تهدید نمی کند.

۲- پارک خودرو در محل حادثه، کشیدن چند نفس عمیق و آرام، استفاده از تابلو اعلان خطر.

۳- استفاده از تابلو اعلان خطر، گرفتن شرح حال از مصدومین، بیرون کشیدن سریع مصدومین از داخل خودرو.

۴- پارک سریع خودرو در محل حادثه، بررسی وضعیت بیماری مصدومین، دور کردن مصدوم از صحنه حادثه

۱۶ کدام یک به معنای « توقف وسیله نقلیه ممنوع جز برای سوار و پیاده کردن مشروط به استقرار راننده در پشت فرمان » است؟

۱- توقف

۲- ایستادن ممنوع

۳- توقف مطلقاً ممنوع

۴- توقف ممنوع

۱۸ وظیفه قطع و وصل کردن مدار آب از موتور به رادیاتور بر عهده کدام قطعه می باشد؟

۱- پمپ روغن

۲- کلاچ

۳- ترموستات

۴- دیفرانسیل

۲۰ عمر مفید کمپرسور جقدر است؟

۱- حدود ۲۰۰ هزار کیلومتر

۲- حدود ۴۰۰ هزار کیلومتر

۳- حدود ۲ سال

۴- حدود ۱۰ سال

۲۲ بزرگترین منبع آلودگی هوا چیست؟

۱- کارگاه ها

۲- خودرو

۳- وسایل گازسوز خانگی

۴- پالایشگاه ها



(کوتاهانه رانندگی پایه سوم)

۱۲۷۳۲۷

زمان ۳۰ دقیقه

امتحان: ۳۰ سوال

در کشفیات هر نوع حادثات و بروز آن بر روی جاده‌ها باید توجه ویژه فرمایید

۱ گسیام لالیسو بیانگسر حد اکثر سرعت در خط های عبور است؟



- ۱- یورتات سنگ
- ۲- ریترش سنگ
- ۳- شانه خطرناک
- ۴- عبور از آب



(۲)



(۴)



۲ این تابلو بیانگر چیست؟




- ۱- توقف ممنوع
- ۲- پایان سرعت ممنوع
- ۳- پایان تمام محدودیتها
- ۴- تقاطع با راه آهن



- ۱- ایستادن ممنوع
- ۲- ایست
- ۳- توقف ممنوع
- ۴- ورود ممنوع

۵ این تابلو بیانگر چیست؟



- ۱- عبور با ارتفاع بیش از ۲ متر ممنوع
- ۲- عبور با عرض بیش از ۲ متر ممنوع
- ۳- عبور وسایل نقلیه با وزن بیش از ۲ تن ممنوع
- ۴- عبور با بار بیش از ۲ تن بر هر محور ممنوع

- ۱- بن بست
- ۲- بسته بودن یکی از خطوط عبور
- ۳- نهفت راست بن بست
- ۴- خط عبور برای گریز



- ۱- دسته دنده، ترمز دستی و پدال گاز
- ۲- پدال های گاز، ترمز و کلاچ
- ۳- ترمز دستی، پدال گاز و پدال کلاچ
- ۴- پدال های ترمز، کلاچ و گاز



- ۲۶ رانندگان با مشاهده چراغ قرمز چسبک زن در تقاطع باید چه عملی انجام دهند؟
- ۱- کاملاً توقف نموده و سپس با سرعت زیاد حرکت کنند.
- ۲- از سرعت خود کاسته و با احتیاط عبور کنند.
- ۳- عبور آزاد است ولی باید از سرعت کم از تقاطع عبور کنند.
- ۴- قبل از ورود به تقاطع با گذرگاه عابر پیاده توقف کرده و پس از اطمینان از عدم وجود خطر تصادف عبور کنند.



- ۲۸ مفهوم این تابلو چیست؟
- ۱- عبور دو طرفه
- ۲- حق تقدم عبور یا وسیله نقلیه مقابل است
- ۳- عبور از هر دو طرف ممنوع
- ۴- توقف در روز های زوج ممنوع



- ۱- زنجیر که در اطراف جاده بسته شده است نیست باید احتیاط نمود.
- ۲- عبور سنگت ها همیشه دارای حق تقدم هستند.
- ۳- هنگام گردش باید مراقب بود عملی کافی برای عبور سواران احتمالی در نظر گرفت.
- ۴- همواره از گردش به چپ خودداری نماید.

- ۲۵ در برخورد راه اصلی با راه فرعی حق تقدم با کیست؟
- ۱- با وسیله ای است که از راه فرعی عبور می کند
- ۲- تقابلی ندارد
- ۳- با وسیله ای که در مسیر مستقیم حرکت می کند
- ۴- با وسیله ای است که از راه اصلی عبور می کند



- ۲۷ مفهوم این تابلو چیست؟
- ۱- پارک سوار معلولین
- ۲- راننده معلول
- ۳- پارکینگ مخصوص افراد معلول
- ۴- پارکینگ

۲۹ راننده ای که مرتکب تصادف منجر به جرح یا فوت می گردد چه وظیفه ای دارد؟

- ۱- بلافاصله وسیله نقلیه را از محل تصادف خارج کند
- ۲- بلافاصله وسیله نقلیه را در محل تصادف متوقف سازد
- ۳- با نصب علائم ایمنی هشدار دهنده سایر رانندگان از وقوع حادثه آگاه سازد
- ۴- مصدوم را سریع از داخل خودرو بیرون بکشید



آزمون آیین نامه راهنمایی و رانندگی

(کتابخانه رانندگی پایه سوم)

مدت: ۳۰ سوال

سازمان آزمون: ۲۰۹

زبان: ۳۰ دقیقه

از کتابخانه مرکزی پلیس راهور جمهوری اسلامی ایران



۱. کدام تابلو ممنوعیت عبور وسایل نقلیه عمومی را بیان می کند؟

- ۱ - بل صحرانگ
- ۲ - سرازیری خطرناک
- ۳ - سربالایی خطرناک
- ۴ - شیب سرازیری



۲



۱



۳



۳

۲. این تابلویاتگر چیست؟



- ۱ - عبور خودروی کشاورزی ممنوع
- ۲ - عبور گاری ممنوع
- ۳ - عبور تریلر ممنوع
- ۴ - عبور یا ممنوعه خطرناک ممنوع



۳. این تابلویاتگر چیست؟

در تریله مشغول به کار بودن کارگران هشدار می دهد

- ۱ - احتمال ریزش سنگ را مطرح می کند.
- ۲ - نزدیک بودن یک توش را هشدار می دهد.
- ۳ - خطر برخورد با تایلر پیاده را مطرح می کند.
- ۴ - خطر برخورد با تایلر پیاده را مطرح می کند.

۴. این تابلویاتگر چیست؟



- ۱ - حداقل سرعت در خط عبور
- ۲ - حداقل سرعت
- ۳ - سرعت توصیه شده
- ۴ - فاصله از نصب تابلو



۵. این تابلویاتگر چیست؟

- ۱ - محدوده توقف ممنوع در طول شبانه روز
- ۲ - پارکینگ
- ۳ - پارک سوار
- ۴ - محدوده پارک آزاد



۲۲. مفهوم این تابلو چیست؟

- ۱ - حداقل سرعت در خط های عبور
- ۲ - حداقل سرعت در خط های عبور
- ۳ - حداقل سرعت توصیه شده
- ۴ - سرعت بیش از حد کیلومتر در ساعت ممنوع

۲۳. این شکل بیانگر چه موضوعی است؟



- ۱ - جهت قرارگیری تریلرهای سنگین
- ۲ - جهت قرارگیری تریلرهای سنگین
- ۳ - جهت قرارگیری تریلرهای سنگین
- ۴ - جهت قرارگیری تریلرهای سنگین

۲۴. درباره محل پارک خودرو کدام گویا غلط است؟

- ۱ - پارک کردن در خطوط شطرنجی داخل تقاطع ممنوع است
- ۲ - پارک کردن در ترسیم تقاطعها و گذرگاههای غیر پیاده ممنوع است
- ۳ - در جایی باید پارک شود که مانع سایر استفاده کنندگان از راه نشد
- ۴ - پارک کردن ممنوع در ب ورودی سازه‌های و منازل مجاز است

۲۵. در این تقاطع حق تقدم عبور به ترتیب با کدام یک می باشد؟



- ۱ - قرمز، زرد، آبی
- ۲ - زرد، آبی، قرمز
- ۳ - قرمز، آبی، زرد
- ۴ - آبی، زرد، قرمز

۲۸. در این تصویر عمده ترین خطری که راننده الوتیل پشت سر به آن مواجه خواهد بود کدام است؟



- ۱ - ممکن است دوچرخه سوار بفرزند و باسد
- ۲ - ممکن است دوچرخه سوار ناگهان متوقف شود
- ۳ - ممکن است دوچرخه سوار ناگهان به سمت راست بگردد و پیاده شود
- ۴ - ممکن است دوچرخه سوار بر سرعت خود بیفزاید

۲۷. کدام مورد از انواع آلودگی سهم زیادی از آلودگی ترافیک شهری را تشکیل می دهد؟

- ۱ - آلودگی هوا ناشی از کارخانجات
- ۲ - آلودگی هوا ناشی از منابع خانگی
- ۳ - آلودگی شنیداری
- ۴ - آلودگی هوا ناشی از وسایل نقلیه موتوری

۳۰. وظیفه تولید برق در خودرو بر عهده کدام قطعه است؟

- ۱ - سیستم تعلیق
- ۲ - تسمه پمپ
- ۳ - دینام
- ۴ - فن

۲۹. راننده ای که مرکب تصادف منحصر به جرح یا فوت می گردد چه وظیفه ای دارد؟

- ۱ - بلافاصله وسیله نقلیه را از محل تصادف خارج کند
- ۲ - بلافاصله وسیله نقلیه را در محل تصادف متوقف سازد
- ۳ - با نصب علائم ایمنی هشدار دهنده، سایر رانندگان را از وقوع حادثه آگاه سازد
- ۴ - موارد ۲ و ۳ صحیح می باشد



از چگونگی آیین نامه راهنمایی و رانندگی
 شماره ۴۴۷۳۸ (کمیته راهنمایی و رانندگی) به سوالات

تعداد: ۴۰ سوال
 زمان: ۴۰ دقیقه

در پاسخ هر گزینه فقط یک گزینه صحیح است

۱ کدام تابلو یا تابلو خط ویژه معنی می‌بخشد؟



۲ عنوان این تابلو چیست؟

۱- بیخ هتلی است


۲- شانه فرسنگ

۳- راه فرزند

۴- راه از راست باریک می‌شود



۱۲



۱۴

۲ این تابلو یا تابلو چیست؟

۱- ایست

۲- رعایت حق تقدم

۳- به تابلو رعایت حق تقدم نزدیک می‌شود

۴- خطر



۴ این تابلو یا تابلو چیست؟

۱- دور زدن ممنوع

۲- گردش به چپ ممنوع

۳- بینهای تین در این

۴- بیخ به چپ



۵ این تابلو یا تابلو چیست؟

۱- بن بست

۲- افزایش خطوط عبور

۳- بسته بودن یکی از خطوط عبور

۴- کاهش خطوط عبور



۶ مفهوم این تابلو چیست؟

۱- رعایت فاصله کمتر از ۷۰ متر ممنوع

۲- رعایت فاصله بیشتر از ۷۰ متر ممنوع

۳- سرعت بیشتر از ۷۰ کیلومتر در ساعت ممنوع

۴- سرعت تا ۷۰ متر ممنوع



۲۳ در این شکل حق تقدم عبور از کجاست؟



۱- ورودی سمت چپ

۲- ورودی سمت راست

۳- ورودی از سمت راست

۴- ورودی از سمت چپ



۲۴ کدام یک از موارد زیر صحیح است؟

۱- هر چه در جاده باشد باید در راست راست رانندگی قرار گیرد

۲- در جاده‌های دوطرفه عبور ممنوع است

۳- هر چه در جاده باشد باید در راست راست رانندگی قرار گیرد

۴- در جاده‌های دوطرفه عبور ممنوع است

۲۵ با کسانی که در مدت ضبط نمی‌توانید به راحتی با آنها صحبت کنید؟

۱- سرنشینان خودروهای عمومی و وسایل نقلیه موتوری

۲- سرنشینان خودروهای شخصی و وسایل نقلیه موتوری

۳- سرنشینان خودروهای عمومی و وسایل نقلیه موتوری

۴- سرنشینان خودروهای شخصی و وسایل نقلیه موتوری



۲۶ راننده‌ای که در حال عبور از چراغ راهنمایی است

۱- باید در تمام حالت‌ها در راست راست رانندگی قرار گیرد

۲- باید در تمام حالت‌ها در راست راست رانندگی قرار گیرد

۳- باید در تمام حالت‌ها در راست راست رانندگی قرار گیرد

۴- باید در تمام حالت‌ها در راست راست رانندگی قرار گیرد

۲۷ مفهوم مستطیل برجسی در علائم عبور و مرور کدام است؟



۱- دستور و تدبیر

۲- رعایت حق تقدم

۳- دستوری و بازدارنده

۴- اعلام راهنما

۲۸ تکیه استخوان و اویزان شدن استخوان به وسایل نقلیه

۱- مجاز است

۲- با رعایت احتیاط مجاز است

۳- ممنوع است

۴- در صورت بی خطر بودن مجاز است

۲۹ کدام یک از عوامل مهم اتلاف سوخت و انرژی در خودروها محسوب می‌شود؟



۱- حرکت با سرعت کم



۲- عدم تنظیم موتور و احتراق ناقص در سیلندرها

۳- رانندگی در شب

۴- رانندگی در مناطق سردسیر



۳۰ کدامیک از تابلوهای زیر به مفهوم آن است که بیخ‌هایی در جلو وجود دارد؟



۱- بن بست

۲- افزایش خطوط عبور

۳- بسته بودن یکی از خطوط عبور

۴- کاهش خطوط عبور



آزمون آیین نامه راهنمایین و رانندگی

۱۳۴۳ (کواشانه رانندگی پایه سوم)

زمان ۲۰ دقیقه



شماره آزمون ۲۰۲

نماده: ۳۰ سوال

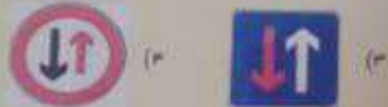


از کلماتین هرگونه علامت در روی تابلوکه آزمون آیین نامه راهنمایین فرماید

۲ عنوان کدام تابلو راهنمای مسیر می باشد؟



۱ کدام تابلو درباره حق تقدم عبور می باشد؟



۴ این تابلو بیانگر چیست؟



- ۱ - سرعت بیش از ۷۰ کیلومتر بر ساعت ممنوع
- ۲ - رعایت فاصله بیشتر از ۷۰ متر ممنوع
- ۳ - رعایت فاصله کمتر از ۷۰ متر ممنوع
- ۴ - سرعت کمتر از ۷۰ کیلومتر بر ساعت ممنوع

۳ عنوان این تابلو چیست؟



- ۱ - عبور دوچرخه ممنوع
- ۲ - عبور دوچرخه سوار
- ۳ - فقط عبور دوچرخه
- ۴ - عبور موتورگازی ممنوع

۶ این تابلو بیانگر چیست؟



- ۱ - تقاطع جاده و راه آهن در ۱۰۰ متری
- ۲ - خروجی از آزادراه ۱۰۰ متر
- ۳ - تقاطع جاده و راه آهن در ۲۰۰ متری
- ۴ - خروجی از آزادراه ۲۰۰ متر

۵ این تابلو بیانگر چیست؟



- ۱ - عبور فقط با زنجیر چرخ
- ۲ - استفاده از زنجیر چرخ
- ۳ - در مواقع برف و یخبندان
- ۴ - استفاده از زنجیر چرخ

۲۳ این شکل چه چیزی را نشان می دهد؟



- ۱ - نمایش سطح روشنایی خودروها
- ۲ - استفاده از نور پهن
- ۳ - توجه به جلو در حین رانندگی با روشن نمودن چراغ ها
- ۴ - استفاده از نور پهن در فواصل کمتر از ۱۵۰ متر با خودروی جلویی

۲۵ دور زن از چند متری بیج ها ممنوع است؟

- ۱ - ۵۰۰ متری
- ۲ - ۲۰۰ متری
- ۳ - ۲۵۰ متری
- ۴ - ۱۵۰ متری

۲۴ کاربرد روش ۲ ثانیه زمان در کجاست؟

- ۱ - تعیین مسافت خودرو در حال حرکت با وسیله نقلیه جلویی
- ۲ - بررسی آثار ناشی از تصادف
- ۳ - تست صحت کار موتور خودرو
- ۴ - محاسبه زمان چراغ راهنمایی در سر چهارراهها

۲۶ حداقل میزان سرعت مجاز گلبه وسایل نقلیه در آزاد راههای بدون شهری می باشد.

- ۱ - ۱۱۰ کیلومتر بر ساعت
- ۲ - ۷۰ کیلومتر بر ساعت
- ۳ - ۸۵ کیلومتر بر ساعت
- ۴ - ۹۵ کیلومتر بر ساعت

۲۸ در بحث مفهوم رنگ ها و علائم عبور و مرور، مفهوم کدام رنگ به معنی حرکات مجاز می باشد؟



۲۷ از زمانی که راننده تشخیص می دهد نیاز به توقف و ایستادن دارد تا لحظه بکارگیری ترمزها چه نامیده می شود؟

- ۱ - زمان واکنش
- ۲ - زمان توقف
- ۳ - زمان هوشیاری
- ۴ - زمان حیاتی

۳۰ کدام مورد زیر از رفتارهای رانندگان پرخطر و پرخطر می باشد؟

- ۱ - تغییر مسیر یا زدن چراغ راهنما
- ۲ - استفاده از نور بالا در محل های مجاز
- ۳ - عبور از خط مقابل برای رهایی از ترافیک
- ۴ - رعایت سرعت مطمئنه و رانندگی بین خطوط

۲۹ مفهوم چراغ سبز راهنمای چیست؟



- ۱ - ایست کامل و سپس عبور
- ۲ - عبور یا گردش آزاد است مگر آنکه گردش نمودن توسط علائم دیگر ممنوع شده باشد.
- ۳ - عبور سریع از تقاطع با افزایش سرعت.
- ۴ - توقف پشت تابلو ایست در تقاطع.



آزمون آیین نامه راهنمایی و رانندگی
۱۳۳۷۹ (کتابخانه رانندگی پایه سوم)

تعداد: ۳۰ سوال شماره آزمون: ۳۱۹ زمان: ۳۰ دقیقه

از کتابخانه وزارت راه و ترابری ایران تهیه شده است. آزمون جدید از تاریخ ۱۳۹۸/۰۱/۰۱



۲. عنوان این تابلو چیست؟


۱- شانه خطرناک

۲- راه لغزنده

۳- پل متحرک

۴- برآمدگی

۱. عنوان کدام تابلو راه یک طرفه می باشد؟



۲. این تابلو بیانگر چیست؟

۱- حق تقدم عبور با شما

۲- حق تقدم عبور با وسیله نقلیه مقابل است

۳- سبقت ممنوع

۴- عبور کلیه وسائط نقلیه ممنوع



۲. این تابلو بیانگر چیست؟

۱- توقف ممنوع

۲- سبقت ممنوع

۳- عبور سواری ممنوع

۴- عبور وسایل نقلیه موتوری ممنوع

۶. کدامیک از تابلوهای زیر به معنای محدوده توقف ممنوع در طول شبانه روز می باشد؟



۵. این تابلو بیانگر چیست؟

۱- سبقت برای کامیون ممنوع

۲- خط ویژه عبور به جز کامیون

۳- پایان سبقت ممنوع برای کامیون

۴- مسیر توصیه شده برای وسایل سنگین

۲۲. این شکل بیانگر چه موضوعی است؟



۱- ۸ سیلندر

۲- ۳ سیلندر

۳- ۶ سیلندر

۴- ۵ سیلندر

۲۳. این شکل بیانگر چه موضوعی است؟



۱- جهت قرار گیری جرح ها هنگام برگ در سوراخهای دام آبی جدول

۲- جهت قرار گیری جرح ها هنگام بارش در سوراخهای دام آبی جدول

۳- نحوه حرکت دنده عقب در سوراخهای

۴- نحوه حرکت در سوراخهای



۲۶. رانندگان بنا مشاهده چراغ چشمک زدن در نقاط چه عملی باید انجام دهند؟

۱- با آمیخته کامل و سرعت کم عبور نمایند

۲- با زدن بوق و با سرعت اولیه به حرکت خود ادامه دهند

۳- با سرعت بالا از نقاط عبور نمایند

۴- تا رسیدن اورژانس یا پلیس صبر نمایند



۲۸. مفهوم این تابلو چیست؟

۱- خطر در گردش به راست

۲- خطر در گردش به چپ

۳- پیچهای یخ در پی، اولین پیچ به چپ

۴- پیچ های یخ در پی، اولین پیچ به راست

۲۰. حمل و نقل بایدار شهری تیارند چیست؟

۱- کنترل و کاهش آلودگی هوا

۲- مدیریت ترافیک

۳- موارد ۱ و ۲

۴- ممنوعیت از تولید خودروهای سواری شخصی



۱- زرد، سبز، خودروی امدادی

۲- خودروی امدادی، زرد، سبز

۳- خودروی امدادی، سبز، زرد

۴- سبز، زرد، خودروی امدادی

۲۹. در این شکل حق تقدم عبور عبارتست از:

۱- زرد، سبز، خودروی امدادی

۲- خودروی امدادی، زرد، سبز

۳- خودروی امدادی، سبز، زرد

۴- سبز، زرد، خودروی امدادی



آزمون آیین نامه راهنمایی و رانندگی

۱۳۴۷ (کودنامه راهنمایی پایه سوم)

انبارداری ۳۰ سوال | شماره آزمون ۲۱۲ | زمان ۲۰ دقیقه

از کلماتی هر کلمه یکبار در روی برگه آزمون جدا خودداری فرمایید

پاسخ صحیح



۱ عنوان این تابلو چیست؟

- ۱ - راه بزرگ
- ۲ - دست انداز
- ۳ - چاله
- ۴ - شانه خطرناک

۲ کدام تابلو بیانگر پایان منطقه توقف ممنوع می باشد؟

- ۱ -
- ۲ -
- ۳ -
- ۴ -

۳ این تابلو بیانگر چیست؟



- ۱ - عبور کامیون با طول بیش از ۱۰ متر ممنوع
- ۲ - عبور یا عرض بیش از ۱۰ متر ممنوع
- ۳ - عبور با بار بیش از ۱۰ تن بر هر محور ممنوع
- ۴ - خودرو طولی

۴ این تابلو بیانگر چیست؟




- ۱ - بسته بودن یکی از خطوط عبور
- ۲ - تقاطع با راه آهن
- ۳ - تقاطع با راه آهن دو خطه
- ۴ - تقاطع راه آهن با راهبند

۵ این تابلو بیانگر چیست؟



- ۱ - فقط عبور پیاده
- ۲ - گذرگاه پیاده
- ۳ - فقط عبور دوچرخه و پیاده
- ۴ - عبور اطفال



- ۱ - طول محدوده خطر
- ۲ - طول ممنوعیت با محدودیت پارکینگ
- ۳ - عبور کامیون با طول بیش از ۱۰ متر ممنوع
- ۴ - رعایت فاصله کمتر از ۱۰ متر ممنوع

۲۳ این شکل چه چیزی را نشان می دهد؟



- ۱ - عدم رعایت سرعت مجاز
- ۲ - محدوده شانه کور در خودروهای سنگین
- ۳ - عدم رعایت حق تقدم عبور
- ۴ - سطح روشنایی چراغ ها

۲۴ کدام یک به معنای راننده محول است؟

- ۱ -
- ۲ -
- ۳ -
- ۴ -

۲۵ در صورت داشتن حرکت گشاده و رصه چگونه باید عمل نمود؟

- ۱ - رانندگی موقتند از سرعت خود کاسته و در صورت لزوم تا عبور احتیاط توقف نمایند
- ۲ - باید به سرعت عبور نمود
- ۳ - نباید توقف کرد
- ۴ - باید با چراغ و سوزی روشن، گشاده و رصه را علوحه نمود

۲۶ چراغی از سمت گرفتن از سنگ کاسیون طولی باید فاصله را با آن کاملاً حفظ کنید؟

- ۱ - زرد آبی نسبت گرفتن از کاسیون طولی در بوج ها باید شتاب کافی داشته باشد
- ۲ - نسبت گرفتن از خودروهای طولی ممنوع است
- ۳ - برای اینکه در نقطه کور قرار نگیرید
- ۴ - برای اینکه از موقعیت جلوی کاسیون اطلاع کافی داشته و در نقطه کور قرار نگیرید

۲۷ کدامیک از تابلوهایی زیر به معنای پایان سرعت ممنوع می باشد؟

- ۱ -
- ۲ -
- ۳ -
- ۴ -

۲۸ مفهوم این تابلو چیست؟

- ۱ - مسیر کامیون حامل گالای خطرناک
- ۲ - عبور وسایل نقلیه باری آزاد است
- ۳ - مسیر یک طرفه وسایل نقلیه باری
- ۴ - مسیر کامیون حامل گالای تجاری

۲۹ منظور از این چراغ چیست؟



- ۱ - در این حالت عبور مستقیم و گردش در جهت بیگان مجاز می باشد
- ۲ - عبور مستقیم مجاز بوده ولی گردش به سمت بیگان غیر مجاز می باشد
- ۳ - حرکت به صورت مستقیم ممنوع است
- ۴ - مرفا می توان به سمت راست حرکت نمود

۳۰ در این تقاطع، حق تقدم عبور به ترتیب با کدام خودروها می باشد؟



- ۱ - آبی، زرد، نارنجی و سبز
- ۲ - زرد، آبی، نارنجی و سبز
- ۳ - سبز، نارنجی، زرد، آبی
- ۴ - سبز، آبی، نارنجی، زرد

۷. مانع از خطوط مانع در شکل زیر چیست؟



- ۱ - تمسک کنارکده ها
- ۲ - وجود مانع در راهها
- ۳ - همان خطوط منع می باشد
- ۴ - خطوط اضلاع

۸. این شکل چه نوع پارگی را نشان می دهد؟



- ۱ - مورب
- ۲ - افقی
- ۳ - عمودی
- ۴ - قائم

۹. استفاده از سون خر کدام یک از موارد زیر مجاز است؟

- ۱ - اطلاع و آگه سازی سایر کاربران راه و جلوگیری از بروز سانحه و خطر
- ۲ - اطلاع و آگه سازی برای ادای احترام به سایر کاربران راه
- ۳ - برای کاهش شدت تصادفات
- ۴ - برای کاهش شدت تصادفات و ادای احترام به سایر کاربران راه

۱۰. احتمال عبور عابرین پیاده در کدامیک از محل های زیر بیشتر است؟

- ۱ - خشکی خرابیها - بزرگراهها - نزدیک مراکز فروش
- ۲ - خشکی ممر پیاده - نزدیک فضای بازی کودکان و مدارس - نزدیک مراکز خرید
- ۳ - خشکی ممر پیاده - آزادراهها - نزدیک فضاهای بازی کودکان
- ۴ - بزرگراهها - نزدیک مراکز خرید - نزدیک مدارس

۱۲. هنگام رانندگی و مشاهده چراغ چشمک زن قرمز چه اقدامی باید انجام داد؟

- ۱ - عبور از تقاطع با سرعت کم و احتیاط لازم
- ۲ - عبور با احتیاط
- ۳ - عبور از تقاطع با همان سرعت و احتیاط لازم
- ۴ - ایست و عبور

۱۱. به چه دلیل حرکت با دنده عقب خطرناک است؟

- ۱ - به طور کلی حرکت با دنده عقب ممنوع است
- ۲ - راننده نمی تواند پشت سر خود را به درستی و کامل ببیند
- ۳ - دنده ها در حرکت رویه عقب آسیب می بینند
- ۴ - خودرو صرفاً برای حرکت رویه جلو طراحی شده است

۱۴. در سه راهه ها حق تقدم عبور با وسیله ای است که

- ۱ - در طرف راست وسیله نقلیه دیگر قرار دارد
- ۲ - به سمت راست گردش می کند
- ۳ - به طور مستقیم و در مسیر مجاز حرکت می کند
- ۴ - به سمت چپ در حال گردش است

۱۵. بهترین وظیفه سیستم روشنکاری در خودرو کدام است؟

- ۱ - حفظ تعادل و پایداری خودرو
- ۲ - روانکاری و خشک کاری قسمت
- ۳ - رساندن سوخت به موتور
- ۴ - کمک به خروج نمود از انگروز

۱۶. کدام علامت آگه سازی برای سبقت در شب استفاده می شود؟

- ۱ - استفاده از بوی کوتاه
- ۲ - فقط تبدیل و تعویض نور چراغ بالا و پایین
- ۳ - تبدیل و تعویض نور چراغ بالا و پایین به همراه چراغ راهنما
- ۴ - استفاده از بوی بلند بطور متناوب

۱۷. سبقت از طرف راست وسیله نقلیه ای که در حال گردش به چپ می باشد ...

- ۱ - فقط در معابر شریعی درجه دو ممنوع است
- ۲ - ممنوع است
- ۳ - در هنگام روز مجاز است
- ۴ - مجاز است

۱۸. ورزش غریبک فرسان مس تواند ناشی از کدام نقص باشد؟

- ۱ - تمام شدن سفته کتاج
- ۲ - خرابی جعبه دنده
- ۳ - بالانس نبودن چرخها
- ۴ - پایین بودن سطح سوخت

۱۹. مقدار واتساز باسری در خودروهای معمول سواری چند ولت است؟

- ۱۲ - ۱
- ۶ - ۲
- ۲۴ - ۳
- ۳ - ۴

۲۰. دستگاهی است که انرژی حرارتی و شیمیایی موجود در سوخت را به انرژی جنبشی یا مکانیکی تبدیل می کند

- ۱ - انگروز
- ۲ - گیربکس
- ۳ - دیفرانسیل
- ۴ - موتور

۲۱. در انجام کمکهای اولیه کدامیک از موارد زیر صحیح است؟

- ۱ - در ارائه کمکهای اولیه باید روشی انتخاب شود که موثرتر و مفیدتر از سایر روشها بوده و صدمه ای به مصدوم وارد نکند
- ۲ - در ارائه کمکهای اولیه اصل بر این است که به سرعت بیمار را از محل حادثه دور کنیم
- ۳ - در ارائه کمکهای اولیه باید روشی انتخاب شود که سریعتر جواب می دهد هر چند احتمال خطر در آن وجود داشته باشد
- ۴ - حین ارائه کمکهای اولیه اگر آرامش ندارید کار خود را سریع انجام دهید

۲۲. قرار گرفتن طولانی مدت رانندگان در شرایط نامساعد زیست محیطی منجر به چه می شود؟

- ۱ - افزایش مقاومت بدن در قبال عوامل نامساعد
- ۲ - افزایش صیوری و بردباری راننده
- ۳ - تحریک پذیری، عصبانیت زود هنگام و پرخاشگری
- ۴ - افزایش اعتماد به نفس و اثر خود گذشتگی راننده

- ۵۰ - ۱
- ۶۰ - ۲
- ۷۰ - ۳
- ۸۵ - ۴



ازمونی آیین نامه راهنمایی و رانندگی
۱۳۴۴۲ (نوبتنامه رانندگی پایه سوم)



تعداد: ۳۰ سوال شماره ازمون: ۲۰۲ زمان: ۳۰ دقیقه

از گذاشتن هرگونه علامت بر روی برگه آزمون جدا خودداری فرمایید

۲ کدام تابلو بیانگر خط عبور برای گروهی می باشد؟



۱ کدام تابلو ممنوعیت عبور وسایل نقلیه موتورک را اعلام می دارد؟



۴ این تابلو بیانگر چیست؟



- ۱ - فقط عبور پیاده
- ۲ - عبور پیاده ممنوع
- ۳ - عبور اطفال
- ۴ - عبور عابر پیاده

۳ عنوان این تابلو چیست؟



- ۱ - پرتاب سنگ
- ۲ - خطر سقوط در آب
- ۳ - ریزش سنگ
- ۴ - خطر پرتاب سنگ

۶ این تابلو بیانگر چیست؟



- ۱ - گذرگاه پیاده
- ۲ - شروع جدا کننده
- ۳ - جریان همگرا
- ۴ - هدایت مسیر یا جدا کننده

۵ این تابلو بیانگر چیست؟



- ۱ - زیرگذر یا روگذر
- ۲ - شروع محل پیاده روی
- ۳ - شیب سربالایی ده درصد

۲۳ این شکل چه چیزی را نشان می دهد؟



- ۱ - محدوده خط کور در خودروها سنگین
- ۲ - عدم رعایت سرعت مجاز
- ۳ - طول محدودیت پارکینگ
- ۴ - سطح روشنایی چراغ ها

۲۲ در راهنمای برابری که خودروها با سرعت مساوی به صورت فشرده در حرکت هستند چگونه می توانند از بروز تصادف جلوگیری کنند؟



- ۱ - در شانه چکی توقف کنند
- ۲ - چراغها را خاموش کنند
- ۳ - فاصله خود را با وسیله نقلیه امرایش دهند
- ۴ - پان خود را بر روی آینه قرار دهند

۲۶ در خیابان ها و خیابادهایی که نور کافی وجود دارد...

- ۱ - باید از نور بالا استفاده نمود
- ۲ - باید تنها از چراغ های جانبی جلو و عقب استفاده نمود
- ۳ - باید تنها از نور پایین استفاده نمود
- ۴ - تمام چراغها را باید خاموش نمود

۲۵ کدام گزینه در مورد گردش به چپ در راهپای یک طرفه درست است؟

- ۱ - رانندگان موظفند وسیله نقلیه را به سمتی که طرف راست حیفی هدایت نموده و چپ را بکشند
- ۲ - گردش به چپ در همان یک طرفه ممنوع است
- ۳ - رانندگان موظفند وسیله نقلیه را به سمتی که طرف چپ حیفی هدایت و سپس به چپ گردش کنند
- ۴ - باید منتظر بمانند تا خیابان خلوت شود

۲۸ دست کم هر چند وقت یکبار باید سطح آب رادیاتور را کنترل نمود؟



- ۱ - سالی یک بار
- ۲ - هفته ای یک بار
- ۳ - ماهی یک بار
- ۴ - نیازی به کنترل ندارد

۲۷ انجام کدام عمل در پشت چراغ قرمز در یک تقاطع نادرست است؟

- ۱ - به هنگام چراغ قرمز باید پشت خط ایستت توقف کامل نمود
- ۲ - تا هنگام روشن شدن چراغ سبز و تخلیه تقاطع باید منتظر ماند
- ۳ - اگر تقاطع خلوت باشد با احتیاط می توان گردش به راست نمود
- ۴ - عبور از چراغ قرمز ممنوع است

۲۰ در این تقاطع، حق تقدم عبور به ترتیب با کدام خودروها می باشد؟



- ۱ - سبز، نارنجی، زرد، آبی
- ۲ - نارنجی، سبز، زرد، آبی
- ۳ - سبز، نارنجی، آبی، زرد
- ۴ - نارنجی، سبز، آبی، زرد

۲۹ مفهوم چراغ سر راهنمایی چیست؟



- ۱ - ایست کامل و سپس عبور
- ۲ - عبور یا گردش آزاد است مگر آنکه گردش نمودن توسط علائم دیگر ممنوع شده باشد
- ۳ - افزایش سرعت و وسیله نقلیه و عبور سریع از تقاطع
- ۴ - توقف پشت تابلو ایست در تقاطع

۷ کدام نوع از خطوط بنابر که در این شکل نشان داده شده است؟



- ۱- محور
- ۲- معودی
- ۳- هیچ کدام

۹ مجموع مسافتی که در زمان واکنش طی می شود به علاوه مسافت ترمزها به نام دارد؟

- ۱- مسافت ترمز
- ۲- مسافت توقف
- ۳- مسافت واکنش
- ۴- مسافت ایمنی

۱۱ کیفیت بودن نشانه های خودرو به چه دلیل می تواند خطرناک باشد؟

- ۱- باعث کاهش مقاومت همیشه در برخورد ها می شود.
- ۲- باعث خراب شدن بدنه بزرگ کن ها می شود.
- ۳- تمام موارد

۱۳ از کدام علامت آگاه سازی برای سبقت در شب استفاده می شود؟

- ۱- استفاده از بوق کوتاه
- ۲- فقط تبدیل و تعویض نور چراغ بالا و پایین
- ۳- تبدیل و تعویض نور چراغ بالا و پایین به همراه چراغ راهنما
- ۴- استفاده از بوق بلند بطور متناوب

۸ بنابر از وسیله نقلیه محسوب می باشد؟



- ۱- وسیله نقلیه ای است که طول آن کمتر از ۴۲ متر باشد.
- ۲- وسیله نقلیه ای است که طول آن بیش از ۱۲ متر باشد.
- ۳- وسیله نقلیه ای است که طول آن بیش از ۱۸ متر باشد.
- ۴- هر نوع خودروی باربری

۱۰ میزان سرعت مجاز و محدودیت سرعت در جاده ها و خیابان ها به چه صورت مشخص می شود؟

- ۱- سرعت مجاز بسته به نوع خودرو و مدل آن تعیین می شود.
- ۲- با توجه به مواردی که GPS خودرو و نشان می دهد.
- ۳- با توجه به تابلوهای نصب شده و آیین نامه راهنمایی و رانندگی.
- ۴- با توجه به دستور عملی جاده ها مشخص می شود.

۱۲ کدام یک به مفهوم « ایست وسیله نقلیه برای هر مدت ممنوع » می باشد؟

- ۱- ایستادن
- ۲- ایستادن ممنوع
- ۳- توقف
- ۴- توقف ممنوع

۱۴ سبقت از طرف راست وسیله نقلیه ای که در حال گردش به چپ می باشد ...

- ۱- مجاز است
- ۲- ممنوع است
- ۳- در هنگام روز مجاز است
- ۴- فقط در معابر شریانی درجه دو ممنوع است

۱۵ راننده کان وسایل نقلیه موظفند برای روستا کلیه اشخاص و اشخاص در جاده ها از چراغ استفاده نمایند.

- ۱- چراغهای جانبی عقب
- ۲- نور پامپن
- ۳- چراغهای جانبی جلو
- ۴- نور بالا

۱۷ حداقل سرعت در آزادراه های درون شهری چند کیلومتر در ساعت است؟

- ۱- ۵۰
- ۲- ۶۰
- ۳- ۷۰
- ۴- ۴۰

۱۶ هدف از طرحی است که راه بر موشرف خط های محور و رفت و برگشت کدام است؟

- ۱- ایمن شدن برای ایستادن
- ۲- جبهه کشی برای تردد و افزایش ظرفیت
- ۳- تغییر سرعت برای پیوستن به جریان ترافیک
- ۴- توقف اضطراری

۱۸ وظیفه کدام قطعه مسافت از ورود گرد و غبار و آلودگی و دیگر ذرات معلق به داخل موتور می باشد؟

- ۱- فیلتر روغن
- ۲- فیلتر سوخت
- ۳- فیلتر هوا
- ۴- فن

۲۰ سطح روغن موتور را با چه وسیله می توان کنترل نمود؟

- ۱- فیلتر روغن
- ۲- در مخزن روغن
- ۳- سیم روغن (کیچ روغن)
- ۴- پمپ روغن



۱۹ در این سه راه ، حق تقدم عموماً به ترتیب با کدام یک می باشد؟

- ۱- ابتدا ۳ سپس ۱ و ۲ بهم
- ۲- به ترتیب ۳ ، ۲ ، ۱
- ۳- به ترتیب ۱ ، ۲ ، ۳
- ۴- ابتدا ۱ و ۲ بهم سپس ۳

۲۱ در خصوص احتیاط های لازم هنگام وسوسه تصادفات انجام کدامیک از موارد زیر اشتباه است؟

- ۱- روشن نگه داشتن خودرو و جسی در صورتی که خودرو قابلیت حرکت ندارد
- ۲- هشدار توسط افراد به دیگر رانندگان تا سرعت خودرو را کاهش دهند.
- ۳- استفاده از تابلو افغان خطر
- ۴- زنگ زدن جهت روشن نگردن سیمگار در صورت آسیب یا ک سوخت خودروها

۲۲ علامت خستگی در رانندگی چیست؟

- ۱- رانندگی خودرو با سرعت مطمئنه و رعایت قوانین و مقررات
- ۲- کم شدن توجه به رانندگی و کاهش سرعت تصمیم گیری
- ۳- نشاط و پر انرژی بودن در رانندگی
- ۴- رانندگی ایمن و رعایت سرعت مجاز

۱۶. اتومبیل‌هایی که دست‌چوب‌های آنها شرف‌یابان
تکوانند به چه نامند؟



- ۱- کرش یا تغییر مسیر به راست
- ۲- کرش یا تغییر مسیر به چپ
- ۳- توقف
- ۴- افزایش سرعت

۱۷. مفهوم رنگ سبز در علائم عبور و مرور چیست؟



- ۱- ترافیک سبز، راهنمای سبز
- ۲- پرورش گیاهان و امکان منتهی
- ۳- منع کشنده یا ایست
- ۴- راهنما برای مناطق اداری و آموزشی و صنعتی
- ۵- راهنما برای مناطق تفریحی و فرهنگی و گردشگری

۱۸. کدامیک از موارد زیر در جسی و اندکسی
در نیما مشاهده است؟

- ۱- روپارک‌ها، تونل‌ها، کوچه‌ها و بزرگ‌راه‌ها
- ۲- استفاده از بوی گوناگون هنگام سبقت
- ۳- کاهش سرعت در صورت نزدیک شدن خودرویی
از روبرو که از تور بالا استفاده می‌کند
- ۴- استفاده از چراغ‌ها به شکل در هنگام ریزش

۱۹. کار سبقت گرفتن کدامیک از موارد زیر را
نماد رعایت نمود؟

- ۱- باقی‌ماندن برای جلوگیری از خودرویی دیگر
- ۲- داشتن سرعتی معادل سرعت خودرویی که
می‌خواهیم از آن سبقت بگیریم
- ۳- عدم ممنوعیت سبقت در آن مکان از راه
انگیزش از حالت بودن وسیله نقلیه در لاین تنگ
- ۴- عدم ممنوعیت سبقت در آن مکان از راه تنگ
سرعت خودرو آن کمتر باشد که در زمان کوتاه
عجل سبقت گرفتن تمام شود

۲۰. چراغ‌هایی که حضور وسیله نقلیه و عرض
آن را از سمت جلو نشان می‌دهد کدام است؟

- ۱- چراغ جانبی جلو
- ۲- چراغ جانبی عقب
- ۳- چراغ‌های کوچک عقب
- ۴- چراغ توقف

۲۱. بازبینی مخزن ایدرادیااتور چه زمانی باید
تعمیر شود؟

- ۱- صرفاً در فصل تابستان که هوا گرم است
- ۲- زمانی که خودرو روشن است
- ۳- زمانی که خودرو در حال حرکت است
- ۴- زمانی که موتور خاموش و سرد است

۲۲. از چند توری ورودی بیل‌ها سبقت گرفتن
ممنوع است؟

- ۱- ۲۵۰ توری
- ۲- ۱۵۰ توری
- ۳- ۲۰۰ توری
- ۴- ۱۰۰ توری

۲۳. روی سبدک و هر نوع وسیله نقلیه‌ای که
وسیله نقلیه دیگری آن را می‌کشد باید
بر روی وسیله نقلیه نصب تا سایر
رانندگان آن را ببینند

- ۱- پرچم سفید به ابعاد حداقل ۱۰۰ سانتی‌متر
- ۲- پرچم قرمز به ابعاد ۵۰ سانتی‌متر
- ۳- پرچم سفید به ابعاد حداقل ۵۰ سانتی‌متر
- ۴- چراغ الکتریکی با نور قرمز

۲۴. نور زرد از روی شیشه سبز و بنا به شیشه شیشه
با رعایت احتیاط بدون اشکال است

- ۱- ممنوع است
- ۲- ممنوع است
- ۳- در صورت خلوت بودن مسیر مجاز است
- ۴- در راه‌های بیرون شهر، حداکثر سرعت
مجاز در آزادراه‌ها برای کامیونت چند کیلومتر
فرساعت است

۲۵. علاوه بر اینکه کلیدی ترمز ایستار در
کنترل خودرو می‌باشد می‌تواند به عنوان
بازخوردی مناسب، سخت یا عدم سلامت
بخش‌های مهمی از خودرو همچون سیستم
جلو بندی و وضعیت فرمان پذیری را آشکار نماید

- ۱- پدال ترمز
- ۲- پدال گاز
- ۳- پدال ترمز
- ۴- پدال ترمز

۲۶. انجام کدامیک از موارد زیر هنگام دادن
تنفس مصنوعی صحیح تر می‌باشد؟

- ۱- خارج کردن آستانه فارسی از دهان مصدوم - دادن تنفس
مصنوعی بر روی تنفس حداقل به مدت ۲۰ ثانیه
- ۲- خارج کردن آستانه فارسی از دهان مصدوم - برگرداندن دهان و ریه
بر روی تنفس مصنوعی بر روی تنفس طبیعی
- ۳- خارج کردن آستانه فارسی از دهان مصدوم - بررسی تنفس
حداقل به مدت ۲۰ ثانیه - دادن تنفس به مدت ۵ ثانیه
- ۴- برگرداندن دهان مصدوم و دادن تنفس مصنوعی - بررسی
تنفس به مدت ۲۰ ثانیه - ادامه دادن تنفس مصنوعی به مدت ۵ دقیقه

۲۷. کلاه ایمنی چه کاربردی دارد؟

- ۱- فقط صورت را محافظت می‌کند
- ۲- گردش به چپ ممنوع
- ۳- فقط به‌طور موقت ایست می‌کند
- ۴- ایست و یا رانندگی ممنوع

۲۸. ترمز مسروپس (ترمز پایی) به‌عنوان
الزامات استانداردهای خودرویی باید به
عمل آید

- ۱- نشان چراغها
- ۲- فقط بر چرخ‌های جلو
- ۳- فقط بر چرخ‌های عقب
- ۴- فقط بر چرخ‌های جلو

۲۹. مهمترین مزیت ترمز ضد قفل چیست؟

- ۱- حفظ فرمان پذیری خودرو و جلوگیری از لغزش
- ۲- افزایش قدرت و سرعت خودرو
- ۳- کاهش مصرف سوخت
- ۴- استهلاک کمتر تایرها

۳۰. بزرگترین منبع آلودگی هوا در کلان‌شهرها
کدام است؟


- ۱- کارگاه‌ها
- ۲- خودرو
- ۳- وسایل گازسوز خانگی
- ۴- پالایشگاه‌ها



آزمون آیین نامه راهنمایی و رانندگی
۲۳۳۳۳ (کواشنامه رانندگی پایه سوم)

تعداد: ۳۰ سوال شماره آزمون: ۳۰۴ زمان: ۳۰ دقیقه


از گدازش هرگونه اطلاعات بر روی بدنه آزمون سید خودداری فرمایید



۲ عنوان این تابلو چیست؟

- ۱- پنجهای بی درین (اولین پنج به چپ)
- ۲- پنجهای بی درین (اولین پنج به راست)
- ۳- پنج به راست
- ۴- پنج به چپ

۱ کدام تابلو بیانگر جاده عوطری می باشد؟



۳ این تابلو بیانگر چیست؟

- ۱- عبور حیوانات وحشی
- ۲- عبور حیوانات اهلی
- ۳- منطقه حیات وحش
- ۴- محل عبور حیوانات

۴ این تابلو بیانگر چیست؟



- ۱- عبور موتورکارتی ممنوع
- ۲- عبور دوچرخه ممنوع
- ۳- فقط عبور دوچرخه
- ۴- عبور جزغ دستی ممنوع

۵ این تابلو بیانگر چیست؟



- ۱- پایان خیابان اصلی
- ۲- آزادراه
- ۳- پایان آزادراه
- ۴- پایان تقاطع راه آهن

۶ این تابلو بیانگر چیست؟



- ۱- حاشیه تقاطع راست
- ۲- پایان جدا کننده
- ۳- جریان همگرا
- ۴- هدایت مسیر با جدا کننده

۲۲ قبل مسافر در لیست بار ...

- ۱- مجاز است
- ۲- در صورت رعایت ایمنی مجاز است
- ۳- ممنوع است
- ۴- در مسافت های کوتاه مجاز است



- ۱- در این تقاطع حق تقدم عبور به طرف راست با کدام یک می باشد؟
- ۲- در این تقاطع حق تقدم عبور به طرف چپ به کدام یک می باشد؟
- ۳- در این تقاطع حق تقدم عبور به طرف راست به کدام یک می باشد؟
- ۴- در این تقاطع حق تقدم عبور به طرف چپ به کدام یک می باشد؟

۲۵ ایستادن بنا توقف وسایل نقلیه در کدام یک محلهای زیر ممنوع است؟

- ۱- از ۵۰ متری شهرهای آتش نشانی
- ۲- در فاصله ۵۰ متری میدان یا تقاطع یا سه راهها یا تقاطع راه آهن
- ۳- از ۱۰۰ متری ابتدا تا انتهای پنج ها
- ۴- از ۱۵ متری ورودی بیمارستان ها

۲۶ تحت چه شرایطی می توان در تقاطع شنا سفت گرفت؟

- ۱- اگر تقاطع خلوت باشد
- ۲- اگر چراغ تقاطع چشمک زدن باشد
- ۳- سبقت در تقاطع ها ممنوع است
- ۴- اگر مسیر یک طرفه باشد

۲۸ در صورت مشاهده تابلو مقابل منظر چه چیزی باید بود؟



- ۱- گردش به چپ ممنوع
- ۲- پنجهای بی درین (اولین پنج به چپ)
- ۳- پنج به چپ
- ۴- پنج به راست

۲۷ در این تقاطع حق تقدم عبور به ترتیب با کدام یک می باشد؟



- ۱- آب - قهوه ای
- ۲- قهوه ای - آب
- ۳- هر سه خودرو با هم می توانند حرکت کنند
- ۴- فقط خودروی قهوه ای مجاز به حرکت می باشد

۳۰ با مشاهده چراغ چشمک زن زرد در تقاطع چه عملی را انجام می دهید؟



- ۱- با زدن بوق و با سرعت اولیه به حرکت خود ادامه دهید
- ۲- قبل از خط ایست توقف کامل کنید
- ۳- از سرعت خود بکاهید و با احتیاط عبور کنید
- ۴- با همان سرعت از تقاطع عبور نمایید

۲۹ در مبحث مفهوم رنگها و علائم عبور و مرور، مفهوم رنگ قهوه ای کدام است؟



- ۱- راهنمای خدمات
- ۲- راهنمای مناطق تفریحی و گردشگری و فرهنگی
- ۳- علائم دستوری
- ۴- راهنمای مسیر در سایر راه ها

۷ مفهوم این تابلو چیست؟



- ۱ - ممنوع وسایط نقلیه موتورزی ممنوع
- ۲ - ممنوع سواری ممنوع
- ۳ - ممنوع کتبه وسایط نقلیه ممنوع
- ۴ - ورود سواری ممنوع

۹ استفاده از بون در کدام یک از موارد زیر مجاز است؟

- ۱ - اتباج و آگاه سازی سایر کاربران راه و جلوگیری از بروز حادثه و خطر
- ۲ - قطع و آگاه سازی برای ادای استراحت به سایر کاربران راه
- ۳ - برای کاهش شدت تصادفات
- ۴ - برای کاهش شدت تصادفات و ادای استراحت به سایر کاربران راه

۱۱ منظور از این چراغ چیست؟



- ۱ - در این حالت عبور مستقیم و گردش در جهت پیشان مجاز می باشد.
- ۲ - عبور مستقیم مجاز بوده ولی گردش به سمت پیشان غیر مجاز می باشد.
- ۳ - حرکت به صورت مستقیم ممنوع است.
- ۴ - همه ها می توان به سمت راست حرکت نمود.

۱۳ در آزاد راه های بدون شلری و مناطق غیر مسکونی حداقل سرعت چند کیلومتر در ساعت است؟

- ۱ - ۱۳۰
- ۲ - ۷۰
- ۳ - ۸۵
- ۴ - ۹۵

A این تصویر نشانگر چیست؟



- ۱ - راهنمای بین خطوط
- ۲ - ممنوعیت عبور از روی خطوط رنگاری
- ۳ - حداکثر سرعتی مجاز است
- ۴ - ممنوعیت حرکت روی خطوط عبور (خط قرمز) سایر وسایط نقلیه
- ۱۰ - کدام یک از وسایل نقلیه زیر نسبت به دیگر وسایل نقلیه از ایمنی کمتری برخوردارند؟
- ۱ - خودروهای سواری
- ۲ - کامیونها و اتوبوسها
- ۳ - موتور سیکلت ها و دوچرخه ها
- ۴ - وسایل نقلیه کشاورزی

۱۲ به همراه چراغ چشمک زن قرمز معمولاً کدام تابلوی راهنمایی و راهنگری نصب می گردد؟

- ۱ - فقط عبور مستقیم مجاز
- ۲ - گردش به چپ ممنوع
- ۳ - فقط عبور به راست مجاز
- ۴ - ایست و یا رعایت حق تقدم

۱۴ در برخورد راه اصلی با راه فرعی تقدم عبور با وسیله ای است که ...

- ۱ - از راه اصلی عبور می کند.
- ۲ - از راه فرعی عبور می کند.
- ۳ - به سمت راست گردش می کند.
- ۴ - در طرف راست وسیله نقلیه دیگر قرار دارد.

۱۵ منظور از توقف چیست؟

- ۱ - ایست وسیله نقلیه در زمان طولانی بدون حضور راننده
- ۲ - ایست وسیله نقلیه در زمان کوتاه
- ۳ - ایست وسیله نقلیه در زمان طولانی یا حضور راننده
- ۴ - ایست وسیله نقلیه برای هر مدت ممنوع

۱۷ از چند متری بیج ها سفت گرفتن ممنوع است؟

- ۱ - ۱۵۰ متری
- ۲ - ۱۰۰ متری
- ۳ - ۵۰ متری
- ۴ - سبقت گرفتن در بیج ها محدودیت ندارد

۱۹ کدامیک جزو وظایف سیستم تعلیق نمی باشد؟

- ۱ - تامین راحتی راننده
- ۲ - کنترل قدرت و شتاب خودرو
- ۳ - حفظ تعادل و پایداری خودرو به هنگام عبور از بیمنی یا بلندی ها
- ۴ - صمانعت از واژگونی خودرو هنگام گذر از بیج های تند

۲۱ کدامیک از موارد زیر در خصوص کمکهای اولیه صحیح می باشد؟

- ۱ - انجام کمکهای اولیه حتماً باید توسط پزشکان صورت پذیرد.
- ۲ - کمکهای اولیه می تواند در محل حادثه یا در بیمارستان انجام شود.
- ۳ - کمکهای اولیه سبب کاهش چشمگیر مرگ و میر و نقیض بیماری و آسیبهای عمده می شود.
- ۴ - کمکهای اولیه تأثیری در تخفیف بیماری و آسیبهای مجروح نداشته صرفاً جهت بالابردن روحیه بیمار صورت می گیرد.

۱۶ همکاره وسیله نقلیه ای نسبتاً کم سن و سال است. سطح راه توقف نماید و سر کاسه در آن محل سواری تشخیص تشخیص از فاصله ۱۵۰ متری و حضور و حضور نداشته باشد انجام کدام مورد زیر ضروری است؟

- ۱ - نگاه داشتن به ال ترمز برای روشن شدن چراغ ترمز
- ۲ - روشن نمودن چراغهای بزرگ یا نور تا
- ۳ - روشن نگاه داشتن چراغهای کوچک جلو و نظر شب وسیله نقلیه
- ۴ - روشن نمودن راهنمای سمت راست خودرو

۱۸ علاوه بر اینکه کسبای تریس اسرار در کنترل خودرو میباشد، می تواند به عنوان باز خوردی مناسب، صحت یا عدم سلامت بخشهای مهمی از خودرو همچون سیستم جلوبندی و وضعیت فرمان پذیری را آشکار نماید.

- ۱ - پدال گاز
- ۲ - ترمز پدال
- ۳ - پدال ترمز
- ۴ - آینه بغل

۲۰ استفاده از کدام نوع کمربند ایمنی در خودرو الزامی است؟

- ۱ - سه نقطه ای
- ۲ - دو نقطه ای
- ۳ - کمربند ران
- ۴ - نوع کمربند ایمنی مهم نیست

۲۲ این صفات جزو کدام نوع از رانندگان می باشد: تفسیر مسیر ناگهانی و خطر آفرین برای سایر رانندگان، سوار گرفتن به مدت طولانی در خط سرعت به منظور تسهیل اتومبیل پشت سر و استفاده از نور بالا برای ادای کردن راننده مقابل.

- ۱ - رانندگان عسن
- ۲ - رانندگان جوان
- ۳ - رانندگان پرخاشگر
- ۴ - رانندگان بی تجربه

۷ کدام فرجه در مورد این شکل درست است؟

۱- راستگویی را به فرج از خط عمود است
که عمود بر تقاطع عمود باشد
توقف کامل نماید

۲- در راستگویی مشاهده این خطوط از سرعت خود گذشته و با مشاهده محور عمود

۳- در راستگویی با مشاهده این خطوط از سرعت خود گذشته و با دیدن تقاطع عمود و محور عمود از سرعت خود گذشته

۴- در راستگویی با مشاهده این خطوط از سرعت خود گذشته و با دیدن تقاطع عمود و محور عمود از سرعت خود گذشته

۵- در راستگویی با مشاهده این خطوط از سرعت خود گذشته و با دیدن تقاطع عمود و محور عمود از سرعت خود گذشته

۶- در راستگویی با مشاهده این خطوط از سرعت خود گذشته و با دیدن تقاطع عمود و محور عمود از سرعت خود گذشته

۷- در راستگویی با مشاهده این خطوط از سرعت خود گذشته و با دیدن تقاطع عمود و محور عمود از سرعت خود گذشته

۸- در راستگویی با مشاهده این خطوط از سرعت خود گذشته و با دیدن تقاطع عمود و محور عمود از سرعت خود گذشته

۹- در راستگویی با مشاهده این خطوط از سرعت خود گذشته و با دیدن تقاطع عمود و محور عمود از سرعت خود گذشته

۱۰- در راستگویی با مشاهده این خطوط از سرعت خود گذشته و با دیدن تقاطع عمود و محور عمود از سرعت خود گذشته

۱۱- در راستگویی با مشاهده این خطوط از سرعت خود گذشته و با دیدن تقاطع عمود و محور عمود از سرعت خود گذشته

۱۲- در راستگویی با مشاهده این خطوط از سرعت خود گذشته و با دیدن تقاطع عمود و محور عمود از سرعت خود گذشته

۱۳- در راستگویی با مشاهده این خطوط از سرعت خود گذشته و با دیدن تقاطع عمود و محور عمود از سرعت خود گذشته

۱۴- در راستگویی با مشاهده این خطوط از سرعت خود گذشته و با دیدن تقاطع عمود و محور عمود از سرعت خود گذشته

۱۵- در راستگویی با مشاهده این خطوط از سرعت خود گذشته و با دیدن تقاطع عمود و محور عمود از سرعت خود گذشته

۱۶- در راستگویی با مشاهده این خطوط از سرعت خود گذشته و با دیدن تقاطع عمود و محور عمود از سرعت خود گذشته

۸ شکل مستطیل قائم معمولاً برای چه نوع مانورهای استفاده می شود؟

۱- شروع و پایان حق تقدم مسیر

۲- راهپنا و هشدار

۳- دستوری و خطرات

۴- دستوری یا بازدارنده

۱۰- کدامیک از موارد زیر نشان دهنده بوضوح ایمن حالت حسنگی و خواب آلودگی در حین رانندگی است؟

۱- سبک زدن کنترل حق تقدم و حرکت سبکی رانندگی و رانندگی

۲- احساس سنگینی در پدالها کنترل آگاهانه بدون سرعت خودرو عدم توانایی کنترل خودرو بین خطوط

۳- احساس حسنگی در پدالها عدم کنترل آگاهانه بر سرعت خودرو عدم تمرکز روی رانندگی و روی برداری در ذهن

۴- افزایش سرعت واکنش نسبت به شرایط ایمنی سنگینی در پدالها عدم کنترل آگاهانه بر سرعت خودرو

۱۲- با مشاهده چراغ فرسوز راهنمایس و در صورت نبودن خط ایست برای توقف در چند شهری چراغ باید توقف کنیم؟

۱- سه شهری

۲- پنج شهری

۳- دو شهری

۴- چهار شهری

۱۴- هرگاه دو یا چند وسیله نقلیه از دو یا چند راه مختلف به تقاطع هم عرض برسند حق تقدم عبور یا وسیله ای است که ...

۱- دارای سرنشین بیشتری است

۲- به سمت راست گردش می کند

۳- در طرف راست وسیله نقلیه دیگر قرار دارد

۴- دارای شتاب و سرعت بیشتری می باشد

۱۵- ایستادن صعود همان ... است

۱- توقف

۲- توقف مطلقاً ممنوع

۳- توقف ممنوع

۴- ایست و سلسله نظایه در زمان کوتاه

۱۷- نحوه کدام نوع وسیله نقلیه در خط سوم از راه ها ممنوع است؟

۱- اتوبوس

۲- وانت ها

۳- مینی بوس

۴- انواع بارکش ها با وزن بیش از ۳ / ۵ تن

۱۹- میزان کارایی روشن های معمولی موتور معمولی چند کیلو متر می باشد؟

۱- حدود ۲ هزار کیلو متر

۲- حدود ۴ تا ۵ هزار کیلو متر

۳- حدود ۸ تا ۱۰ هزار کیلو متر

۴- ۵ هزار کیلو متر

۲۱- کدام یک از موارد زیر در خصوص ایمنی کردن صحنه حادثه می باشد؟

۱- پارک خودرو در فاصله مناسب استفاده از تابلو اعلان خطر بطرف شدن از اینکه خطری شما را تهدید نمی کند

۲- پارک خودرو در فاصله مناسب کشیدن چند نفس عمیق و آرام استفاده از تابلو اعلان خطر

۳- استفاده از تابلو اعلان خطر گرفتن شرح حال از مصدومین کشیدن چند نفس آرام و عمیق

۴- پارک خودرو در فاصله مناسب بررسی وضعیت مصدومین دور کردن مصدوم از صحنه حادثه

۱۶- برای کاستن سرعت حسنگی که وسیله نقلیه فاقد چراغ راهنما باشد باید ...

۱- دست راست را به طرف راست نگهداشت

۲- دست چپ را به طرف بالا نگهداشت

۳- دست چپ را به طور افقی نگهداشت

۴- دست چپ را به طور افقی از بالا به پایین حرکت داد

۱۸- چه هنگام می توان از ترمز دستی استفاده نمود؟

۱- هنگام توقف در سرازیری ها یا سربالایی ها

۲- در هر شرایطی

۳- تنها در سرعتهای بالا

۴- هنگام توقف خودرو و یا در سرعتهای بسیار پایین

۲۰- کدام یک جزو سیستم انتقال قدرت نمی باشد؟

۱- کلاچ

۲- میل لنگ

۳- گیربکس

۴- دیفرانسیل

۲۲- علائم حسنگی در رانندگی چیست؟

۱- تمرکز در حین رانندگی

۲- تشخیص حوادث غیرمنتظره

۳- تشخیص حوادث حادثه ساز

۴- گم شدن توجه به رانندگی و کاهش سرعت تصفیم گیری

۹ راننده ای که دست چپ را به طرف بالا نگهدارند به چه منظوری است؟



- ۱- توقف
- ۲- گردش یا تغییر مسیر به چپ
- ۳- گردش یا تغییر مسیر به راست
- ۴- کاهش سرعت و پارک خودرو

۱۰ کدامیک از موارد زیر در خصوص رانندگی در شرایط بارش برف و باران صحیح می باشد؟

- ۱- باید چراغهای نور پایین را روشن نمود
- ۲- استفاده از برف پاککن فقط در صورت شدت بارش برفی مازان
- ۳- عدم استفاده از سیستم ترمز خودرو
- ۴- عدم استفاده از چراغها در روز

۱۱ چرا رانندگی با سرعت زیاد خطرناکتر است؟

- ۱- تصادفات و تلفات در تصادفات بیشتر خواهد بود
- ۲- کمترین وسیله نقلیه سخت تر خواهد شد
- ۳- بیشتران زمانی واکنش بسیار کمی داشته توانایی گریز از تصادف را نخواهند داشت

۸ نسبت از این تابلوها الزام و در صورت عدم توجه رانندگان مرتکب خلاف و تخلف قانون می گردند.

- ۱- تابلوهای هشدار دهنده
- ۲- تابلوهای اطلاعاتی
- ۳- تابلوهای آگاهی دهنده امر دستوری
- ۴- تابلوهای آگاهی دهنده دستوری

۹ در کدامیک از موارد زیر سخت ممنوع است؟

- ۱- هنگامی که وسیله نقلیه ای در فاصله ای نزدیک و غیر ایمن از خودرو در حال حرکت است.
- ۲- از ۱۰۰ متر عبورده به پیچها تا ۱۰۰ متر پیش از آن
- ۳- از ۱۰۰ متر عبورده به ورودی تونل ها و پل ها
- ۴- برای اتوبوسها و کامیونها در عبور برون شهری

۱۲ منظور از طراحی خط چیست؟

- ۱- افق خط خطر به کاربران ترافیک
- ۲- حرکت عابران پیاده بر روی خط مورد نظر
- ۳- مور توقف وسایل نقلیه
- ۴- رویت شبکه معابر هنگام تاریکی

۱۳ در راه های سنگ طرفه حرکت برخلاف مسیر تعیین شده ...

- ۱- با دادن علاقت و زدن چراغ راهنما مانع ندارد
- ۲- ممنوع است
- ۳- برای گردش به چپ آزاد است
- ۴- با رعایت حق تقدم آزاد است

۱۵ خطی عمودی که به منظور تعیین سرعت اجزاء حرکات گردشی و با افزایش سرعت راه در کنار خط محور ایجاد می شود؟

- ۱- خط ویژه
- ۲- خط تعیین سرعت
- ۳- خط کمکی
- ۴- خط ایست

۱۷ در بزرگراه های بدون تابلوی و مناطق غیرمسکونی حداکثر سرعت برای انواع وانت بارها چند کیلومتر در ساعت است؟

- ۱- ۱۲۵
- ۲- ۱۴۰
- ۳- ۱۱۰
- ۴- ۱۳۰

۱۹ کدام رنگ از موارد زیر جزو سیستم امروز خودرو می باشد؟

- ۱- فیروزه ها
- ۲- سبز کانالیست
- ۳- بنفشه سبوت
- ۴- قرمز

۲۱ کدامیک از موارد زیر جزء بارهای حیاتی محسوب می باشد؟

- ۱- بازبودن راه تنفس، نفس به اندازه کافی، گردش خون مناسب
- ۲- بسته بودن راه تنفس، تنفس کمتر از حد معمول، عدم وجود خونریزی
- ۳- بازبودن راه تنفس، خونریزی شدید، گردش خون مناسب
- ۴- بازبودن راه تنفس، داشتن درجه حرارت بالا، گردش خون مناسب

۱۶ در صورتی که در وسط تقاطع چراغ راهنمایی قرمز شود ...

- ۱- احتیاط کامل و سرعت کم محور نباید
- ۲- توقف نموده و با دیده عقب به پشت چراغ راهنمایی برگردند
- ۳- در همان محلی توقف نموده و اجازه عبور را به سایرین بدهند
- ۴- توقف نموده بافاصله گردش به راست نمایند

۱۸ ترمز دستی به عنوان ترمز ... و ترمز پایی به عنوان ترمز ... می باشد

- ۱- سرعتی - قدرتی
- ۲- اولیه - ثانویه
- ۳- قدرتی - سرعتی
- ۴- ثانویه - اولیه

۲۰ کدام یک جزو سیستم خنک کاری موتور نمی باشد؟


- ۱- ترانسولات
- ۲- رادیاتور
- ۳- میل لنگ
- ۴- فن

۲۲ راننده خودرویی نشان داده شده در این شکل دچار چه خطایی شده است؟

- ۱- عدم رانندگی بین خطوط
- ۲- عدم رعایت فاصله توالی مناسب
- ۳- رانندگی با سرعت بالا
- ۴- روشن نکردن چراغ ها



۷. مقبوض خطوط مناطق با بریده برسد در این شکل چیست؟



- ۱- برای مشخص نمودن مسیر خودرو
- ۲- جهت حرکت گرفتن مسیر حرکت و دور زدن از راننده آن خودرو (از راست) هنگام عبور از آنجا می باشد
- ۳- رانندگان واصل نشده باید به هیچ وجه از روی این خطوط عبور نکنند
- ۴- مثل بوی خودرو

۸. مقبوض رنگ قرمز در علائم عبور و عبور چیست؟



- ۱- حرکات خاص رضامتی مسافر در بزرگراه ها و اماکن مذهبی
- ۲- راهنما برای مناطق اداری و آموزشی و خدماتی
- ۳- راهنما برای مناطق تفریحی و فرهنگی و گردشگری

۹. اگر خودرویی با نور بالا از روبرو به شماره نزدیک شود چه باید بکنیم؟

- ۱- باید با تبدیل نور پایین به نور بالا و بوق بلند او را متوجه نمود که از نور پایین استفاده کند
- ۲- باید سرعت را افزایش داد و سریع از کنار آن عبور کرد
- ۳- سرعت را کاهش داده و به سمت راست جاده حرکت کرده و با کنار چشم حرکت خودرو مقابل را تحت نظر داشت
- ۴- باید سرعت را کاهش داده و عقب به خودروی مقابل نگاه کرد

۱۰. سفت چیست؟

- ۱- جلو افتادن و تا بینشی گرفتن از خودرو دیگری که در همان مسیر حرکت می کند
- ۲- در جلوی خودرویی دیگر حرکت نمودن
- ۳- حرکت در جهتی مسیر خودروهای دیگر و جلوگیری از همه آنها
- ۴- حرکت در لاین مخالف و جلو افتادن از خودرویی دیگر

۱۲. در این شکل حق تقدم عبور به ترتیب با کدام خودروها است؟



- ۱- ابتدا ۱، سپس ۲ و بعد ۳
- ۲- ابتدا ۳، سپس ۲ و بعد ۱
- ۳- ابتدا ۲، سپس ۱ و بعد ۳
- ۴- ابتدا ۳، سپس ۱ و بعد ۲

۱۱. در کدام شرایط زیر برای توقف به صافت بیشتری نیاز است؟

- ۱- در شرایط آفتابی و زور روشن
- ۲- وقتی خودرو سنگین تر است تا شرایط بارانی و برفی است
- ۳- وقتی خودرو سنگ تر است
- ۴- وقتی بدون بار و مسافر در حال حرکت هستیم

۱۴. سفت گرفتن در راه ها در کدام مورد ممنوع می باشد؟

- ۱- اتوبوس و کامیون ها در معابر شهری
- ۲- از ۱۵۰ متری ورودی تونل ها
- ۳- از ۱۰۰ متری مانده به پیچ ها
- ۴- از ۱۰۰ متری پس از پیچ ها

۱۳. هرگاه وسیله نقلیه موتوری در راه ها از کار بیفتد و به دلیل نور گالی نیاز به چراغ جوی باشد، راننده باید مثلت های تریگلک را در چه فاصله ای از طرف عقب و جلوی وسیله نقلیه به نحوی که قابل دیدن باشد قرار دهد؟

- ۱- ۲۰۰ متری
- ۲- ۱۰۰ متری
- ۳- ۱۵۰ متری
- ۴- ۷۰ متری

۱۵. در راه های تنگ چگونه برای گردش به چپ رانندگان موظفند وسیله نقلیه را ...

- ۱- به سمتی ایست راست هدایت و گردش نمایند
- ۲- سمتی ایست چپ هدایت و گردش نمایند
- ۳- در شانه سمت راست توقف و سپس با زدن راهنما گردش نمایند
- ۴- در سمت راست توقف و با رعایت حق تقدم گردش نمایند

۱۶. هنگام رانندگی و مشاهده چراغ چشمک زدن قرمز چه اقدامی باید انجام داد؟

- ۱- عبور از تقاطع با سرعت زیاد و احتیاط لازم
- ۲- عبور با احتیاط
- ۳- ایستاد و عبور
- ۴- عبور از تقاطع با سرعت کم و احتیاط لازم

۱۷. در ازراه های سرور شهری و مناطق غیرمسکونی حداقل سرعت چند کیلومتر در ساعت است؟

- ۱- ۵۰
- ۲- ۷۰
- ۳- ۶۰
- ۴- ۱۰۰

۱۸. هدف از ... تسلط کامل باها و دستها بر تجهیزات کنترلی همچون بداهت، اهرمها و فریبک فرمان می باشد

- ۱- عایقه فنی
- ۲- تنظیم آینه ها
- ۳- سلامت فنی
- ۴- تنظیم صندلی

۱۹. لورش فریبک فرمان می تواند ناشی از کدام نقص باشد؟

- ۱- خرابی جعبه دنده
- ۲- بالانس نبودن تیرخ ها
- ۳- نامناسب شدن صفحه کلاخ
- ۴- پایین بودن سطح سوخت

۲۰. کدام جزو وظایف سیستم تعلیق نمی باشد؟

- ۱- کنترل قدرت و شتاب خودرو
- ۲- ناامین راحتی راننده
- ۳- حفظ تعادل و پایداری خودرو هنگام عبور از پستی یا بلندی ها
- ۴- صافیت از واژگونی خودرو هنگام عبور از بیخها

۲۱. در خصوص آتش سوزی خودرو انجام کدام اقدام از موارد زیر صحیح تر می باشد؟

- ۱- در هنگام آتش سوزی خودرو باید ابتدا فستهای داخلی خودرو را خاموش نمود
- ۲- در هنگام آتش سوزی خودرو باید ابتدا فستهای داخلی خودرو را خاموش نمود
- ۳- در صورت وجود کپسول آتش نشانی با استفاده از آن آتش را خاموش نموده و در صورت عدم وجود کپسول آتش نشانی با یو یا یک جسم غیرقابل اشتعال شعله را خفه کنید
- ۴- احتفال انحصار خودرو در صورتی که شعله به داخل خودرو اشغال یابد زیاد است

۲۲. این صفات جزو کدام نوع از رانندگان می باشد: مانور و تغییر مسیر به طور مکرر، بوق زدنهای مپیوده و مکرر و عبور از خط مقابل برای رهایی از ترافیک

- ۱- رانندگان حسن
- ۲- رانندگان بیخاشنگر
- ۳- رانندگان جوان
- ۴- رانندگان بی تجربه



آزمون آیین نامه راهنمایی و رانندگی

۱۳۷۳۴۸ (کتابخانه راهنمایی و رانندگی پایه سوم)

زمان ۴۰ دقیقه

سازمان آیین نامه

بعد از ۳۰ سوال

از کلمات هر گزینه فقط یک روی برآید اگر دو روی برآید در هر دو



۱ کدام تابلو، بانکر نقاط جاده و راه آهس بدون راهبند در ۳۰۰ متری می باشد؟ این تابلو بانکر چیست؟



۱- شیب سرازیری ۱۰ درصد

۲- شیب سرازیری ۴۰ درصد

۳- سربلندی خطرناک

۴- سرازیری خطرناک



۲ این تابلو بانکر چیست؟

۱- عبور کامیون با بار ممنوع

۲- عبور کامیون حامل کالای خطرناک

۳- عبور کامیون ممنوع

۴- عبور وسائط نقلیه با محموله خطرناک ممنوع



۳ این تابلو بانکر چیست؟

۱- درباره وجود چراغ راهنمایی هشدار می دهد

۲- عبور از چراغ قرمز ممنوع است

۳- درباره نور آمبولانس هشدار می دهد

۴- با رعایت احتیاط می توان از تقاطع عبور نمود

۵ این تابلو بانکر چیست؟
۶ کدامیک از تابلوهای زیر به معنای پایان محدوده توقف ممنوع می باشد؟



۱- گذرگاه عبور پیاده

۲- مدرسه

۳- گذرگاه پیاده

۴- عبور اطفال



۲



۱



۴



۳

۲۲ یکی از مهم ترین مشکلات رانندگی کلان شهرهای کشور کدام است؟

۱- آلودگی هوا ناشی از مصرف سوخت

۲- آلودگی هوا ناشی از صنایع

۳- آلودگی هوا ناشی از تردد روزانه خودرو

۴- سیستم حمل و نقل بیاد از شهری

۲۳ در ایس تقاطع هم عرض، حق تقدم عبور به ترتیب با کدام یک می باشد؟



۱- محور سبک سواری-پهلو

۲- سواری-پهلو-محور سبک

۳- محور سبک-پهلو-سواری

۴- پهلو-سواری-محور سبک

۲۵ کدام گزینه درست است؟

۱- حرکت با سینه فلش در سرازیری ها بدون شکل است

۲- حرکت در پوشش و سفید فلش اجزای برای سفید بقیه دیگر ممنوع است

۳- وسایل نقلیه می توانند از روی توله های آب گش ششانی که برای خاموش کردن آتش در جریان قرار گرفته اند، عبور نمایند

۴- رانندگی وسیله نقلیه ای که بیش از ظرفیت استخراج ترانزیت مشخصات، بار یا مسافر گرفته جاز است

۲۶ به چه دلیل سبقت گرفتن از کامیون توسط (کسبه و یندگ) خطرناکتر از سبقت گرفتن از یک اتومبیل معمولی است؟

۱- کامیون ها ممکن است ناگهان تاز کشیده و توقف کنند

۲- ترمز کامیون ها به خوبی ترمز اتومبیل های دیگر نیست

۳- مشخصات سبقت به اتومبیل ها طول ترند و برای سبقت از آنها به مسافت و زمان بیشتری نیاز است

۴- کامیون ها با سرعت کمتری از تبه ها یا نا می روند

۲۸ اگر بر سر چهارراهی چراغ سبز باشد اما داخل تقاطع بدلیل ترافیک بسته باشد چه باید کرد؟



۱- چون چراغ سبز است می توان عبور کرد

۲- باید صبر کرد تا راه باز شود و نباید تقاطع را مسدود نمود

۳- می توان با بیوق زدن، خودروهای جلویی را وادار به حرکت نمود

۴- می توان با چراغ زدن، خودروهای جلویی را وادار به حرکت نمود

۲۷ رانندگان با مشاهده چراغ قرمز چشمک زن در تقاطع باید چه عملی انجام دهند؟



۱- قبل از ورود به تقاطع یا گذرگاه عبور پیاده توقف، پس از اطمینان از عدم وجود خطر تصادف عبور کنند

۲- با سرعت بالا و بی درنگ از تقاطع عبور نمایند

۳- از سرعت خود کاسته و با احتیاط عبور کنند

۴- عبور آزاد است ولی باید با سرعت کم از تقاطع عبور کنند

۳۰ کدامیک از تابلوهای زیر به مفهوم آن است که بجهتین در جلو وجود دارد؟



۲



۱



۴



۳

۲۹ محدودیتهای حرکت و سرعت در جاده ها بوسیله تعیین می گردد.

۱- علائم و تابلوها

۲- رانندگان

۳- سازمان راهداری

۴- افراد صلاحیت دار



آزمون آیین نامه راهنمایی و رانندگی
۲۳۲۷۱ (تأیید شده و اعتبار دارد)

کلید: ۳۰ سوال
زمان: ۲۰ دقیقه

از کمال احترام به آیین نامه راهنمایی و رانندگی آزمون جدا نخواهد بود



۱. عنوان این تابلو چیست؟

- ۱ - جاده باریک می شود
- ۲ - راه از چپ باریک می شود
- ۳ - راه باریک
- ۴ - ورودی خیابان



۱



۲



۳



۴



۱. عنوان این تابلو چیست؟

- ۱ - عبور وسایط نقلیه با وزن بیش از ۵ تن ممنوع
- ۲ - عبور کامیون با طول بیش از ۵ متر ممنوع
- ۳ - عبور با عرض بیش از ۵ متر ممنوع
- ۴ - عبور با بار بیش از ۵ تن بر هر محور ممنوع



۱. عنوان این تابلو چیست؟

- ۱ - تقاطع با راه آهن
- ۲ - تقاطع فرعی و اصلی
- ۳ - ورود به راه اصلی از راست
- ۴ - تقاطع



۱. این تابلو بیانگر چیست؟

- ۱ - پست امدادی
- ۲ - راننده ناشنوا
- ۳ - بیمارستان
- ۴ - راننده معلول



۱. این تابلو بیانگر چیست؟

- ۱ - پایان شهر
- ۲ - تونل
- ۳ - پایان تونل
- ۴ - ورود به شهر

۲۲. در کدام یک خطوط انظار از سائیس حذف شده است؟



۱



۲



۳



۴



۲۳. این شکل بیانگر چیست؟

- ۱ - سواری ترافیکی سرعت گرفتن از خودرو سوار است
- ۲ - خودرو سوار در منطقه کور سواری قرار ندارد
- ۳ - سرعت دو نقل کور همان سرعت دو نقل عادی است
- ۴ - عدم رعایت فاصله طولی مناسب

۲۴. چرا قبل از بستن کولر ماشین از یک کامیون طولی باید فاصله را با آن کاملاً حفظ کنید؟

- ۱ - وسیله برای بستن کولر ماشین از کامیون طولی در بیخ ها باید شتاب کافی داشته باشد
- ۲ - بستن کولر ماشین از خودروهای طولی ممنوع است
- ۳ - برای اینکه در نقطه کور قرار نگیرید
- ۴ - برای اینکه از موقعیت منوی کامیون اطلاع کافی داشته و در نقطه کور قرار نگیرید

۲۵. در این تقاطع حق تقدم عبور به ترتیب با کدام یک می باشد؟



- ۱ - شمال به راست، جنوب به چپ
- ۲ - شمال به چپ، جنوب به راست
- ۳ - شرق به چپ، غرب به راست
- ۴ - شرق به راست، غرب به چپ



۲۸. مفهوم این تابلو چیست؟

- ۱ - ورود به راه اصلی از راست
- ۲ - تقاطع
- ۳ - ورود به راه اصلی از چپ
- ۴ - تقاطع فرعی و اصلی

۲۷. کاربرد روش ۴ ثانیه زمان در چیست؟

- ۱ - بررسی آثار ناشی از تصادف
- ۲ - تعیین مسافت خودرو در حال حرکت با وسیله نقلیه جلویی
- ۳ - کنترل سرعت کار موتور خودرو
- ۴ - محاسبه زمان چراغ زرد راهنمایی در مسیر چهارراه ها

۳۰. کدام مورد زیر از عوامل افزایش ایمنی در شبکه معابر و راه های کشور می باشد؟

- ۱ - تغییر ناگهانی مسیر حرکت به چپ در راه های فاقد خط کشی
- ۲ - رعایت حق تقدم عبور هنگام رانندگی
- ۳ - تغییر ناگهانی مسیر حرکت به راست در راه های فاقد خط کشی
- ۴ - حرکت با سرعتی بیش از سرعت تعیین شده در شبکه راه ها



۲۹. مفهوم چراغ سبز راهنمایی چیست؟

- ۱ - ایست کامل و سپس عبور
- ۲ - عبور با گردش آزاد است مگر آنکه وسیله نقلیه با سرعت بالا در حال تردد باشد
- ۳ - عبور ممنوع است مگر آن که وسیله نقلیه با سرعت بالا در حال تردد باشد
- ۴ - برای اتوبوس ها عبور آزاد و سایرین باید توقف نمایند



انجمن بین المللی راهسازی و راهسازی
۲۰۲۰
کمیته تخصصی راهسازی و راهسازی

کتابچه راهنمای راهسازی و راهسازی

کتابچه راهنمای راهسازی و راهسازی



- ۱- این علامت را در جاده ها
۲- در جاده های
۳- در جاده های
۴- در جاده های



- ۱- در جاده های
۲- در جاده های



- ۱- این علامت را در جاده ها
۲- در جاده های
۳- در جاده های
۴- در جاده های



- ۱- این علامت را در جاده ها
۲- در جاده های
۳- در جاده های
۴- در جاده های



- ۱- مسیر ویژه اتوبوس ها
۲- ایستگاه اتوبوس
۳- مسیر ویژه وسایل نقلیه سنگین
۴- مسیر قطار شهری



- ۱- این علامت را در جاده ها
۲- در جاده های
۳- در جاده های
۴- در جاده های

۲۴- این علامت را در جاده ها
۲۵- این علامت را در جاده ها



- ۱- در جاده های
۲- در جاده های
۳- در جاده های
۴- در جاده های



- ۱- در جاده های
۲- در جاده های
۳- در جاده های
۴- در جاده های



- ۱- در جاده های
۲- در جاده های
۳- در جاده های
۴- در جاده های



- ۱- در جاده های
۲- در جاده های
۳- در جاده های
۴- در جاده های

۲۶- این علامت را در جاده ها
۲۷- این علامت را در جاده ها

- ۱- در جاده های
۲- در جاده های
۳- در جاده های
۴- در جاده های

۲۸- این علامت را در جاده ها
۲۹- این علامت را در جاده ها

- ۱- در جاده های
۲- در جاده های
۳- در جاده های
۴- در جاده های

۳۰- این علامت را در جاده ها
۳۱- این علامت را در جاده ها

- ۱- در جاده های
۲- در جاده های
۳- در جاده های
۴- در جاده های

۳۲- این علامت را در جاده ها
۳۳- این علامت را در جاده ها

- ۱- در جاده های
۲- در جاده های
۳- در جاده های
۴- در جاده های

۷. مفهوم این تابلو چیست؟



- ۱ - موتور خودروی سنگین ممنوع
- ۲ - موتور با بار ممنوع
- ۳ - موتور خودروی کشاورزی ممنوع
- ۴ - موتور جرخ دستی ممنوع

۸. مفهوم این تابلو چیست؟



- ۱ - پایان خیابان اصلی
- ۲ - ابتدای خیابان اصلی
- ۳ - خیابان اصلی
- ۴ - ورود ممنوع

۹. قبل از شروع حرکت باید از صحت عملکرد کماشیک از پراشهای خودرو اطمینان حاصل نمود؟

- ۱ - چراغ جلو - چراغ عقب - چراغ راهنما - چراغ هشدار - چراغ هشدار عقب
- ۲ - چراغ جلو - چراغ عقب - چراغ راهنما - چراغ هشدار
- ۳ - چراغ جلو - چراغ عقب - چراغ راهنما در صورت تاریکی
- ۴ - تازی به باریج پراشها نمی باشد

۱۰. کدام مورد در ایجاد سوانح ترافیک نقش بیشتری دارد؟

- ۱ - تابلوها
- ۲ - چراغ های راهنما
- ۳ - سرعت عطفده
- ۴ - عدم رعایت نکات ایمنی

۱۱. کدام یک مسئول محدودیت های قانونی رانندگی می شوند؟

- ۱ - ضعف شنوایی
- ۲ - ضعف بینایی
- ۳ - ناتوانی های جسمی
- ۴ - تمام موارد

۱۲. رانندگانی که قصد تغییر مسیر یا توقف وسیله نقلیه خود را دارند موظفند از چه آهسته ای با چراغ راهنما علامت بدهند؟

- ۱ - ۲۰۰ متری
- ۲ - ۱۵۰ متری
- ۳ - ۱۰۰ متری
- ۴ - ۲۵۰ متری

۱۳. حداکثر سرعت در آزادراه های بیرون شهر و مناطق غیرمسکونی برای انواع وانت بارها چند کیلومتر در ساعت است؟

- ۱ - ۱۲۰
- ۲ - ۱۴۵
- ۳ - ۷۵
- ۴ - ۹۵

۱۴. رانندگانی که از راه فرعی وارد راه اصلی می شوند باید.....

- ۱ - سریعاً به سمت راست گردش نمایند.
- ۲ - با روشن نمودن راهنما وارد راه اصلی شوند.
- ۳ - سریعاً به سمت چپ گردش نمایند.
- ۴ - پیش از ورود، در صورت لزوم توقف و با رعایت حق تقدم وارد راه اصلی شود.

۱۵. در آیین تقاطع، حق تقدم عبور به ترتیب با کدام خودروها می باشد؟



- ۱ - سبز، نارنجی، زرد، آب
- ۲ - زرد، آب، نارنجی و سبز
- ۳ - آب، زرد، نارنجی و سبز
- ۴ - سبز، آب، نارنجی، زرد

۱۷. از چند ستون بیج ها سبقت گرفتن ممنوع است؟

- ۱ - ۵۰ متری
- ۲ - ۳۰ متری
- ۳ - ۴۰ متری
- ۴ - سبقت گرفتن محدودیت ندارد

۱۶. هنگامه وسیله نقلیه سر بیج یا لیمه ای از کار بکشند علاوه باید در فاصله شان مناسب قرار داده شود که رانندگان وسایل نقلیه دیگر از فاصله متوجه خطر شوند.

- ۱ - ۱۵۰ متری
- ۲ - ۲۰۰ متری
- ۳ - ۵۰ متری
- ۴ - ۱۰۰ متری

۱۸. محصل قرارگیری تابلوها در خودرو باید در هر چند کیلومتر پیمایش تعویض گردد؟



- ۱ - ۲۰ هزار کیلومتر
- ۲ - ۵ هزار کیلومتر
- ۳ - ۱۵ هزار کیلومتر
- ۴ - ۱۲ هزار کیلومتر

۱۹. مهمترین مزیت ترمز ضد قفل چیست؟

- ۱ - حفظ فرمان پذیری خودرو و جلوگیری از لغزش
- ۲ - افزایش قدرت و سرعت خودرو
- ۳ - افزایش شتاب خودرو
- ۴ - استهلاک کمتر تابلوها

۲۰. وظیفه ترموستات در خودرو چیست؟



- ۱ - قطع و وصل کردن مدار آب از جویز به رادیاتور
- ۲ - خنک کردن آب داخل لوله های رادیاتور
- ۳ - به گردش در آوردن آب داخل پوسته موتور و اطراف سیتندرها
- ۴ - تصفیه آب رادیاتور

۲۱. کمکهای اولیه چیست؟

- ۱ - به اقدامات اولیه ای گویند که بلافاصله پس از بروز سانحه و قبل از رسیدن به مرکز درمانی صورت می گیرد.
- ۲ - به اقدامات اولیه ای گویند که در در مانگاه یا مرکز اورژانس انجام می شود.
- ۳ - به اقدامات اولیه ای گویند که مسدوم را در محل حادثه از خطر مرگ ضمن نجات دهد.
- ۴ - به اقدامات صورت گرفته توسط پرسنل آن در مرکز اورژانس گویند.

۲۲. رانندگان برخاستگر معمولاً در رانندگی به چه رفتارهایی متوسل می شوند؟

- ۱ - مانور و تغییر مسیر به طور مکرر، سوئی رندهای پیچیده و مکرر، عبور از خط مقابل برای رهایی از ترافیک
- ۲ - تعویض به سایر رانندگان استفاده از نورهای تازی نسبت کردن رانندگان مقابل، تغییر مسیر ناگهانی و خطر آفرین
- ۳ - قرار گرفتن به سمت طولانی در خط سرعت به منظور تشویه اتومبیل پشت سر
- ۴ - همه موارد



آزمون آیین نامه راهنمایی و رانندگی

۱۹۳۷۰ (کتابخانه راهنمایی و رانندگی پایه سوم)

زمان ۳۰ دقیقه

سازمان راهنمایی و رانندگی

احداثی ۳۰ سوال

از کادامتن هر گونه کتاب بر روی برگه آزمون گذاشتن ممنوع است



۱. کدام تابلو بیانگر سمت ممنوع می باشد؟

۲. عنوان این تابلو چیست؟



۱- تقاطع راه آهن یا راهبند

۲- خطر سقوط در آب

۳- راه لغزنده

۴- پل متحرک



۳. این تابلویانگر چیست؟

۴. عنوان این تابلو چیست؟



۱- بین بست

۲- پایان آزادراه

۳- تقاطع

۴- تونل

۱- عبور یا ارتفاع بیش از ۳/۵ متر ممنوع

۲- عبور یا عرض بیش از ۳/۵ متر ممنوع

۳- عبور وسایط نقلیه یا وزن بیش از ۳/۵ تن ممنوع

۴- عبور یا بار بیش از ۳/۵ تن بر هر محور ممنوع

۵. این برجسب بیانگر چیست؟

۶. این تابلویانگر چیست؟



۱- تلفن عمومی

۲- راننده معلول

۳- بوق زدن ممنوع

۴- راننده ناشنوا

۱- پایان محدوده توقف ممنوع

۲- محدوده توقف ممنوع در ساعات معین

۳- پایان محدوده پارک آزاد

۴- منطقه محدودیت سرعت

۲۳ در این تقاطع حق تقدم عبور به ترتیب با کدام رنگ می باشد؟



۱- قرمز، سبز، آبی

۲- سبز، آبی، قرمز

۳- آبی، قرمز، سبز

۴- قرمز، آبی، سبز

۲۴ در کدام یک خطوط انشعاب نمایش داده شده است؟



۲۵ در این شکل حق تقدم عبور به کدام خودرو است؟



۱- خودروی ۱

۲- سنگی به سرعت خودرو ندارد

۳- خودروی ۲

۴- هر دو با هم می توانند عبور نمایند

۲۶ نسبت گرفتن از وسیله نقلیه ای که خود در حال سفت است ...

۱- مجاز است

۲- چنانچه احتمال تصادف نباشد مجاز است

۳- تحت هر شرایطی ممنوع است

۴- ممنوع است مگر در راهی که به دلیل وجود سه خط عبور یا بیشتر این عمل مجاز باشد

۲۷ انجام کدام یک از اعمال زیر در خصوص زخمیهای سخته تصادف نادرست است؟

۱- دلتجویی از آنها

۲- گرم نگه داشتن آنها

۳- ایجاد شرایطی که زخمیها تنها نمائند

۴- دادن خوراکی به افراد زخمی

۲۸ در برخورد با یک مصدوم بیهوش مهم ترین اقدام چیست؟

۱- گرفتن فشار خون بیهوش

۲- باز کردن راه تنفسی و حفظ گردش خون

۳- بلند کردن دست های مصدوم

۴- نشان دادن مصدوم روی صندلی



۲۹ مفهوم این تابلو چیست؟

۱- عبور دو طرفه

۲- حق تقدم عبور با وسیله نقلیه مقابل است

۳- عبور از هر دو طرف ممنوع

۴- توقف در روزهای زوج ممنوع

۳۰ تابلوهای زیر که در راهها نصب می شوند به چه معناست؟



۱- فاصله را تا خروجی بعدی نشان می دهند

۲- فاصله را تا تقاطع جاده و راه آهن نشان می دهند

۳- فاصله خروجی تا آزادراه را نشان می دهند

۴- فاصله را تا محل بازرسی پلیس نشان می دهند

۷. خطوط طولی نشان دهنده شده در این نقشه
به نوع خطوطی می باشد؟



- ۱ - خط عرض یا بریده بریده
- ۲ - خط عرض و خط طول ترکیبی
- ۳ - خط طولی مستقیم
- ۴ - خطوط موازی

۹. کدامیک از موارد زیر در خصوص رانندگی در
تنگ صحر است؟

- ۱ - میزان تصادفات در شب کاهش می یابد
- ۲ - در شب دیدن تصوری طول می کشد تا راننده
موانع موجود را بیند
- ۳ - چشمانه دید راننده در شب کاهش می یابد
- ۴ - با افزایش سرعت در شبها می توان کاهش دید
را جبران کرد

۱۱. که بودن عمیق تیرا میسر نه چه می شود؟

- ۱ - کاهش مقدار استنشاق موقت تیر و مسدود راه
- ۲ - افزایش احتمال آسیب به تیر
- ۳ - سر خوردن موتور و به ویژه در سطوح خشن یا مرطوب
- ۴ - تمام موارد

۸. در تقاطع رودرو که فاصله چراغ راهنمایی است
حق تقدم با کدام خودرو می باشد؟



- ۱ - خودروی شماره ۱
- ۲ - خودروی شماره ۲
- ۳ - خودروی شماره ۳
- توارد ۳ و ۲

۱۰. کدامیک از موارد زیر در خصوص سرعت و
حرکت صحیح می باشد؟

- ۱ - بیشتر وسیله نقلیه در مسوحتی پایین مسواری
تند حرکت است
- ۲ - صداهات و نوسانات در تصادفات با سرعت زیاد
بسیار بیشتر است
- ۳ - در مسوحتی بالاتر راننده واکنش نسبت به مخرات
بسیار آهسته تر می باشد
- ۴ - سایر موارد بر آن راه بدلیل سرعت بالای وسیله
نقلیه شما، زمان واکنش زیادی خواهند داشت

۱۲. منظور از توقف چیست؟

- ۱ - ایستت وسیله نقلیه در زمان طولانی بدون
حضور راننده
- ۲ - ایستت وسیله نقلیه در زمان کوتاه
- ۳ - ایستت وسیله نقلیه در زمان طولانی با
حضور راننده
- ۴ - ایستت وسیله نقلیه برای هر مدت ممنوع

۱۲. کدام مورد زیر از علائم خستگی و خواب
آلودگی راننده می باشد؟

- ۱ - تکرر در رانندگی
- ۲ - توانایی کنترل خودرو و بین خطوط حرکت
- ۳ - داشتن سرعت واکنش مناسب نسبت به شرایط
- ۴ - عدم کنترل آگاهانه بر سرعت خودرو

۱۵. استفاده از جنوع های جسیک زن و
رنکارند در وسایل نقلیه ...

- ۱ - برای دید بیشتر اشیا و تشخیص موانع ندارد
- ۲ - موانع ندارد
- ۳ - ممنوع است مگر با حضورهای لازم از
مراجع امنیاع
- ۴ - نسبت هر شرایطی حتی ایست مجبور نیز
ممنوع است

۱۷. در شهرها و مناطق مسکونی، در خیابان های
شهریان امنی عداکتر سرعت چند کیلومتر بر
ساعت است؟

- ۱ - ۱۰۰
- ۲ - ۶۵
- ۳ - ۶۰
- ۴ - ۸۵

۱۹. چه هنگام می توان از ترمز دستی
استفاده نمود؟

- ۱ - تنها در مسوحتی بالا
- ۲ - در هر شرایطی
- ۳ - هنگام توقف خودرو و یا در مسوحتیهای
پایین
- ۴ - هنگام توقف در سرازیریها یا سربالاییها

۲۱. کدامیک از موارد زیر جان فرد را نسبت به
نوار دیگر دیرتر به خطر می اندازد؟

- ۱ - فقدان تنفس
- ۲ - بالا بودن درجه حرارت بدن
- ۳ - فقدان ضربان قلب
- ۴ - خونریزی شدید

۱۶. با مشاهده چراغ قرمز راهنمایی و در صورت
نبودن خط ایست برای توقف، در چند متری
چراغ باید توقف کنید؟

- ۱ - دو متری
- ۲ - سه متری
- ۳ - پنج متری
- ۴ - چهار متری

۱۸. استفاده از کدام نوع کمر بند ایمنی در خودرو
الزامی است؟

- ۱ - نوع کمر بند ایمنی مهم نیست
- ۲ - دو نقطه ای
- ۳ - کمر بند زان
- ۴ - سه نقطه ای

۲۰. کدام جمله درباره کبسه هوا صحیح تر می باشد؟

- ۱ - کبسه هوا هنگام تشخیص مبرده نشین از
تصادف در کسوی از تانیه بزر می شود
- ۲ - فعال شدن کبسه هوا در مخرتی که کمر بند ایمنی
بسته نشده باشد، تابع نظری خواهد داشت
- ۳ - یکی از تکنولوژی های پیشرفته در زمینه ایمنی
خودرو، سنسور کبسه هوا یا ایربگ می باشد
- ۴ - با وجود کبسه هوا دیگر نیازی به کمر بند
ایمنی نمی باشد

۲۲. قرار گرفتن طولانی مدت رانندگان در شرایط
نامساعد زیست محیطی میسر نه چه می شود؟

- ۱ - کسب انرژی مثبت و تلاش مضاعف
- ۲ - رانندگی سالم و حفظ حقوق احتمالی دیگران
- ۳ - تحریک پذیری، عصبانیت زود هنگام و پرخاشگری
- ۴ - رانندگی ایمن و رعایت اصول رانندگی صحیح



آزمون آیین نامه راهنمایی و رانندگی

۱۳۷۳۴۵ (کتابخانه رانندگی پایه سوم)

زمان ۳۰ دقیقه

شماره آزمون ۳۰۵

تعداد: ۳۰ سؤال

از درج شده در این آزمون در هر سؤال یک جواب درست و سه جواب نادرست درج شده است.

Handwritten signature



۲۲. در این شکل چه موردی را هشدار می دهد؟
 ۱- ابتدا ۳۰ سپس ۵۰ یا ۶۰
 ۲- همه ترتیب ۳- ۱-۲-۳
 ۳- ابتدا ۱ و ۲ یا ۶۰ سپس ۳
 ۴- همه ترتیب ۱-۲-۳



۲۳. این شکل چه موردی را هشدار می دهد؟
 ۱- زرد، سبز، خودروی امدادی
 ۲- خودروی امدادی، زرد، سبز
 ۳- خودروی امدادی، سبز، زرد
 ۴- زرد، سبز، خودروی امدادی

۲۴. اگر هنگام رانندگی در آزاد راه تابلو خودرو بخر شود چه باید کرد؟
 ۱- باید در همان محل توقف کرد
 ۲- باید در خط توقف اضطراری توقف کرد
 ۳- می توان در بین خطوط عبوری آزاد راه توقف کرد
 ۴- موارد ۱ و ۲ صحیح می باشند

۲۵. ایستادن یا توقف وسایل نقلیه در کدام یک از محلهای زیر ممنوع است؟
 ۱- در فاصله ۵ متری میدان یا تقاطع یا سه راهها یا تقاطع راه آهن
 ۲- پیاده رو و گذرگاه پیاده
 ۳- از ۵ متری ورودی مراکز آتش نشانی
 ۴- از ۵ متری ورودی مراکز فوریت های پزشکی

۲۶. کدام یک از تابلوهای زیر به معنای خطر می باشد؟
 ۱- (۱)
 ۲- (۲)
 ۳- (۳)
 ۴- (۴)

۲۷. کدام یک از تابلوهای زیر راننده را از انجام عملی باز می دارد؟
 ۱- (۱)
 ۲- (۲)
 ۳- (۳)
 ۴- (۴)

۲۸. منظور از تخطی از محدودیت های سرعتی در راه ها کدام است؟
 ۱- رعایت سرعت مطمئنه
 ۲- عدم رعایت سرعت مجاز تعیین شده
 ۳- رعایت قوانین و مقررات تعیین شده
 ۴- تجاوز به حریم قانونی دیگران

۲۹. در این شکل حق تقدم عبور عبارتست از:
 ۱- زرد، سبز، خودروی امدادی
 ۲- خودروی امدادی، زرد، سبز
 ۳- خودروی امدادی، سبز، زرد
 ۴- زرد، سبز، خودروی امدادی



۳۰. منظور از تخطی از محدودیت های سرعتی در راه ها کدام است؟
 ۱- رعایت سرعت مطمئنه
 ۲- عدم رعایت سرعت مجاز تعیین شده
 ۳- رعایت قوانین و مقررات تعیین شده
 ۴- تجاوز به حریم قانونی دیگران



۲۹. در این شکل حق تقدم عبور عبارتست از:
 ۱- زرد، سبز، خودروی امدادی
 ۲- خودروی امدادی، زرد، سبز
 ۳- خودروی امدادی، سبز، زرد
 ۴- زرد، سبز، خودروی امدادی


۱. کدام تابلو بیانگر تقاطع نمی باشد؟



۲. کدام یک جزو تابلوهای جانبی نمی باشد؟




۳. این تابلو بیانگر چیست؟



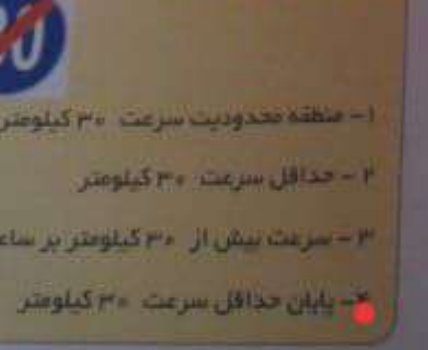
۴. این تابلو بیانگر چیست؟



۴. این تابلو بیانگر چیست؟




۵. این تابلو بیانگر چیست؟



۱- سازمان امداد و نجات جاده ای
 ۲- مرکز درمانی واقع در جاده
 ۳- پست امدادی
 ۴- بیمارستان

۱- منطقه محدودیت سرعت ۳۰ کیلومتر
 ۲- حداقل سرعت ۳۰ کیلومتر
 ۳- سرعت بیش از ۳۰ کیلومتر بر ساعت ممنوع
 ۴- پایان حداقل سرعت ۳۰ کیلومتر



۳۰. منظور از تخطی از محدودیت های سرعتی در راه ها کدام است؟
 ۱- رعایت سرعت مطمئنه
 ۲- عدم رعایت سرعت مجاز تعیین شده
 ۳- رعایت قوانین و مقررات تعیین شده
 ۴- تجاوز به حریم قانونی دیگران



۲۹. در این شکل حق تقدم عبور عبارتست از:
 ۱- زرد، سبز، خودروی امدادی
 ۲- خودروی امدادی، زرد، سبز
 ۳- خودروی امدادی، سبز، زرد
 ۴- زرد، سبز، خودروی امدادی



آزمون آیین نامه راهنمایان و رانندگی

۱۷۱۳۷۳ (کتابخانه رانندگی پایه سوم)

زمان ۳۰ دقیقه

سازمان آیین نامه

تعداد: ۲۰ سوال

از ۱۰ امتیاز هر گونه نمره منفی نمره آزمون شما نخواهد بود. در صورتی که نمره شما کمتر از ۱۰ باشد، آزمون شما باطل است.



۱ کدام نشانه بیانگر این است که فقط عبور راست مجاز می باشد؟




۲ عنوان این تابلو چیست؟

۱ - سرعت انداز

۲ - برآوردگی

۳ - ریزش سنگ

۴ - سربالایی خطرناک



۲ این تابلو بیانگر چیست؟



۱ - ارتفاع حق تقدم

۲ - به تابلو ایست نزدیک می شوند

۳ - به تابلو ثابت حق تقدم عبور نزدیک می شوید

۴ - به تابلو خطر نزدیک می شوید

۲ این تابلو بیانگر چیست؟



۱ - گردش به راست ممنوع

۲ - گردش به چپ ممنوع

۳ - پیچ به راست

۴ - پیچ به راست بدون محدودیت

۵ این تابلو بیانگر چیست؟




۱ - جایگاه سوخت

۲ - پست امدادی

۳ - استراحتگاه

۴ - تعمیرگاه

۶ این تابلو بیانگر چیست؟



۱ - سرعت توصیه شده

۲ - طول ممنوعیت یا محدودیت پارکینگ

۳ - طول محدوده خطر

۴ - حاشیه تعالی دوطرفه

۲۲ کدام یک به معنای راننده مجوز است؟



۲



۱





۴



۳

۲۳ اجسام دایره کدام گزینه درست است؟



۱ - استفاده از نور بالا
۲ - استفاده از نور کم
۳ - استفاده از نور بالا در صورت گشاده
۴ - استفاده از نور بالا در شب

۲۵ کدام گزینه نادرست است؟
۱ - در رانندگی نباید کسی که پوشش ایمنی را ندارد
۲ - در رانندگی نباید کسی که پوشش ایمنی را ندارد
۳ - در رانندگی نباید کسی که پوشش ایمنی را ندارد
۴ - در رانندگی نباید کسی که پوشش ایمنی را ندارد

۲۶ کدام گزینه در باره عبور و توقف در مسیرهای ویژه اتوبوس نادرست است؟
۱ - به غیر از اتوبوسها دیگران نباید در این مسیرها توقف کنند
۲ - در صورت نبودن پلیس می توان از خطوط ویژه استفاده نمود
۳ - در صورت ترافیک سنگین می توان از مسیر ویژه اتوبوس عبور کرد
۴ - در صورت ترافیک سنگین می توان از مسیر ویژه اتوبوس عبور کرد

۲۸ اجسام کدام یک از اعمال زیر در خصوص رخصتهای سخته تصادف نادرست است؟
۱ - دلفوس از آنها
۲ - گرم نگه داشتن آنها
۳ - ایجاد شرایطی که رخصتهای آنها نمانند
۴ - دادن تورلنگ به افراد رخص

۲۷ در این تقاطع، حق تقدم عبور به ترتیب با کدام خودروها می باشد؟



۱ - زرد، آبی، نارنجی

۲ - آبی، زرد، نارنجی

۳ - نارنجی، آبی، زرد

۴ - نارنجی، زرد، آبی

۲۹ در این تصویر عمده ترین خطری که راننده اتومبیل پشت سر با آن مواجه خواهد بود کدام است؟



۱ - ممکن است دوچرخه سوار ترمز کند و ایستد

۲ - ممکن است دوچرخه سوار ناگهان به داخل خیابان متعارف شود

۳ - ممکن است دوچرخه سوار ناگهان به سمت راست رفته و ایستد

۴ - ممکن است دوچرخه سوار ناگهان توقف نماید

۳۰ در امداد رسانی، این جمله به کدام مورد مربوط می شود: «خیلی سریع و کم کمال فوسردی حادثه را بررسی نماید»
۱ - این کردن عمل حادثه
۲ - ارائه کمک های اولیه
۳ - ارزیابی موقعیت
۴ - درخواست کمک

۷ خطوط خاور از رانندگان دهنده چیست؟



- ۱- محل توقف
- ۲- محل استراحت
- ۳- وجود جاذب
- ۴- منطقه تر

۸ خودرویی که با دایره مشخص شده است به کدام یک از خودروها باید حق تقدم عبور بدهد؟



- ۱- خودروهای ۱ و ۲
- ۲- خودروهای ۱ و ۳
- ۳- خودروهای ۲ و ۳
- ۴- به همه خودروها

۱۰ کدام یک از موارد زیر در خصوص حرکت با سرعت زیاد صحیح نمی باشد؟

- ۱- صداهات و تلفات در تصادفات با سرعت زیاد بیشتر است.
- ۲- در سرعتهای بالا زمان واکنش نسبت به خطرات بسیار افزایش می یابد.
- ۳- احتمال گشته شدن در تصادفات با سرعتهای بالا بسیار زیاد است.
- ۴- کنترل وسیله نقلیه در سرعتهای بالا بسیار سخت است.

۹ در کدام یک از سطوح زیر مسافت توقف افزایش می یابد؟

- ۱- کمتهات زیر
- ۲- آسفالت با شیب منسوب و من خشک
- ۳- در جاده های مسطح
- ۴- کمتهات با شیب منسوب و آشفته به قیر

۱۲ حداکثر میزان سرعت مجاز انواع سواری در بزرگراه های بدون تسمه ای چند کیلومتر در ساعت است؟

- ۱- ۱۲۰
- ۲- ۱۲۵
- ۳- ۱۱۰
- ۴- ۱۰۰

۱۱ حداقل عمق شیار تایرها چند حلیس مترو باید باشد؟

- ۱- ۴
- ۲- ۱۵
- ۳- ۱/۵
- ۴- ۲/۵

۱۴ از چند متری بیخ ها سفت گرفتن ممنوع است؟

- ۱- ۳۰ متری
- ۲- ۵۰ متری
- ۳- ۴۰ متری
- ۴- سفت گرفتن در بیخ ها محدودیت ندارد

۱۳ هنگامه وسیله نقلیه ای تسب در کنار و بیرون سطح راه توقف نماید و نور کالی در آن محل برای تشخیص اشخاص از فاصله ۱۵۰ متری وجود نداشته باشد انجام کدام مورد زیر ممنوع است؟

- ۱- روشن نگهداشتن چراغهای کوچک جلو و خطر عقب وسیله نقلیه
- ۲- روشن نمودن چراغهای بزرگ با نور بالا
- ۳- نگهداشتن پدال ترمز برای روشن شدن چراغ ترمز
- ۴- روشن نمودن راهنمای سفت راست خودرو

۱۵ رانندگان هنگام روزه رو شدن بنا وسایل نقلیه ای که در جهت مخالف حرکت می کنند حداقل از چند متری از چراغ عبور (نور تابش) استفاده می نمایند؟

- ۱- ۵۰ متری
- ۲- ۱۰۰ متری
- ۳- ۱۵۰ متری
- ۴- ۲۵۰ متری

۱۶ در کنترل و تنظیم عبور و مرور کدام مورد بر سایرین مقدم است؟

- ۱- تکمیل و ترسیم ها
- ۲- چراغ راهنمایی
- ۳- قرعان ایمن
- ۴- تابلوهای راهنمایی

۱۷ در بزرگراه های بدون تسمه ای حداکثر سرعت چند کیلومتر در ساعت است؟

- ۱- ۱۱۰
- ۲- ۱۲۰
- ۳- ۱۰۰
- ۴- ۱۲۵

۱۸ دستگاهی است که انرژی حرارتی و شیمیایی موجود در سوخت را به انرژی جنبش یا مکانیکی تبدیل می کند.

- ۱- دیفرانسیل
- ۲- گیربکس
- ۳- موتور
- ۴- اگزوز

۱۹ در این تقاطع، حق تقدم عبور به ترتیب با کدام یک می باشد؟



- ۱- دوجرخه، سواری، کامیون
- ۲- کامیون، دوجرخه، سواری
- ۳- سواری، دوجرخه، کامیون
- ۴- کامیون، سواری، دوجرخه

۲۰ میزان کارایی روغن های معمولی موتور چند کیلومتر می باشد؟

- ۱- در حدود ۲ هزار کیلومتر
- ۲- در حدود ۸۰ تا ۱۰۰ هزار کیلومتر
- ۳- در حدود ۸ تا ۱۰ هزار کیلومتر
- ۴- هزار کیلومتر

۲۱ هنگام ارائه کمکهای اولیه و دادن تنفس مصنوعی، پس از چه مدت باید گردش خون مصنوعی را بررسی نمود؟

- ۱- پس از هر ۱۰ بار تنفس مصنوعی (تقریباً یک دقیقه)
- ۲- پس از هر ۳۰ بار تنفس مصنوعی (تقریباً دو دقیقه)
- ۳- پس از هر ۵۰ بار تنفس مصنوعی (تقریباً پنج دقیقه)
- ۴- در هنگام دادن تنفس مصنوعی نیازی به بررسی گردش خون نیست.

۲۲ کدام یک از مهمترین عوامل و خصوصیات است که موجب عملکرد ضعیف یک راننده می شود؟

- ۱- عدم شناسایی و تشخیص ناخبرست حوادث غیرمنتظره و حادثه ساز
- ۲- نداشتن تمرکز در حین رانندگی
- ۳- نداشتن توجه کامل به ایمنی سایر کاربران ترافیک
- ۴- تمام موارد

۱۷. مفهوم دو خط عمود منتهی در این شکل چیست؟



۱- محور از روی آن خط برای سنجش عمود بودن خطوط دیگر است.
۲- محور از روی آنها در هر شرایطی عمود است.
۳- هر دو خط عمود هستند و عمود بودن آنها به هیچ وجه از روی این خطوط صور نمی‌دهد.
۴- محور سواری از روی آنها عمود است.

۱۸. در کدامیک از موارد زیر باید سوزن بالا را به سوزن پایین نگاه داشت؟

- ۱- زمانی که فاصله سوزن با خودروی که در جلوی شما حرکت می‌کند ۱۵۰ متر یا بیشتر باشد.
- ۲- زمانی که فاصله شما با خودروی که از عقب به شما نزدیک می‌شود ۱۵۰ متر یا کمتر باشد.
- ۳- زمانی که فاصله شما با خودروی که در جلوی شما حرکت می‌کند ۲۰۰ متر یا کمتر باشد.
- ۴- زمانی که خودروی سوزن بالا به سوزن پایین به جز در داده‌های زیر رفت و آمد نیست.

۱۹. کدام گزینه در مورد باد تیر صحیح تر است؟

- ۱- باد تیر بدون تیرها هم می‌تواند فرمان خودرو را فرمانی دهد.
- ۲- کوبیدن باد تیرها باعث کاهش مصرف سوخت می‌شود.
- ۳- کوبیدن باد بدون تیرها باعث فرسایش تیرها از سمت راست تعادل و هدایت و فرمانپذیری هنگام برانگیختن می‌شود.
- ۴- باد تیر زدن را می‌توان تقلیه و به همان شکل آن را نگهداری نمود.

۲۰. در صورت خرابی وسیله نقلیه و مسیر نبودن انتقال آن به محل مناسب، چراغ الکترونیکی را برای آگاه سازی دیگران باید در چه فاصله ای از وسیله نقلیه قرار داد؟

- ۱- ۱۰۰ متری
- ۲- ۲۰۰ متری
- ۳- ۱۵۰ متری
- ۴- ۷۰ متری

۲۱. مفهوم شکل لوزی در علائم عبور و مرور چیست؟



- ۱- علامت دستوری بازمانده
- ۲- صرفاً برای رعایت حق تقدم
- ۳- معمولاً برای اعلام رانندگی
- ۴- شروع و پایان حق تقدم عبور

۲۲. در کدامیک از موارد زیر اتصال وسیع‌تر است؟

- ۱- هوای خشک - شرایط جاده استاندارد
- ۲- وجود مه - ریزش باران - کولاک
- ۳- وجود مه - ریزش باران - شرایط جاده استاندارد
- ۴- وجود جاده و دست انداز در جاده - ریزش باران

۲۳. در این شکل حق تقدم عبور با کدام خودرو است؟

- ۱- خودروی آبی با دایره مشخص شده است.
- ۲- خودروی که خارج میدان قرار دارد.
- ۳- سنگی به جهت حرکت خودرو دارد.
- ۴- سنگی به مسیر چپای خودرو دارد.



۲۴. از چند متری تقاطع راه آهن سفت گرفتن ممنوع است؟

- ۱- ۵۰ متری
- ۲- ۱۰۰ متری
- ۳- ۱۵۰ متری
- ۴- محدودیت ندارد

۲۵. برای گردش به چپ در راه های شهری استاندارد شده دارای دو خط عبور چیست و بر کدام یک باید توقف نمود؟

- ۱- در سمت چپ راه قرار گرفته و سپس با رعایت اولویت گردش نماید.
- ۲- در سمت چپ راه توقف نماید.
- ۳- در سمت راست راه و با رعایت اولویت گردش نماید.
- ۴- در سمت چپ راه قرار گرفته و در آنجا باید توقف نماید.

۲۶. در خدایمان کسریان فرعی در شهرها، حداکثر سرعت چند کیلومتر در ساعت است؟

- ۱- ۵۰
- ۲- ۶۰
- ۳- ۷۰
- ۴- ۸۵

۲۷. تیرهای تریلیک فرمان می‌توانند تانسی از کدام نقص باشد؟

- ۱- خرابی جعبه دنده
- ۲- پائین نمودن چرخ ها
- ۳- تمام شدن صفحه کلاج
- ۴- پایین بودن سطح سوخت

۲۸. در خصوص آتش سوزی خودرو انجام کدامیک از موارد زیر صحیح تر می باشد؟

- ۱- در هنگام آتش سوزی خودرو باید ابتدا از شعله دور شدن خودرو خودرو جلوگیری بعمل آورد.
- ۲- در هنگام آتش سوزی خودرو باید ابتدا قسمتهای داخلی خودرو را خاموش نمود.
- ۳- در صورت وجود کیپسول آتش نشانی با استفاده از آن آتش را خاموش نموده و در صورت عدم وجود کیپسول آتش نشانی با پنو یا یک جسم غیر فلزی شعله را خاموش کنید.
- ۴- اتصال اعتبار خودرو در صورتی که شعله به داخل خودرو انتقال باید زیاد است.

۲۹. کدام چراغ راهنما جهت سبقت در مسافت طولانی و راه های بزرگ تر مناسب تر است؟

- ۱- چراغ چشمک زدن کوتاه برای راست
- ۲- چراغ چشمک زدن کوتاه
- ۳- چراغ چشمک زدن بلند
- ۴- چراغ چشمک زدن بلند برای چپ

۳۰. هدف از ... تسلط کامل باها و دستها بر تجهیزات کنترلی همچون بدنه ها، اهرمها و غیره یک فرمان می باشد.

- ۱- تعادلهایی
- ۲- تنظیم آینه ها
- ۳- سلامت کلی
- ۴- تنظیم صندلی

۳۱. کدام جزو وظایف سیستم تعلیق نمی باشد؟

- ۱- کنترل قدرت و شتاب خودرو
- ۲- تضمین راحتی راننده
- ۳- حفظ تعادل و پایداری خودرو هنگام عبور از پستی یا بلندی ها
- ۴- صافیت از واژگونی خودرو هنگام عبور از پیچها

۳۲. این صفات جزو کدام نوع از رانندگان می باشد: متاور و تغییر مسیر به طور مکرر، بوق زدنهای مینوده و مکرر و عبور از خط مقابل برای رهایی از ترافیک

- ۱- رانندگان عصب
- ۲- رانندگان پرخاشگر
- ۳- رانندگان جوان
- ۴- رانندگان بی تجربه

۱۶. مقصد کمربند ایمن‌سازی پلیس به دو قسم است:
 ۱- تقویت ایمنی در حین حرکت
 ۲- جلوگیری از آسیب‌های وارسی در صورت بروز حادثه



۸. از شکل مساوی‌الساق (است روی قائمه) سوالی برای سه نوع تابلوهای استفاده می‌شود:



- ۱- دستوروی و سرعت
- ۲- علامت راهنما
- ۳- علامت هشدار دهنده برای خطر
- ۴- دستوروی یا بازدارنده

۱۰. کدامیک از موارد زیر در خصوص عبور از روی خط آهن صحیح می‌باشد؟
 ۱- در طول عبور از خط آهن دنده خودرو باید از دنده سنگین به دنده سبک تغییر داد.
 ۲- در طول عبور از خط آهن دنده خودرو باید از دنده سبک به دنده سنگین تغییر داد.
 ۳- در طول عبور از خط آهن دنده خودرو را نباید تعویض نمود.
 ۴- قبل از رسیدن به خط آهن باید سرعت را افزایش داد و با سرعت از خط آهن عبور نمود.

۱۰. کدامیک از موارد زیر صحیح است؟
 ۱- جلی مسافر در قسمت تکر یا دستوروی ممنوع است.
 ۲- سبقت گرفتن برای اتوبوسها و کامیونها ممنوع است.
 ۳- از ۱۵۰ متر مانده به ورودی نوبتها و پل ها سبقت ممنوع است.
 ۴- از ۱۰۰ متر مانده به پنج هاتا ۱۰۰ متر پس از آن سبقت گرفتن ممنوع است.

۱۱. در همه شرایطی می‌توان مانع سفت گرفتن خودروی در حال سفت شدن؟
 ۱- زمانی که هوا رو به تاریکی است
 ۲- زمانی که سرعت خودرو سبقت گرفته خلی زیاد باشد
 ۳- زمانی که شرایط بارانی یا برفی است
 ۴- در هیچ شرایطی

۱۲. در کنترل و تنظیم عبور و مرور کدام مورد بر سایرین مقدم است؟
 ۱- خط کشی و ترسیم ها
 ۲- چراغ راهنمایی
 ۳- فرمان پلیس
 ۴- تابلوهای راهنمایی

۱۲. حداکثر سرعت در آزادراه های سه‌تون شهری برای انواع سواری چند کیلومتر در ساعت است؟
 ۱- ۱۴۵
 ۲- ۱۰۰
 ۳- ۱۲۰
 ۴- ۹۵

۱۴. در تقاطع هم عرض اگر دو وسیله نقلیه ای که روستوی یکدیگر در حرکت باشند یا هم وارد خیابان مجاور واحدی شوند حق تقدم عبور با وسیله نقلیه ای است که.....
 ۱- در طرف راست وسیله نقلیه دیگر قرار دارد
 ۲- به سمت راست گردش می‌کند
 ۳- سرعت بیشتری دارد
 ۴- در حال گردش به چپ می باشد

۱۴. در تقاطع هم عرض اگر دو وسیله نقلیه ای که روستوی یکدیگر در حرکت باشند یا هم وارد خیابان مجاور واحدی شوند حق تقدم عبور با وسیله نقلیه ای است که.....
 ۱- در طرف راست وسیله نقلیه دیگر قرار دارد
 ۲- به سمت راست گردش می‌کند
 ۳- سرعت بیشتری دارد
 ۴- در حال گردش به چپ می باشد

۱۵. منظور از ایست وسیله نقلیه در زمان کوتاه کدام است؟
 ۱- ایستادن
 ۲- ایستادن ممنوع
 ۳- ایست وسیله نقلیه برای هر جهت ممنوع
 ۴- پارک خودرو

۱۶. هنگام توقف اگر وسیله نقلیه در حالت ایستاده باشد باید.....
 ۱- دست راست را به طرف پایین نگاه داشت
 ۲- دست چپ را به طرف پایین نگاه داشت
 ۳- دست چپ را به طور افقی نگاه داشت
 ۴- دست راست را به طور افقی نگاه داشت

۱۷. در جاده های اصلی بیرون شهر حداکثر سرعت در شب ها چند کیلومتر در ساعت است؟
 ۱- ۸۵
 ۲- ۹۵
 ۳- ۶۵
 ۴- ۷۰

۱۸. مهمترین نکته ای که در خرید خودرو باید در نظر داشت چیست؟
 ۱- سطح ایمنی
 ۲- نوع خودرو
 ۳- زیبایی ظاهری
 ۴- تجهیزات رفاهی

۱۹. سطح روغن موتور را با چه وسیله می‌توان کنترل نمود؟
 ۱- پمپ روغن
 ۲- در مخزن روغن
 ۳- فیلتر روغن
 ۴- سیم روغن (کچ روغن)

۲۰. مهم ترین وظایف روغن در موتور چیست؟
 ۱- صرفاً روان کاری قطعات
 ۲- خنک کاری قطعات
 ۳- روانکاری قطعات، کمک به خنک کاری
 ۴- جلوگیری از ورود گرد و غبار به موتور

۲۱. در کدامیک از موارد زیر دور کردن خود و اطرافیان از صحنه تصادف از اهمیت بیشتری نسبت به سایر موارد برخوردار است؟
 ۱- در حوادثی که خطر آتش‌نقیر جاری شدن سیلاب، خطر سار یا گازهای سمی وجود دارد
 ۲- در حوادثی که تعداد مصدومین کم می باشد
 ۳- در تصادفات خودروهای عمومی که امداد رسانی کلیه افراد ممکن نمی باشد
 ۴- در مواردی که خودرو در کنار راه قرار نداشته باشد


۲۲. کدام گزینه نادرست است؟
 ۱- حرکات نوسانی سر و گردن از علامت خواب آلودگی است.
 ۲- عدم درک مناسب از موقعیت و شرایط موجود از نشانه های خستگی در رانندگی است.
 ۳- عواطف و احساسات بر سیستم اعصاب رانندگان تأثیر خاصی ندارد.
 ۴- یکی از نشانه های خستگی که عملکرد راننده را مختل می سازد مشروبات الکلی است.

۲۳. در کدامیک از موارد زیر دور کردن خود و اطرافیان از صحنه تصادف از اهمیت بیشتری نسبت به سایر موارد برخوردار است؟
 ۱- در حوادثی که خطر آتش‌نقیر جاری شدن سیلاب، خطر سار یا گازهای سمی وجود دارد
 ۲- در حوادثی که تعداد مصدومین کم می باشد
 ۳- در تصادفات خودروهای عمومی که امداد رسانی کلیه افراد ممکن نمی باشد
 ۴- در مواردی که خودرو در کنار راه قرار نداشته باشد

۲۴. کدام گزینه نادرست است؟
 ۱- حرکات نوسانی سر و گردن از علامت خواب آلودگی است.
 ۲- عدم درک مناسب از موقعیت و شرایط موجود از نشانه های خستگی در رانندگی است.
 ۳- عواطف و احساسات بر سیستم اعصاب رانندگان تأثیر خاصی ندارد.
 ۴- یکی از نشانه های خستگی که عملکرد راننده را مختل می سازد مشروبات الکلی است.

۲۵. در کدامیک از موارد زیر دور کردن خود و اطرافیان از صحنه تصادف از اهمیت بیشتری نسبت به سایر موارد برخوردار است؟
 ۱- در حوادثی که خطر آتش‌نقیر جاری شدن سیلاب، خطر سار یا گازهای سمی وجود دارد
 ۲- در حوادثی که تعداد مصدومین کم می باشد
 ۳- در تصادفات خودروهای عمومی که امداد رسانی کلیه افراد ممکن نمی باشد
 ۴- در مواردی که خودرو در کنار راه قرار نداشته باشد

۹. مفهوم شکل هندسی که متقابل در مقابل هم قرار می‌گیرد و هم‌پهن است؟



۱۰. چرا لنگه و کفش بدون سوراخ در کف خود نمی‌باشد؟

- ۱- چون باعث کاهش دید می‌شود.
- ۲- چون باعث کاهش انعکاس نور می‌شود.
- ۳- چون باعث افزایش انعکاس نور می‌شود.
- ۴- شیشه بودن و کثیف بودن شیشه‌ها خطر آفرین نمی‌باشد.

۱۱. کدام گزینه در مورد راستگی این درست است؟

- ۱- در بعضی موارد لازم است از حق خود چشم‌پوشی کنید.
- ۲- تحت هیچ شرایطی نباید از حق خود چشم‌پوشی کنید.
- ۳- در شرایط اضطراری نمی‌توان تا حدودی حقوق خود را نادیده گرفت.
- ۴- همیشه با سرعت بالا حرکت کنید تا زودتر به مقصد برسید.

۱۲. برای تغییر مسیر به سمت راست اگر وسیله نقلیه موتوری چراغ‌ها را چنانچه باشد باید ...

- ۱- دست چپ را به طرف بالا نگاه داشت.
- ۲- دست راست را به طرف بالا نگاه داشت.
- ۳- دست چپ را به طور افقی نگاه داشت.
- ۴- دست راست را به طور افقی نگاه داشت.

۱۳. در معاینه مجلسی و میدانی شهورها، حداکثر سرعت چند کیلومتر در ساعت است؟

- ۱- ۵۵
- ۲- ۴۰
- ۳- ۵۵
- ۴- ۴۵

۱۴. هدف از ... تسلط کامل پاهای و دست‌ها بر تجهیزات کنترلی همچون پلاکها، اهرمها و ترمزها در صورت شرایط اضطراری چیست؟

- ۱- تعیین سبب وقوع حادثه.
- ۲- تعیین سبب وقوع حادثه.
- ۳- تعیین سبب وقوع حادثه.
- ۴- تعیین سبب وقوع حادثه.

۱۵. در کنار راه پهنه که چراغ راهنمایی و راهنمایی وجود نداشته باشد حق تقدم عبور با ...

- ۱- پهنادگان است.
- ۲- وسیله نقلیه ای که در مسیر مختار حرکت می‌نماید.
- ۳- وسیله نقلیه ای که در سرعت بالایی در محور دار است.
- ۴- وسیله نقلیه ای که به‌طور مستقیم حرکت می‌کند.

۱۶. در صورت شرایط اضطراری و سبب وقوع حادثه، چراغ‌ها را چگونه باید روشن کرد؟

- ۱- پهنادگان است.
- ۲- وسیله نقلیه ای که در مسیر مختار حرکت می‌نماید.
- ۳- وسیله نقلیه ای که در سرعت بالایی در محور دار است.
- ۴- وسیله نقلیه ای که به‌طور مستقیم حرکت می‌کند.

۱۷. در صورت شرایط اضطراری و سبب وقوع حادثه، چراغ‌ها را چگونه باید روشن کرد؟

- ۱- پهنادگان است.
- ۲- وسیله نقلیه ای که در مسیر مختار حرکت می‌نماید.
- ۳- وسیله نقلیه ای که در سرعت بالایی در محور دار است.
- ۴- وسیله نقلیه ای که به‌طور مستقیم حرکت می‌کند.

۱۸. وظیفه قطع و وصل کردن مدار آه از موتور به رادیاپور بر عهده کدام قطعه می‌باشد؟

- ۱- پهنادگان است.
- ۲- وسیله نقلیه ای که در مسیر مختار حرکت می‌نماید.
- ۳- وسیله نقلیه ای که در سرعت بالایی در محور دار است.
- ۴- وسیله نقلیه ای که به‌طور مستقیم حرکت می‌کند.

۱۹. کدام قطعه به سمت راست و چپ فرمان را کنترل می‌کند؟

- ۱- پهنادگان است.
- ۲- وسیله نقلیه ای که در مسیر مختار حرکت می‌نماید.
- ۳- وسیله نقلیه ای که در سرعت بالایی در محور دار است.
- ۴- وسیله نقلیه ای که به‌طور مستقیم حرکت می‌کند.

۲۰. عمر مفید کاپسول چقدر است؟

- ۱- حدود ۲۰۰ هزار کیلوستر.
- ۲- حدود ۴۰۰ هزار کیلوستر.
- ۳- حدود ۲ سال.
- ۴- حدود ۱۰ سال.

۲۱. کدام قطعه به سمت راست و چپ فرمان را کنترل می‌کند؟

- ۱- پهنادگان است.
- ۲- وسیله نقلیه ای که در مسیر مختار حرکت می‌نماید.
- ۳- وسیله نقلیه ای که در سرعت بالایی در محور دار است.
- ۴- وسیله نقلیه ای که به‌طور مستقیم حرکت می‌کند.

۲۲. بزرگترین منبع آلودگی هوا چیست؟

- ۱- کارگاه‌ها.
- ۲- خودرو.
- ۳- وسایل گازسوز خانگی.
- ۴- پالایشگاه‌ها.



آزمون آیین نامه راهنمایی و رانندگی

۱۳۳۷۴ (کتابخانه رانندگان پایه سوم)

تعداد: ۳۰ سوال | شماره آزمون: ۳۱۴ | زمان: ۳۰ دقیقه



از گذشتن هر یک از علامت‌ها به زودتر آزمون ابتدا آزمون‌های قرمز را



۱. عنوان این تابلو چیست؟

۱ - جاده

۲ - برآمدگی

۳ - دست انداز

۴ - نشانه خطرناک



۱



۲



۱



۲



۱. این تابلو بیانگر چیست؟

۱ - سبقت برای کامیون ممنوع

۲ - سبقت ممنوع

۳ - حق تقدم عبور با شما

۴ - جاده دو طرفه



۱. این تابلو بیانگر چیست؟

۱ - ایستادن ممنوع

۲ - میدان

۳ - رعایت حق تقدم

۴ - به تابلو ایست نزدیک می شوید



۱. این تابلو بیانگر چیست؟

۱ - استراحتگاه (کاروان)

۲ - تفرجگاه

۳ - استراحتگاه (چادر)

۴ - هتل

۱. این تابلو بیانگر چیست؟

۲۰۰ متر

۱ - تا ۲۰۰ متر پارک کردن مجاز است

۲ - طول ممنوعیت با محدودیت پارکینگ

۳ - فاصله از محل نصب تابلو تا شروع قسمت خطر

۴ - رعایت فاصله کمتر از ۲۰۰ متر ممنوع

۲۲ کدام یک به معنای پارکینگ مخصوص افراد معلول است؟



۱



۲



۳



۴

۲۳ در راه هایی که مسیر حرکت وسایل نقلیه به دلیل عملیات حفاری بسته باشد، حق تقدم عبور با وسیله نقلیه ای است که...

- ۱ - مسیر عبور آن ها بسته باشد
- ۲ - مسیر عبور آن ها باز و دارای نواحی تابلو باشد
- ۳ - مسیر عبور آن ها باز یا سهم عبور بیشتری داشته باشند
- ۴ - مسیر عبور آن ها باز یا سهم عبور کمتری داشته باشد

۲۴ کدام گزینه درباره عبور و توقف در مسرهای ویژه اتوبوس شرکت واحد صحیح است؟

۱ - به جز اتوبوس های معیار، برای مانع وسایل نقلیه ممنوع است

۲ - حتی در صورت ترافیک، نمی توان از مسیر ویژه اتوبوس عبور کرد

۳ - گزینه های ۱ و ۲ صحیح است

۴ - در صورت ترافیک، سنگین می توان از مسیر ویژه اتوبوس عبور کرد

۲۵ فردی که نوشته افکنی یا سواد محقر و داروهای خواب آور مصرف کرده، در چه شرایطی می تواند رانندگی کند؟

۱ - تا زمانی که بکار آن باقی است، رانندگی ممنوع می باشد

۲ - در صورت شرایط اضطراری سرد تواند رانندگی کند

۳ - تا یک سال نباید رانندگی کند

۴ - موارد ۲ و ۳

۲۸ ایستادن یا توقف وسایل نقلیه در کدام یک محل های زیر ممنوع است؟

۱ - پیاده رو و گذرگاه پیاده

۲ - در فاصله ۱۵ متری میدان یا تقاطع یا سه راه ها یا تقاطع راه آهن

۳ - از ابتدا تا انتهای پیچها

۴ - تمام موارد

۲۷ در راه های شیب دار گهستانی که توسط نقلیه در کنار یکدیگر نمی توانند عبور نمایند، حق تقدم عبور با وسیله نقلیه ای است که...

۱ - در جهت سربالایی در حرکت است

۲ - در جهت سرازیری در حرکت است

۳ - در جهت سرازیری با سرعت کم در حرکت است

۴ - سهم بیشتری از عبور داشته و در جهت سرازیری در حرکت است

۳۰ مفهوم این تابلو چیست؟



۱ - پل زیرگذر

۲ - تونل

۳ - اثر باستانی

۴ - پایان تونل

۲۹ در صورت مشاهده تابلو مقابل متظر چه چیزی باید بود؟



۱ - گردش به چپ ممنوع

۲ - پیچهای چپ در بین (اولین پیچ به چپ)

۳ - پیچ به چپ

۴ - پیچ به راست

۱۰) رنگ فرسودگی ماشین و ضرورت آن چه بلهوس است؟



- ۱- حرکت مختار و راهنمای مسیر در بورگراه ها
- ۲- هشدار برای عمو و انجام عملیات ساختمانی
- ۳- منع کننده یا ایست
- ۴- راهنمای مناطق آموزشی

۱۱) کداسیک از موارد زیر صحیح می باشد؟

- ۱- رنگی که جلوه خاصی با فریب است و مان توانف خودرو قافله می یابد
- ۲- استفاده از سیستم نوبت خودرو در شرایط بارشگی به منظور جلوگیری از سوزن کردن شیشه های خودرو
- ۳- استفاده از نورهای پرتها در شرایط مه و دود
- ۴- حرکت در شبی که به سمت چپ جلوه های که قابل حد کشن است

۱۲) در چه شرایطی باید سرعت خود را کمتر از محدوده سرعت مختار انتخاب نمود؟

- ۱- زمانی که شرایط جاده استاندارد نیست
- ۲- هنگامی که شعاع دید کم است
- ۳- در شرایطی که درجاده و یا خیابان نامر یا به یا توجه سوار وجود دارد
- ۴- تمام موارد

۱۳) حداقل سرعت در ازراه های ترون شهری چند کیلومتر در ساعت است؟

- ۱- ۵ کیلومتر در ساعت
- ۲- ۷ کیلومتر در ساعت
- ۳- ۳۰ کیلومتر در ساعت
- ۴- ۶۰ کیلومتر در ساعت

۱۴) از شکل دایره به سوزنهای چه نوع علامت عبور و مرور و تابلوهای استفاده می شود؟



- ۱- دستوری و حجتان
- ۲- علامت راهنما
- ۳- علامت هشدار دهنده برای خطر
- ۴- دستوری یا بازدارنده

۱۵) کداسیک از موارد زیر در خصوص استفاده از کمربند ایمنی صحیح تر است؟

- ۱- بستن کمربند ایمنی برای سرنشینان زیر ۱۴ سال در ریف جلو الزامی است
- ۲- بستن کمربند ایمنی برای سرنشینان ریف جلو الزامی است
- ۳- بستن کمربند ایمنی برای سرنشینان ریف عقب الزامی است
- ۴- بستن کمربند ایمنی برای سرنشینان ریف جلو و عقب الزامی است

۱۶) هدف از طراحی سازه راه در خطوط خط های عبور و رفت و برگشت کدام است؟

- ۱- تغییر سرعت برای پیوست به جریان ترافیک
- ۲- خط کمکی برای تردد و افزایش ظرفیت
- ۳- توقف اضطراری
- ۴- ایستادن برای استراحت

۱۷) چند متر بعد از تونل ها و پل ها سبقت گرفتن آزاد است؟

- ۱- سبقت از انتهای آنها مجاز است
- ۲- ۵۰ متری
- ۳- ۱۰۰ متری
- ۴- ۷۰ متری

۱۸) در این نامه رنگهای و زنده گی منفور از سبب اختار قانونی گذاشته شده گی کدام است؟

- ۱- انشا گواهی نامه
- ۲- اطلاق گواهی نامه
- ۳- توقف گواهی نامه
- ۴- استرداد گواهی نامه

۱۹) در جاده های ایمنی حداکثر سرعت در روز چند کیلومتر در ساعت است؟

- ۱- ۱۲۰
- ۲- ۱۰۰
- ۳- ۱۱۰
- ۴- ۹۵

۲۰) کدام گزینه درباره ضدخ صحیح تر است؟

- ۱- عایع ضدخ از ریخ رنگی آب در سوراخ جلوگیری می کند
- ۲- عدم استفاده از ضدخ در تابستان می تواند منجر به جوش آوردن زودتر موتور شود
- ۳- ضدخ در جلوگیری از رنگ زدگی رادیاتور و قطعات مستقیم سنگ کاری موثر است
- ۴- بهتر است گل منور رادیاتور به جای آب از ضدخ پر شود

۲۱) در ارزیابی مصدومین کداسیک از مصدومین را باید در اولویت انجام کمکهای اولیه قرار داد؟

- ۱- مصدومینی که آسمهای آنها کمتر است و با انجام کمکهای اولیه سریعاً بهبود می یابند
- ۲- مصدومینی که آسمهای آنها بسیار شدید است نظر به وضعیت آنها با زنده گی وسیع
- ۳- مصدومینی که از سن بالایی نسبت به سایر مصدومین برخوردارند
- ۴- کودکان در اولویت انجام کمکهای اولیه هستند

۲۲) سوای گردش به چپ ایمن وسیله نقلیه مولوی فاقد چراغ راهنما باشد باید

- ۱- دست چپ را به طرف ایمن بگرداند
- ۲- دست چپ را به طرف چپ بگرداند
- ۳- دست چپ را به طرف راست بگرداند
- ۴- دست راست را به طرف چپ بگرداند

۲۳) در این تقاطع عبور عروس حق تقدم عبور به ترتیب با کدام یک می باشد؟



- ۱- دوجره موتورسیکلت سواری
- ۲- سواری موتورسیکلت دوجره
- ۳- موتورسیکلت دوجره سواری
- ۴- سواری دوجره موتورسیکلت

۲۴) در موتور خودروها برای تعقیب روشن از چه وسیله آن استفاده می شود؟

- ۱- معبرین روشن
- ۲- پمپ روشن
- ۳- فیلمر روشن
- ۴- صافی بنزین

۲۵) خودروهای مس که دورشان خط کشیده شده دچار چه خطایی شده اند؟



- ۱- سرعت غیرمجاز
- ۲- عدم رانندگی بین خطوط
- ۳- سبقت از سمت چپ وسیله نقلیه
- ۴- رانندگی با سرعت غیرمجاز



آزمون آیین نامه راهنمایی و رانندگی

۱۲۵۳۲۷ (کتابخانه راهنمای پایه سوم)

تعداد: ۳۰ سوال شماره آزمون: ۴۰۷ زبان: ۳۰ دقیقه

از گذشته هرگونه حادثه بر روی جاده‌ها می‌تواند منجر به خسارت جانی و مالی شود




۱. عنوان این تابلو چیست؟

۱- بیخ به راست

۲- بیخ به چپ

۳- گردش به راست ممنوع

۴- گردش به چپ ممنوع



۱. این تابلویانگر چیست؟

۱- سبقت موتورسیکلت ممنوع

۲- عبور وسائط نقلیه موتوری ممنوع

۳- عبور موتورسیکلت ممنوع

۴- عبور موتورکازی ممنوع



۲. این تابلویانگر چیست؟

۱- تقاطع

۲- محدوده خطر

۳- تقاطع باراه آهن

۴- خطوط پرواز هوایی



۳. این تابلویانگر چیست؟

۱- ورود به راه اصلی از راست

۲- هدایت مسیر با جدا کننده

۳- تقاطع فرعی با اصلی

۴- جریان همگرا



۴. این تابلویانگر چیست؟

۱- پایان شهر

۲- ابتدای شهر

۳- ورود به شهر

۴- ابتدای منطقه مسکونی

۲۲. این شکل چه موردی را هشدار می‌دهد؟



۱- راننده که شرایط جاده استاندارد نیست باید احتیاط نمود

۲- موتورسیکلت‌ها هستند دارای حق تقدم هستند

۳- هنگام گردش باید مراقب بود فضای کافی برای موتور سواران احتمالی در نظر گرفت

۴- همواره از گردش به چپ خودداری نمایید

۲۵. کدام گزینه درست است؟

۱- حرکت با دنده مناسب در حرارتی پایین بدون مشکل است

۲- حرکت در پوشش وسایل نقلیه ابتدایی برای وسایل نقلیه دیگر ممنوع است

۳- وسایل نقلیه می‌توانند از روی لوله‌های آب آتش نشانی که برای خاموش کردن آتش در حیابان قرار گرفته اند عبور نمایند

۴- راننده وسيله نقلیه ای که بیش از ظرفیت مودرج درکارت مشخصات بار یا مسافر گرفته حجاز است



۱- خودروهای ۳ و ۱

۲- خودروهای ۳ و ۱

۳- خودروهای ۳ و ۲

۴- تمام خودروها



۲۸. مفهوم این تابلو چیست؟

۱- خطر در گردش به راست

۲- خطر در گردش به چپ

۳- پیچهای یخ در پی اولین بیخ به چپ

۴- پیچهای یخ در پی اولین بیخ به راست

۳۰. کدام مورد از مسامحه حقوق شهروندی در رانندگی نمی‌باشد؟

۱- حرکت بین خطوط ترافیکی

۲- تقطی از محدودیت های سرعت در راهها

۳- رعایت قوانین مرتبط با سرعت

۴- رعایت سرعت مجاز در رانندگی



۲۹. مفهوم این تابلو چیست؟

۱- بیخ به راست

۲- دور زدن ممنوع

۳- بیخ به چپ

۴- گردش به چپ ممنوع

۱۲ خط گسی مزاحم نشان داده شده در این شکل نشان دهنده چه نوع خط گسی می باشد؟



- ۱ - خط صاف است
- ۲ - خطوط توقف منقطع
- ۳ - خط کشنده محور پیاده
- ۴ - خطوط شارترجی

۹. سمت راستی که محور می کشد تا خودروی شما متوقف شود به چه عواملی بستگی دارد؟

- ۱ - مسافت ترمز ، تعداد لاستیک ، میزان باد
- ۲ - طول خودرو ، زمان واکنش ، مسافت ترمز
- ۳ - طول خودرو ، سرعت خودرو ، زمان واکن
- ۴ - زمان واکنش ، مسافت ترمز ، مسافت توقف

۱۱. بهترین وسیله هشدار دهنده در خودرو چیست؟

- ۱ - نورهای
- ۲ - چراغ گردایی
- ۳ - بوق
- ۴ - چراغ های راهنما

۸. مفهوم رنگ نارنجی در علائم محور و محور چیست؟



- ۱ - راهنمای اختصاص حرکات صبار ، علائم هشدار و راهنمای هشدار در آزادراه ها
- ۲ - راهنما برای مناطق تفریحی و آموزشی و تفریحی
- ۳ - صبع کشنده یا ایست
- ۴ - راهنما برای مناطق تفریحی و فرهنگی و گردشگری

۱۰. در رستگان و در هنگام برف و کولاک چه مواردی در خصوص تأثیر خودرو باید رعایت شود؟

- ۱ - باید از تیر بچ شکن بازخوبی جرح استفاده نمود
- ۲ - باید باد لاستیکی را $1/5$ برابر بیشتر کرد
- ۳ - باید باد لاستیکی را $1/5$ برابر کمتر کرد
- ۴ - باید از تیرهایی با عمق عاج کمتر از $1/5$ میلی متر استفاده کرد

۱۲. در این نامه راهنمایی و رانندگی منظور از سلب اعتبار قانونی گواهینامه رانندگی کدام است؟

- ۱ - استرداد گواهینامه
- ۲ - انقضا گواهینامه
- ۳ - توقف گواهینامه
- ۴ - ابطال گواهینامه

۱۵. در راه هایی که مسیر حرکت وسایل نقلیه به سمت راست و چپ مواج ثابت بسته و پهن برای عبور از مسیر بحال گاهی نباشد حق تقدم بنا وسیله نقلیه آن است که ...

- ۱ - چراغ های کوچک عقب
- ۲ - چراغ های عقب
- ۳ - چراغ های جلو
- ۴ - چراغ توقف

- ۱ - مسیر عبور آنها باز و پهن باشد
- ۲ - در طرف راست وسیله نقلیه قرار گرفته است
- ۳ - در طرف مقابل در حال حرکت است
- ۴ - از سرعت بیشتری برخوردار باشد

۱۷. در این شکل حق تقدم عبور بنا کدام خودروها می باشد؟



- ۱ - رادیاتور
- ۲ - میل لنگ
- ۳ - ترانس استات
- ۴ - فن

- ۱ - خودروهای فریز
- ۲ - خودروی آبی
- ۳ - خودرویی که از چپ به راست در حال حرکت است
- ۴ - خودرویی که از راست به چپ در حال حرکت است

۱۹. ترمز سرویس (ترمز پایسی) مطابق با الزامات استانداردهای خودرویی باید ترمز ... عمل کند

- ۱ - پای راست ، پای چپ
- ۲ - پای چپ ، پای راست
- ۳ - دست راست ، پای چپ
- ۴ - دست چپ ، پای چپ

- ۱ - بر چرخهای محرک
- ۲ - بر چرخ های جلو
- ۳ - بر چرخهای عقب
- ۴ - تمامی چرخها

۱۶. چراغ های که حضور و عدم حضور آن در سمت جلو نشان می دهد کدام است؟

۲۳ این شکل چه موردی را هشدار می دهد؟



۱- زمانی که شرایط جاده استاندارد نیست باید احتیاط نمود.

۲- موتورسیکلت ها همیشه دارای حق تقدم هستند.

۳- هنگام گردش باید مراقب بود فضای کافی برای موتورسواران احتمالی در نظر گرفت.

۴- همواره از گردش به چپ خودداری نمایید.

۲۴ شماره های ۱۷ تا ۱۹ به ترتیب بیانگر چه قطعاتی هستند؟



۱- دسته دنده، ترمز دستی و پدال گاز

۲- پدال های گاز، ترمز و کلاچ

۳- ترمز دستی، پدال گاز و پدال کلاچ

۴- پدال های ترمز، کلاچ و گاز

۲۵ در برخورد راه اصلی با راه فرعی حق تقدم با کیست؟

۱- با وسیله ای است که از راه فرعی عبور می کند

۲- تفاوتی ندارد

۳- با وسیله ای که در مسیر مستقیم حرکت می کند

۴- با وسیله ای است که از راه اصلی عبور می کند

۲۶ رانندگان با مشاهده چراغ قرمز چشمک زن در تقاطع باید چه عملی انجام دهند؟




۱- کاملاً توقف نموده و سپس با سرعت زیاد حرکت کنند.

۲- از سرعت خود کاسته و با احتیاط عبور کنند.

۳- عبور آزاد است ولی باید از سرعت کم از تقاطع عبور کنند.

۴- قبل از ورود به تقاطع یا گذرگاه عابر پیاده توقف کرده و پس از اطمینان از عدم وجود خطر تصادف عبور کنند.

۲۷ مفهوم این تابلو چیست؟



۱- پارک سوار معلولین

۲- راننده معلول

۳- پارکینگ مخصوص افراد معلول

۴- پارکینگ

۲۸ مفهوم این تابلو چیست؟



۱- عبور دو طرفه

۲- حق تقدم عبور با وسیله نقلیه مقابل است

۳- عبور از هر دو طرف ممنوع

۴- توقف در روزهای زوج ممنوع

۳۰ در ارائه کمک های اولیه اصل کلی بر این است که...

۱- سریع به مصدومین کمک نمایید

۲- سریع محل حادثه جمع آوری شود

۳- در ارائه امداد روش کم خطر را به کار ببرید

۴- مصدوم را سریع از داخل خودرو بیرون بکشید

۲۹ راننده ای که مرتکب تصادف منجر به جرح یا فوت می گردد چه وظیفه ای دارد؟

۱- بلافاصله وسیله نقلیه را از محل تصادف خارج کند

۲- بلافاصله وسیله نقلیه را در محل تصادف متوقف سازد

۳- با نصب علائم ایمنی هشدار دهنده، سایر رانندگان را از وقوع حادثه آگاه سازد

۴- موارد ۲ و ۳ صحیح می باشد

۷ خطوط شطرنجی در وسط تقاطع نشان دهنده چیست؟



۱- مربوط به زمانی می شود که تراکم خودروها در یک تقاطع زیاد بوده و امکان تخلیه وجود نداشته باشد.

۲- عبور از روی این خطوط ممنوع است.
۳- رانندگان باید قبل از خطوط شطرنجی توقف مسیر حرکت خودروهای دیگر را باز نگه دارند.
۴- تمام موارد

۸ مفهوم شکل هشت گوشه مقابل در علائم عبور و مرور چیست؟



۱- شروع و پایان حق تقدم مسیر
۲- صرفاً برای رعایت حق تقدم
۳- تنها برای تابلوهای ایست (توقف)
۴- علامت دستوری، بازدارنده

۱۰ چرا شکسته و کتیف بودن شیشه های خودرو می تواند خطرناک باشد؟

۱- چون باعث کاهش دید می شود.
۲- چون باعث کاهش انعکاس نور می شود.
۳- چون باعث افزایش انعکاس نور می شود.
۴- شکسته بودن و کتیف بودن شیشه ها خطر آفرین نمی باشد.

۹ کدامیک از موارد زیر در خصوص نقاط کور در وسایل نقلیه صحیح نمی باشد؟

۱- موتورسیکتهای دارای نقاط کور نمی باشد.
۲- با تنظیم دقیق آینه ها می توان میزان نقاط کور را کاهش داد.
۳- حتی با تنظیم دقیق آینه ها نمی توان نقاط کور را در خودروها حذف نمود.
۴- میزان وسعت نقاط کور در خودروهای سنگین بیشتر از خودروهای سبک است.

۱۲ مفهوم برجسب مقابل کدام است؟



۱- راننده معلول
۲- نابینای مطلق
۳- راننده ناشنوا
۴- راننده دارای نقص عضو

۱۱ کدام گزینه در مورد رانندگی ایمن درست است؟

۱- در بعضی موارد لازم است از حق خود چشم پوشی کنید.
۲- تحت هیچ شرایطی نباید از حق خود چشم پوشی کنید.
۳- در شرایط اضطراری می توان تابلو ورود ممنوع را نادیده گرفت.
۴- همیشه با سرعت بالا حرکت کنید تا زودتر به مقصد برسید.

۱۴ در معابر محلی و میادین شهرها، حداکثر سرعت چند کیلومتر در ساعت است؟

۱- ۶۵
۲- ۳۰
۳- ۵۵
۴- ۴۵

۱۳ برای تغییر مسیر به سمت راست اگر وسیله نقلیه موتوری چراغ راهنما نداشته باشد باید _____

۱- دست چپ را به طرف بالا نگهدارد
۲- دست راست را به طرف بالا نگهداشت
۳- دست چپ را به طور افقی نگهداشت
۴- دست راست را به طور افقی نگهداشت

۱۵ در گذرگاه پیاده که چراغ راهنمایی و رانندگی وجود نداشته باشد حق تقدم عبور با _____

۱- پیادگان است
۲- وسیله نقلیه ای که در مسیر مجاز حرکت می نماید
۳- وسیله نقلیه ای که از سرعت بالایی برخوردار است
۴- وسیله نقلیه ای به به طور مستقیم حرکت می کند.

۱۷ در صورت خرابی وسیله نقلیه و میسر نبودن انتقال آن به محل مناسب، چراغ الکتریکی را برای آگاه سازی دیگران باید در چه فاصله ای از وسیله نقلیه قرار دارد؟

۱- ۷۰ متری
۲- ۲۰۰ متری
۳- ۱۵۰ متری
۴- ۱۰۰ متری

۱۹ هدف از _____، تسلط کامل باها و دستها بر تجهیزات کنترلی همچون پلاکها، اهرمها و غریبک فرمان می باشد.

۱- معاینه فنی
۲- تنظیم آینه ها
۳- سلامت فنی
۴- تنظیم هندلی

۲۱ کدامیک از موارد زیر در خصوص ایمن کردن صحنه حادثه صحیح تر می باشد؟

۱- پارک خودرو در فاصله مناسب، استفاده از تابلو اعلان خطر، مطن شدن از اینکه خطری شما را تهدید نمی کند.
۲- پارک خودرو در محل حادثه، کشیدن چند نفس عمیق و آرام، استفاده از تابلو اعلان خطر.
۳- استفاده از تابلو اعلان خطر، گرفتن شرح محل از مصدومین، بیرون کشیدن سریع مصدومین از داخل خودرو.
۴- پارک سریع خودرو در محل حادثه، بررسی وضعیت بیماری مصدومین، دور کردن مصدوم از صحنه حادثه

۱۶ کدام یک به معنای «توقف وسیله نقلیه ممنوع جز برای سوار و پیاده کردن مشروط به استقرار راننده در پشت فرمان» است؟

۱- توقف
۲- ایستادن ممنوع
۳- توقف مطلقاً ممنوع
۴- توقف ممنوع

۱۸ وظیفه قطع و وصل کردن مدار آب از موتور به رادیاتور بر عهده کدام قطعه می باشد؟

۱- پمپ روغن
۲- کلاچ
۳- ترموستات
۴- دیفرانسیل


۲۰ عمر مفید کبستر چقدر است؟

۱- حدود ۲۰۰ هزار کیلومتر
۲- حدود ۴۰۰ هزار کیلومتر
۳- حدود ۲ سال
۴- حدود ۱۰ سال

۲۲ بزرگترین منبع آلودگی هوا چیست؟

۱- کارگاه ها
۲- خودرو
۳- وسایل گاز سوز خانگی
۴- پالایشگاه ها

۷ مفهوم دو خط طولی مستد در این شکل چیست؟



- ۱- عبور از روی آن فقط برای سبقت مانعی ندارد.
- ۲- عبور از روی آنها در هر شرایطی مجاز است.
- ۳- رانندگان وسایل نقلیه نباید به هیچ وجه از روی این خطوط عبور نمایند.
- ۴- عبور سواری از روی آنها مجاز است.

۸ مفهوم شکل لوزی در علائم عبور و مرور چیست؟



- ۱- علامت دستوری، بازدارنده
- ۲- صرفاً برای رعایت حق تقدم
- ۳- معمولاً برای علائم راهنما
- ۴- شروع و پایان حق تقدم مسیر

۹ در کدامیک از موارد زیر باید نور بالا را به نور پایین تبدیل نماییم؟

- ۱- زمانی که فاصله شما با خودرویی که در جلو شما حرکت می کند ۱۵۰ متر یا بیشتر باشد.
- ۲- زمانی که فاصله شما با خودرویی که از مقابل به شما نزدیک می شود ۱۵۰ متر یا کمتر باشد.
- ۳- زمانی که فاصله شما با خودرویی که در جلوی شما حرکت می کند ۲۰۰ متر یا کمتر باشد.
- ۴- نیازی به تغییر نور بالا به نور پایین به جز در جاده های پر رفت و آمد نیست.

۱۱ کدام گزینه در مورد باد تایر صحیح تر است؟

- ۱- پرمباد بودن تایر ها می تواند فرمان پذیری خودرو را افزایش دهد.
- ۲- کم باد بودن تایر ها باعث کاهش مصرف سوخت می شود.
- ۳- کم باد بودن تایر ها باعث فرسایش تایر، از دست رفتن تعادل و هدایت و فرمانپذیری هنگام ترمزگیری خواهد شد.
- ۴- باد تایر زیاده را می توان تخلیه و به همان شکل آن را نگهداری نمود.

۱۲ در این شکل حق تقدم عبور با کدام خودرو است؟

- ۱- خودرویی که با دایره مشخص شده است.
- ۲- خودرویی که خارج میدان قرار دارد.
- ۳- بستگی به جهت حرکت خودرو دارد.
- ۴- بستگی به مسیر نهایی خودرو دارد.



۱۳ در صورت خرابی وسیله نقلیه و مسیر نبودن انتقال آن به محل مناسب، چراغ الکتریکی را برای آگاه سازی دیگران باید در چه فاصله ای از وسیله نقلیه قرار داد؟

- ۱- ۱۰۰ متری
- ۲- ۲۰۰ متری
- ۳- ۱۵۰ متری
- ۴- ۷۰ متری

۱۴ از چند متری تقاطع راه آهن سبقت گرفتن ممنوع است؟

- ۱- ۵۰ متری
- ۲- ۱۰۰ متری
- ۳- ۱۵۰ متری
- ۴- محدودیت ندارد

۱۵ برای گردش به چپ در راه های پیرونی شهری گنه دارای دو خط عبور رفت و برگشت بدون مانع فیزیکی جداکننده می باشند رانندگان باید ابتدا وسیله نقلیه را ...

- ۱- در سمت چپ راه قرار گرفته و سپس با رعایت حق تقدم گردش نمایند.
- ۲- در سمت چپ راه متوقف نقلیه نمایند.
- ۳- در شانه راه و بنا متهمی آینه سمت راست راه متوقف نمایند.
- ۴- در سمت چپ راه قرار گرفته و با زدن راهنما اقدام به گردش نمایند.

۱۷ در خیابان شیران فرعی در شهرها، حداکثر سرعت چند کیلومتر در ساعت است؟

- ۱- ۵۰
- ۲- ۶۰
- ۳- ۷۰
- ۴- ۸۵

۱۹ سوزش غریبک فرمان می تواند ناشی از کدام نقص باشد؟

- ۱- خرابی جعبه دنده
- ۲- بالانس نبودن چرخ ها
- ۳- تمام شدن صفحه کلاچ
- ۴- پایین بودن سطح سوخت

۲۱ در خصوص آتش سوزی خودرو انجام کدامیک از موارد زیر صحیح تر می باشد؟

- ۱- در هنگام آتش سوزی خودرو باید ابتدا از شعله دور شدن موتور خودرو جلوگیری بعمل آورد.
- ۲- در هنگام آتش سوزی خودرو باید ابتدا قسمتهای داخلی خودرو را خاموش نمود.
- ۳- در صورت وجود کیسول آتش نشانی با استفاده از آن آتش را خاموش نموده و در صورت عدم وجود کیسول آتش نشانی با بتو بایگ جسم غیرقابل اشتعال شعله را خفه کنید.
- ۴- احتمال انفجار خودرو در صورتی که شعله به داخل خودرو انتقال باید زیاد است.

۱۶ کدام چراغ راهنمایی معمولاً در محل برخورد راه اصلی با راه فرعی نصب می گردد؟

- ۱- چراغ چشمک زن قرمز برای ایست
- ۲- چراغ چشمک زن قرمز
- ۳- چراغ چشمک زن زرد
- ۴- چراغ چشمک زن قرمز برای عبور

۱۸ هدف از ...، تسلط کامل پاهای و دستها بر تجهیزات کنترلی همچون پدالها، اهرمها و غریبک فرمان می باشد.

- ۱- هدایت فنی
- ۲- تنظیم آینه ها
- ۳- سلامت فنی
- ۴- تنظیم صندلی

۲۰ کدامیک جزو وظایف سیستم تعلیق نمی باشد؟

- ۱- کنترل قدرت و شتاب خودرو
- ۲- تامین راحتی راننده
- ۳- حفظ تعادل و پایداری خودرو هنگام عبور از پستی یا بلندی ها
- ۴- ممانعت از واژگونی خودرو هنگام عبور از بیجهها

۲۲ این صفات جزو کدام نوع از رانندگان می باشد: مانور و تغییر مسیر به طور مکرر، بوق زدنهای مبهوده و مکرر و عبور از خط مقابل برای رهایی از ترافیک.


- ۱- رانندگان عسن
- ۲- رانندگان پرخاشگر
- ۳- رانندگان جوان
- ۴- رانندگان بی تجربه

۷ راننده ای که دست چپ را به منظور افقی نگهداشته به چه معناست؟



- ۱ - گردش یا تغییر مسیر به راست
- ۲ - گردش یا تغییر مسیر به چپ
- ۳ - توقف
- ۴ - افزایش سرعت

۸ این شکل نشان دهنده چیست؟



- ۱ - حرکت کردن از روی خطوط هاشور ممنوع است
- ۲ - خطوط هاشور مخصوص عبور اضطراری وسایل نقلیه امدادی می باشد
- ۳ - خطوط هاشور معمولاً در کنار شبکه معابر آزادراهها، بزرگراهها و تونلها کشیده می شوند
- ۴ - تمام موارد

۹ کدامیک از موارد زیر در حین رانندگی در شب استباه است؟

- ۱ - روشن نمودن چراغ های کوچک و بزرگ بطور همزمان
- ۲ - استفاده از بوق کوتاه هنگام سبقت
- ۳ - کاهش سرعت در صورت نزدیک شدن خودرویی از روبرو که از نور بالا استفاده می کند
- ۴ - استفاده از چراغ مه شکن در هنگام ریزش باران

۱۰ در کدامیک از موارد زیر سبقت ممنوع نمی باشد؟

- ۱ - برای اتوبوس ها و کامیونها در معابر برون شهری
- ۲ - از ۵۰ متر مانده به پیچها تا ۵۰ متر پس از آن
- ۳ - سبقت از وسیله نقلیه ای که در حال سبقت گرفتن است مگر در راههای دارای سه خط عبور
- ۴ - در سربلج های تند و سربالایی که میدان دید راننده کم است

۱۱ حرکت با دنده خلاص در سرازیری ها چه حکمی دارد؟

- ۱ - مجاز است
- ۲ - در صورت نبودن مانع اشکالی ندارد
- ۳ - ممنوع است
- ۴ - در صورت عدم ایجاد خطر اشکالی ندارد

۱۲ رانندگانی که قصد گردش به راست یا به چپ را دارند مکلفند از چه فاصله ای به وسیله چراغ راهنما علامت بدهند؟

- ۱ - ۲۵۰ متری
- ۲ - ۱۵۰ متری
- ۳ - ۲۰۰ متری
- ۴ - ۱۰۰ متری

۱۳ توقف وسیله نقلیه در کدام مورد زیر ممنوع است؟

- ۱ - ۱۰۰ متری اطراف چراغ راهنمایی
- ۲ - ۲۵ متری مراکز فوریت های پزشکی
- ۳ - ۲۰ متری شیرهای آب آتش نشانی
- ۴ - معابر در ارتفاع

۱۴ از چند متری بعد از پیچ ها سبقت گرفتن آزاد است؟

- ۱ - ۳۰ متری
- ۲ - ۵۰ متری
- ۳ - ۴۰ متری
- ۴ - ۲۰ متری

۱۵ آزاد راه راهی است دارای حداقل

- ۱ - دو خط اتوبوس رو برای طرف رفت
- ۲ - سه خط اتوبوس رو برای هر طرف
- ۳ - دو خط اتوبوس رو برای هر طرف
- ۴ - سه خط اتوبوس رو برای طرف برگشت

۱۷ در معابر محلی و میادین شهرا، حداکثر سرعت چند کیلومتر در ساعت است؟

- ۱ - ۵۵
- ۲ - ۶۵
- ۳ - ۳۰
- ۴ - ۴۵

۱۹ کدام یک از اجزای موتور نمی باشد؟

- ۱ - سیبک
- ۲ - سرسیلندر
- ۳ - میل لنگ
- ۴ - فلایویل



۲۱ مفهوم برجسب مقابل کدام است؟

- ۱ - راننده ناشنوا
- ۲ - راننده بیمار
- ۳ - راننده معلول
- ۴ - معلولین و جانبازان



۱۶ فر این شکل حق تقدم عبور با کیست؟



- ۱ - آبی - زرد
- ۲ - هم زمان با هم می توانند حرکت کنند
- ۳ - زرد - آبی
- ۴ - بستگی به سرعت خودروها دارد

۱۸ نماد دستی معمولاً عمل می کند

- ۱ - فقط بر چرخهای جلو
- ۲ - فقط بر چرخهای عقب
- ۳ - فقط بر چرخهای سمت چپ
- ۴ - فقط بر چرخهای سمت راست

۲۰ وظیفه قطع و وصل کردن مدار آب از موتور به رادیاتور بر عهده کدام قطعه می باشد؟

- ۱ - پمپ روغن
- ۲ - کلاچ
- ۳ - ترموستات
- ۴ - فن

۲۲ کدام یک جزو الاینده های هوا نمی باشد؟

- ۱ - مونواکسید کربن
- ۲ - اکسیدهای نیتروژن
- ۳ - اکسیژن
- ۴ - ذرات معلق

۲۳ این شکل بیانگر چه موضوعی است؟



- ۱- جهت قرارگیری چرخ‌ها هنگام پارک در سربالایی دارای جدول
- ۲- جهت قرارگیری چرخ‌ها هنگام پارک در سرازیری دارای جدول

۳- نحوه حرکت دنده عقب در سربالایی

۴- نحوه حرکت در سرازیری

۲۴ مفهوم این تابلو چیست؟



۱- حداقل سرعت در خط‌های عبور

۲- حداکثر سرعت در خط‌های عبور

۳- حداقل سرعت توصیه شده

۴- سرعت بیش از ۵۰ کیلومتر در ساعت ممنوع

۲۵ در این تقاطع حق تقدم عبور به ترتیب با کدام یک می‌باشد؟



۱- قرمز، زرد، آبی

۲- زرد، آبی، قرمز

۳- قرمز، آبی، زرد

۴- آبی، زرد، قرمز

۲۶ درباره محل پارک خودرو کدام گزینه غلط است؟

۱- پارک کردن در خطوط شطرنجی داخل تقاطع ممنوع است

۲- پارک کردن در حریم تقاطعها و گذرگاههای عابر پیاده ممنوع است

۳- در محلی باید پارک کرد که مانع سایر استفاده کنندگان از راه نشود

۴- پارک کردن مقابل درب ورودی ساختمانها و منازل مجاز است

۲۸ در این تصویر عمده ترین خطری که راننده اتومبیل پشت سر به آن مواجه خواهد بود کدام است؟



۱- ممکن است دوچرخه سوار ترمز کند و بایستد.

۲- ممکن است دوچرخه سوار ناگهان به داخل خیابان منحرف شود.

۳- ممکن است دوچرخه سوار ناگهان به سمت راست رفته و پیاده شود.

۴- ممکن است دوچرخه سوار بر سرعت خود بیفزاید.

۲۷ کدام مورد از انواع آلودگی سهم زیادی از آلودگی ترافیک شهری را تشکیل می‌دهد؟

۱- آلودگی هوا ناشی از کارخانجات

۲- آلودگی هوا ناشی از منابع خانگی

۳- آلودگی شنیداری

۴- آلودگی هوا ناشی از وسایل نقلیه موتوری

۳۰ وظیفه تولید برق در خودرو بر عهده کدام قطعه است؟

۱- سیستم تعلیق

۲- تسمه پروانه

۳- دینام

۴- فن

۲۹ راننده ای که مرتکب تصادف منجر به جرح یا فوت می‌گردد چه وظیفه ای دارد؟

۱- بلافاصله وسیله نقلیه را از محل تصادف خارج کند.

۲- بلافاصله وسیله نقلیه را در محل تصادف متوقف سازد.

۳- با نصب علائم ایمنی هشدار دهنده، سایر رانندگان را از وقوع حادثه آگاه سازد.

۴- موارد ۲ و ۳ صحیح می‌باشد.

۲۳ این شکل بیانگر چیست؟



۱- سواری در حال سبقت گرفتن از موتورسوار است.

۲- موتورسوار در نقطه کور سواری قرار دارد.

۳- سبقت در محل غیر مجاز

۴- عدم رعایت فاصله طولی مناسب

۲۴ در کدام یک خطوط اضطرار نمایش داده شده است؟




(۱)



(۲)



(۳)



(۴)

۲۵ در این تقاطع، حق تقدم عبور به ترتیب با کدام یک می باشد؟



۱- آبی، نارنجی، سبز، زرد

۲- سبز، زرد، آبی، نارنجی

۳- زرد، سبز، نارنجی، آبی

۴- سبز، زرد، نارنجی، آبی

۲۶ چرا قبل از سبقت گرفتن از یک کامیون طویل، باید فاصله را با آن کاملاً حفظ کنید؟

۱- زیرا برای سبقت گرفتن از کامیون طویل در پیچ ها باید شتاب کافی داشته باشید.

۲- سبقت گرفتن از خودروهای طویل ممنوع است

۳- برای اینکه در نقطه کور قرار بگیرید.

۴- برای اینکه از موقعیت جلوی کامیون اطلاع کافی داشته و در نقطه کور قرار نگیرید.

۲۸ مفهوم این تابلو چیست؟



۱- ورود به راه اصلی از راست

۲- تقاطع

۳- ورود به راه اصلی از چپ

۴- تقاطع فرعی و اصلی

۲۷ کاربرد روش ۲ ثانیه زمان در کجاست؟

۱- بررسی آثار ناشی از تصادف

۲- تخمین مسافت خودرو در حال حرکت با وسیله نقلیه جلویی

۳- کنترل صحت کار موتور خودرو

۴- محاسبه زمان چراغ زرد راهنمایی در سر چهارراه ها

۲۹ مفهوم چراغ سبز راهنمایی چیست؟

۱- ایست کامل و سپس عبور

۲- عبور یا گردش آزاد است مگر آنکه گردش نمودن توسط علائم دیگر ممنوع شده باشد

۳- عبور ممنوع است مگر آن که وسیله نقلیه با سرعت بالا در حال تردد باشد

۴- برای اتوبوس ها عبور آزاد و سایرین باید توقف نمایند



۳۰ کدام مورد زیر از عوامل افزایش ایمنی در شبکه معابر و راه های کشور می باشد؟

۱- تغییر ناگهانی مسیر حرکت به چپ در راه های فاقد خط کشی

۲- رعایت حق تقدم عبور هنگام رانندگی

۳- تغییر ناگهانی مسیر حرکت به راست در راه های فاقد خط کشی

۴- حرکت با سرعتی بیش از سرعت تعیین شده در شبکه راه ها

۲۳ حمل مسافر در قسمت بار

۱ - مجاز است

۲ - در صورت رعایت ایمنی مجاز است

۳ - ممنوع است

۴ - در مسافت های کوتاه مجاز است

۲۴ در این تقاطع، حق تقدم عبور به ترتیب

با کدام یک می باشد؟

۱ - آبی، قرمز، دوچرخه، کامیونت

۲ - دوچرخه، کامیونت، آبی، قرمز

۳ - کامیونت، دوچرخه، آبی، قرمز

۴ - قرمز، آبی، دوچرخه، کامیونت



۲۵ ایستادن یا توقف وسایل نقلیه در کدام

یک محل های زیر ممنوع است؟

۱ - از ۵۰ متری شیرهای آتش نشانی

۲ - در فاصله ۵۰ متری میدان یا تقاطع یا سه راهها یا تقاطع راه آهن

۳ - از ۱۰۰ متری ابتدا تا انتهای پیچ ها

۴ - از ۱۵ متری ورودی بیمارستان ها

۲۶ تحت چه شرایطی می توان در تقاطع ها

سبقت گرفت؟

۱ - اگر تقاطع خلوت باشد

۲ - اگر چراغ تقاطع چشمک زن باشد

۳ - سبقت در تقاطع ها ممنوع است

۴ - اگر مسیر یک طرفه باشد

۲۸ در صورت مشاهده تابلو مقابل متظر چه

چیزی باید بود؟

۱ - گردش به چپ ممنوع

۲ - پیچهای پی در پی (اولین پیچ به چپ)

۳ - پیچ به چپ

۴ - پیچ به راست



۲۷ در این تقاطع، حق تقدم عبور به ترتیب

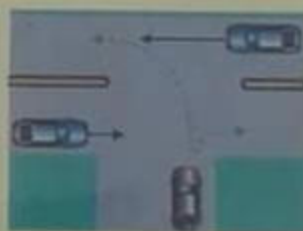
با کدام یک می باشد؟

۱ - آبی، قهوه ای

۲ - قهوه ای، آبی

۳ - هر سه خودرو با هم می توانند حرکت کنند

۴ - فقط خودروی قهوه ای مجاز به حرکت می باشد



۳۰ با مشاهده چراغ چشمک زن زرد در تقاطع

چه عملی را انجام می دهید؟

۱ - با زدن بوق و با سرعت اولیه به حرکت خود ادامه دهید

۲ - قبل از خط ایست توقف کامل کنید

۳ - از سرعت خود بکاهید و با احتیاط عبور کنید

۴ - با همان سرعت از تقاطع عبور نمایید



۲۹ در مبحث مفهوم رنگها و علائم عبور و مرور،

مفهوم رنگ قهوه ای کدام است؟

۱ - راهنمای خدمات

۲ - راهنمای مناطق تفریحی و گردشگری و فرهنگی

۳ - علائم دستوری

۴ - راهنمای مسیر در سایر راه ها



۲۲ در این شکل حق تقدم عبور عبارتست از:



۱ - زرد ، سبز ، خودروی امدادی

۲ - خودروی امدادی ، زرد ، سبز

۳ - خودروی امدادی ، سبز ، زرد

۴ - سبز ، زرد ، خودروی امدادی

۲۴ کدام یک در مورد دسته دنده اشتباه است؟



۱ - اهرم دسته دنده معمولاً در سمت راست راننده قرار دارد.

۲ - گیربکس خودروهای سواری معمولاً ۵ حالت (۵ سرعته) می باشد.

۳ - اهرم دنده به طور مستقیم با سیستم کلاچ در ارتباط می باشد.

۴ - وقتی دنده در حالت خلاص باشد نیرویی به پشت چرخ های محرک منتقل نخواهد شد.

۲۶ رانندگان با مشاهده چراغ قرمز چشمک زن در تقاطع باید چه عملی انجام دهند؟



۱ - کاملاً توقف نموده و سپس با سرعت زیاد حرکت کنند.

۲ - از سرعت خود کاسته و با احتیاط عبور کنند.

۳ - عبور آزاد است ولی باید با سرعت بالا از تقاطع عبور کنند.

۴ - قبل از ورود به تقاطع یا گذرگاه عابر پیاده توقف کرده و پس از اطمینان از عدم وجود خطر تصادف عبور کنند.

۲۵ با کسانی که در مدت ضبط گواهینامه مبادرت به رانندگی نمایند چه برخوردی می شود؟

۱ - به مرجع قضایی معرفی و به مجازات مقرر برای رانندگی بدون گواهینامه محکوم می شوند.

۲ - تا پایان عمر به آنها گواهینامه داده نخواهد شد.

۳ - در صورتی که مرتکب خلاف نشوند، مشمول مجازات نمی شوند.

۴ - باید هرچه سریعتر خود را به مراجع انتظامی معرفی کنند.

۲۸ تکیه نمودن و اویزان شدن اشخاص به وسایل نقلیه است


۱ - مجاز است

۲ - با رعایت احتیاط مجاز است

۳ - ممنوع است

۴ - در صورت بی خطر بودن مجاز است

۲۷ مفهوم مستطیل پرچمی در علائم عبور و مرور کدام است؟



۱ - دستوری و خدمات

۲ - رعایت حق تقدم

۳ - دستوری و بازدارنده

۴ - علائم راهنما

۲۹ کدام یک از عوامل مهم اتلاف سوخت و انرژی در خودروها محسوب می شود؟

۱ - حرکت با سرعت مطمئنه

۲ - عدم تنظیم موتور و احتراق ناقص در سیلندرها

۳ - رانندگی در شب

۴ - رانندگی در مناطق سردسیر



(۲)



(۱)



(۴)



(۳)

۳۰ کدامیک از تابلوهای زیر به مفهوم آن است که بیج هایی در جلو وجود دارد؟