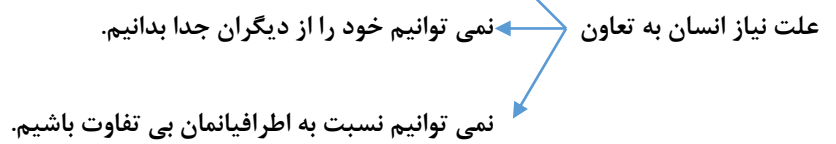


انسان موجودی اجتماعی و مسئول آفریده شده است.



همدلی و قرض دادن

همکاری کردن

عیادت از بیمار

هدیه دادن و اظهار دوستی کردن

باعث ایجاد و محبت و صمیمیت میشه

وظایف خانه تقسیم می شود

هرکسی مفید واقع می شود.

کارها به دوش یکدیگر نمی افتند.

کمک کردن به همکلاسی ها ضعیف در درس

همکاری در نظافت مدرسه

مشارکت در برنامه های صبحگاهی

جلوه های تعاون

همکاری در خانه

تعاون در مدرسه

برای نونشده توشه ای برای موفقیت

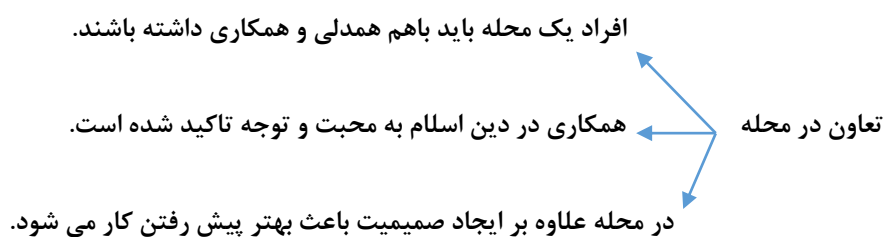
امامان و پیامبران تعاون در خانه را رعایت می کردند

در نظافت ها همکاری می کردند.

در دوشیدن چهارپایان کمک می کردند.

آرد کردن گندم

تعاون پیامبران و امامان در خانه



**کارهایی مثل :** کمک به همسایه جدید ، عیادت از همسایه بیمار ، همکاری در نظافت محله، همکاری در جشن، تعاون در محله را نشان می دهند.

سوالات درس

کدام یک از موارد زیر مصداق تعاون نیست؟

۴- امر به معروف و نهی از منکر

۳- رانندگی کردن

۲- عیادت از بیمار

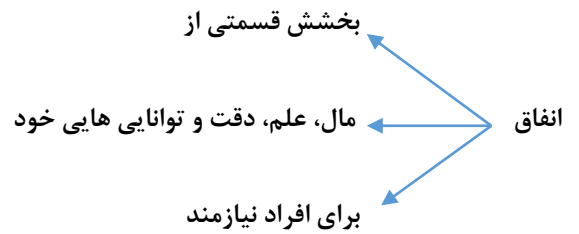
۱- هدیه دادن

تعاون در چه سطوحی از زندگی ما صورت می گیرد؟

آیا ما می توانیم اعمال و رفتار و زندگی خود را از دیگران جدا کنیم؟

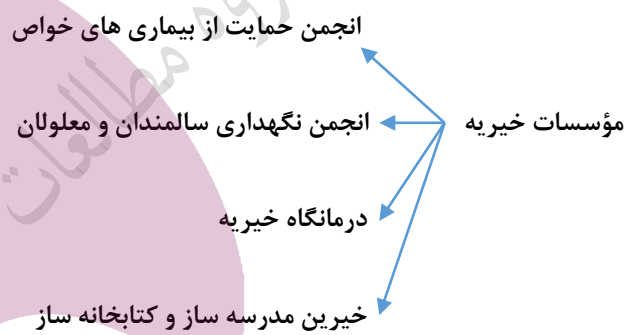
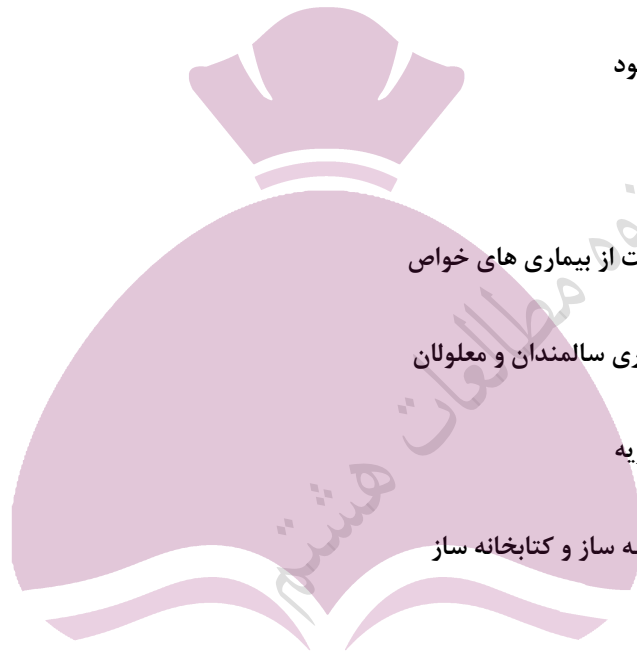
جدول را کامل کنید:

جلوه های تعاون	اثرات تعاون
.....	در خانواده: .....
.....	در محله: .....



**نکته:** افراد نیکوکار، در قالب مؤسسات خیریه مردم نهاد، به دیگران کمک می کنند.

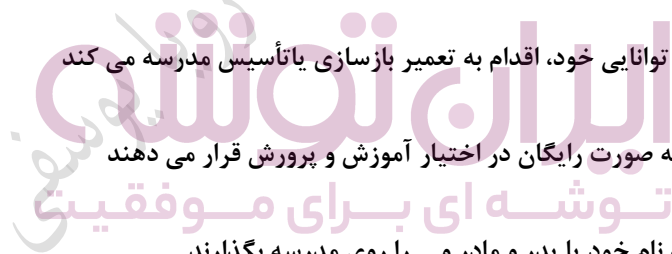
**نکته:** مجوز از وزارت کشور گرفته می شود



با توجه به توانایی خود، اقدام به تعمیر بازسازی یا تأسیس مدرسه می کند

خیرین مدرسه ساز مدارس را به صورت رایگان در اختیار آموزش و پرورش قرار می دهند

می توانند نام خود یا پدر و مادر و ... را روی مدرسه بگذارند.



یکی از اقدامات خوب برای انفاق و تعاون وقف است

وقف از روزگارهای قدیم در ایران وجود داشت . مثل : مدارس علمیه، پل، کاروانسراها، حمام های عمومی

وقف گاهی در آمد حاصل از یک فعالیت را وقف می کردند.

هیچ کس حق تصرف در وقف را ندارد

**نکته:** به اموال و دارایی هایی که وقف می شود می گویند موقوفات

۱. گروهی از مردم برای رفع نیازهای شغلی و شخصی دور هم جمع می شوند.
۲. یک شرکت تعاونی حداقل ۷ عضو دارد را تشکیل می شود .
۳. همه در سود و زیان هم شریک هستند.
۴. هر کس حق دادن رأی را دارد برعکس شرکت های خصوصی
۵. همه ی افراد به صورت داوطلبانه هدف مشترکی دارند.
۶. اعضاء از بین خود یک هیأت مدیر انتخاب می کنند.
۷. برای حل مشکلات اقتصادی و زندگی بهتر جمع شده اند.

### سوالات درس

گاهی افراد ..... در قلب سازمان های مردم نهاد و خیریه به یاری نیازمندان یا حل برخی از مشکلات جامعه می پردازند.

مادر زهرا می خواهد تعدادی از کتاب های کتابخانه شخصی خود را وقف کند. او کتاب ها را به مسجد محله برده و وقف کتابخانه مسجد می کند:

الف) به کتاب هایی که مادر زهرا وقف کرده است چه می گویند؟

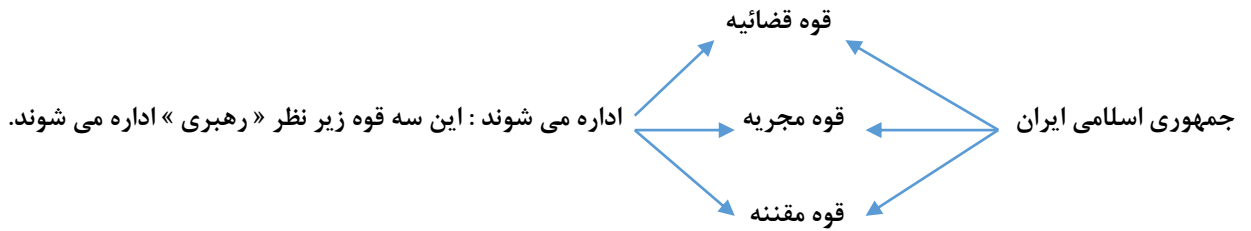
ب) به مادر زهرا چه می گویند؟

ج) چه شرایطی بر آن کتاب ها واقع است؟

گاهی افراد نیکوکار جهت یاری نیازمندان در قالب سازمان ها اقدام به حل برخی از مشکلات جامعه می کنند. به این سازمان ها چه می گویند؟

تفاوت اعضای شرکت های تعاونی و غیر تعاونی در حق رای و تصمیم گیری چیست؟

ایران توشه  
توشه ای برای موفقیت



دولت و سازمان های وابسته به دولت است

قوه مجریه رئیس قوه مجریه : همان رئیس جمهور است بعد از رهبری مهمترین مقام است .

کار قوه مجریه : اجرای قانون اساسی و قوانین مصوب مجلس است

چگونگی انتخاب رئیس جمهور :

۱- رئیس جمهور برای مدت ۴ سال با رأی مردم انتخاب می شود.

۲- بعد از ۴ سال می تواند به صورت متوالی ، ۴ سال دیگر نیز انتخاب شود، با رأی مردم

۳- کسانی که شرایط ریاست جمهوری دارند باید شورای نگهبان آنها را تأیید یا رد کنند.

۴- بعد از صلاحیت ، تبلیغات شروع می شود ، صدا و سیما ، روزنامه ، مجلات و ...

۵- همه کسانی که تبعه‌ی ایران هستند حتی خارج از کشور و بالای ۱۸ سال دارند می توانند رأی دهند.

ایران نوولسه

تمیز برای موفقیت

بعد از اینکه رئیس جمهور ، حداکثر رأی را آورد

تنفیذ حکم او توسط رهبری امضاء می شود ، تأیید می شود .

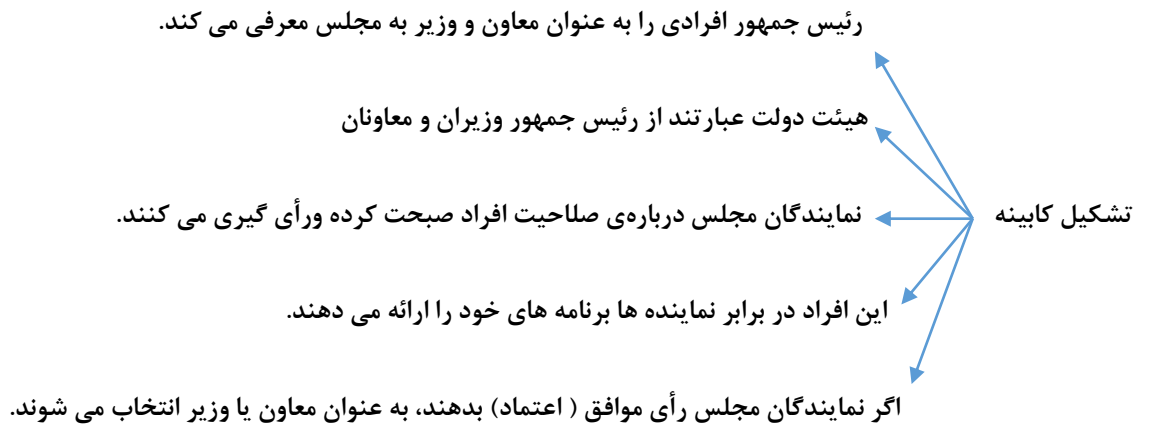
به این مرحله تنفیذ می گویند

رئیس جمهور در مجلس شورای اسلامی

در مقابل شورای نگهبان و قضایه

تحلیف در پیش گاه قرآن ، سوگند می خورند ، وظایف را به درستی انجام دهند..

رئیس جمهور در مقابل دولت ، مردم و رهبر و مجلس شورا مسئول است.



**نکته:** به محل کار وزیران، وزارتخانه می گویند

**نکته:** مقر هیئات دولت و وزارتخانه در تهران است

### سوالات درس

هر وزیر مسئول یک ..... است.

در جمله زیر یک عبارت نادرست به کار رفته آن را اصلاح کنید:

رئیس قوه قضائیه بر فعالیت های دولت نظارت می کنند و حق سوال کردن از رئیس جمهور را دارند.

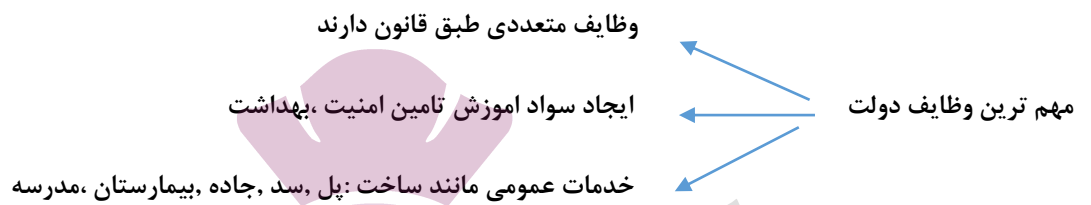
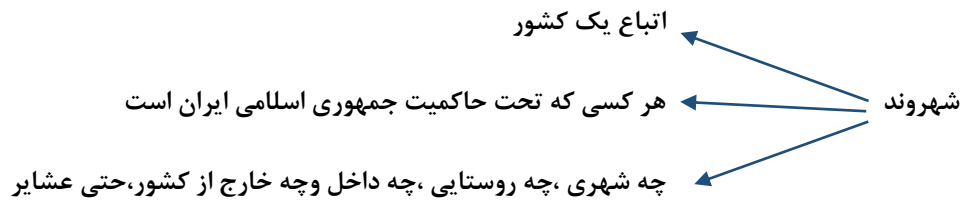
رئیس جمهور ایران در مقابل چه کسانی مسئول است؟

سه مورد از روش های تبلیغاتی داوطلبان ریاست جمهوری را بنویسید.

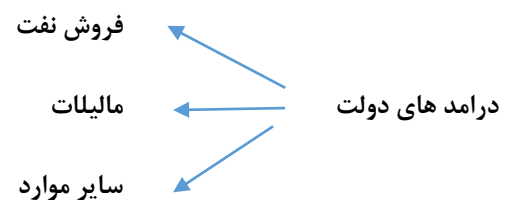
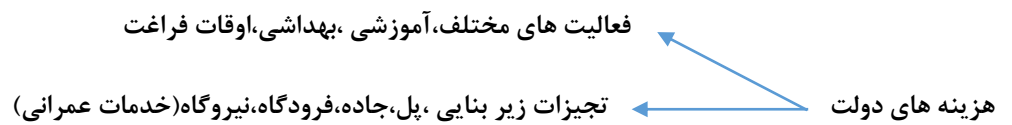
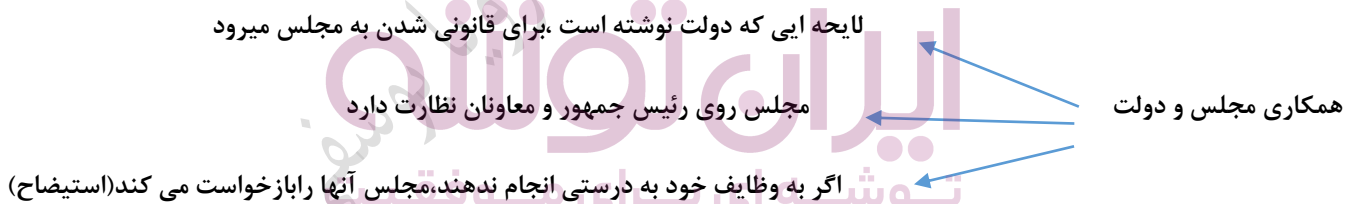
کشور جمهوری اسلامی ایران چگونه اداره می شود؟

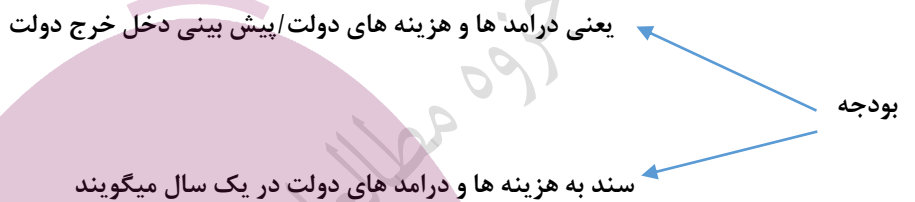
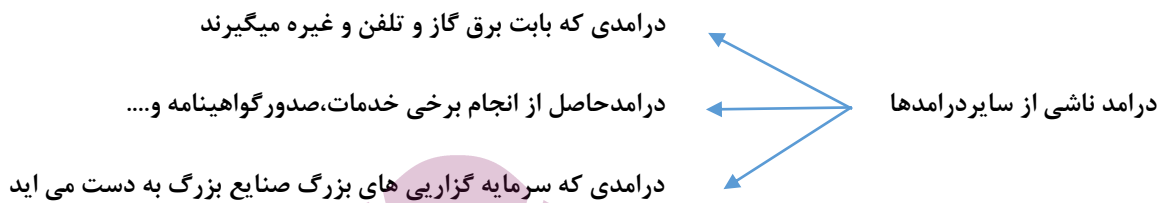
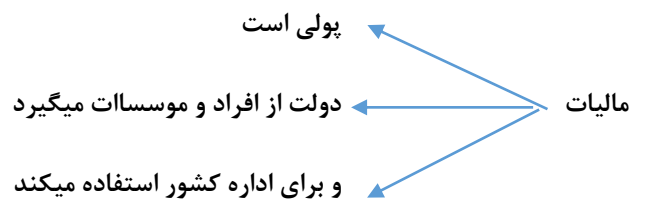
نمودار زیر را کامل کنید:

<b>ساختار حکومت جمهوری اسلامی ایران</b>		
.....		
.....	.....	.....



**نکته:** یکی از اقدامات دولت ← تنظیم لایه است





### سوالات درس

من به عنوان یک شهروند ایرانی از خدمات دولت ایران که در زمینه‌های مختلف ارائه میشود بهره‌مند هستم و با آزادی بیان در انتخابات به اظهار نظر می‌پردازم و در هنگام جنگ از کشور دفاع می‌کنم. با توجه به متن:

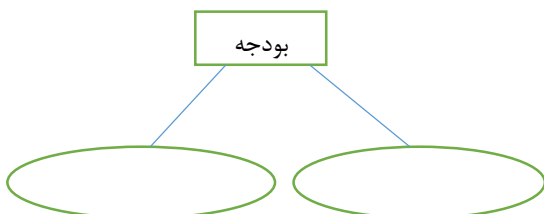
الف) دو مورد از حقوق شهروندی را بنویسید.

ب) دو مورد از مسئولیت‌های شهروندی را بنویسید.

سه مورد از وظایف رئیس‌جمهور را بنویسید.

دولت در زمین‌های مختلف فعالیت می‌کند، سه مورد را بنویسید.

تعریف بودجه به زبان ساده را روی شکل مقابل نشان دهید.





**نکته:** یکی از آسیب های اجتماعی که نوجوان را تهدید میکند اعتیاد است

در مدرسه زیبا یک سری مقررات وضع شده است مثلا آوردن تلفن همراه به مدرسه ممنوع می باشد، دانش آموزان باید ساعت ۷/۳۰ صبح مدرسه حاضر باشند و از آوردن عکس، فیلم و کتاب های غیر آموزشی و غیر درسی به مدرسه خودداری کنند.

الف) آیا مدرسه حق گذاشتن چنین مقرراتی را دارد؟ چرا؟

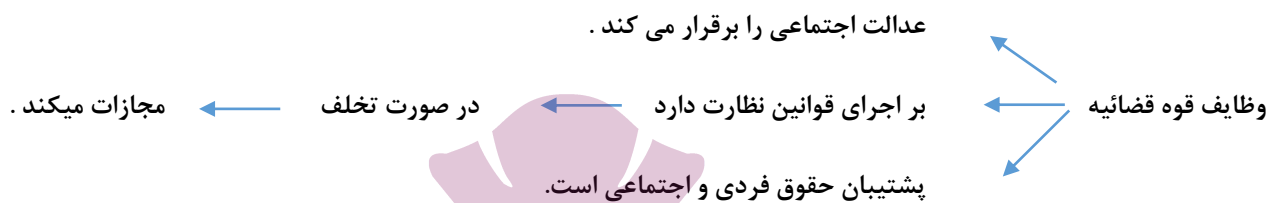
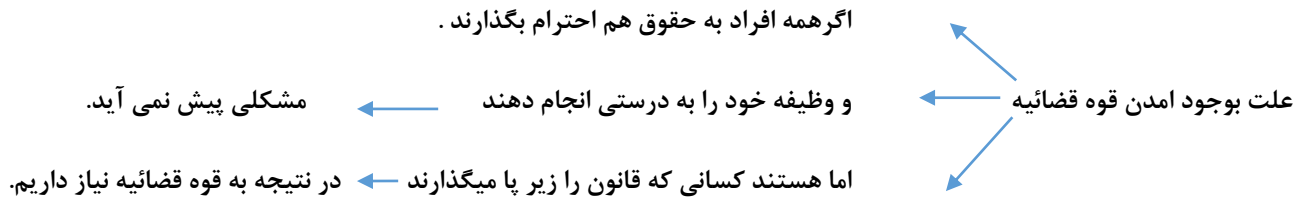
ب) هدف از برقراری این مقررات چیست؟

چرا افراد در دوره نوجوانی بیشتر در معرض آسیب های اجتماعی قرار می گیرند؟

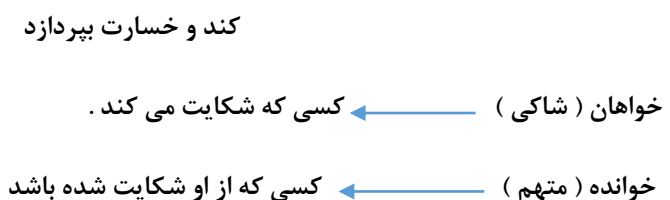
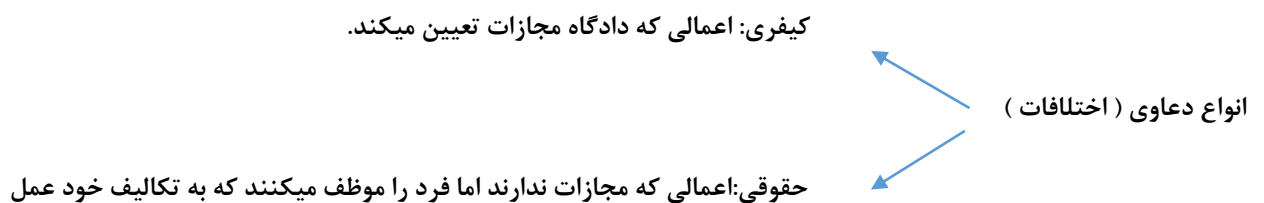
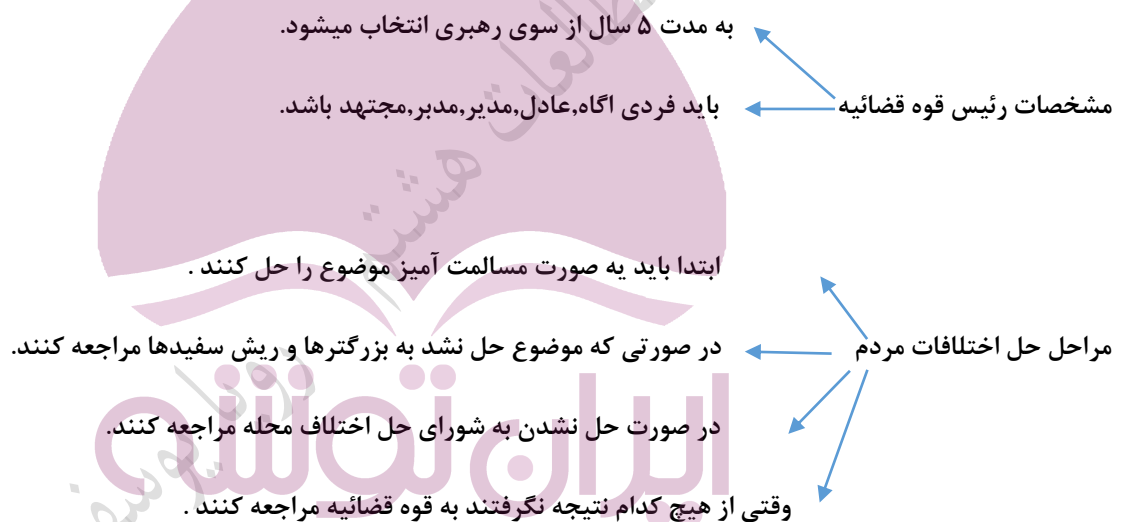
رفتار پرخاشگرانه ممکن است به چه شکل هایی بروز دهد؟ (سه مورد)

پرخاشگری، نزاع و اعتیاد جزو ..... اجتماعی است.

**نکته:** قانون از همه مردم حمایت میکند و همه در برابر قانون مساوی هستند.



نکته: یکی از مهمترین وظایف قوه قضائیه حل اختلافات مردم است .



وکیل

- در رشته حقوق در خواند باشد .
- به قانون مسلط باشد .
- پروانه وکالت یا وکالت نامه داشته باشد

**نکته:** در دادگاه ها همه حق دارند وکیل داشته باشند

### سوالات درس

کدام نهاد مسئول برقراری عدالت اجتماعی در جامعه است؟

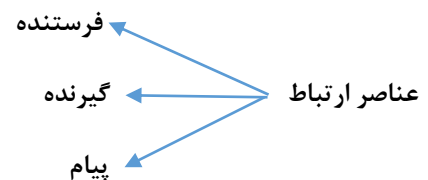
یکی از مهم ترین وظایق قوه قضائیه ..... است

در جمله زیر یک عبارت نادرست به کار رفته آن را اصلاح کنید:

دعاوی کیفری مربوط به اعمالی است که دادگاه مجازاتی تعیین نمی کند بلکه افراد را ملزم می کند که تکالیفشان را انجام دهند.

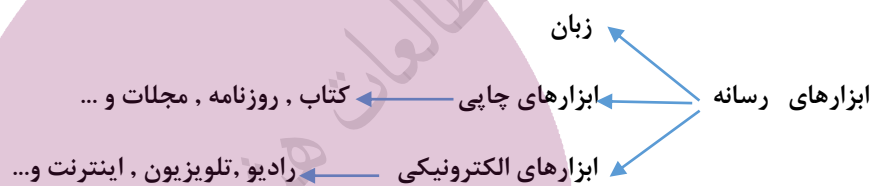
ایران تونل  
توشه ای برای موفقیت

**نکته:** ارتباط یکی از نیازهای مهم انسان است

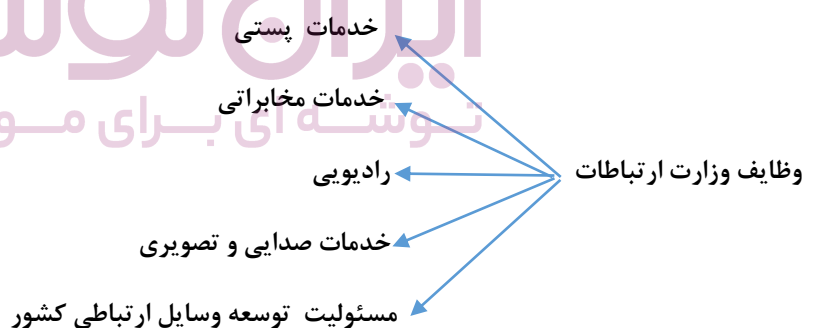


بازخورد: اگر گیرنده پیامی به فرستنده بدهد و فرستنده را متوجه کند پیام او را دریافت کرده است به این عمل بازخورد می گویند

رسانه: وسیله ای است که پیام را از فرستنده به گیرنده انتقال می دهد رسانه نام دارد



**نکته:** در ایران مسئولیت رسانه مربوط به وزارت ارتباطات و فناوری است



#### سوالات درس

لیلا نیز مانند بسیاری از مردم ایران از طریق شبکه اجتماعی **instagram** به ملاقات صفحه رهبری رفته و با نوشتن دعای خیر، سلامتی ایشان را از درگاه خداوند خواستار شده و میزان عشق و علاقه خود به ایشان ابراز کرد. مقام رهبری از طریق صدا و سیما از مردم تشکر کردند.

ج) پیام چه می باشد؟

الف) گیرنده پیام کیست؟

د) بازخورد این پیام چیست؟

ب) فرستنده پیام کیست؟



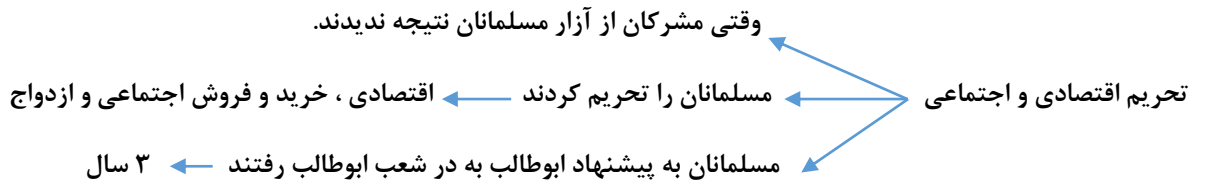
سوالات درس

جدول زیر را کامل کنید:

اثرات مثبت ارتباط جمعی	اثرات منفی ارتباط جمعی
۱-	۱-
۲-	۲-
۳-	۳-

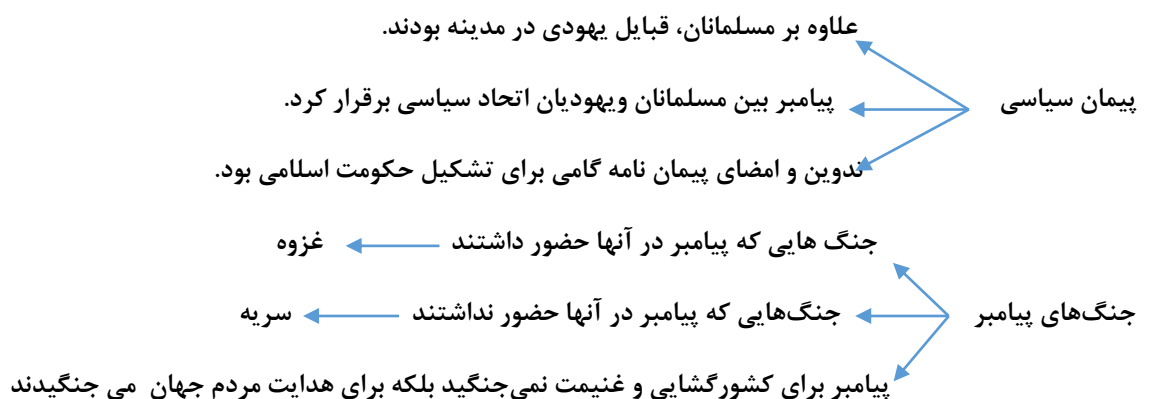


**نکته:** وقتی آزار و اذیت مشرکان زیاد شد ← پیامبر از مسلمانان خواست به حبشه هجرت کنند.



**نکته:** گروهی از مردم که مال و احوال خود را در مکه رها کردند و با پیامبر به مدینه آمدند. (مهاجرین)

**نکته:** گروهی از مردم یثرب که با پیامبر پیمان بستند و او را یاری کردند. (انصار: یاری کنندگان)



## سوالات درس

در مورد عصر جاهلیت در عربستان به سوالات زیر پاسخ دهید:

الف) به چه دوره زمانی اطلاق می شود؟

ب) علت درگیری های قبیله ای و رواج غارتگری در بین قبایل چه بود؟

پیامبر در آغاز ورود به مدینه مسلمانان را دو به دو با یکدیگر برادر اعلام کرد:

الف) این اقدام پیامبر به چه منظوری صورت گرفت؟

ب) چه نتیجه ای برای مسلمانان داشت؟

پیامبر اکرم همواره مسلمانان را به آموختن علم توصیه می کردند، ایشان در آغاز ورود به مدینه برای گسترش علم و دانش در بین مسلمانان چه کردند؟

پیمان نامه سیاسی بین مسلمانان و قبایل ..... اطراف مدینه بسته شد.

دو ایستگاه مهم تجاری عربستان چه شهر هایی بودند؟

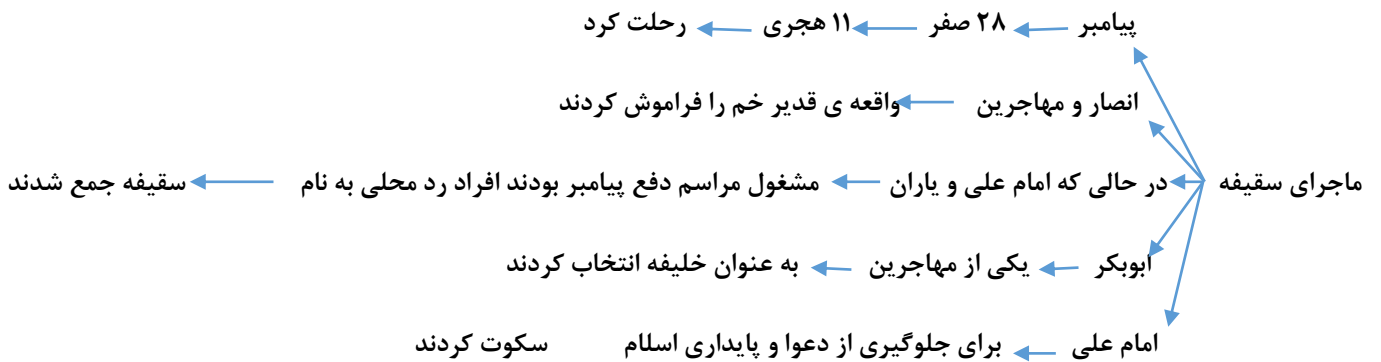
در رابطه با شبه جزیره عربستان نمودار زیر را کامل کنید:

نام دیگر شبه جزیره عربستان

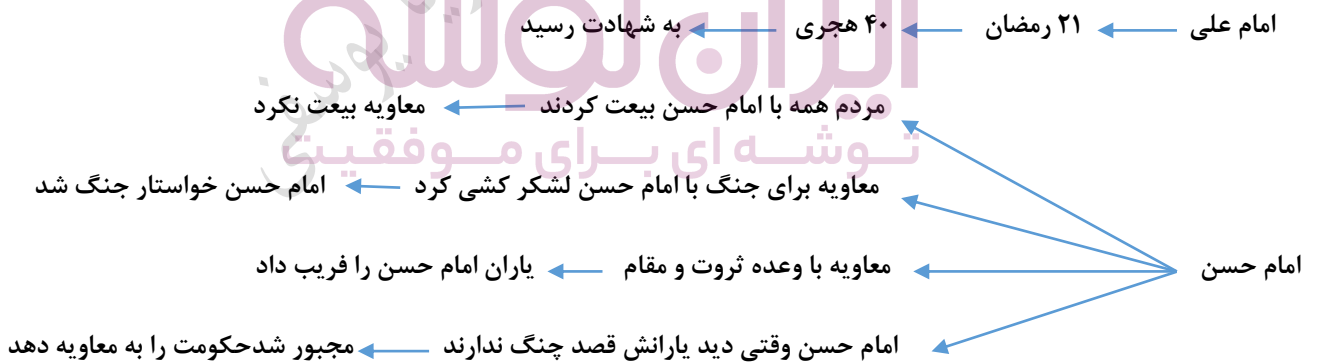
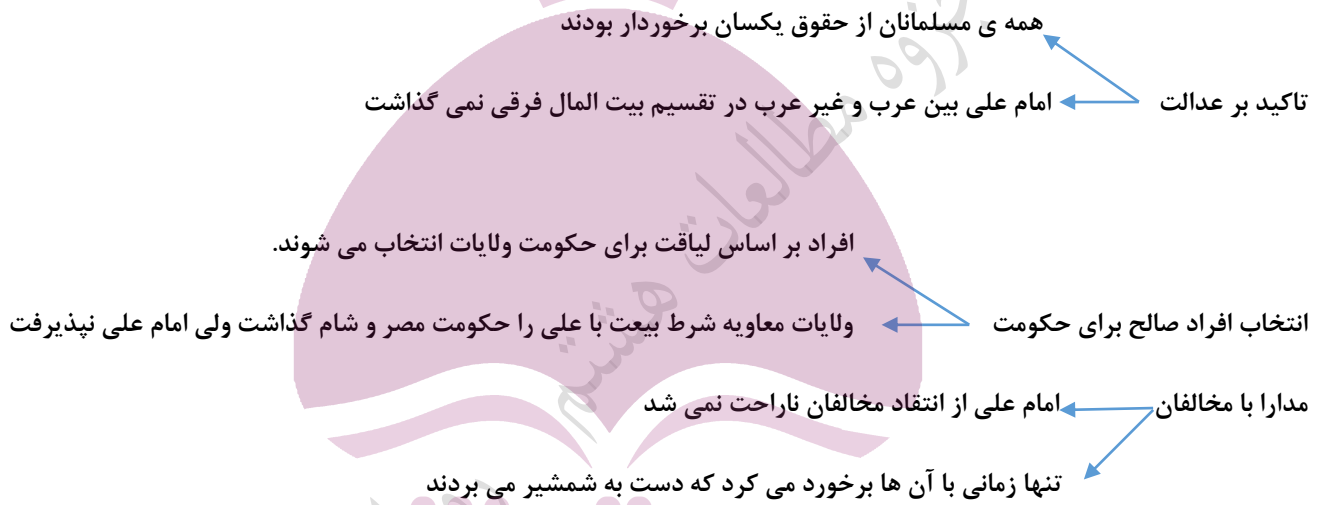
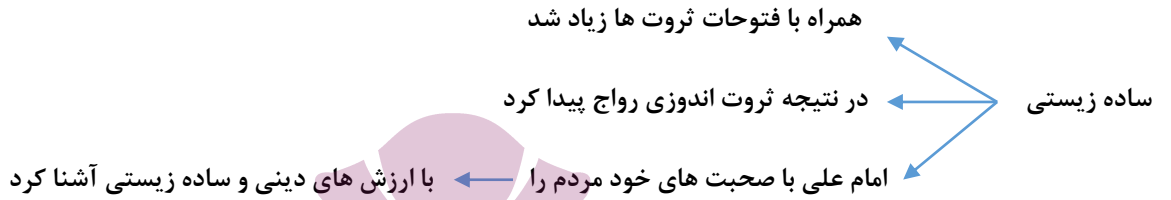
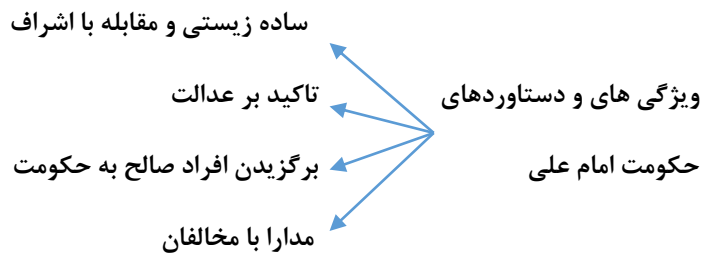
در کدام قسمت آسیا واقع شده است

دو شهر مهم شبه جزیره

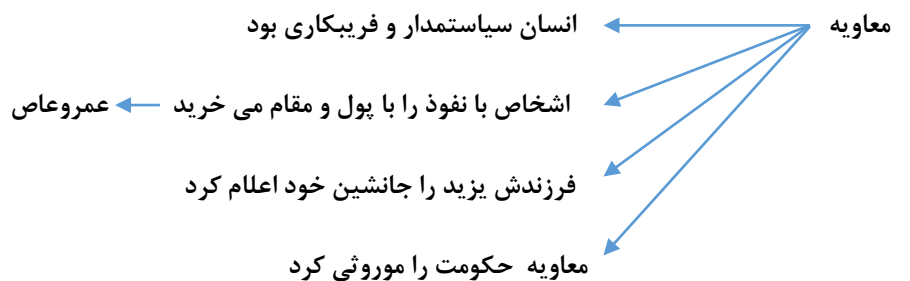
شبه جزیره عربستان



نکته: امام علی ۵ سال خلافت کرد ← مرکز خلافت را از مدینه به کوفه انتقال داد



نکته: معاویه در شام به خلافت رسید



با شهادت امام حسن، امام حسین با نامه ها و سخنرانی های افشاگرانه، به مبارزه با معاویه پرداخت

زمینه های قیام کربلا ← امام حسین با یزید بیعت نکرد با خانواده بستگان و یاران به طرف مکه رفت

امام حسین تصمیم داشت در خانه ی خدا و مراسم حج مردم را برای مبارزه با یزید آماده کند

نیم قرن از رحلت پیامبر جامعه اسلامی دچار انحراف شده بود

دستاوردهای قیام کربلا ← قیام بزرگی مثل کربلا و قیام امام حسین و یارانش می توانست اسلام را انحراف نجات دهد

هدف قیام کربلا از زبان امام حسین ← هدف من اصلاح امت جدم

← امر به معروف و نهی از منکر

← پیاده کردن سیره امام علی است

**نکته:** حضرت زینب با سخنرانی های خود بعد از کربلا، یاد کربلا را زنده نگه داشت

### سوالات درس

معاویه در جنگ هایی که با امام علی و امام حسن داشت توانست با به کار بردن نیرنگ سپاه خود را از شکست نجات دهد، او در هر یک از این جنگ ها از چه روشی استفاده کرد؟

الف) جنگ با امام علی:

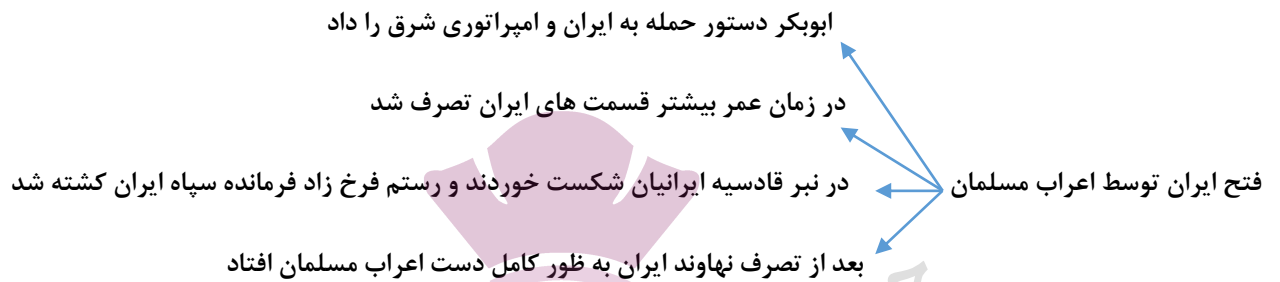
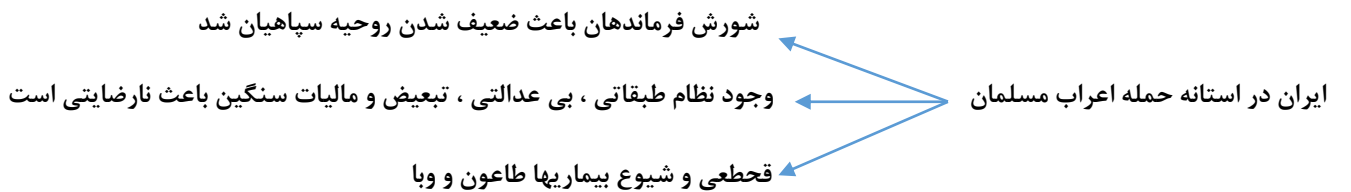
جنگ با امام حسن:

نقش حضرت زینب بعد از شهادت برادرش چه بود؟

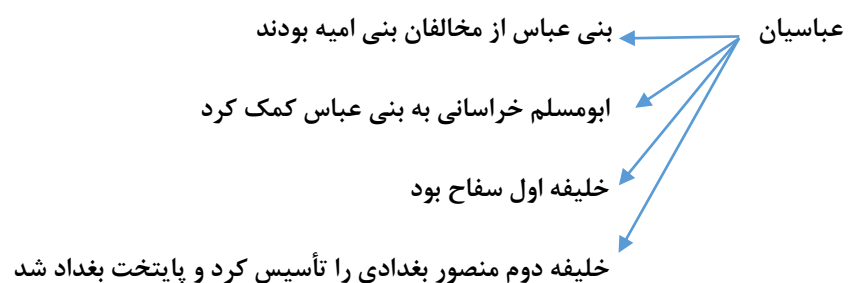
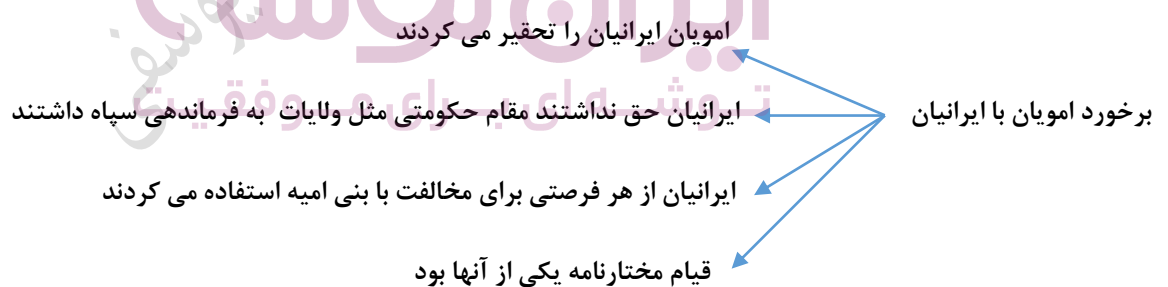
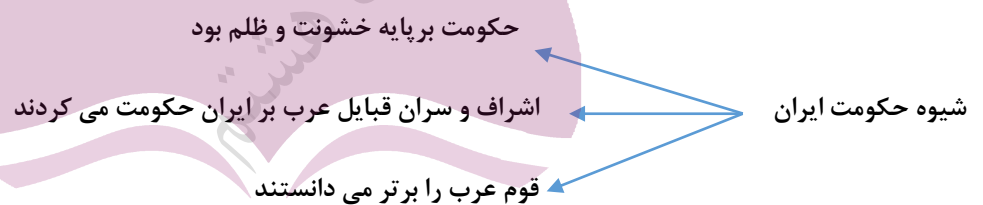
با توجه به ویژگی های حکومت امام علی گزین های سمت راست را به عبارت های مناسب سمت چپ وصل کنید:

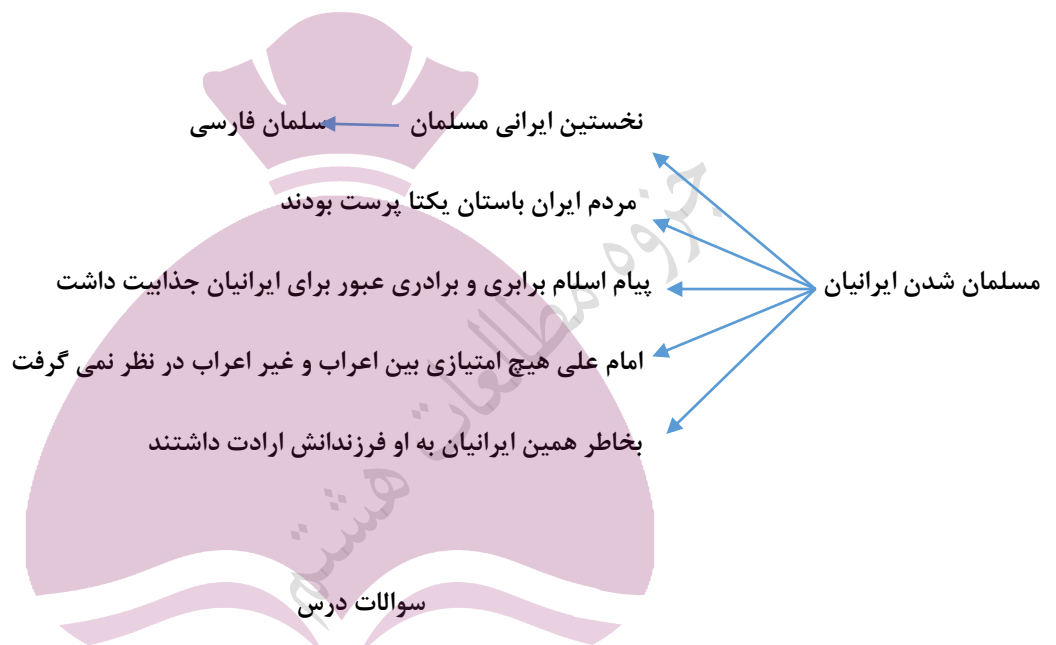
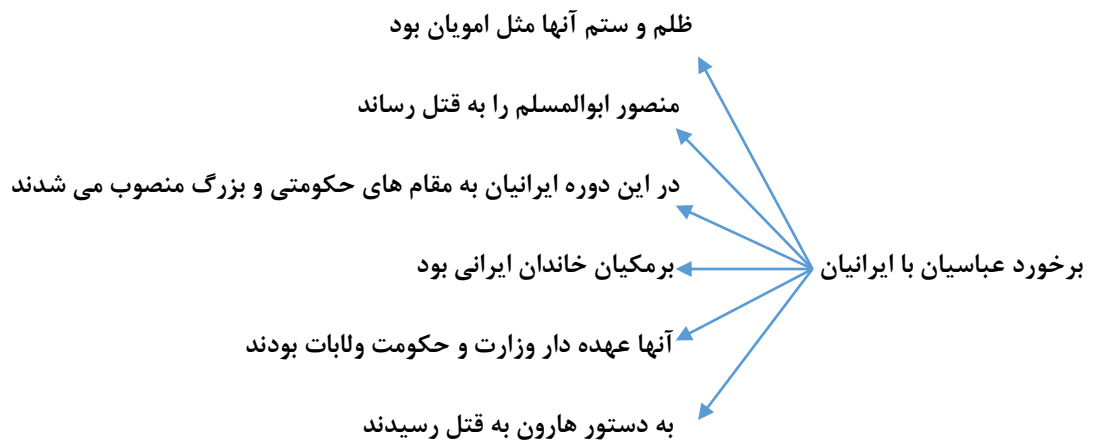
الف) در حکومت امام علی همه از حقوق برابر برخوردار بودند	۱- ساده زیستی و مقابله با اشرف گری
ب) امام از انتقاد مخالفان ناراحت نمی شد	۲- تاکید بر عدالت
ج) امام به افراد ناصالح و ستمگر مقامی نمی دادند	۳- برگزیدن افراد صالح به حکومت ولایات
د) امام علی با زندگی بدون تجملات الگوی خوبی برای دیگران بود	۴- مدارا با مخالفان
و) امام علی هیچ گونه تمایلی به جنگ میان مسلمانان نداشت	

چه عاملی باعث کشته شدن خلیفه سوم شد؟



**آخرین پادشاه ایران:** یزدگرد سوم بود در جنگ نهاوند فرار کرد و به دست آسیابان مروی کشته شد.





ابومسلم خراسانی با شکست امویان، ..... را از خاندان عباسیان به خلافت رساند.

کدام خلیفه فرمان حمله به مرزهای حکومت ساسانیان و امپراتوری روم شرقی را صادر کرد؟

در جمله زیر یک عبارت نادرست به کار رفته است آن را اصلاح کنید:

خلیفه دوم عباسی، سفاح شهر بغداد را بنا کرد و آن را مرکز خلافت عباسیان قرار داد.

در جمله زیر یک عبارت نادرست به کار رفته آن را پیدا کنید:

ابومسلم خراسانی در کوفه به خونخواهی اما حسین و یارانش قیام کرد.

در زمان کدام خلیفه بیشتر سرزمین ایران به تصرف اعراب درآمد؟

فرمانده ایران در جنگ نهاوند چه کسی بود؟

فرمانده ایران در جنگ قادسیه چه کسی بود؟

**نکته:** خلافت عباسی یک قرن دوام داشت.





### سوالات درس

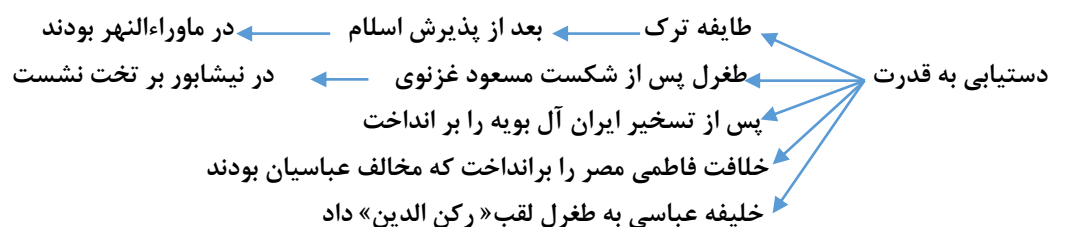
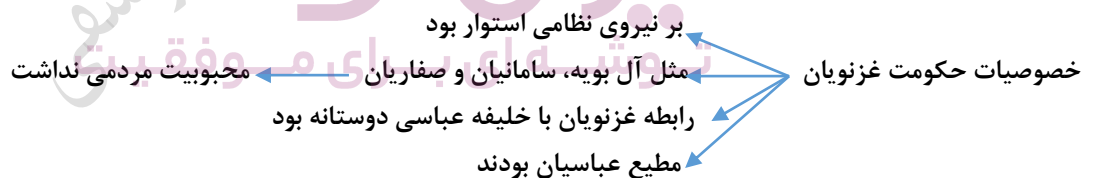
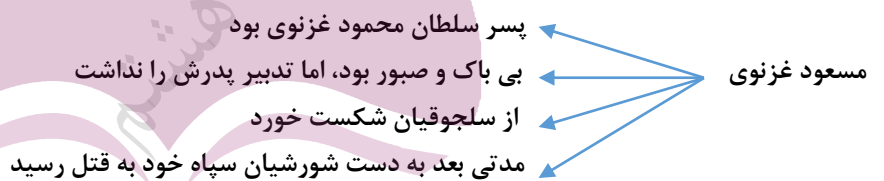
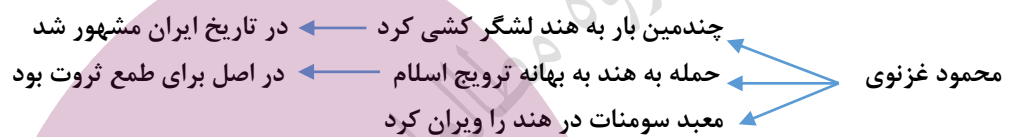
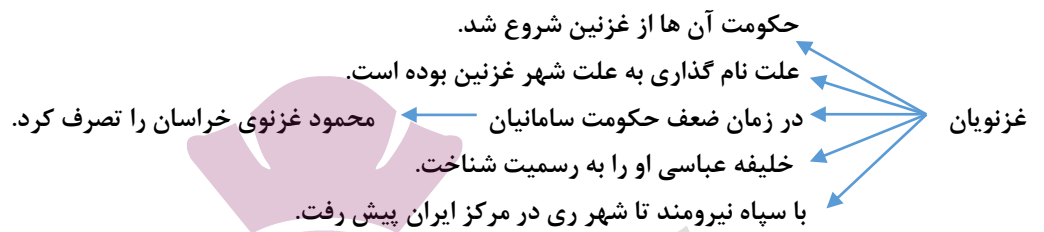
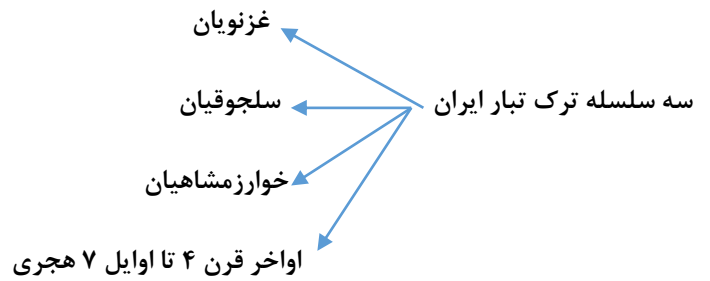
گزینه های مناسب را به هم وصل کنید:

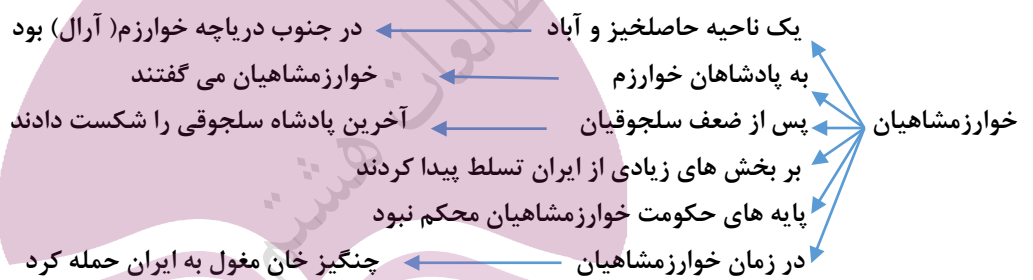
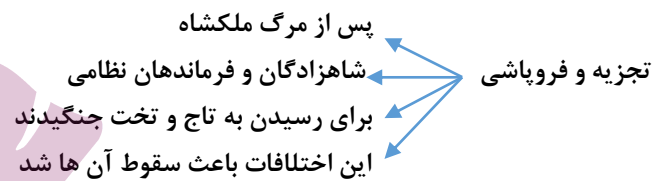
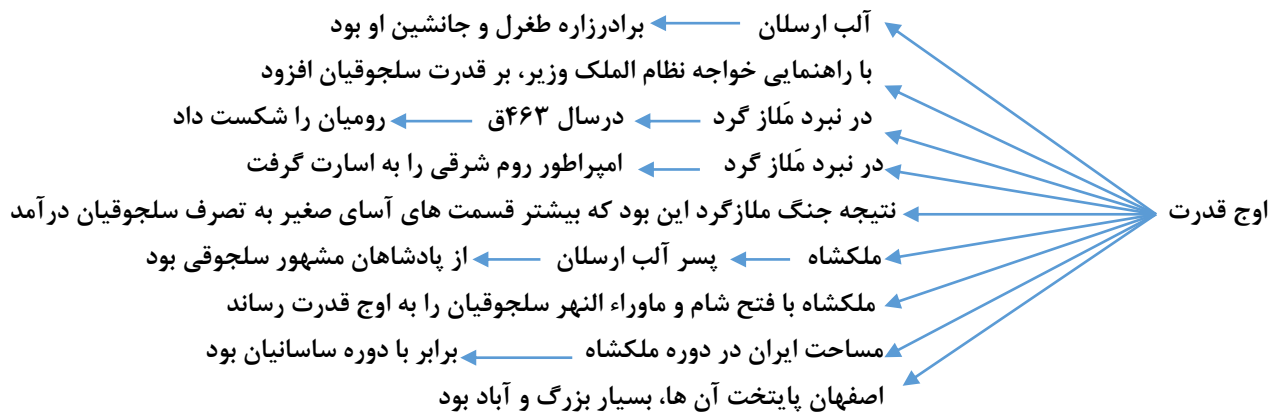
نام سلسله	نام موسس
۱- علویان	الف) امیر اسماعیل
۲- سامانیان	ب) یعقوب لیث
۳- صفاریان	ج) طاهر ذوالیمینین
۴- طاهریان	

در جمله زیر یک عبارت نادرست قرار داده شده آن را اصلاح کنید:

امیر اسماعیل ساسانی موسس سلسله سامانیان با پشتیبانی مردم سیستان به حکومت رسید.

ایران توشه  
توشه ای برای موفقیت

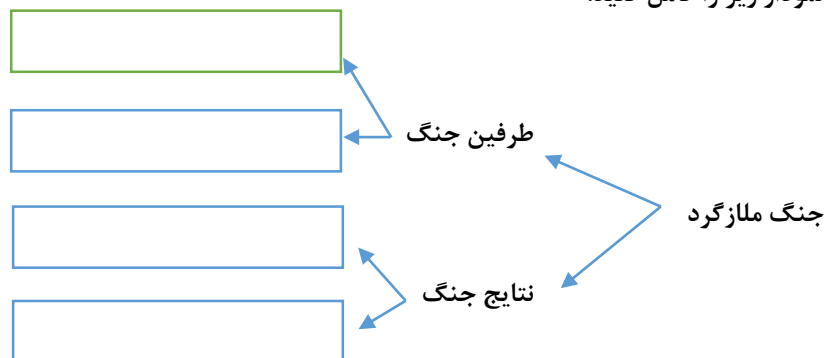




**نکته:** در دوره محمد خوارزمشاه، چنگیز مغول به ایران حمله کرد

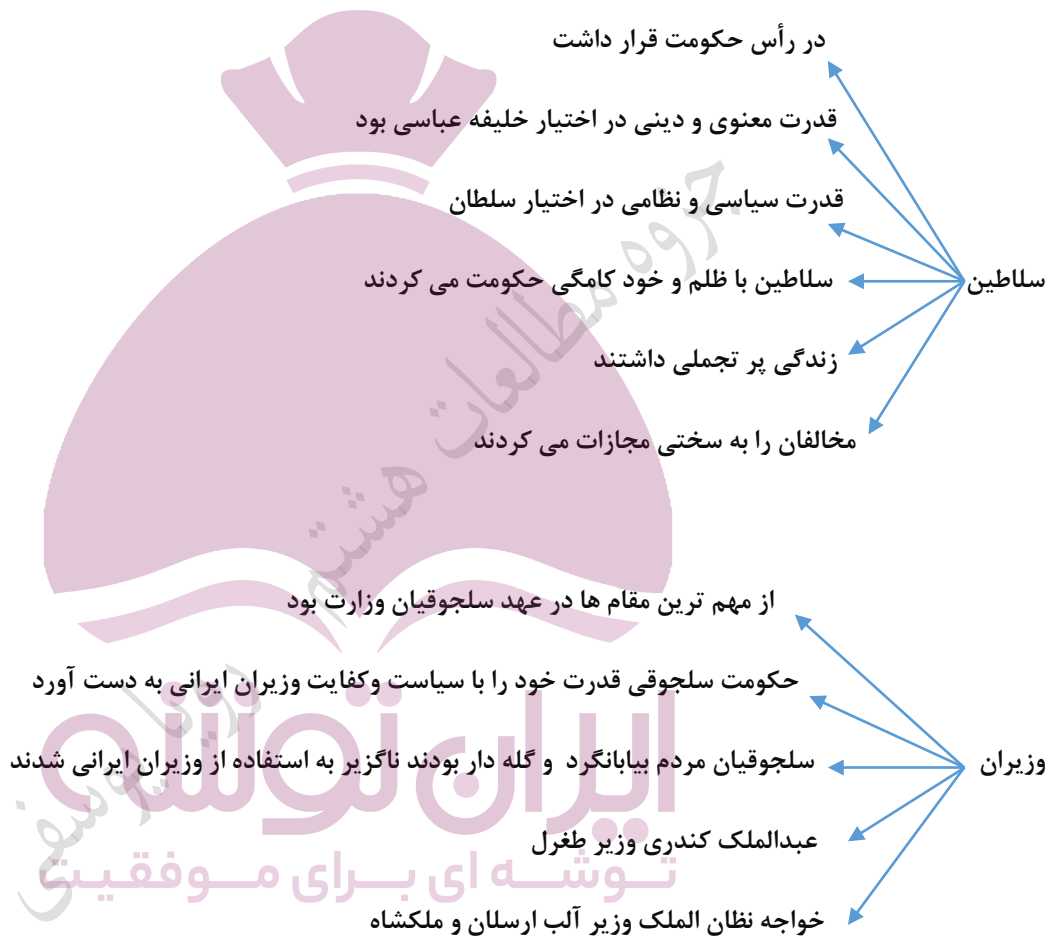
سوالات درس

نمودار زیر را کامل کنید:

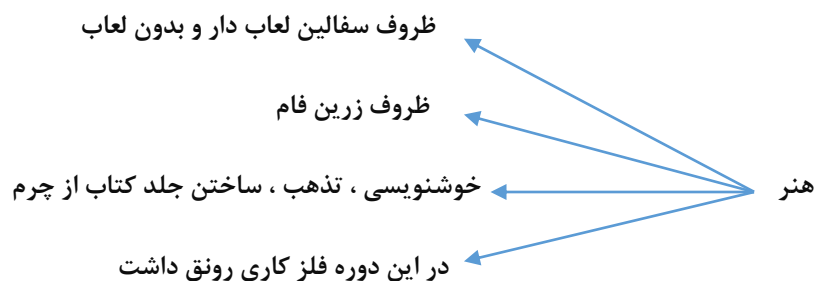
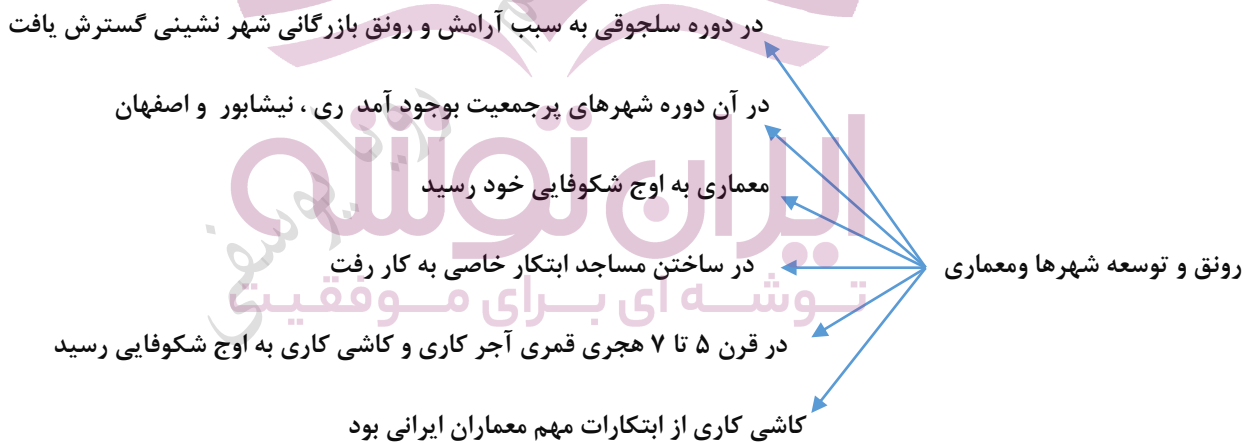
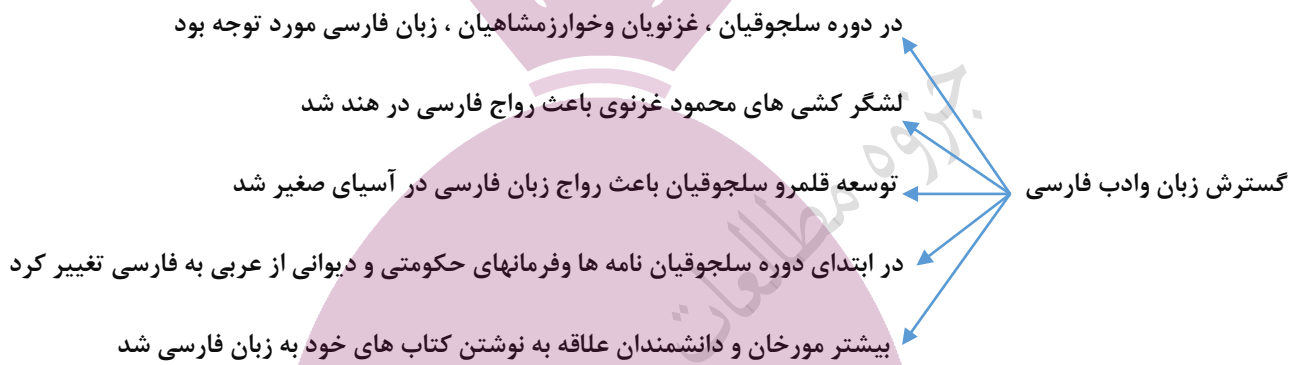
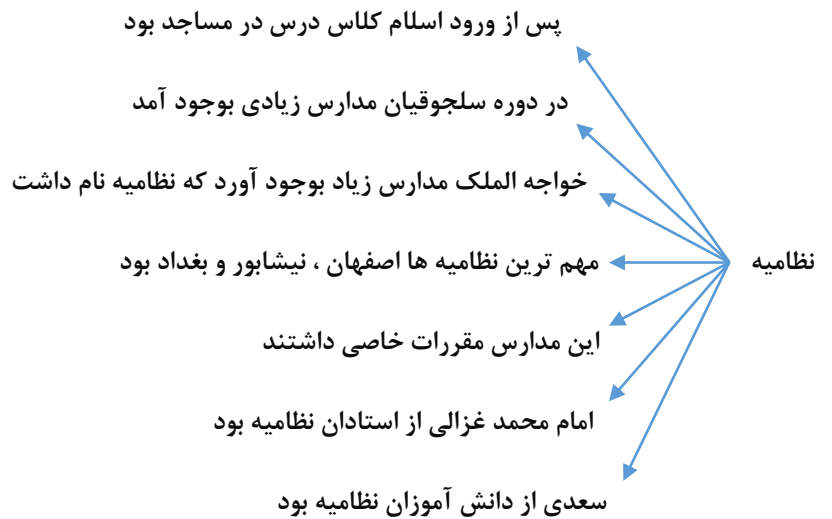


علت اهمیت سلجوقیان ← تأثیر در تحولات ایران و سرزمین های اسلامی  
 ← وسعت قلمرو آنها

تشکیلات حکومتی سلسله های ترک ← تشکیلات سامانیان و غزنویان از نظام باستان  
 ← تشکیلات اداری سلجوقیان از سامانیان و غزنویان



نقش وزیران در حکومت سلجوقی  
 ← نقش مهمی در اداره حکومت سلجوقی داشتند  
 ← با تدبیر و مدیریت وزیران اوضاع اقتصادی و فرهنگی بهتر شد  
 ← توسط وزیران کشاورزی، هنر و صنعت و معماری رشد کرد  
 ← یکی از وظایف مهم وزیران تنظیم رابطه سلطان با خلیفه و دیگر فرمانروایان بود



## سوالات درس

لشکرکشی های سلاطین غزنوی و سلجوقی سبب رواج زبان فارسی به خارج از مرزهای ایران شد، در زمان هر یک از سلاطین زبان فارسی تا کدام ناحیه رواج پیدا کرد؟

الف) سلطان محمود و غزنویان

ب) سلجوقیان

من کیستم؟

شاعر معروف ایرانی که در مدارس نظامیه به کسب تحصیل پرداختم

الف) سلطان سنجر	۱- عمیدالملک کندی
ب) سلطان طغرل	۲- خواجه نظام الملک
ج) سلطان ملکشاه	

در رابطه با مدارس نظامیه به سوالات زیر پاسخ دهید:

الف) بنیانگذار این مداری چه کسی بود؟

ب) مهم ترین مدارس در کدام شهرها بودند؟

ج) نام یکی از اساتید بزرگ این مدارس را بنویسید.

از ابتکارات ایرانی ها در دوره سلجوقی ..... بود.

در رابطه با لشکرکشی محمود غزنوی به هندوستان به سوالات زیر پاسخ دهید:

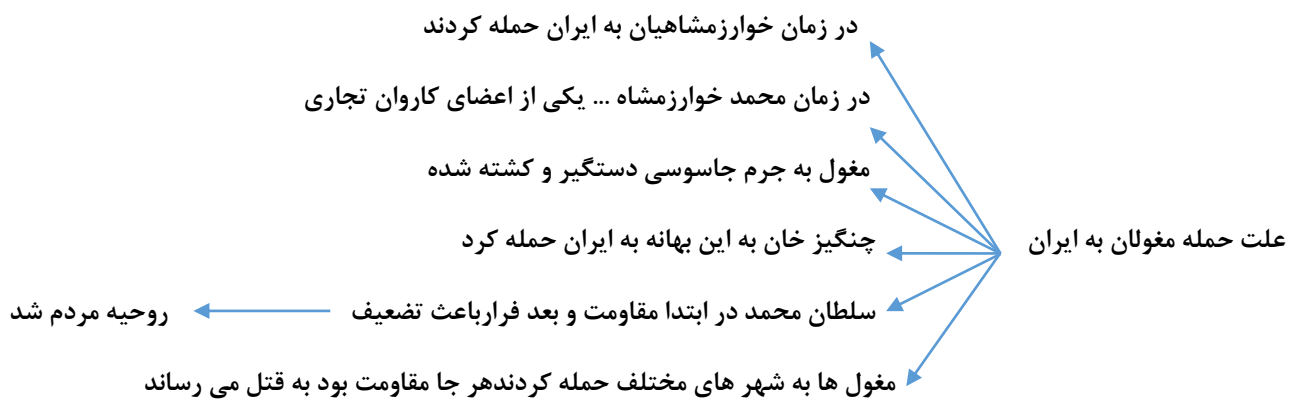
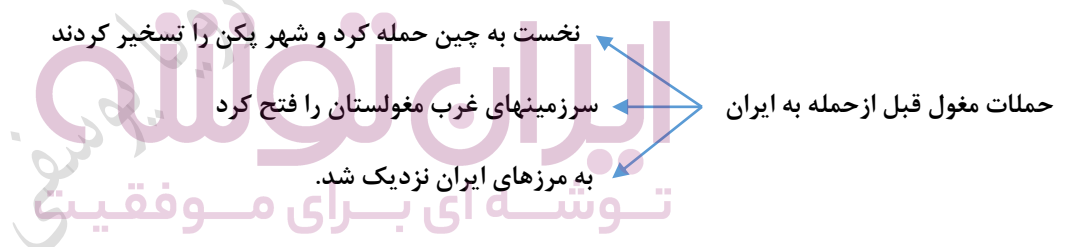
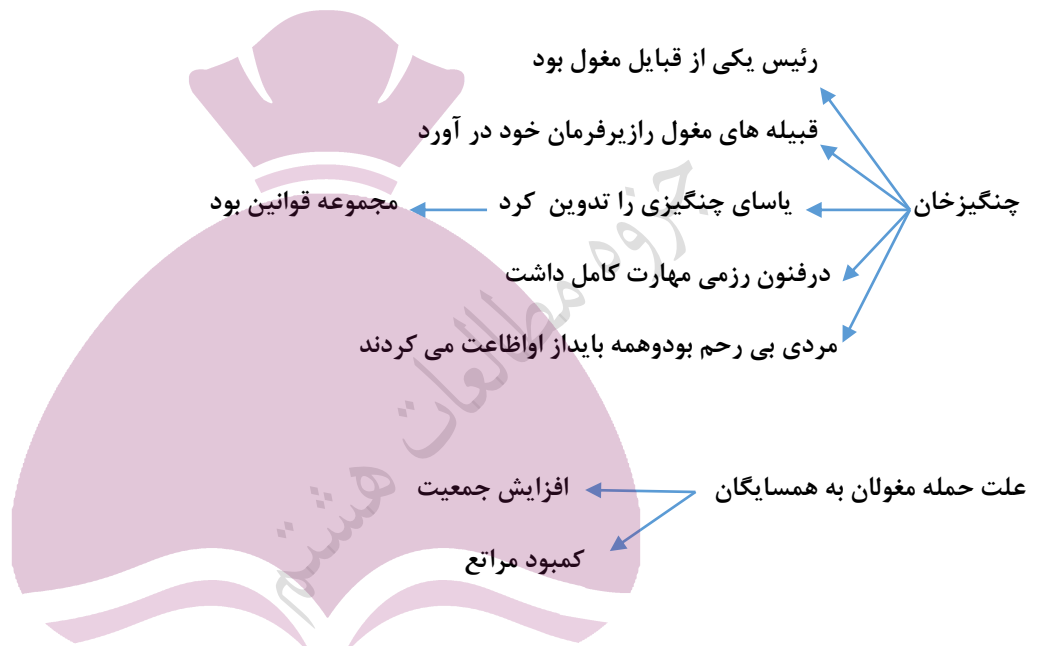
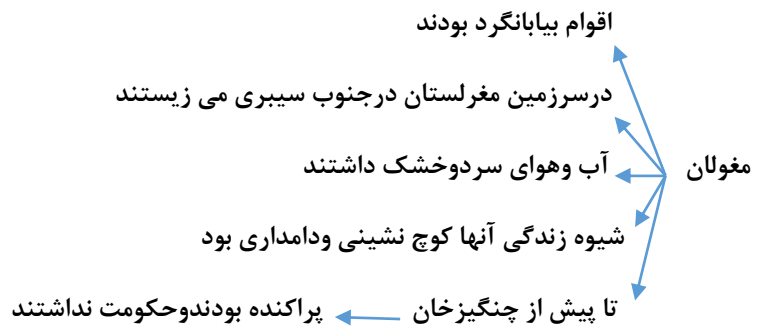
الف) بهانه سلطان محمود برای لشکرکشی چه بود؟

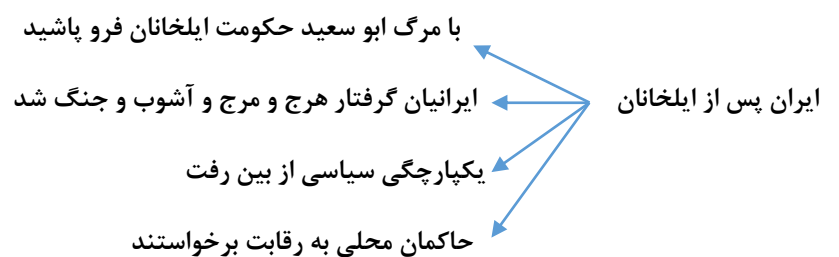
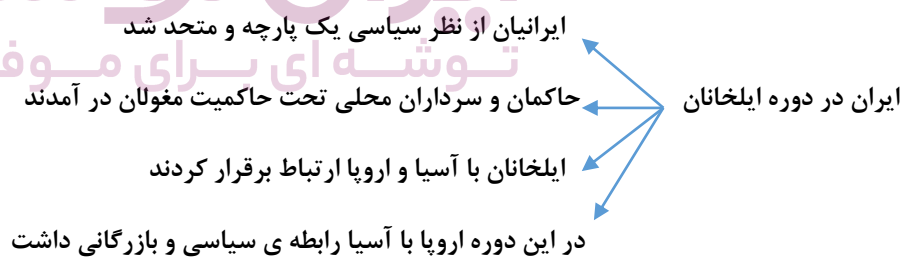
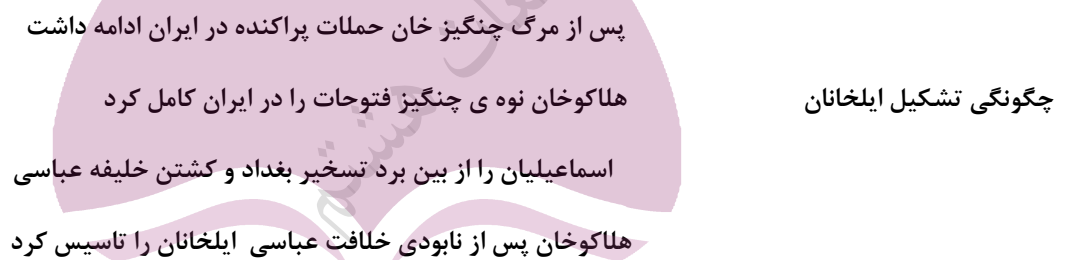
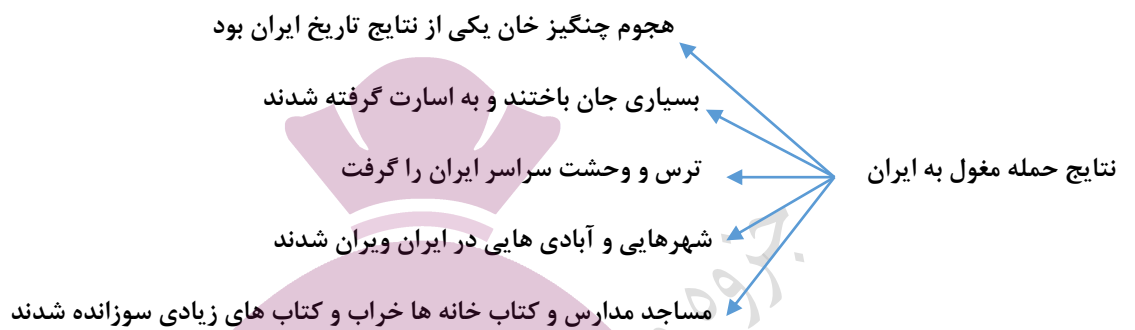
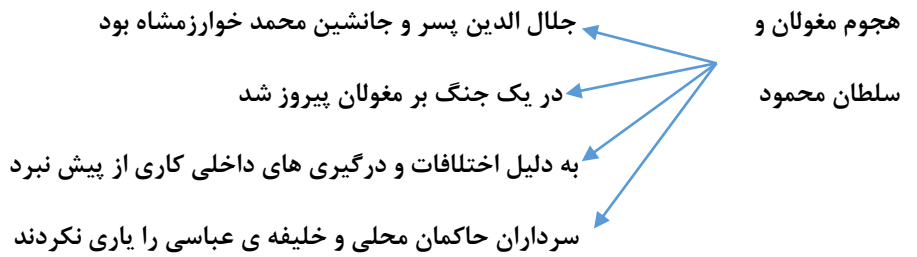
ب) هدف اصلی سلطان محمود از این حمله چه بود؟

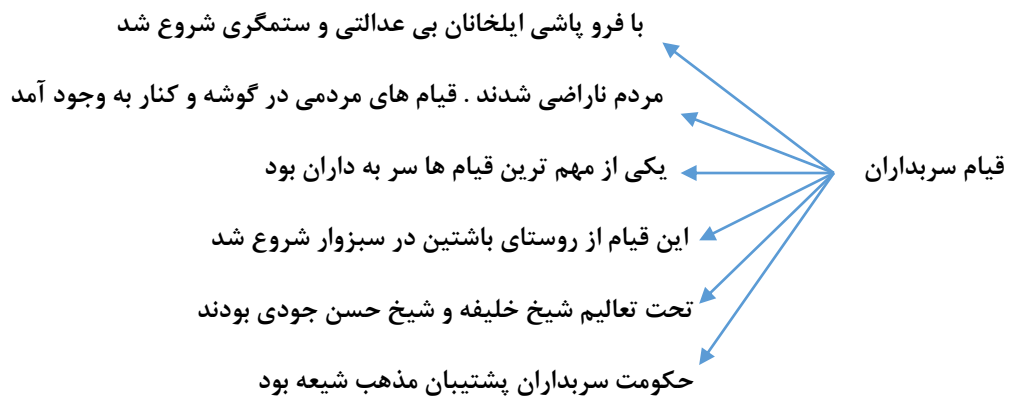
ج) کدام معبد هند را خراب کرد؟

در جمله زیر یک عبارت نادرست به کار رفته آن را اصلاح کنید:

سلطان محمود غزنوی به پشتوانه سپاه نیرومند خود قلمرو غزنویان را تازی در مرکز ایران گسترش داد.







### سوالات درس

در دوران فرمانروایی ایلخانان، ایران از نظر ..... یکپارچه و متحد شد.

در رابطه با قیام سرداران به سوالات زیر پاسخ دهید:

الف) پس از تصرف کدام شهر حکومت خود را تاسیس کردند؟

ب) شعار آنها چه بود؟

تعلیمات چه کسانی مردم سبزوار را آماده مقابله با ظلم حکومت ایلخانان کرده بود؟

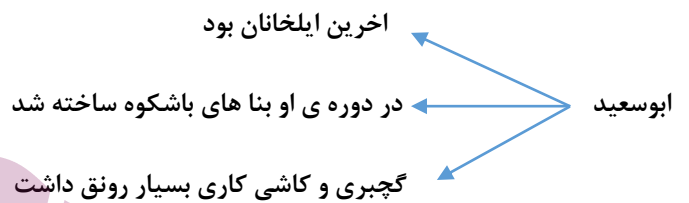
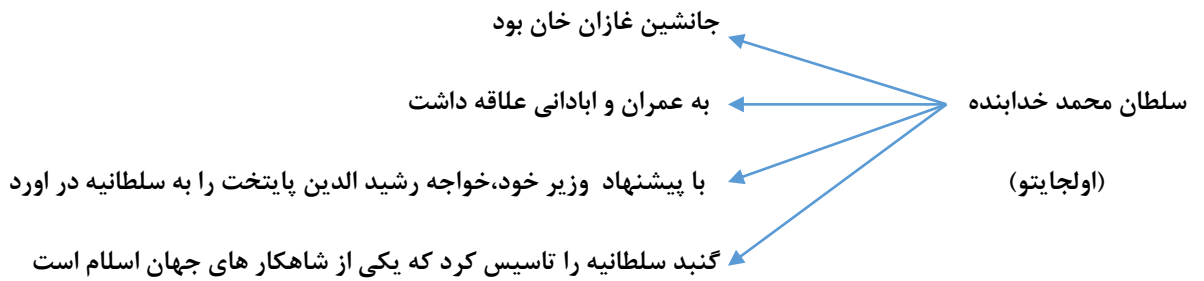
او کیست؟

رئیس یکی از قبایل مغول که قبیله های مغول را زیر فرمان خود آورد و حکومتی نیرومند تشکیل داد.

جدول را کامل کنید:

نام سلسله	موسس	دومین سلطان	پایتخت	علت نابودی
.....	تیمور	.....	سمرقند-هرات	.....





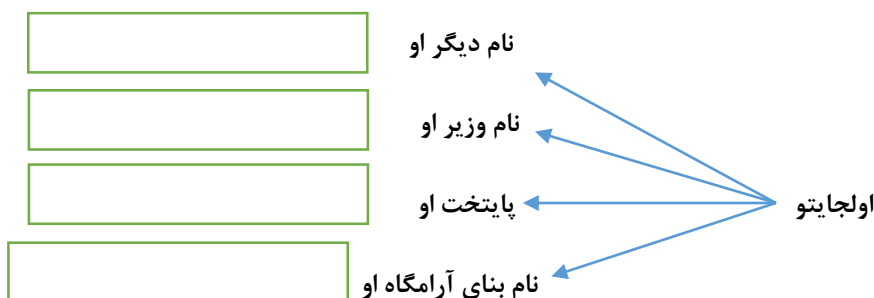
سوالات درس  
توشه ای برای موفقیت

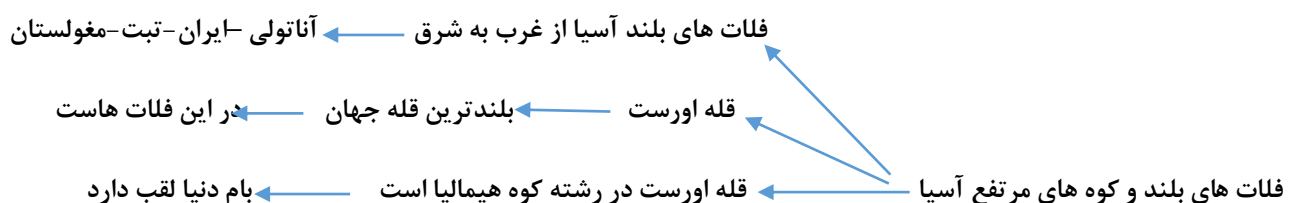
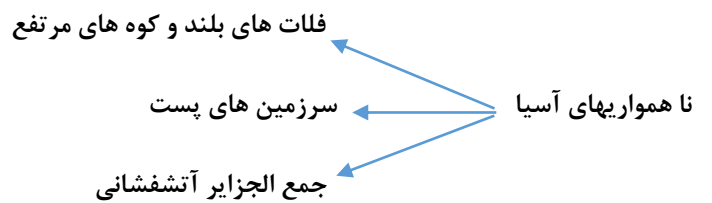
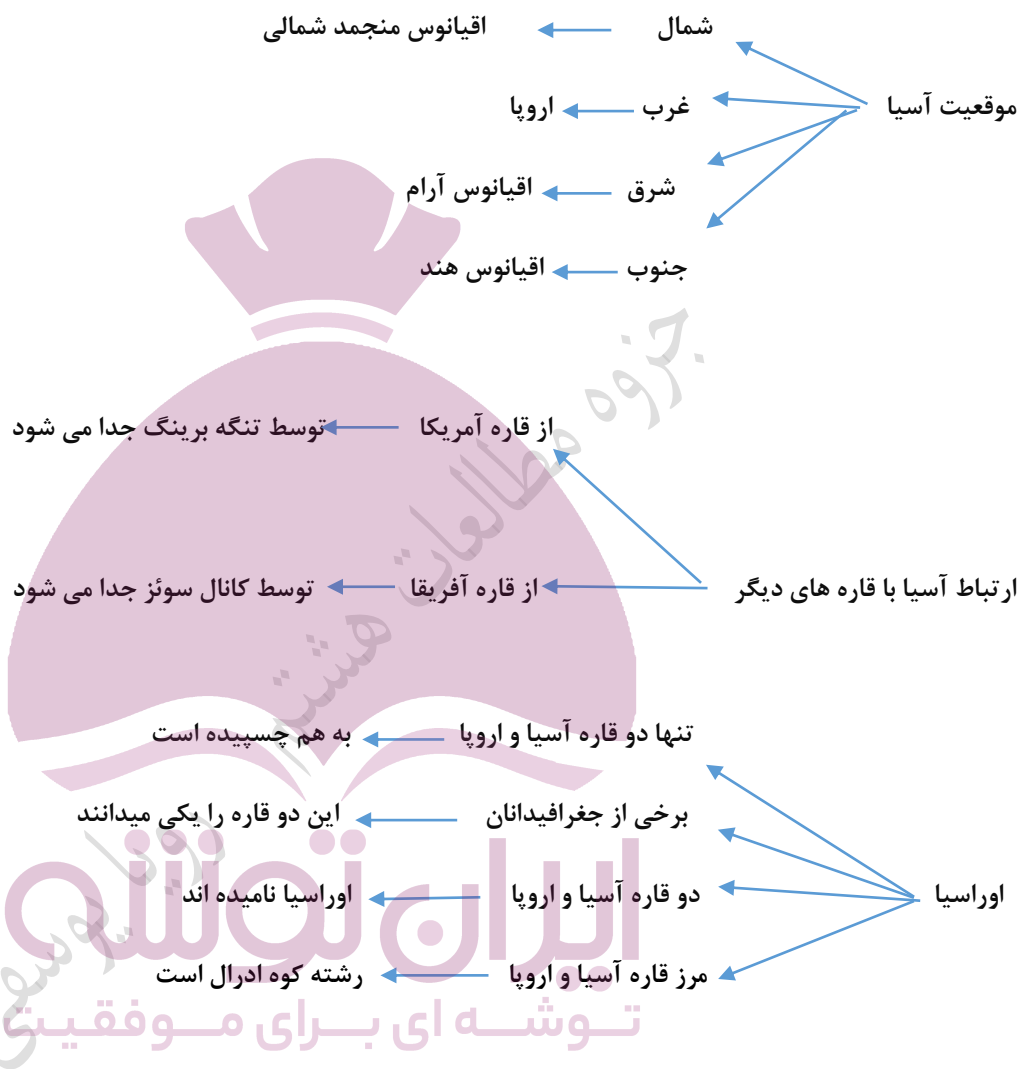
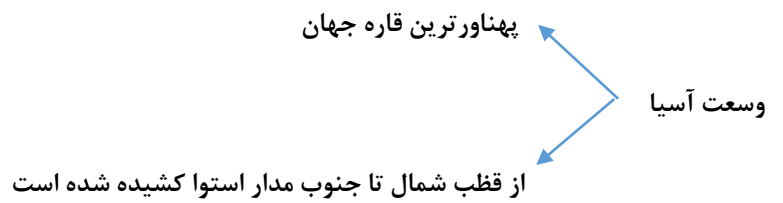
هر یک از بناهای زیر در کدام وزیر دانشمند ایرانی ساخته شد؟

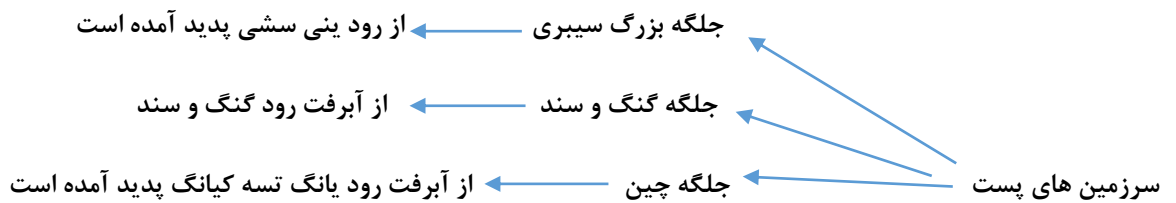
الف) رصدخانه مراغه

ب) ربع رسیدی

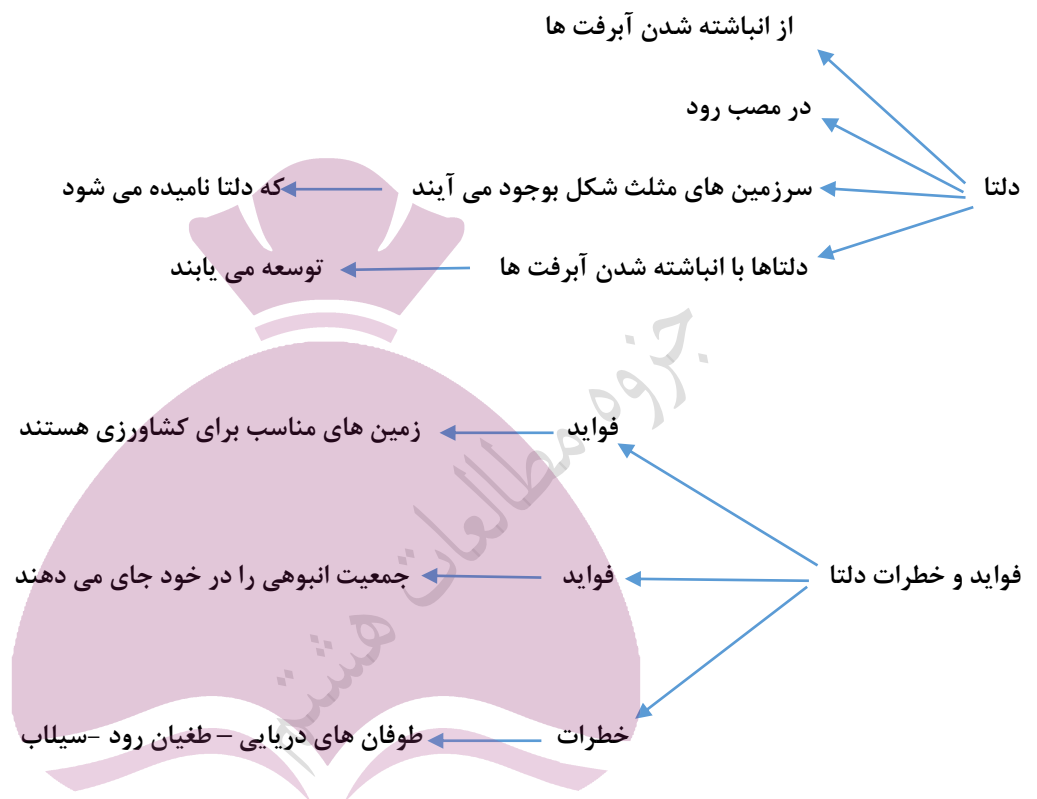
در رابطه با اولجایتو یکی از ایلخانان مغول نمودار زیر را کامل کنید:



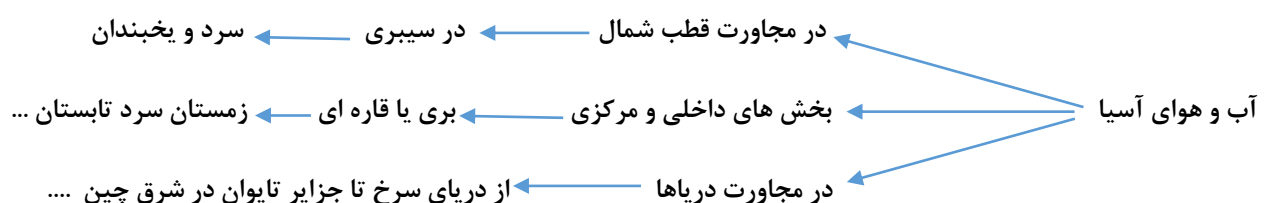


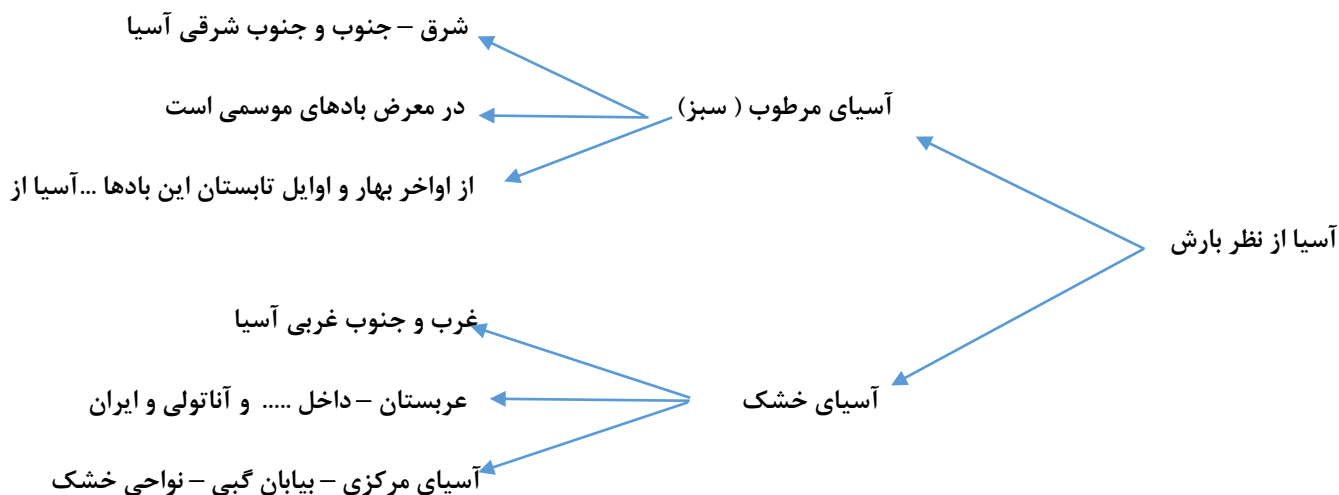


**نکته:** رود گنگ و سند از رشته کوه هیمالیا سرچشمه میگیرد ← بخش وسیعی از پاکستان و بنگلادش را در برمیگیرد



خطرات آتشفشان ها ← زمین لرزه - سونامی - فعال شدن کوه های آتشفشانی





### سوالات درس

در ارتباط با قاره آسیا به سوالات زیر پاسخ دهید:

الف) آسیا از سمت شرق و جنوب به کدام اقیانوس ها محدود می شود؟

ب) آسیا از چه طریقی از آمریکای شمالی جدا می شود؟

ج) آسیا به کدام قاره چسبیده است و جغرافیدانان به این دو قاره چه می گویند؟

در سال ۱۳۹۰ سونامی بزرگی در زلین روی داد که باعث بروز خسارات فراوانی شد. هر ساله زلزله های فراوانی نیز در ژاپن رخ می دهد، علت این بلایای طبیعی در ژاپن چیست؟

دو رود گمگ و سند از رشته کوه ..... سرچشمه می گیرند.

مجمع الجزایر آسیا در کدام سمت آن قرار گرفته است؟

فلات سرزمینی بلند است که از اطراف به نواحی پست منتهی می شود.

الف) فلات های بلند آسیا از غرب به شرق را نام ببرید.

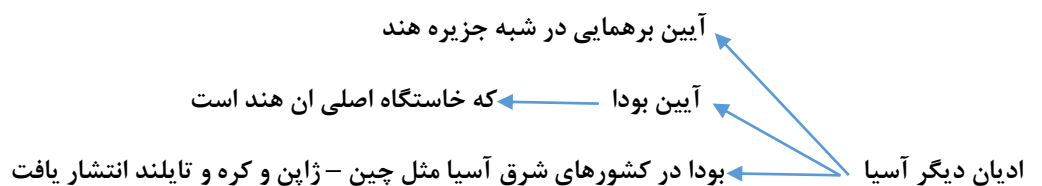
ب) بلندترین قله جهان چه نام دارد و در کدام فلات قرار دارد؟

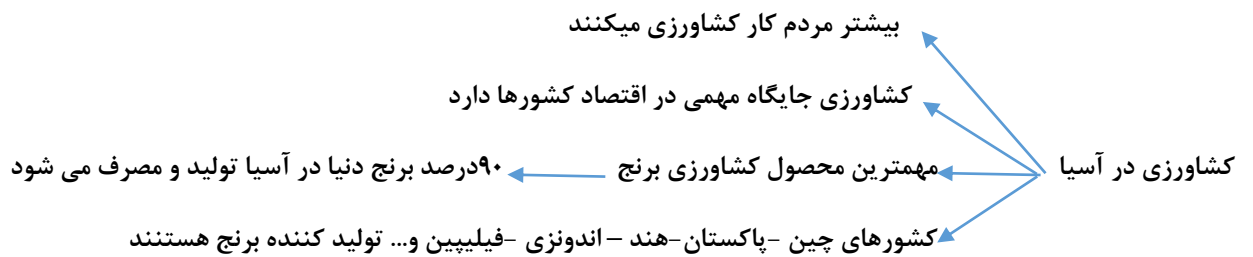
به سوالات زیر در ارتباط با آسیای مرطوب (سبز) پاسخ دهید.

الف) به کدام سمت آسیا، آسیای مرطوب می گویند؟ چرا؟

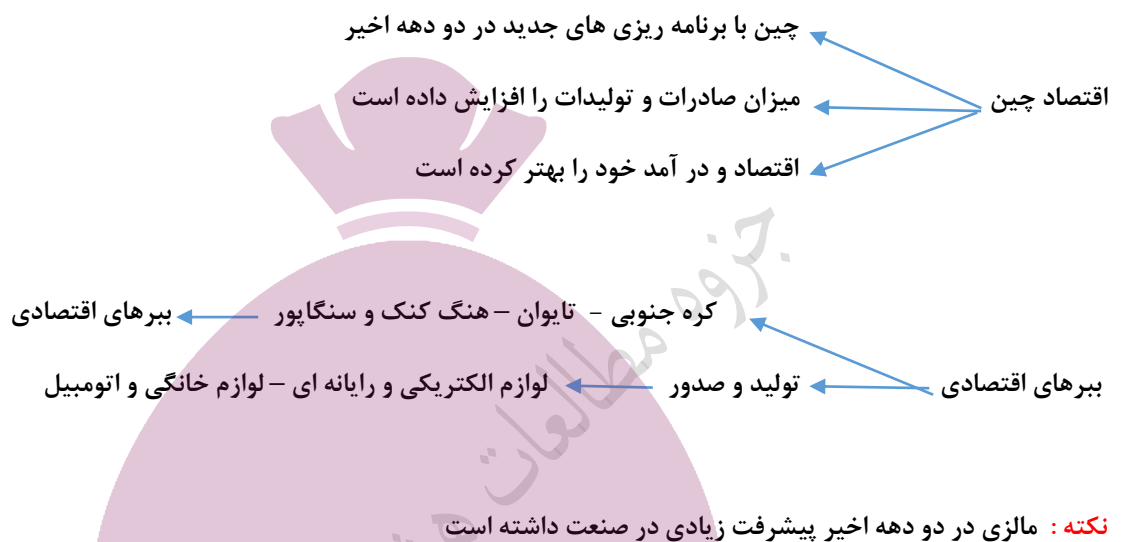
ب) بیشترین ریزش باران در ایت ناحیه در کدام فصل می باشد؟

قاره آسیا از طریق ..... از قاره آفریقا جدا می شود.

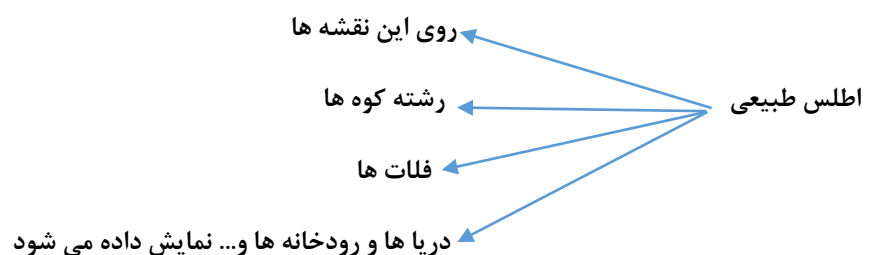
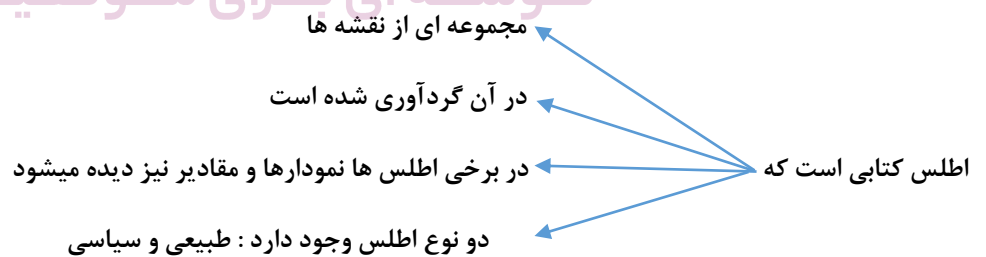
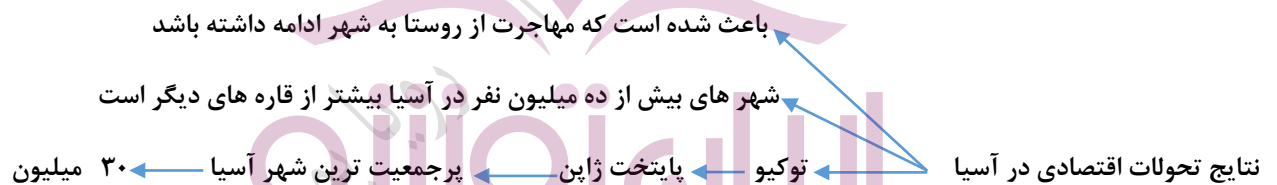




**نکته:** مهمترین کشور صنعتی آسیا ژاپن است که از بزرگترین قدرت های اقتصادی جهان است و با روسیه عضو گروه هشت است



**نکته:** مالزی در دو دهه اخیر پیشرفت زیادی در صنعت داشته است



اطلس سیاسی ← روی این نقشه ها  
مرز کشور ها - ایالت ها - استان ها - پایتخت ها و شهر های مهم دیده می شود

### سوالات درس

پر جمعیت ترین شهر آسیا کدام است؟

؟ در کدام اطلس نقشه قاره ها و کشورها آمده است؟ متراکم ترین منطقه جهان کجا است؟

نام دارد. ادیانی که در آسیا پیروان زیادی دارد ما در قاره های دیگر چندان نفوذی دارد

کتابی که مجموعه ای از نقشه ها در آن جمع آوری شده است .....

در رابطه با بهره‌های اقتصادی به سوالات زیر پاسخ دهید:

الف) هدف اقتصادی این کشور ها را بنویسید.

ب) نام سه کشور از چهار کشوری که به این نام معروفند را ذکر کنید.

ج) نام دو محصول که در تولید آن پیشرفت کرده اند را بنویسید.

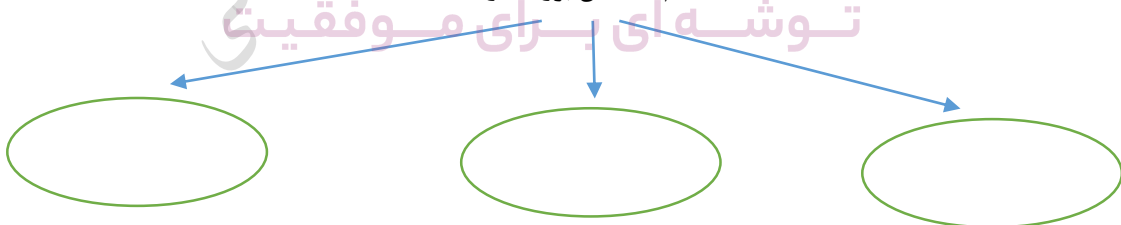
در رابطه با کشاورزی آسیا به سوالات زیر پاسخ دهید:

الف) بیشترین مردم آسیا به چه کاری مشغول هستند؟

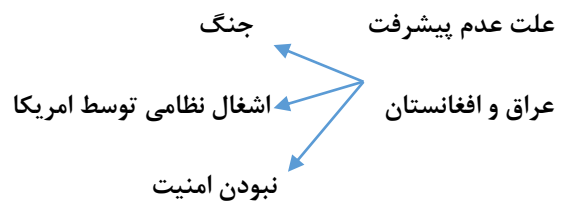
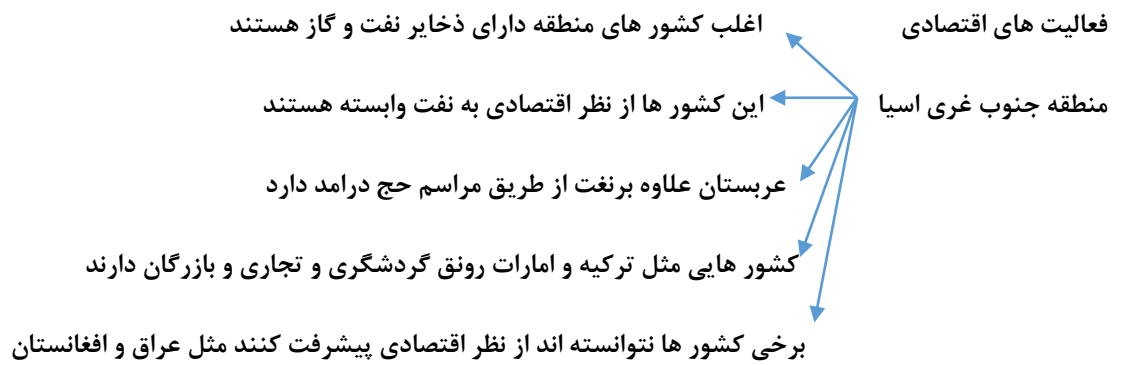
ب) غذای اصلی مردم آسیا چیست؟

ج) دو کشور تولید کننده این محصول در آسیا را بنویسید.

نام سه دین بزرگ در آسیا





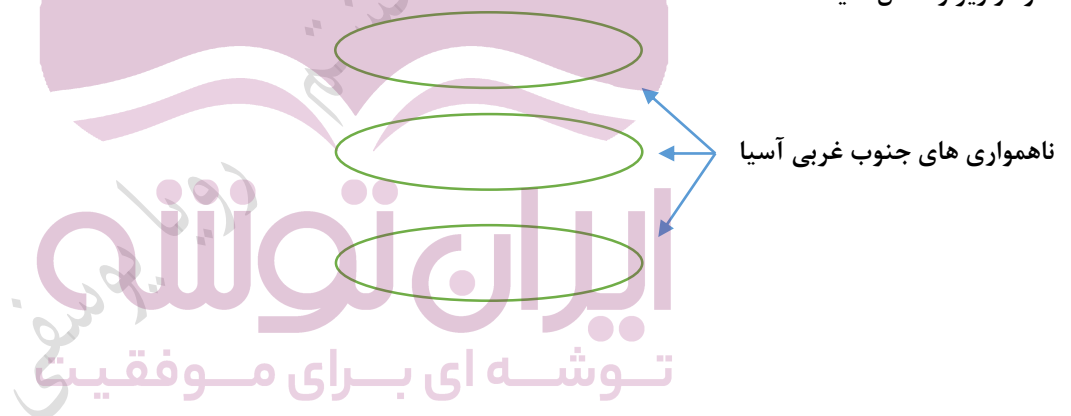


### سوالات درس

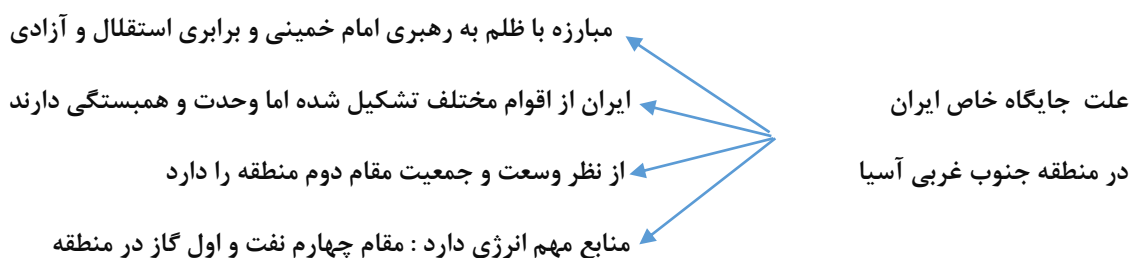
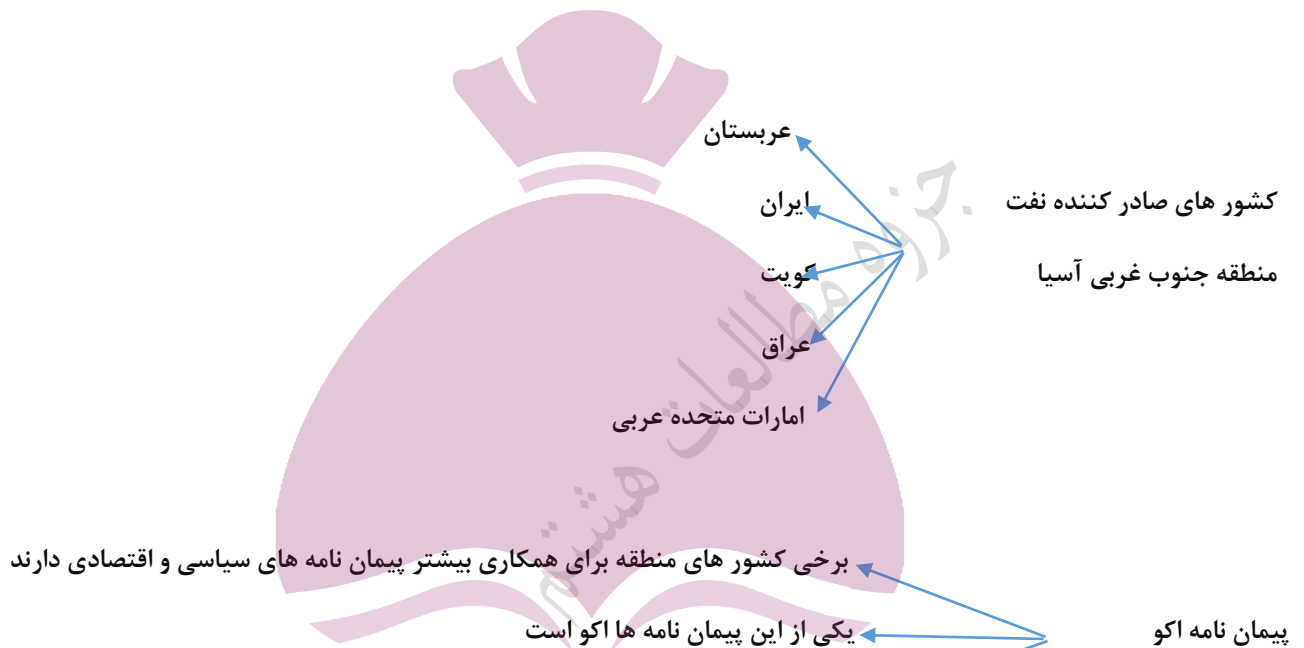
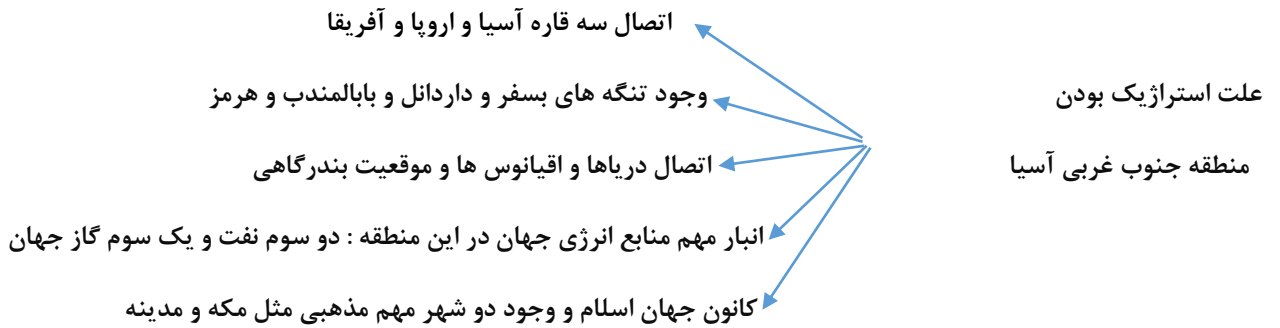
سه ناحیه پست و خشک منطقه جنوب غربی آسیا را نام ببرید.

را حله یک نوجوان عراقی است که متاسفانه کشور او از نظر اقتصادی پیشرفت زیادی نکرده و وضعیت چندان مناسبی ندارد، علت این امر چیست؟

نمودار زیر را کامل کنید:



کشور هایی چون ترکیه و امارات متحده عربی در جنوب غربی آسیا چگونه توانسته اند اقتصاد خود را متحول کنند؟





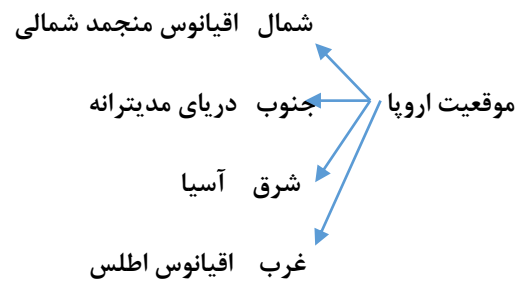
قلب تمدن اسلامی در منطقه ..... آسیا قرار دارد.

اهمیت تنگه هرمز را بنویسید.

نقش آبراهه ها در منطقه جنوب غربی آسیا چیست؟

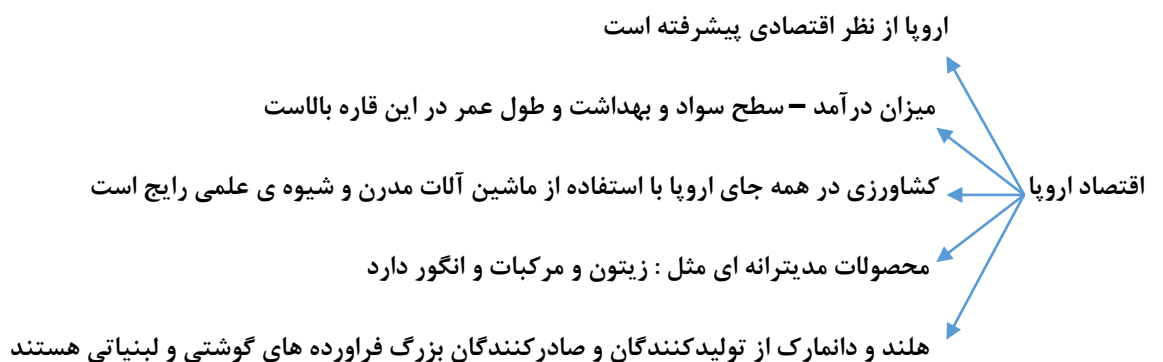
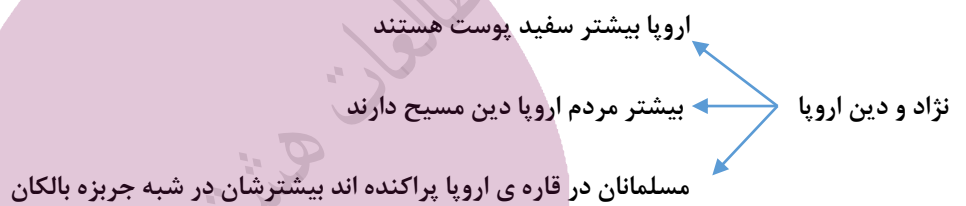
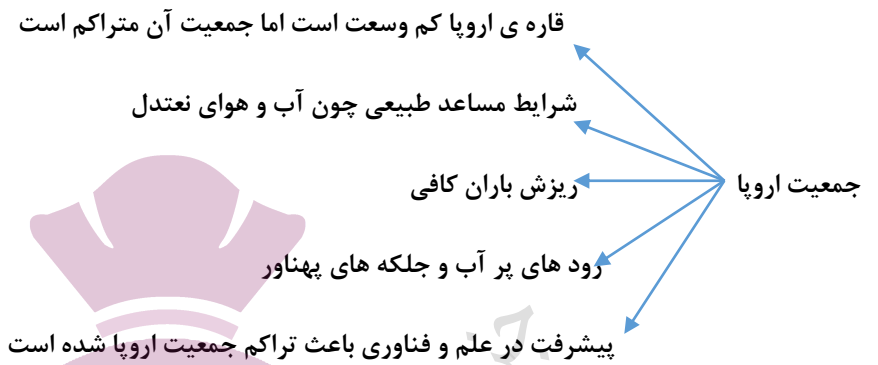
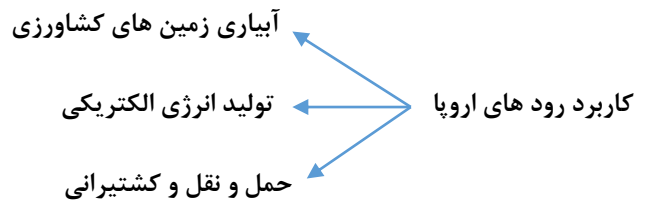
چهار مورد از کشورهای عمده صادرات نفت را بنویسید.

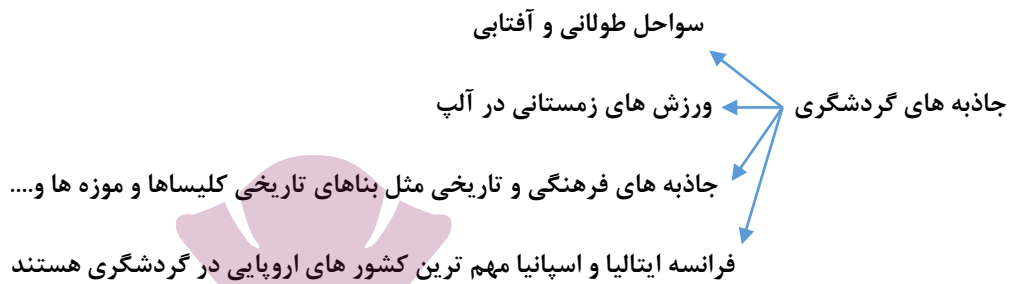
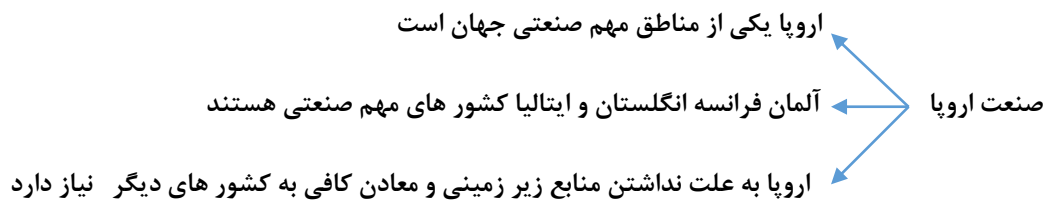
دو مورد از علت های راهبردی بودن منطقه جنوب غربی آسیا را بنویسید.



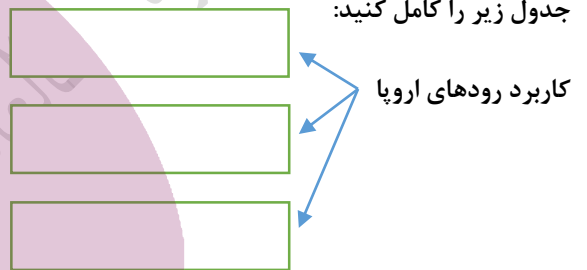
**نکته:** اروپا از نظر ناهمواری به اروپای پیر و اروپای جوان تقسیم می شود







سوالات درس

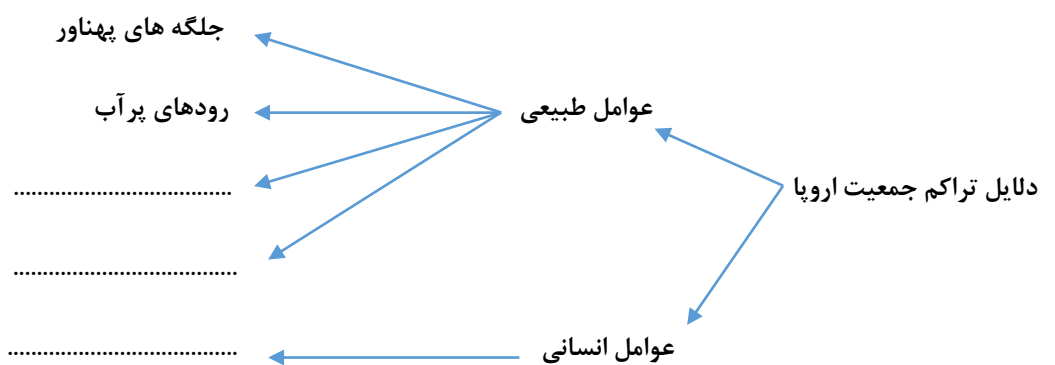


بیشتر مسلمانان اروپا در ..... زندگی می کنند.

فرسایش طولانی در منطقه ..... اروپا موجب پیدایش کوه های کم ارتفاع و قله های گنبدی شکل و باز شده است.

ویژگی های اروپای جوان را بنویسید.

جاهای خالی را پر کنید:



**وسعت آفریقا**

- قاره آفریقا بعد از آسیا دومین قاره وسیع دنیا است
- از سواحل دریای مدیترانه در شمال خط استوا
- تا دماغه امید نیک از جنوب خط استوا کشیده شده است

**موقعیت آفریقا**

- شمال - دریای مدیترانه
- جنوب و شرق - اقیانوس هند
- غرب - اقیانوس اطلس

**ناهمواریهای آفریقا**

- آفریقا فلات وسیع و کم ارتفاع است
- در شمال غربی آفریقا رشته کوه اطلس است
- در شرق آفریقا قله کنیا و کلیمانجارو قرار دارد
- دریاچه های زیادی در آفریقا وجود دارد

**علت وجود آبشار های زیاد در آفریقا**

- فرو نشستن زمین
- شکستگی های پوسته زمین

**نکته:** کناره های صاف و بدون بریدگی آفریقا باعث شده است که این قاره برای پهلو گرفتن کشتی مناسب نباشد

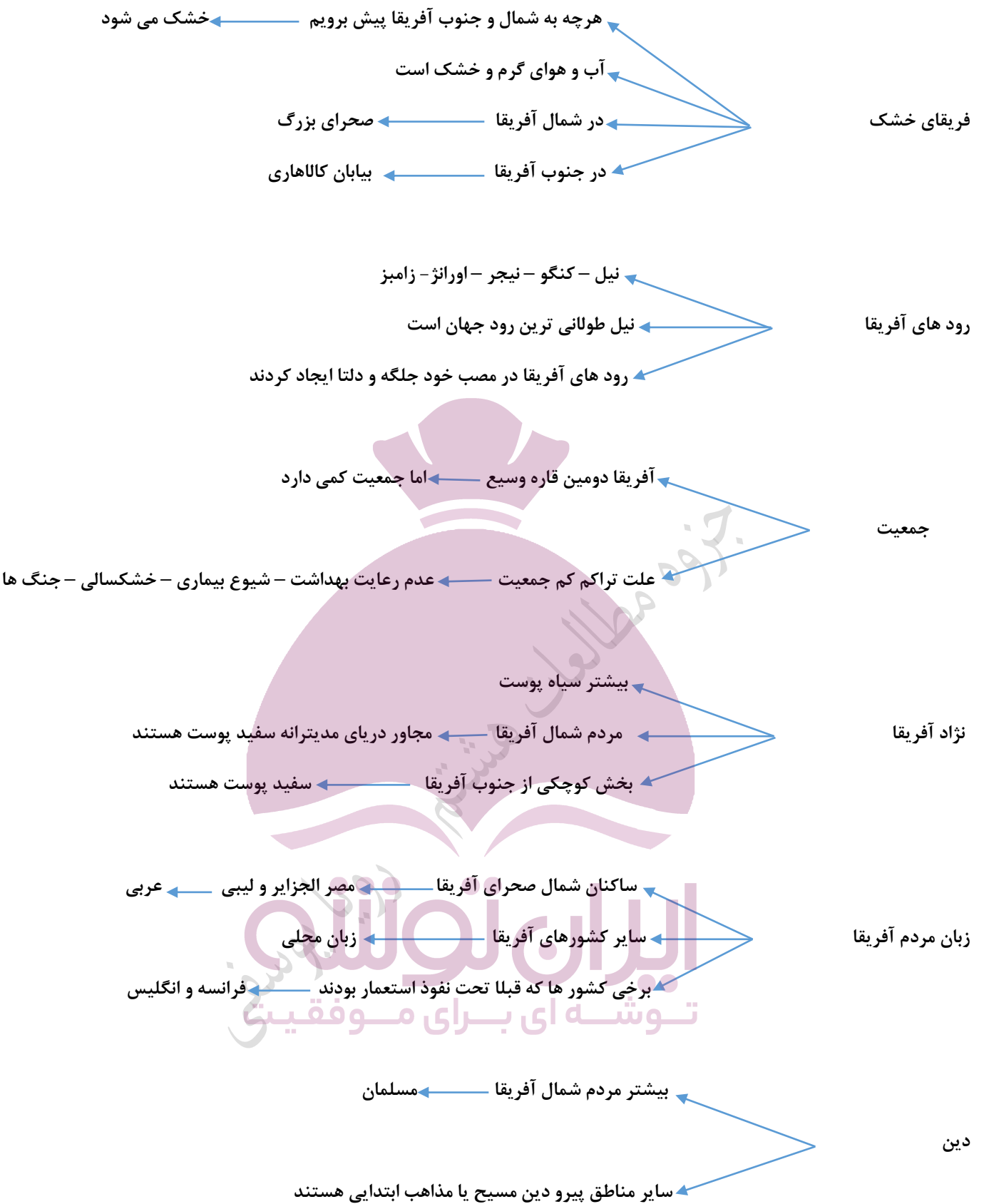
## ایران تونل توشه ای برای موفقیت

**آب و هوای آفریقا**

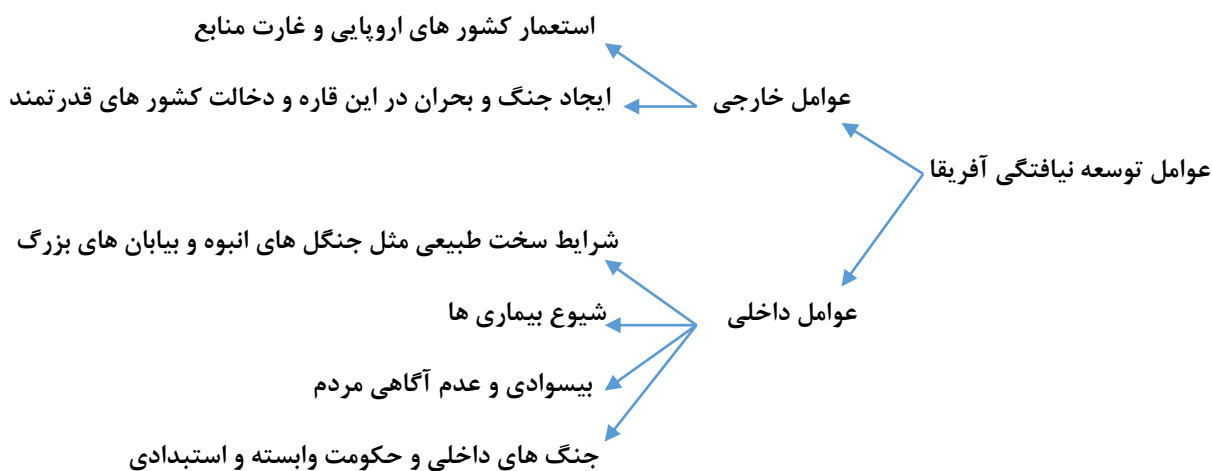
- آب و هوای گرم
- مدار استوا از وسط آفریقا عبور کرده است
- خورشید همیشه به مدار استوا و اطراف آن تا مدار رأس سرطان و رأس الجدی عمود می تابد

**آفریقای مرطوب (سبز)**

- از خط استوا تا دریاچه چاد در شمال
- و از خط استوا تا رود زامبیز در جنوب
- آب و هوای این قسمت مرطوب و گرم است



**نکته :** قاره آفریقا از نظر منابع طبیعی و ثروتمند است : معادن نفت - طلا - الماس و مس



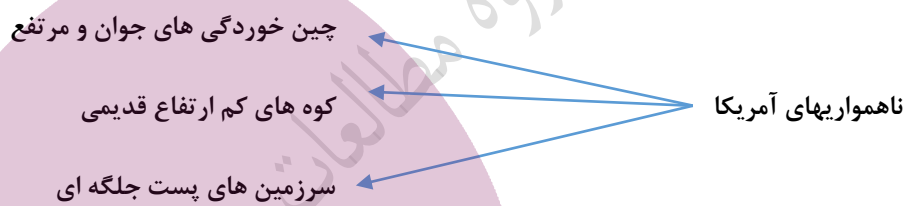
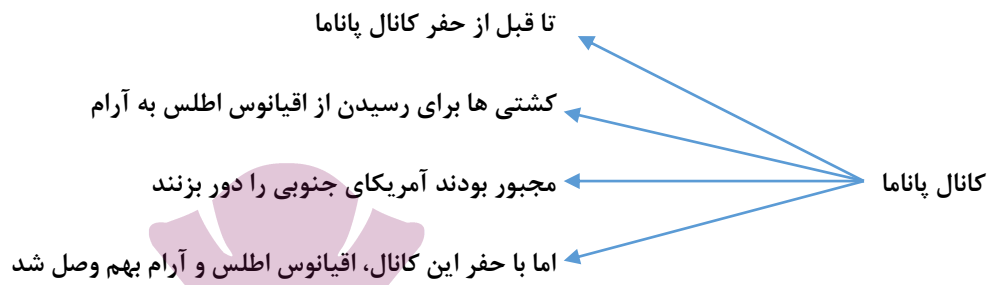
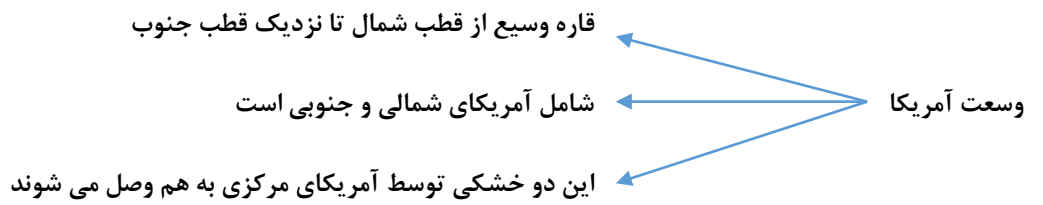
سوالات درس

در جمله زیر یک عبارت نادرست به کار رفته است، آن را اصلاح کنید:  
 نواحی اطراف خط استوا در قاره آفریقا از شمال تا دریاچه چاد و از جنوب تا رود زامبزی آفریقای خشک نامیده می شود.  
 شرایط سخت محیطی از جمله عوامل داخلی هستند که مانع پیشرفت و توسعه آفریقا شده اند، این شرایط کدامند؟

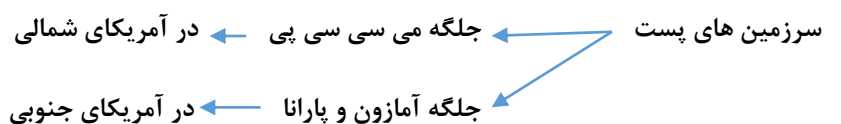
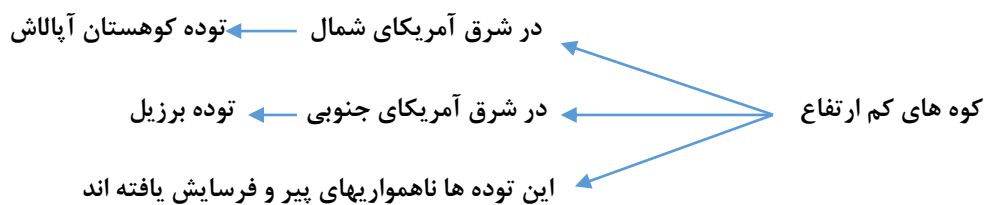
نلسون در کشور کنیا در قاره آفریقا زندگی می کند. قاره آفریقا قاره ای گرم و بی زمستان است. مدار استوا از وسط آن عبور می کند و خورشید در ازراف مناطق استوایی و اطراف مدار راس السرطان و راس الجدی تقریباً عمود می تابد. آفریقا نسبت به وسعت خود جمعیت کمی دارد. بیشتر مردم از نژاد سیاه پوست هستند. مردم شمال آفریقا به زبان عربی صحبت می کنند و مسلمان هستند.

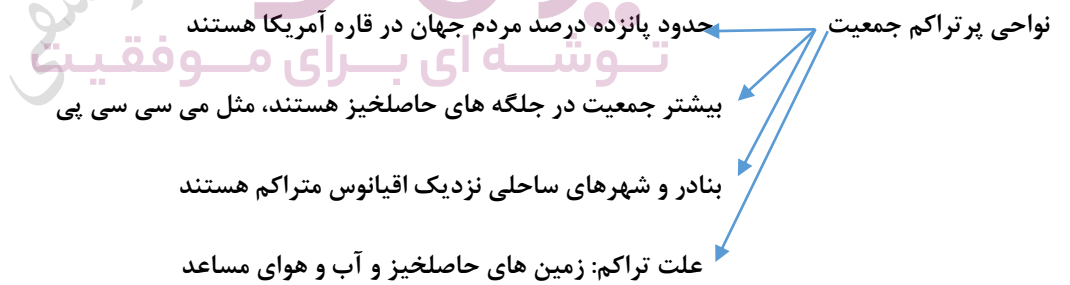
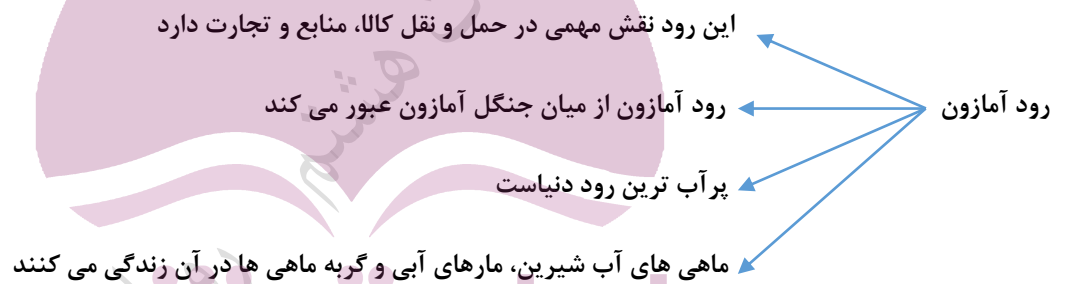
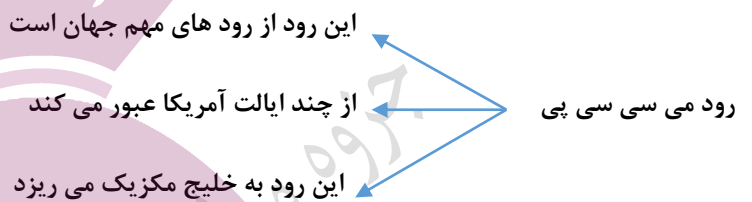
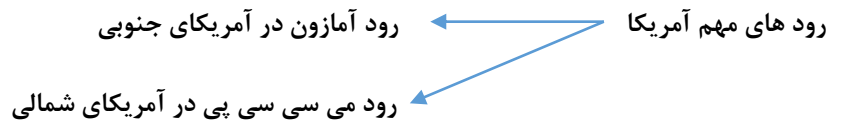
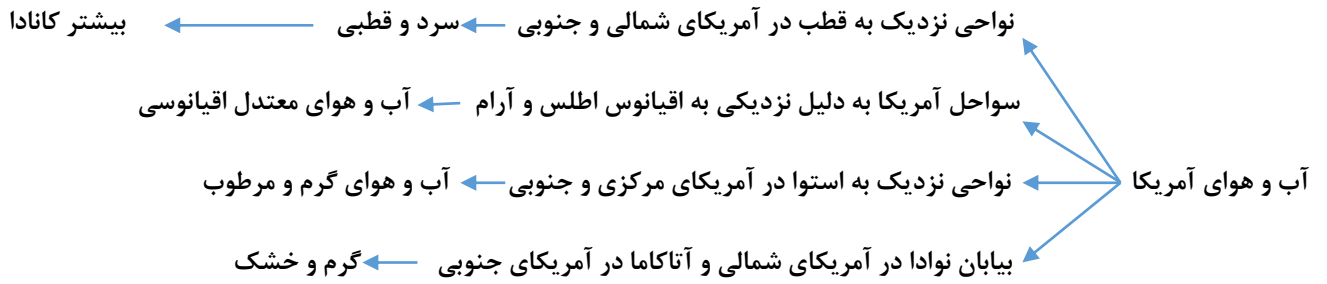
با توجه به متن بالا جدول را کامل کنید:

ویژگی طبیعی	ویژگی انسانی
۱-	۱-
۲-	۲-

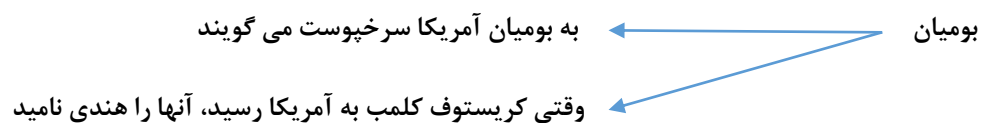


نکته: آمریکای مرکزی و جزایر آنتیل ← سرزمین آتشفشانها و زمین لرزه هاست.





نژاد مردم آمریکا: ۱- بومیان ۲- سیاه پوستان ۳- سفیدپوستان ۴- دورگه ها



سیاه پوستان

- سیاه پوستان آمریکا، نوادگان بزرگان آفریقایی هستند



سفیدپوستان ← سفیدپوستان اروپایی که آمریکا را کشف کردند  
در طی سالهای مختلف از اروپا به آمریکا مهاجرت کردند

دورگه ← عده زیادی از مردم آمریکا، دورگه اند  
از اختلاط نژادها و ملیت های گوناگون بوجود آمده اند

زبان مردم آمریکا ← زبان غالب در آمریکای شمالی، انگلیسی هست  
در آمریکای مرکزی و جنوبی ← به دلیل مهاجرت اسپانیایی ها و پرتغالی ها، زبان پرتغالی و اسپانیایی است

نکته: در کشور کانادا و ایالات متحده آمریکا به دلیل مهاجرت انگلیسی ها فرهنگ آنگوساکسون دارند  
نکته: چون ریشه زبان اسپانیایی و پرتغالی، زبان لاتین است به آمریکای مرکزی و جنوبی، آمریکای لاتین می گویند

دین آمریکا ← اکثر مردم پیرو دین مسیح هستند  
در آمریکای شمالی - مذهب پروتستان  
در آمریکای لاتین - مذهب کاتولیک  
تعداد مسلمانان نیز قابل توجه است

ایالات متحده آمریکا و کانادا در آمریکای شمالی جزو کشور های پیشرفته هستند  
اقتصاد در آمریکای شمالی ← کشاورزی ایالات متحده - صنعتی و تجاری است  
ایالات متحده آمریکا و کانادا بزرگ ترین تولید کننده و صادر کننده گندم و ذرت جهان است  
این دو کشور تولید و صادر کننده: تجهیزات صنعتی، ماشین آلات، خودرو و.....

اروپاییان مهاجر با خود دانش، مهارت و سرمایه به آمریکای شمالی آوردند  
وجود معادن زیر زمینی، منابع طبیعی فراوان، زمین های وسیع قابل کشت و رود های پر آب  
عوامل پیشرفت آمریکای شمالی ← در جنگ جهانی دوم آمریکا از جنگ دور بود  
پس از جنگ جهانی دوم از کشور های اروپایی پیشی گرفت  
در سال های اخیر متخصصان و دانشمندان سایر کشور ها را جذب کردند

رشد شهر های آمریکای شمالی ← آمریکا و کانادا بدلیل رونق تجارت داخلی و جهانی، شهر ها رشد کردند  
نیویورک پر جمعیت ترین شهر ایالات متحده امریکاست  
نیویورک - ۵۰ آسمان خراش دارد - مقام اول  
مرکز اصلی سازمان ملل متحد و مجسمه آزادی در نیویورک است

اقتصاد آمریکای لاتین ← آمریکای لاتین منابع طبیعی و معادن زیادی دارد  
 ← بدلیل استثمار و حکومت های وابسته به بیگانه نتوانست پیشرفت کند  
 ← کشورهای آمریکای لاتین تولید کننده و صادر کننده مواد اولیه کشاورزی هستند

آرژانتین، برزیل و کوبا – بزرگ ترین تولید کننده و صادر کننده، قهوه و نیشکر  
 ← گروه های صنعتی آمریکای لاتین ← برزیل و آرژانتین، ونزوئلا و کلمبیا – وضعیت اقتصادی بهتری دارند

تنوع زیاد محیطی : غارها و آبشار ها، سواحل، جنگل ها و...

گردشگری در آمریکا ← مراکز تفریحی، پارک ها، موزه های حیات وحش  
 ← موزه ها و کاخ ها، ماراکز خرید و نمایشگاه ها  
 ← باعث جذب گردشگران زیاد از سراسر دنیا شده است

سوالات درس

جدول زیر را کامل کنید:

آمریکای جنوبی رو مرکزی	آمریکای شمالی	زبان
.....	.....	.....
.....	.....	فرهنگ

در ارتباط با اقتصاد آمریکای شمالی به سوالات زیر پاسخ دهید:

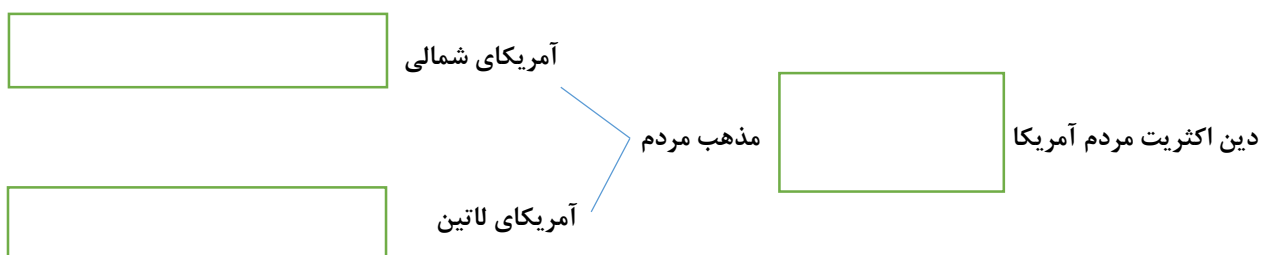
الف) نوع کشاورزی در آمریکای شمالی چگونه است؟

ب) تولید کننده و صادر کننده چه نوع محصولات صنعتی هستند؟ (دو مورد)

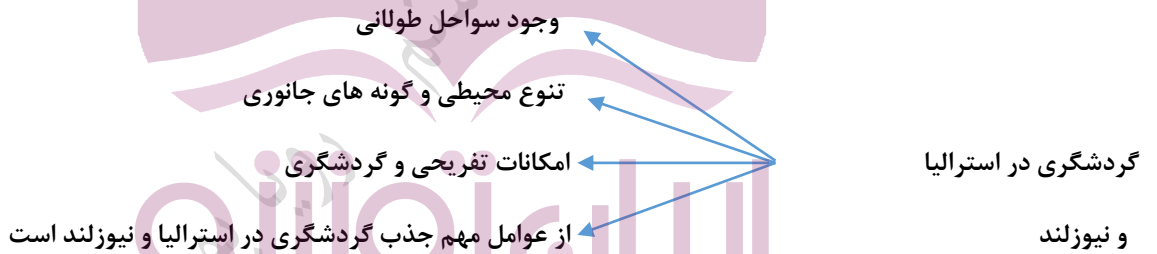
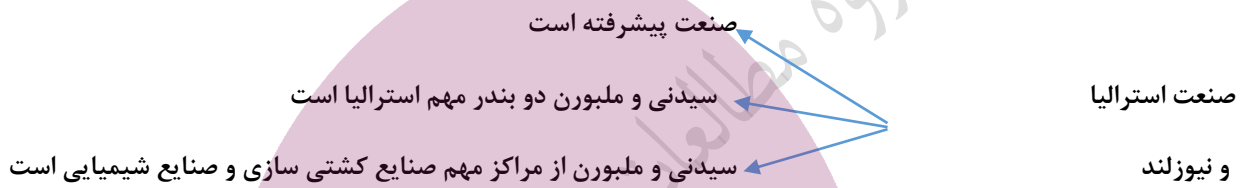
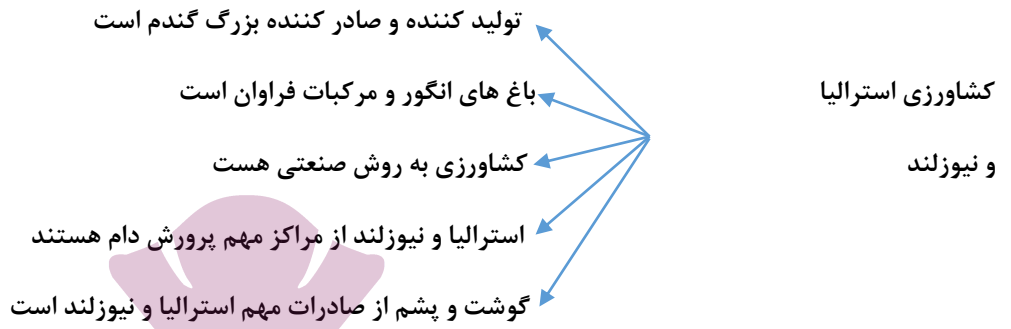
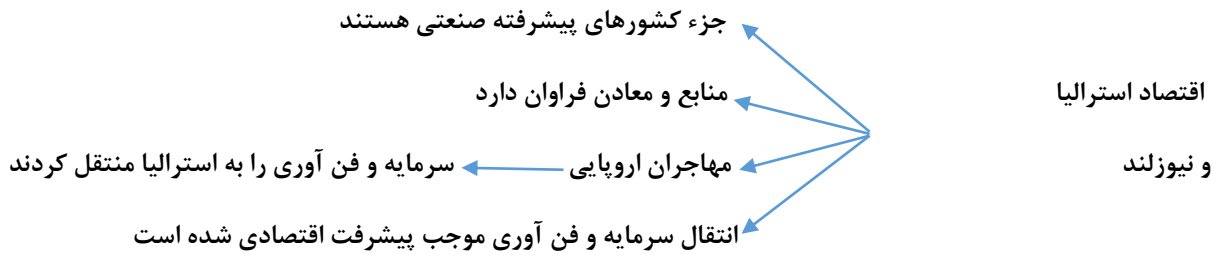
مرکز اصلی سازمان ملل متحد در ..... واقع شده است.

وجود چه جاذبه هایی گردشگران را از سراسر دنیا به سمت آمریکا جذب می کند؟ (دو مورد)

نمودار زیر را در ارتباط با با دین اکثریت مردم قاره آمریکا کامل کنید:







در منتهی الیه جنوب شرقی قاره آسیا، قاره ..... قرار دارد.

علت پیشرفت اقتصادی استرالیا چیست؟

						ک
						س
						ز

جدول زیر را کامل کنید:

الف) بلندترین قله نیوزلند

ب) بندری مهم در استرالیا

ج) کشوری که رشته کوه آلپ جنوبی در آن واقع شده است

